


СВОЯ ИГРА «ДРЕВНЯЯ ИГРА»

Контрольный урок-игра

БОГИ И ГЕРОИ	<u>100</u>	<u>200</u>	<u>300</u>	<u>400</u>	<u>500</u>
КУЛЬТУРА	<u>100</u>	<u>200</u>	<u>300</u>	<u>400</u>	<u>500</u>
ОЛИМПИЙСКИЕ ИГРЫ	<u>100</u>	<u>200</u>	<u>300</u>	<u>400</u>	<u>500</u>
ОБРАЗОВАНИЕ	<u>100</u>	<u>200</u>	<u>300</u>	<u>400</u>	<u>500</u>
ВОЙНЫ	<u>100</u>	<u>200</u>	<u>300</u>	<u>400</u>	<u>500</u>
ГРЕЧЕСКИЕ КОЛОНИИ	<u>100</u>	<u>200</u>	<u>300</u>	<u>400</u>	<u>500</u>
ДРЕВНЯЯ СПАРТА	<u>100</u>	<u>200</u>	<u>300</u>	<u>400</u>	<u>500</u>
ГОРОД БОГИНИ АФИНЫ	<u>100</u>	<u>200</u>	<u>300</u>	<u>400</u>	<u>500</u>
ИЗВЕСТНЫЕ ГРЕКИ	<u>100</u>	<u>200</u>	<u>300</u>	<u>400</u>	<u>500</u>



КОТ В МЕШКЕ





ПОСЕЙДОН



ДОМОЙ

ИМЕННО ОН БЫЛ ГЛАВНЫМ НА ОЛИМПЕ



ЗЕВС



ДОМОЙ

РОВНО СТОЛЬКО ПОДВИГОВ СОВЕРШИЛ
ГЕРАКЛ



12




ДОМОЙ

НА ЭТОМ ОСТРОВЕ НАХОДИЛСЯ ЛАБИРИНТ
МИНОТАВРА



ОСТРОВ КРИТ



ДОМОЙ

НАЗОВИТЕ ОСНОВНЫХ БОГИНЬ ДРЕВНЕЙ
ГРЕЦИИ (НЕ МЕНЕЕ ТРЕХ)



ГЕРА, АФИНА, АРТЕМИДА, АФРОДИТА, ДЕМЕТРА



ДОМОЙ



ДИОНИС



ДОМОЙ

ОН ЯВЛЯЕТСЯ ГЛАВНЫМ ГЕРОЕМ ИЛИАДЫ

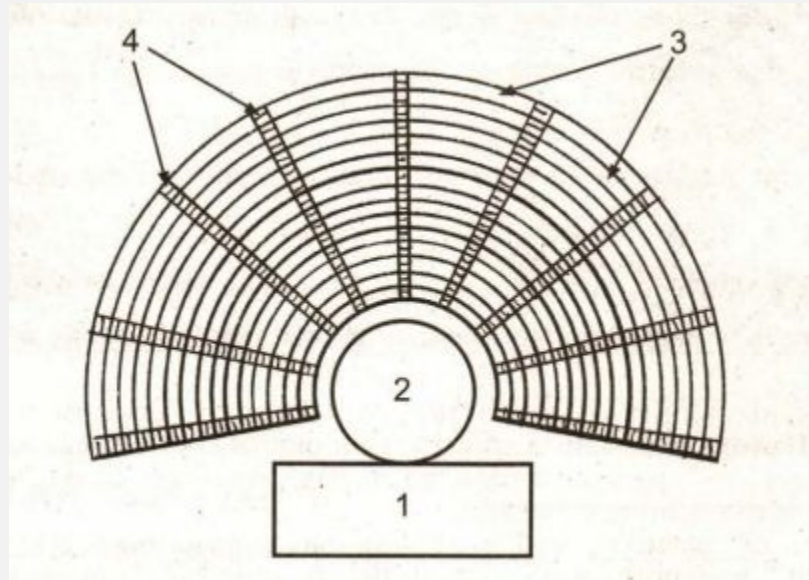


ОДИССЕЙ



ДОМОЙ

СХЕМА ТЕАТРА




1 – СКЕНЕ
2 – ОРХЕСТРА
3 – МЕСТА ДЛѦ ЗРИТЕЛЕЙ
(ТЕАТРОН)
4 – ПРОХОДЫ В СЕКЦИИ



ИМЕННО ЭТОТ ГЕРОЙ «ОДИССЕИ» ЛИШИЛСЯ
СВОЕГО ЕДИНСТВЕННОГО ГЛАЗА



ЦИКЛОП ПОЛИФЕМ




ЧЕМ БЫЛИ ОПАСНЫ ДЛЯ МОРЕПЛАВАТЕЛЕЙ
СЦИЛЛА И ХАРИБДА?



ЭТО БЫЛ УЗКИЙ ПРОЛИВ МЕЖДУ ДВУМЯ
ЧУДОВИЩАМИ





ГОНКИ НА КОЛЕСНИЦАХ НА ИППОДРОМЕ



ДОМОЙ

НАЗОВИТЕ ГОД, В КОТОРОМ СОСТОЯЛИСЬ
ПЕРВЫЕ ОЛИМПИЙСКИЕ ИГРЫ



ИЮНЬ 776 ГОДА ДО Н.Э.



СТОЛЬКО ВИДОВ СПОРТА ВХОДИЛО В ПРОГРАММУ ОЛИМПИЙСКИХ ИГР



6



ТОЛЬКО ОНИ **НЕ** МОГЛИ ПРИНИМАТЬ
УЧАСТИЕ В ОЛИМПИЙСКИХ ИГРАХ



ЖЕНЩИНЫ



ДОМОЙ



РАССКАЖИТЕ, ЧТО ПРОИСХОДИЛО В
КАЖДЫЙ ИЗ ДНЕЙ ОЛИМПИЙСКИХ ИГР



I ДЕНЬ – МОЛИТВА БОГАМ, КЛЯТВА ЧЕСТНОСТИ

2-3 ДНИ – ПЯТИБОРЬЕ

4 ДЕНЬ – ГОНКИ НА КОЛЕСНИЦАХ

5 ДЕНЬ – НАГРАЖДЕНИЕ ПОБЕДИТЕЛЕЙ





УРОК В ПАЛЕСТРЕ



ИМЕННО ТАМ ВЗРОСЛЫЕ АФИНЯНЕ
ПРОДОЛЖАЛИ ОБУЧАТЬСЯ



В ГИМНАСИЯХ




ДОМОЙ

С ЭТОГО ВОЗРАСТА МАЛЬЧИКИ
НАЧИНАЛИ ХОДИТЬ В ШКОЛУ



С 7 ЛЕТ

ДОМОЙ



ОН АВТОР ЭТОЙ СТАТУИ




МИРОН



ДОМОЙ

ПЕРЕЧИСЛИТЕ МИНИМУМ 3 НАУКИ, КОТОРЫЕ
ИЗУЧАЛИСЬ ДРЕВНИМИ ГРЕКАМИ




1. МАТЕМАТИКА
2. ФИЛОСОФИЯ
3. МЕДИЦИНА
4. АСТРОНОМИЯ
5. ГЕОГРАФИЯ





300 СПАРТАНЦЕВ





2

КОТ В МЕШКЕ



1

КТО ЭТО И К КАКОЙ ВОЙНЕ ОТНОСИТСЯ?



ТРОЯНСКИЙ КОНЬ
ТРОЯНСКАЯ ВОЙНА




ТЫ ПРОСТО МОЛОДЕЦ =)




ДОМОЙ

НАЗОВИТЕ ОСНОВНЫЕ СРАЖЕНИЯ ГРЕКО-
ПЕРСИДСКИХ ВОЙН



- 1 – МАРАФОНСКАЯ БИТВА
- 2 – БОЙ В ФЕРМОПИЛЬСКОМ УЩЕЛЬЕ
- 3 – САЛАМИНСКОЕ СРАЖЕНИЕ
- 4 – БИТВА ПРИ ПЛАТЕЯХ



ИМЕННО ОН ПОСЛЕ СМЕРТИ ДАРИЯ СТАЛ
ВЛАСТИТЕЛЕМ ПЕРСИДСКОЙ ДЕРЖАВЫ



КСЕРКС

Персы



Дарий I



Ксеркс

ДОМОЙ

НАЗОВИТЕ ПОСЛЕДСТВИЯ
ПЕЛОПОННЕССКОЙ ВОЙНЫ



1 – РАЗОРЕНИЕ ХОЗЯЙСТВ И БЕДНОСТЬ
2 – АФИНСКИЙ МОРСКОЙ СОЮЗ
ПРЕКРАТИЛ СВОЕ СУЩЕСТВОВАНИЕ
3 – В АФИНАХ БЫЛ УСТАНОВЛЕН
ОЛИГАРХИЧЕСКИЙ СТРОЙ



В КАКИХ МЕСТАХ ГРЕКИ ОСНОВЫВАЛИ
КОЛОНИИ И ПОЧЕМУ?



СЕЛИЛИСЬ ВСЕГДА БЛИЗ МОРЯ

ВЫБИРАЛИ МЕСТО С УДОБНОЙ
ГАВАНЬЮ, ИСТОЧНИКАМИ ПРЕСНОЙ
ВОДЫ И ПЛОДОРОДНЫМИ ЗЕМЛЯМИ

НА НИХ ОНИ СЕЯЛИ ХЛЕБ, РАЗВОДИЛИ
ВИНОГРАД



ИМЕННО В ЭТОЙ ГРЕЧЕСКОЙ КОЛОНИИ
СКИЛ ВИДЕЛ УЗКИЕ УЛОЧКИ, ВЕДУЩИЕ К
ГАВАНИ, ТОРГОВЫЕ СКЛАДЫ, КУЗНЕЧНЫЕ
И ГОНЧАРНЫЕ МАСТЕРСКИЕ




ОЛЬВИЯ



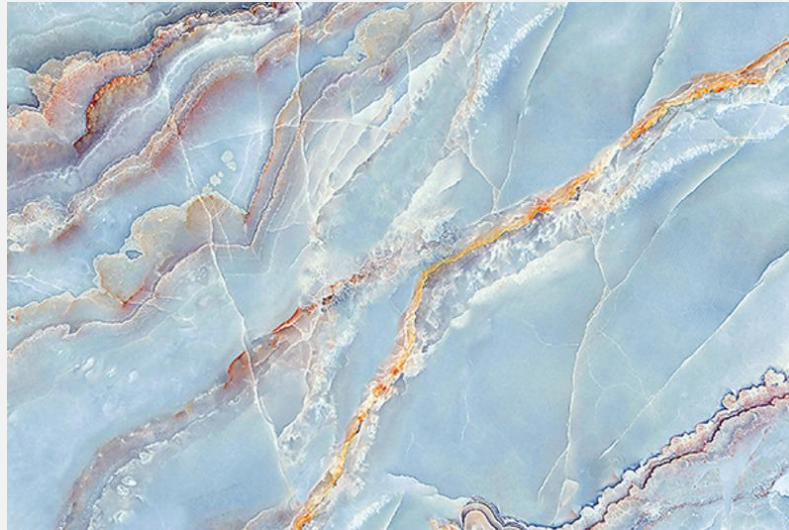
ТАК НАЗЫВАЛАСЬ НИЖНЯЯ ЧАСТЬ ОДЕЖДЫ, КОТОРАЯ
ПОХОДИЛА НА РУБАХУ




ХИТОН



ДАЙТЕ ОПРЕДЕЛЕНИЕ:
МРАМОР




ТВЁРДЫЙ БЛЕСТЯЩИЙ КАМЕНЬ, ОБЫЧНО С
КРАСИВЫМ УЗОРОМ



ПОЧЕМУ СКИФЫ ВОССТАЛИ ПРОТИВ
СКИЛА И ВЫБРАЛИ СЕБЕ НОВОГО ЦАРЯ?




ИЗ-ЗА НЕУВАЖЕНИЯ К СВОИМ НАРОДНЫМ
ТРАДИЦИЯМ И БОГАМ



ΚΤΟ ΕΤΟ?




СПАРТАНСКИЙ ВОИН



ДАЙТЕ ОПРЕДЕЛЕНИЕ:
ИЛОТЫ




ЗАХВАЧЕННЫЕ



ОБЪЯСНИТЕ ЗНАЧЕНИЕ ВЫРАЖЕНИЯ
«ЛАКОНИЧНАЯ РЕЧЬ»




УМЕНИЕ ГОВОРИТЬ КРАТКО, ДАВАТЬ
МЕТКИЕ И ТОЧНЫЕ ОТВЕТЫ



В ЭТОМ ВОЗРАСТЕ МАЛЬЧИКОВ
ОТБИРАЛИ У РОДИТЕЛЕЙ И
РАСПРЕДЕЛЯЛИ ПО ОТРЯДАМ, ГДЕ ИМ
ПРЕДСТОЯЛО ЖИТЬ ВМЕСТЕ



7 ЛЕТ




КАК УПРАВЛЯЛАСЬ СПАРТА?



ЗА СОБЛЮДЕНИЕМ ВСЕХ ПРАВИЛ СЛЕДИЛ
СОВЕТ СТАРЕЙШИН

НАРОДНОЕ СОБРАНИЕ ВЫБИРАЛО
СТАРЕЙШИН, ВЕДАЛО ОБЪЯВЛЕНИЕМ
ВОЙНЫ И ЗАКЛЮЧЕНИЕМ МИРА,
ВЫСТУПАТЬ В НЕМ МОГЛИ ТОЛЬКО
СТАРЕЙШИНЫ


ВОЙСКОМ КОМАНДОВАЛИ ДВА
ПРЕДВОДИТЕЛЯ, ИХ НАЗЫВАЛИ ЦАРЯМИ



НАЗОВИТЕ ХРАМ



ΠΑΡΦΕΝΟΝ



СКОЛЬКО ГАВАНЕЙ НАХОДИЛОСЬ В
ПОРТУ ПИРЕЙ?
А ТАКЖЕ ПЕРЕЧИСЛИТЕ ОСНОВНЫЕ
РАЙОНЫ ГОРОДА, ВБЛИЗИ КОТОРОГО
РАСПОЛАГАЛСЯ ПОРТ



3 ГАВАНИ: 2 ВОЕННЫЕ И 1 ТОРГОВАЯ

КЕРАМИК

АГОРА

АКРОПОЛЬ



В ЧЕМ СОСТОИТ ОТЛИЧИЕ
КРАСНОФИГУРНЫХ СОСУДОВ ОТ
ЧЕРНОФИГУРНЫХ?



ЧЁРНОФИГУРНЫЙ: ПО КРАСНОВАТОЙ ГЛИНЕ
НАНОСИЛИ ФИГУРЫ ЧЁРНЫМ ЛАКОМ.
КРАСНОФИГУРНЫЙ: ДЛЯ ФИГУР СОХРАНЯЛИ
ЕСТЕСТВЕННЫЙ КРАСНОВАТЫЙ ЦВЕТ ГЛИНЫ, А
ЧЁРНЫМ ЛАКОМ ПОКРЫВАЛИ ОСТАЛЬНУЮ
ПОВЕРХНОСТЬ ВАЗЫ



ПОЧЕМУ РАЙОН ГОНЧАРНЫХ
МАСТЕРСКИХ КЕРАМИК ВРЯД ЛИ МОГ
ВЫЗВАТЬ ЧЕЙ-НИБУДЬ ВОСТОРГ?



- УЗКИЕ УЛОЧКИ
- ГОРОЖАНЕ ВЫЛИВАЛИ ПОМОИ И
ВЫШВЫРИВАЛИ ОТБРОСЫ ПРЯМО НА
УЛИЦУ
-ВЕЧЕРАМИ ИЗ-ЗА ГРЯЗИ И ЗЛОВОННЫХ
ЛУЖ ПО КЕРАМИКУ НЕЛЬЗЯ БЫЛО
ХОДИТЬ, НЕ ОСВЕЩАЯ ДОРОГУ
СМОЛЯНЫМ ФАКЕЛОМ



КАК ИЗБИРАЛСЯ СОВЕТ ПЯТИСОТ И ЧТО
ВХОДИЛО В ЕГО ОБЯЗАННОСТИ?




СОВЕТ ПЯТИСОТ ИЗБИРАЛСЯ ПО
ЖРЕБИЮ ИЗ АФИНСКИХ ГРАЖДАН


СОВЕТ ПЯТИСОТ СЛЕДИЛ ЗА
ПОПОЛНЕНИЕМ КАЗНЫ, ВЕДАЛ
СТРОИТЕЛЬСТВОМ БОЕВЫХ КОРАБЛЕЙ,
ГОРОДСКИХ ВОДОПРОВОДОВ, ХРАМОВ




ОН БЫЛ ДРЕВНЕГРЕЧЕСКИМ ВРАЧОМ ПРИ
ПЕРИКЛЕ И СЧИТАЕТСЯ ОДНОЙ ИЗ
САМЫХ ВЫДАЮЩИХСЯ ФИГУР В
ИСТОРИИ **МЕДИЦИНЫ**





ГИППОКРАТ




НАЗОВИТЕ ГЛАВНУЮ РЕФОРМУ СОЛОНА




ОТМЕНИЛ ДОЛГОВОЕ РАБСТВО




ЕГО НАЗЫВАЮТ «ОТЦОМ ИСТОРИИ»




ΓΕΡΟΔΟΤ



ЕГО ТАБЛИЦУ УМНОЖЕНИЯ ВЫ ИЗУЧАЕТЕ
НА МАТЕМАТИКЕ



ΠΙΦΑΓΟΡ



ДОМОЙ




ИМЕННО ОН ВМЕСТЕ С 300 СПАРТАНЦАМИ
ОСТАЛСЯ НА ВЕРНУЮ СМЕРТЬ, ЧТОБЫ
ПРИКРЫТЬ ОТХОД ГРЕЧЕСКИХ ОТРЯДОВ



ЛЕОНИД I



ДОМОЙ





ВЫ МОЛОДЦЫ!

