

Математика

Сьогодні
12.12.2022

Урок
№53



Задачі з виразом «стільки ж». Обчислення в межах 10.



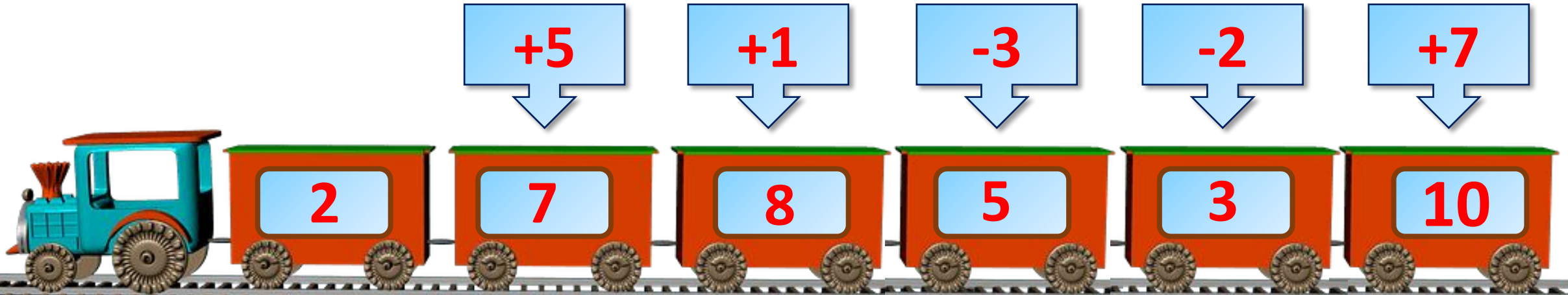
Пасажирський чи
товарний Металевий він і
гарний.
Все ховає у вагонах
І стає лиш на перонах.

Потяг



**Стояли на вокзалі
Вагончики цікаві.
Товарні й пасажирські
Веселі та яскраві.
Їх треба полічити,
А потім порівняти.
Важливо на вокзалі
Вагонів кількість знати.**






Скільки вагонів у потяга?
В якому вагоні найбільше пасажирів? Найменше?

Каже мати-квочка:
– У мене **три** дочки

Та **два** синочки.
Скільки ж діток в
квочки?




$$3 + 2 = 5$$

Чотири індики
пішли на музики:

танцювали,
гупали...

Скільки ніжок
тупало?



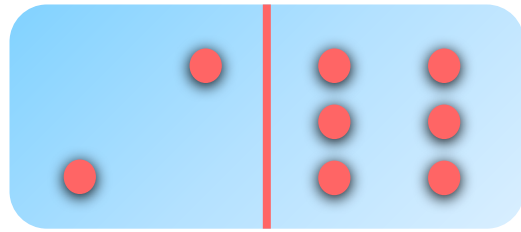
$$2 + 2 + 2 + 2 = 8$$



Ось до класу на урок
Прилетіло **шість** сорок,
Дві пізніше прибуло.
Скільки всіх птахів
було?



$$6 + 2 = 8$$

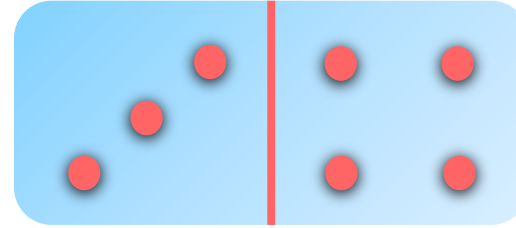


$$2 + 6 = 8$$

$$6 + 2 = 8$$

$$8 - 6 = 2$$

$$8 - 2 = 6$$

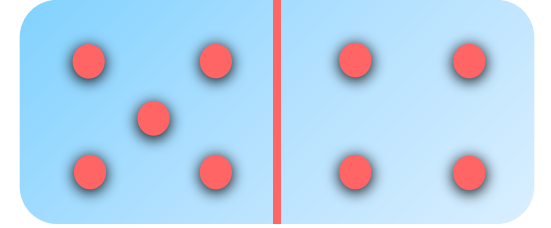


$$3 + 4 = 7$$

$$4 + 3 = 7$$

$$7 - 4 = 3$$

$$7 - 3 = 4$$



$$5 + 4 = 9$$

$$4 + 5 = 9$$

$$9 - 4 = 5$$

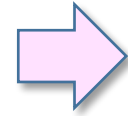
$$9 - 5 = 4$$



Складіть всі можливі рівності на додавання та віднімання.



Однакова
кількість.




В Іванки 7 повітряних
кульок, у Марійки —
стільки само.
Скільки повітряних
кульок у Марійки?



Отже, у Марійки теж 7 повітряних
кульок.





Дідусь знайшов 4 гриби,
Михайлик — стільки само.



Скільки всього грибів
знайшли дідусь і
Михайлик?



		4	+	4	=	8			

**Відповідь: 8 грибів знайшли
дідусь і Михайлик.**



- ➡ На обід спекли 5 пиріжків із вишнями й стільки само із сиром.
- ➡ Скільки всього пиріжків спекли на обід?

		5	+	5	=	1	0			



Відповідь: 10 пиріжків спекли всього.

Сьогодні
12.12.2022

Настанова вчителя. Сиди правильно



Сьогодні
12.12.2022

**Робота у зошиті
(сторінка 48).**



- Обчисли.



$6 + 4 = 10$

$4 - 3 = 1$

$5 - 5 = 0$

$2 + 8 = 10$

$10 - 9 = 1$

$9 - 9 = 0$

$5 + 5 = 10$


$0 + 1 = 1$

$7 - 7 = 0$

- Підкресли вирази, значення яких дорівнює 6.



$6 + 4$	$6 - 6$	$1 + 5$
$8 - 2$	$6 - 0$	$10 - 4$
$3 + 3$	$5 + 5$	
$7 - 1$	$7 - 6$	



В автобусі їхало 8
пасажирів.
Двоє пасажирів вийшло
на зупинці.

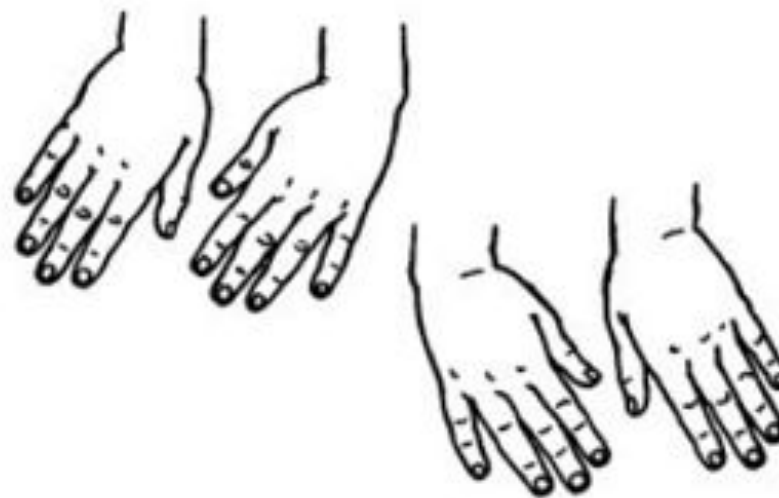


Скільки пасажирів
залишилося в автобусі?



			8	-	2	=	6							

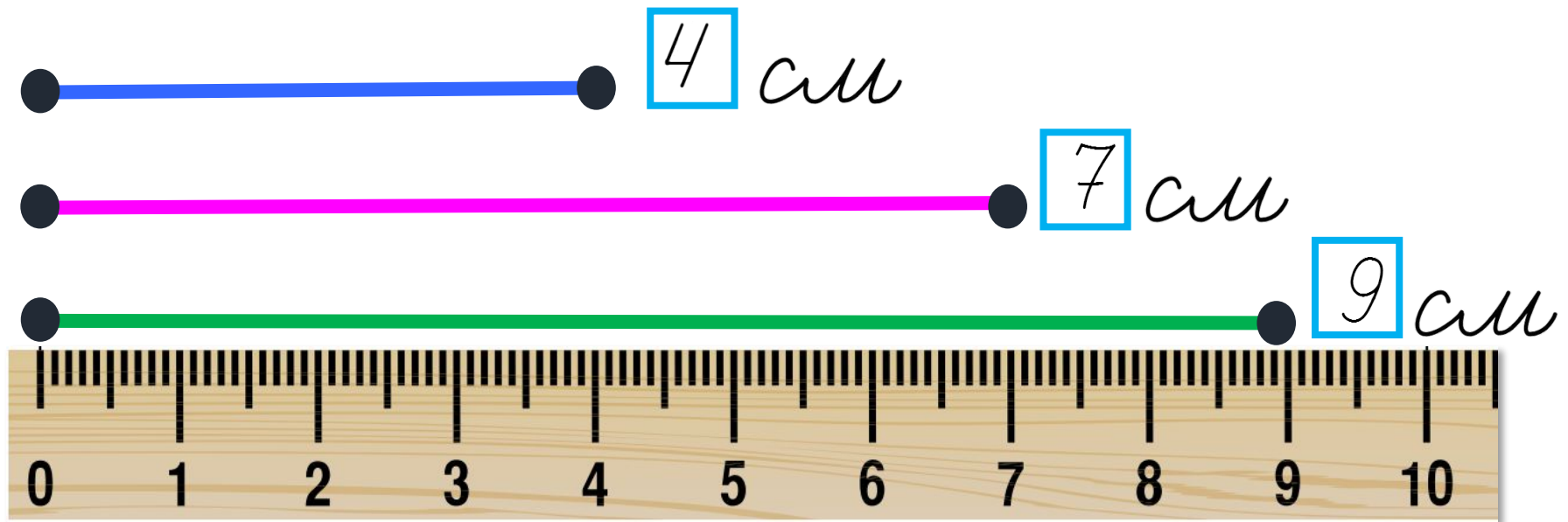
Відповідь 6
пасажирів.



5-6 разів

Робота у зошиті

- Виміряй довжину кожного відрізка.
- Порівняй.



$$4 \text{ см} < 9 \text{ см}$$


$$9 \text{ см} > 7 \text{ см}$$

$$4 \text{ см} < 7 \text{ см}$$

- Добудуй шаблі драбини в мотузковому парку.



Мавпочка вирушає в путь у п'ятому вагоні з голови потяга, а жирафа - у третьому з хвоста потяга. Чи можуть вони опинитися в одному вагоні, якщо в потязі 7 вагонів?



В яку скриньку ви покладете враження від уроку?



**Скринька
радості**



**Скринька
подиву**



Скринька суму