

Сьогодні
06.06.2023

Урок
№ 13

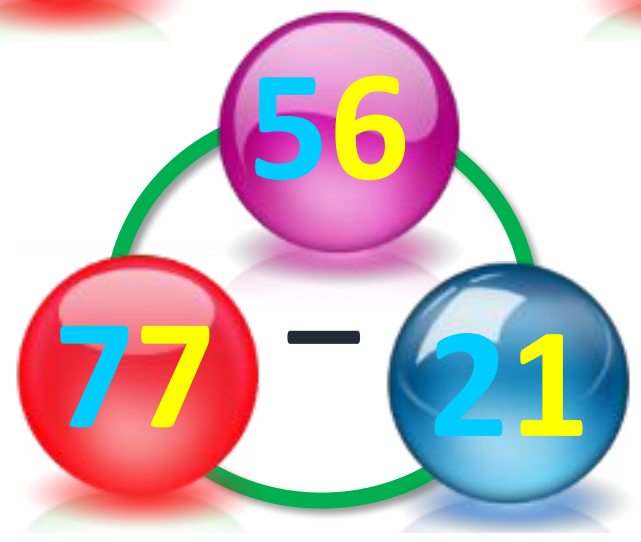
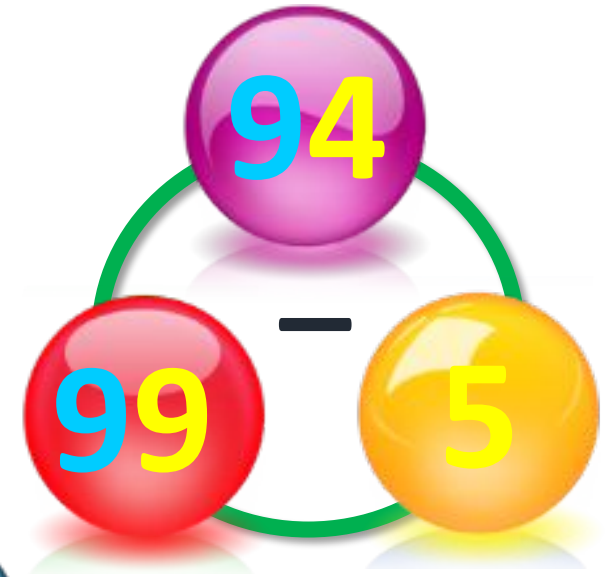
4



**Числа 1 – 100. Дії з числами.
Задача, яка містить два запитання,
на зменшення числа та
знаходження суми**

СЬОГІДН
06.06.2023

Підготовчі вправи. Вправа «Числові кульки»

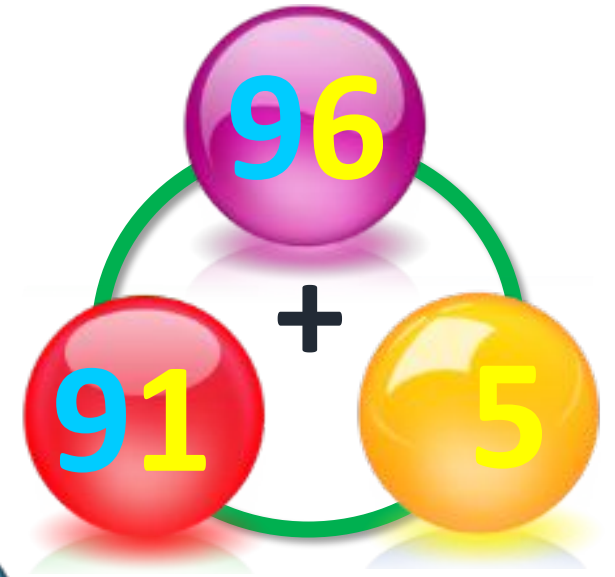




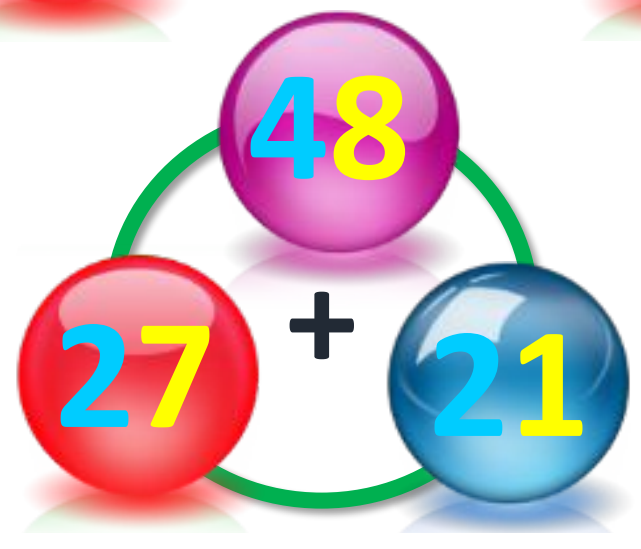
33 + 21 = 54



15 + 13 = 28



91 + 5 = 96



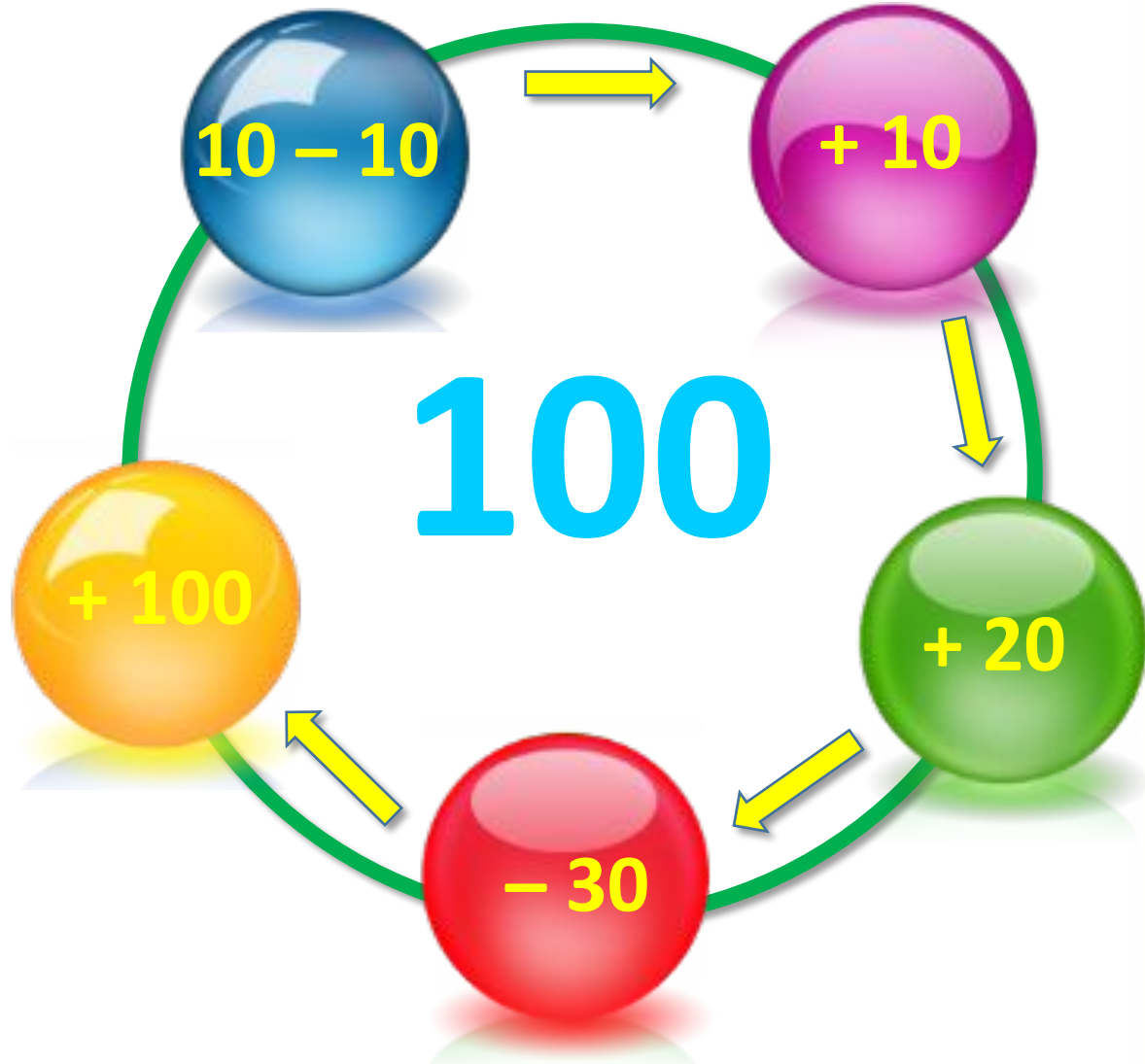
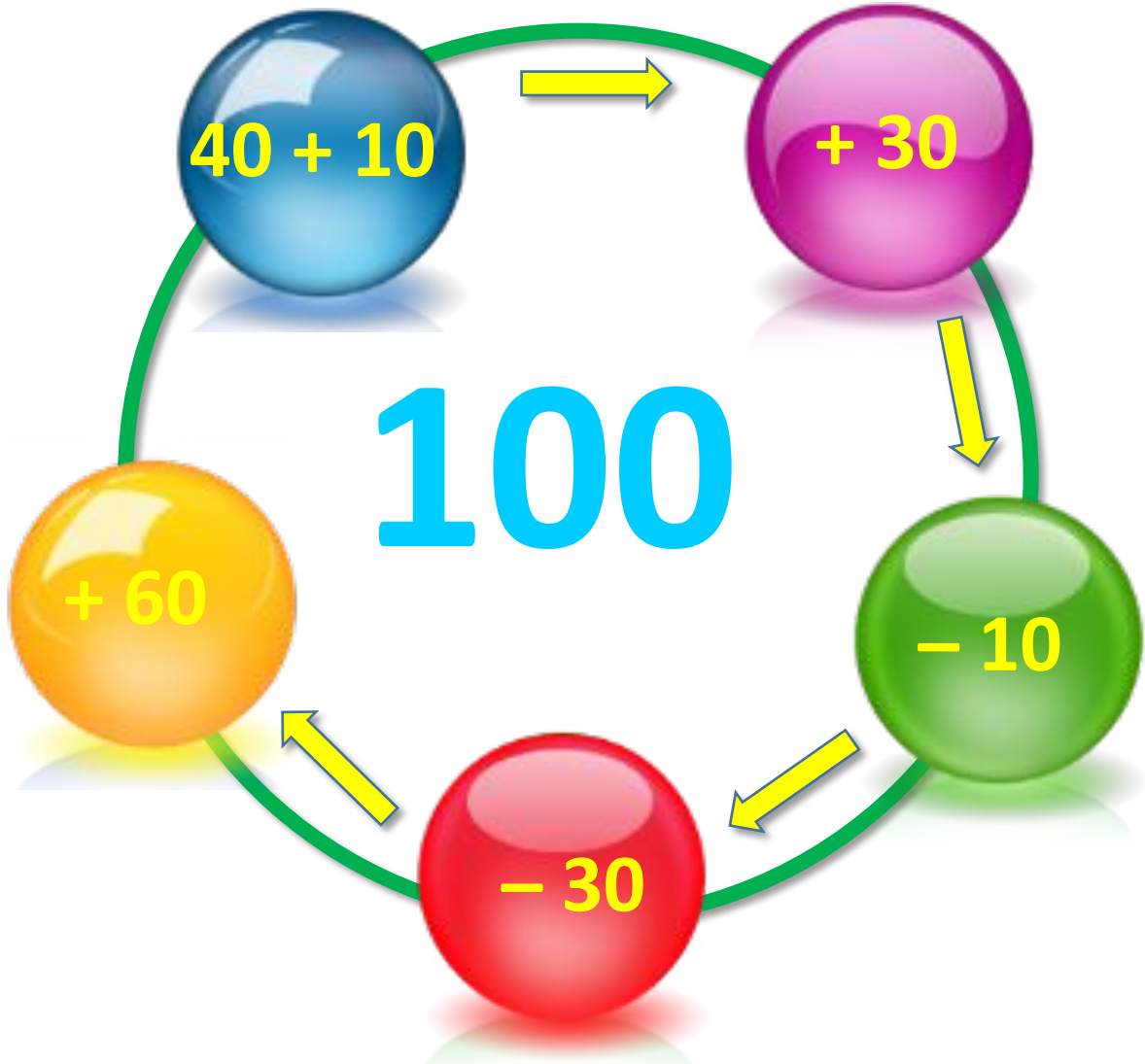
27 + 21 = 48



21 + 21 = 44

Сьогодні
06.06.2023

Підготовчі вправи. Вправа «Кругові приклади»





6 м.



?, на 2 м. <

?



Макар приніс на тренування 6 тенісних м'ячів, а Олег — на 2 м'ячі менше.



1) Скільки м'ячів приніс



Олег?
2) Скільки всього м'ячів принесли Макар та Олег?

$$1) \quad 6 - 2 = 4 \text{ (м.)}$$

$$2) \quad 6 + 4 = 10 \text{ (м.)}$$




14 м.



?, на 10 м. <

?



Футбольна команда за сезон виграла 14 матчів, а програла — на 10 матчів



менше.
1) Скільки матчів програла футбольна команда?



2) Скільки всього матчів зіграла команда за сезон, коли відомо, що нічийного результату не було?

$$1) \quad 14 - 10 = 4 \text{ (м.)}$$

$$2) \quad 14 + 4 = 18 \text{ (м.)}$$



Я подарую Марійці 5 квіток. Решту квіток я подарую Лізі.

➔ Скільки квіток отримає Ліза

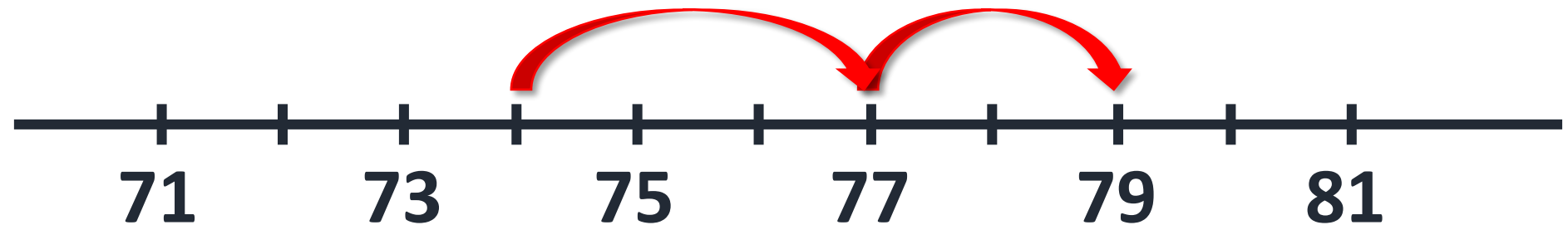
$$8 - 5 = 3$$

Відповідь: 3 квітки отримає Ліза.



Сьогодні
06.06.2023

Робота з підручником. Складання виразу за схемою



$$74 + 3 + 2 = 79$$

За поданою схемою склади вираз та
обчисли його значення.

Сьогодні
06.06.2023

**Робота у зошиті
(сторінка 56).**



• Яке сьогодні число місяця? Запиши

• Який сьогодні день тижня?
Зафарбуй відповідний прямокутник.



СЬОГДН
06.06.2023

Робота в зошиті

- Обчисли значення виразів і розфарбуй малюнок у відповідні кольори.



$30 + 25 = \boxed{5} \boxed{5}$




$75 - 40 = \boxed{3} \boxed{5}$



$44 - 21 = \boxed{2} \boxed{3}$



$25 + 42 = \boxed{6} \boxed{7}$



- Розв'яжи першу задачу й використай її розв'язок у другій задачі.


1



10 гор.



?, на 4 гор. <



Білка в одному дуплі сховала 10 горіхів, а в іншому – на 4 горіхи менше.



Скільки горіхів сховала білка в іншому дуплі?

$$\boxed{} \boxed{1} \boxed{0} - 4 = \boxed{6} \text{ (гор.)}$$

Відповідь: $\boxed{} \boxed{6}$ горіхів сховала білка в іншому дуплі.

- Розв'яжи задачу.

2




10 гор.



6 гор.

?



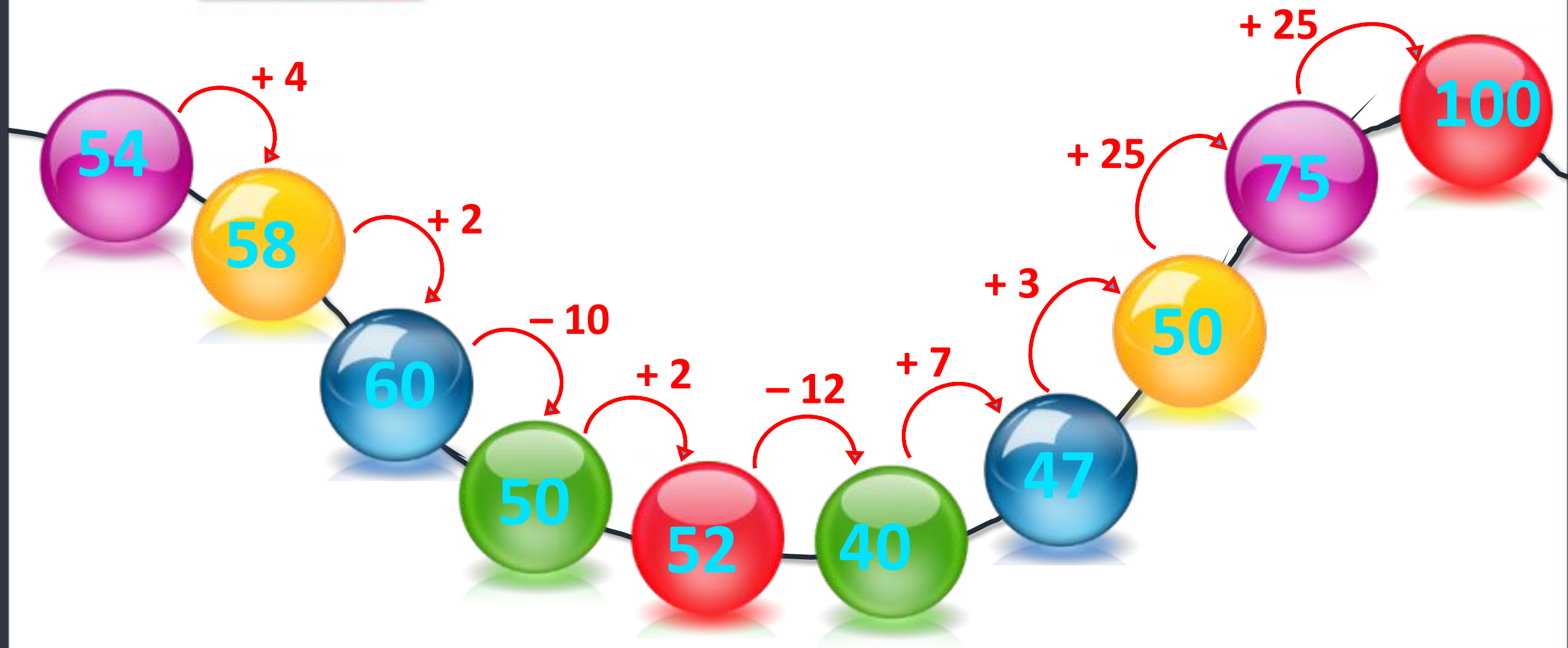
Білка в одному дуплі
сховала 10 горіхів 6 в
іншому – горіхів.



Скільки всього горіхів
сховала білка?

$$\boxed{10} + \boxed{6} = \boxed{16} \text{ (гор.)}$$

Відповідь: 16 горіхів сховала білка.



Рефлексія. Вправа «Печиво від совенят»

Найкраще
мені
вдалося...

Я хотів би
дізнатися
про...

Вдома я
розкажу
про...

Сьогодні
на уроці
я
навчився/
навчилася
...

Урок
завершую
з
настроєм
...

