

Сьогодні
25.04.2023

Урок
№ 10

9



Віднімання виду $48 - 8$, $48 - 40$.

Розв'язування і складання

залежності між числами

Сьогодні
25.04.2023


Лічба десятками. Гра «Увімкни світло»



Сьогодні
25.04.2023

Повторення вивченого про утворення попереднього та наступного чисел





Сьогодні
25.04.2023

Уточнення знань дітей про взаємозв'язок додавання та віднімання



$$5 + 3 = 8$$

$$8 - 5 = 3$$

$$8 - 3 = 5$$

$$50 + 30 = 80$$

$$80 - 50 = 30$$


$$80 - 30 = 50$$

$$80 + 5 = 85$$

$$85 - 80 = 5$$

$$85 - 5 = 80$$

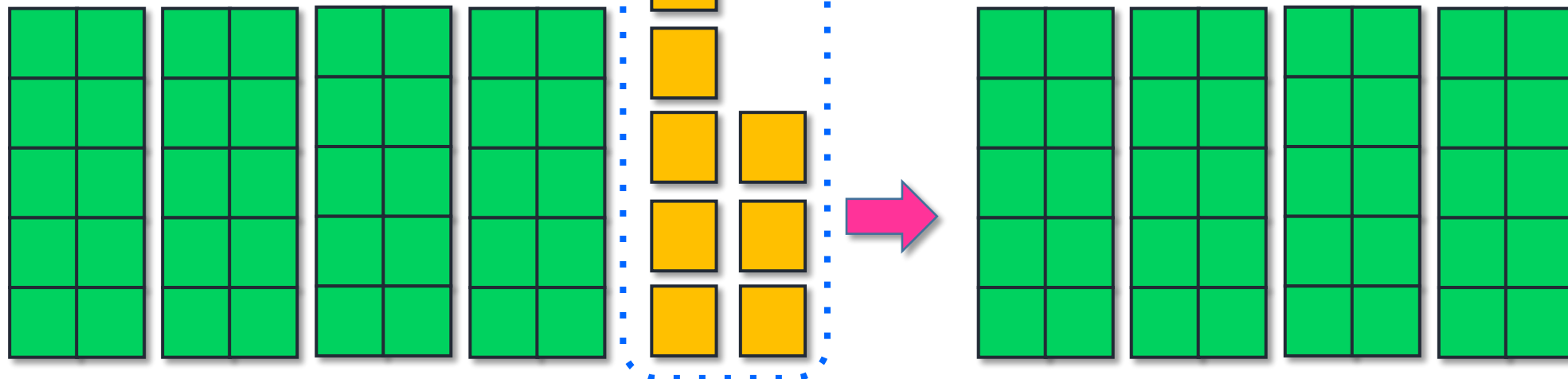
- Якщо від суми відняти перший доданок, отримаємо другий доданок.
- Якщо від суми віднімаю другий доданок, отримаємо перший доданок.



Візьміть 4 десятки і 6 одиниць. Яке число отримали?
Приберіть десятки. Що залишається? (Одиниці.)
Що залишиться, якщо прибрати одиниці? (Десятки.)

Сьогодні
25.04.2023

Робота з підручником. Дії з десятками



Розглянь
випадки
віднімання.

$$48 - 8 = 40$$



- Усі одиниці віднімаємо, залишаються
 $48 - 8 = 40$
десятки.


Сьогодні
25.04.2023

Робота з підручником. Дії з десятками

$$40 + 8 = 48$$

$$48 - 8 = 40$$

$$48 - 40 = 40$$



Пригадай взаємозв'язок дій додавання і віднімання! Це допомагає в обчисленнях.

Сьогодні
25.04.2023

Робота з підручником. Обчислення виразів

Обчисли.



$$70 + 6 = 76$$

$$30 + 9 = 39$$

$$76 - 70 = 6$$

$$39 - 9 = 30$$

$$76 - 6 = 70$$

$$39 - 30 = 9$$

Сьогодні
25.04.2023

Робота з підручником. Обчислення виразів

Обчисли.



$$53 - 50 - 3 = 0$$

$$24 - 4 + 5 = 25$$


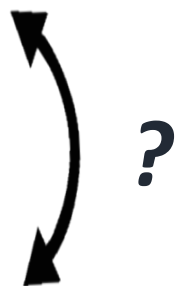
$$67 - 7 + 10 = 70$$



– 20 м



– 40 м



Висота сосни 20 м, а
висота тополі — 40 м.



На скільки метрів тополя
вища за сосну?

$$40 \text{ м} - 20 \text{ м} = 20 \text{ (м)}$$


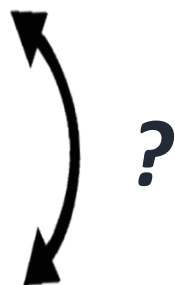


Відповідь: на 20 метрів тополя вища за сосну.



– 10 м

– 30 м




Висота берези 10 м, а висота дуба — 30 м.



На скільки метрів висота дуба більша за висоту берези?

$$30 \text{ м} - 10 \text{ м} = 20 \text{ (м)}$$



Відповідь: на 20 метрів висота дуба більша

за висоту берези.



- Зі звичайного дерева середнього розміру можна виготовити приблизно 170 000 олівців.
- Дерева на нашій планеті вважаються довгожителлями, порівняно з іншими живими організмами.

Сьогодні
25.04.2023

Робота у зошиті
(сторінка 37).



Сьогодні
25.04.2023

Робота в зошиті


- Заповни таблицю.

	45	75	35	65	85	5	25	95	55	15
- 5	40	70	30	60	80	0	20	90	50	10

Сьогодні
25.04.2023

Робота в зошиті

- Домалюй стільки трикутників, щоб їх стало 14.



$$10 + \boxed{4} = 14$$

- Розфарбуй великодні яйця.

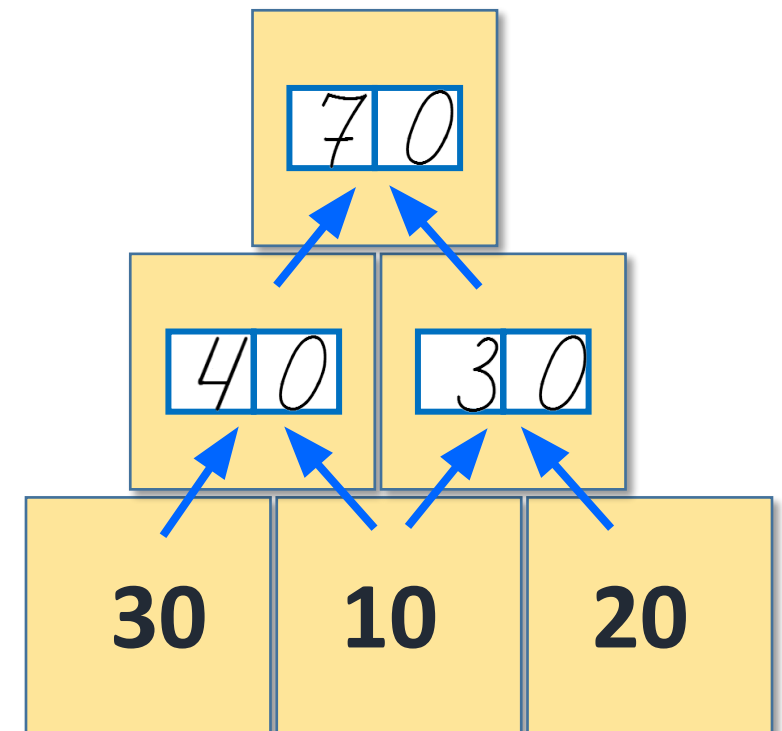
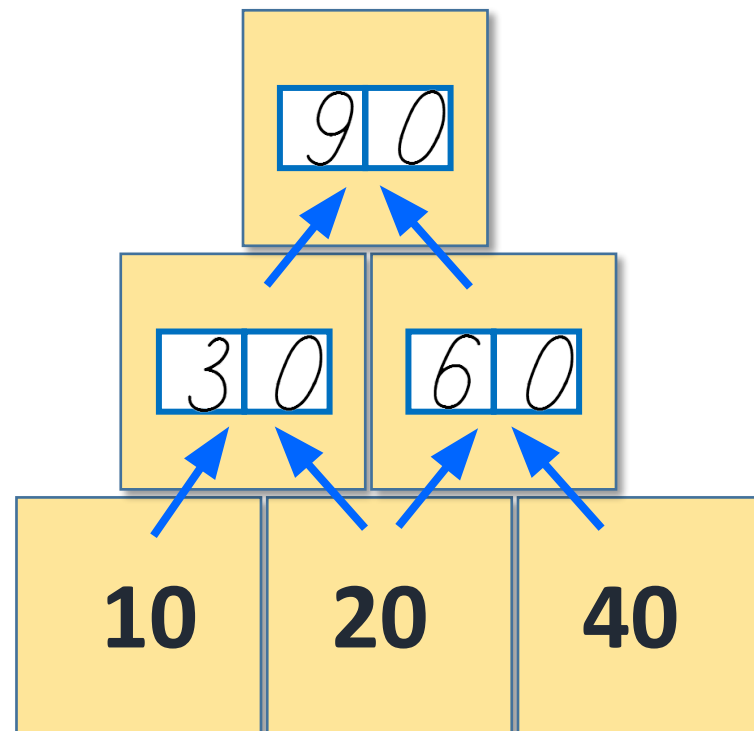


● — 19 ● — 50 ● — 77 ● — 48

The first egg is yellow and divided into five sections: a light blue section with $10 + 9$, a green section with $49 - 1$, a central yellow section with $100 - 50$, a green section with $40 + 8$, and a light blue section with $18 + 1$.

The second egg is divided into five sections: a yellow section with $55 - 5$, a pink section with $77 + 0$, a yellow section with $20 + 30$, a pink section with $70 + 7$, and a light blue section with $20 - 1$.

- Запиши пропущені числа, скориставшись зразком.



Сьогодні
25.04.2023

Гра «Шифр»

41 60 24 0 95


$2 + 40 - 1$	$59 - 9 + 10$	$74 - 70 + 20$	$55 - 50 - 5$	$89 + 1 + 5$
--------------	---------------	----------------	---------------	--------------

Шифр

60 – Е	24 – Р	95 ^р – А	0 – Б	41 – В
--------	--------	---------------------	-------	--------

В Е Р Б А

Розв'яжіть приклади та дізнайтеся
дерево, яке є символом України.





- *На уроці я дізнався (лася)...*
- *Мене найбільш зацікавило...*
- *Було складно...*
- *Вдома я розкажу про...*

