

Математика

Сьогодні
11.12.2022

Урок
№52



**Додавання і віднімання в
межах 10. Головні слова
задачі.**

Сьогодні
11.12.2022

Підготовчі вправи. Гра «Математичний Дартс».



Сьогодні
11.12.2022

Підготовчі вправи. Гра «Математичний Дартс»



Сьогодні
11.12.2022

Вправа «Прапорці»

$3 + 4$

7

$7 + 3$

10

$10 - 6$

4

$4 - 2$

2

$2 + 6$

8

$8 - 5$

3

$3 + 3$

6

$6 + 4$

10

$10 - 3$

7

У садочок до годівниці
Прилетіли **три** синиці,
Потім ще **одна** синиця.
Скільки птиць на
годівниці?

$$3 + 1 = 4$$



По дорозі зайчик біг,
 Ніс **сім** яблук на пиріг.
Двоє впали, покотились
 Скільки яблук
 залишилось?

$$7 - 2 = 5$$




Два сіреньких кажани
Сплять в печері до весни.
Шість забралися на
кручу.
Скільки вуханів летючих?

$$2 + 6 = 8$$



Задача – це ...

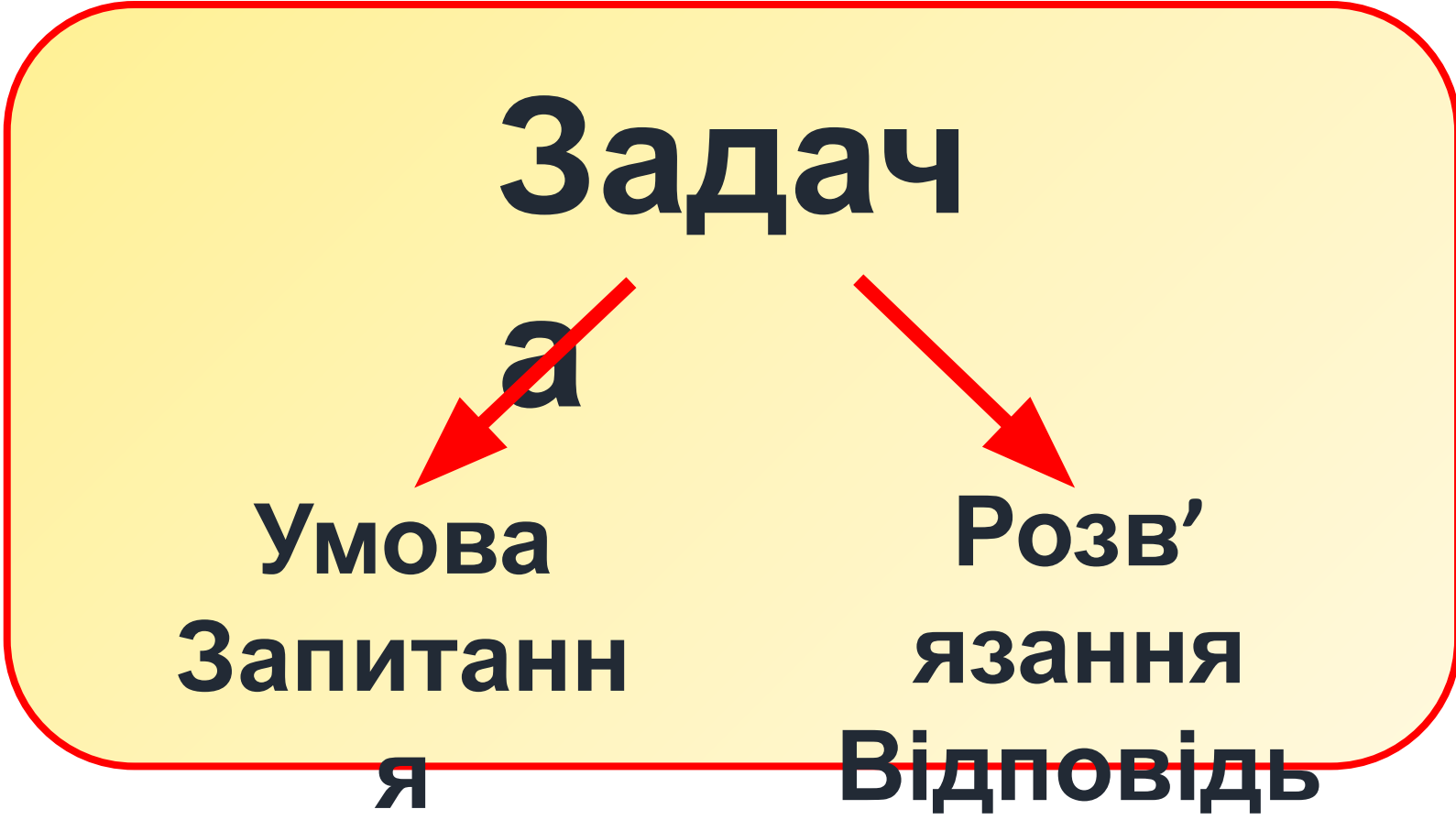
Математичне цікаве
завдання,
Де є умова і запитання.
Добре подумай, щоб все
розв'язати,
Ще й відповідь точну і
правильну дати.





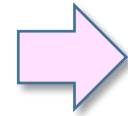
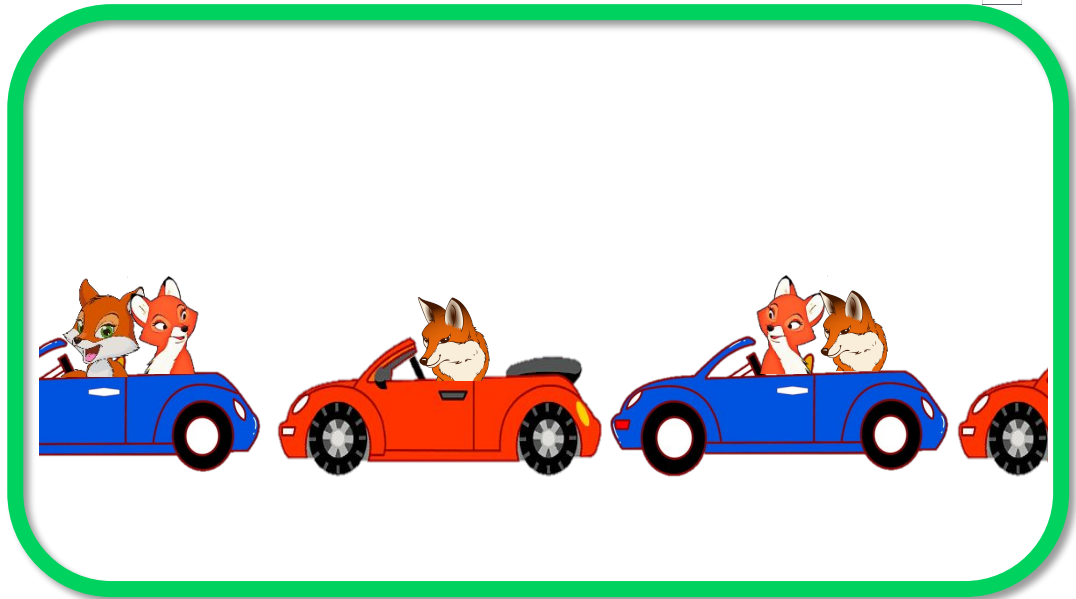
- Сьогодні на уроці ми будемо додавати і віднімати в межах 10.
- Повторимо головні слова задачі.







**Визначай в умові
слова, які
допоможуть розв'
язати задачу.**



У команди лисенят 5 синіх автомобілів і 5 червоних.




Скільки всього автомобілів є в команди лисенят?

$5 + 5 = 10$

Відповідь: 10 автомобілів.






Мама спекла 9 ватрушок. За сніданком з'їли 3 ватрушки.



Скільки ватрушок залишилося?

		9	-	3	=	6				



**Відповідь: 6 ватрушок
залишилося**

Сьогодні
11.12.2022

Робота з підручником. Порівняння

$>$ $=$ $<$



Порівняй.

$$8 < 10$$

$$7 + 1 > 7$$

$$0 < 9$$

$$6 + 4 = 10$$

Сьогодні
11.12.2022

Робота з підручником. Порівняння

$>$ $=$ $<$



Порівняй.

$$10 - 0 > 1$$

$$7 - 6 = 1$$

Прослухайте текст.
Визначте серед них
задачі.
Якщо відповідь «так»,
покажіть зелену цеглинку.
Якщо «ні», покажіть
цеглинку червоного
кольору.



**На стоянці було 10
машин. Уранці виїхало 0
машин.**



**На землі лежало 6
каштанів та 2 жолуді.
Скільки всього плодів
лежало на землі?**



Прослухайте текст.
Визначте серед них
задачі.
Якщо відповідь «так»,
покажіть зелену цеглинку.
Якщо «ні», покажіть
цеглинку червоного
кольору.



*До спортивної секції
записалося 4 дівчинки, а
хлопчиків – на 6 більше.
Скільки хлопчиків
записалося до спортивної
секції?
Скільки хлопчиків
ходить до спортивної
секції?*



Прослухайте текст.
Визначте серед них
задачі.
Якщо відповідь «так»,
покажіть зелену цеглинку.
Якщо «ні», покажіть
цеглинку червоного
кольору.



*Оленка намалювала 5
квіточок. Скільки в Мишка
залишилося цукерок?*



*Бабуся напекла 10 пиріжків з
вишнями, а з капустою – на 2
менше. Скільки пиріжків з
капустою
напекла бабуся?*



Сьогодні
11.12.2022

**Робота у зошиті
(сторінка 47).**



- З'єднай вираз із його значенням.




$5 + 3$	6	$3 + 4$
$5 + 2$	7	$2 + 7$
$5 + 4$	8	$1 + 5$
$5 + 1$	9	$4 + 4$

Сьогодні
11.12.2022

Робота у зошиті


- Скільки всього овочів буде, якщо їх усіх покласти на тарілку?



		2	+	3	=	5					

Відповідь: 5 овочів.

- Обчисли та розфарбуй.



- 5
- 6
- 7
- 8
- 9

Сьогодні
11.12.2022

Рефлексія. Вправа «Печиво від совенят»

Найкраще
мені
вдалося...

Я хотів би
дізнатися
про...

Вдома я
розкажу
про...

Сьогодні
на уроці
я
навчився/
навчилася
...



Урок
завершую
з
настроєм
...