

Математика

Сьогодні  
26.04.2023

Урок  
№ 11

0



**Обчислення на основі нумерації.  
Складання задачі за частиною  
умови.**

Сьогодні  
26.04.2023

## Робота з нумераційною таблицею

Які числа закрито  
квіточками?

Назвіть сусідів цих  
чисел.



1	2	3	4	5	6	7	8	9	10
11	12	13	14	15	16	17	18	19	20
21	22	23		25	26	27	28	29	30
31	32	33	34	35	36	37	38	39	
41	42	43	44	45	46	47	48	49	50
51		53	54	55	56	57	58	59	60
61	62	63	64	65	66	67	68	69	70
	72	73	74	75	76		78	79	80
81	82	83	84	85	86	87	88		90
91	92		94	95	96	97	98	99	100

Сьогодні  
26.04.2023

## Підготовчі вправи. Гра «Вантажник»





Жолудів аж **п'ять**  
**десятків**

Назбирали поросятка.  
**Три десятка** вранці з'  
їли.

Скільки на обід  
**50 – 30 = 20**  
лишили?

Сьогодні  
26.04.2023

## Робота з підручником. Обчислення виразів

Обчисли.



$$80 + 4 = 84$$

$$53 - 3 = 50$$

$$67 - 7 = 60$$

$$80 + 1 = 81$$

Сьогодні  
26.04.2023

## Робота з підручником. Обчислення виразів

Обчисли.



$$80 + 5 - 1 = 84$$

$$30 + 30 - 10 = 50$$

$$100 - 40 - 0 = 60$$

$$90 - 10 + 1 = 81$$



**54**



**93**



**37**



Ховрашок перелічує запаси зерняток у своїй нірці.  
Допоможи йому.

Сьогодні  
26.04.2023

Робота з підручником.  
Складання та розв'язування задачі за частиною умови.



*М.* – 6 в.



*Н.* – 4 в. ?



Для поливання дерев у саду  
Матвій приніс 6 відер води,  
його брат Назар – 4 відра.



За це їх похвалив дідусь.




На скільки більше відер  
приніс Матвій, ніж Назар?

$$6 - 4 = 2 \text{ (в.)}$$

Зміни текст так, щоб утворилася  
задача. Розв'яжи її.

**Відповідь: на 2 відра більше приніс Матвій.**





Дідусь із Микитою принесли з лісу 17 грибів. Дідусь знайшов 10 грибів.



Скільки грибів знайшов Микита?

$$17 - 10 = 7 \text{ (гр.)}$$

**Відповідь: 7 грибів знайшов Микита.**

Сьогодні  
26.04.2023

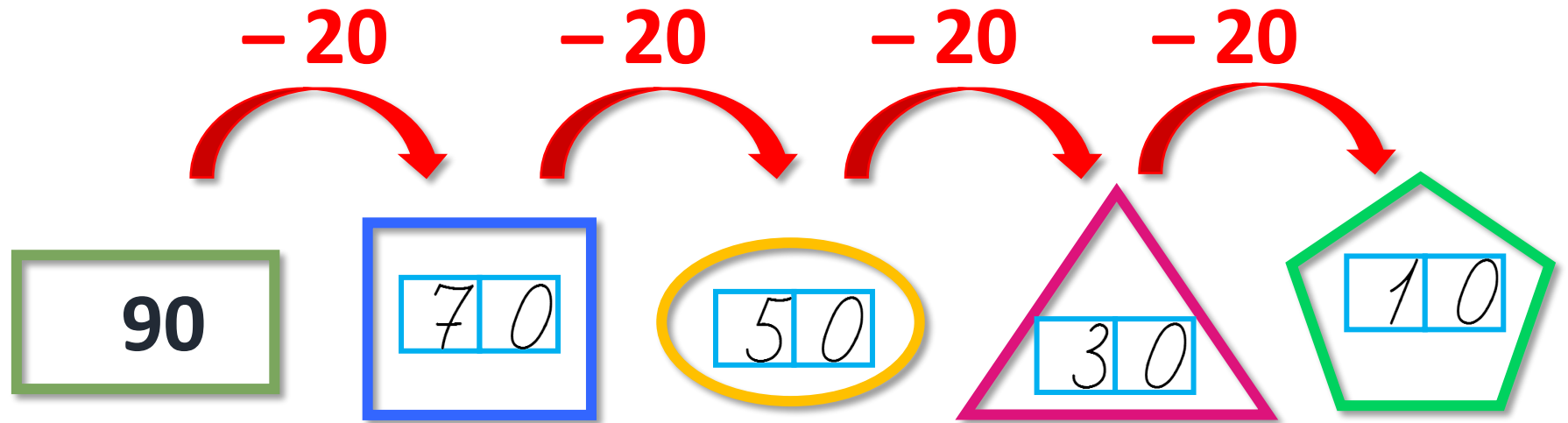
**Робота у зошиті  
(сторінка 38).**



- Об'єднай монети в групи так, щоб вартість монет у кожній групі дорівнювала 1 грн.



- Виконай обчислення ланцюжком.
- Віднімай щоразу число 20.




- Заповни таблицю.



Додано к	20	8	40	99	11	5	1
Додано к	5	10	20	0	5	60	1
Сума	25	18	60	99	16	65	□2

- Закресли зайві кубики в кожній коробці.



Ми – три числа, всі однакові. Знайди ці числа.



$$20 + 20 + 20 = 60$$

Сьогодні  
26.04.2023

## Малюнкова рефлексія



**Оберіть смайлика, що символізує ваш настрій наприкінці уроку.**