

Математика

СЬОГОДН
25.11.2022

Урок
№40




Додавання і віднімання числа 4. Побудова відрізка



Чи готові ваші
очі бачити?

Чи готові ваші
вуха слухати?



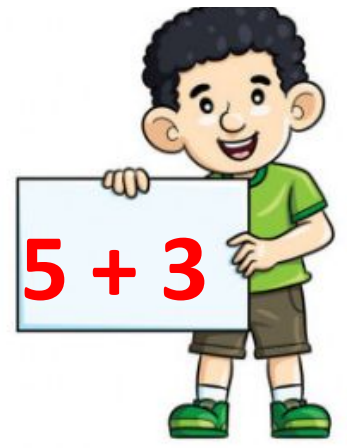

Чи готові ваші
руки писати у
зошиті?

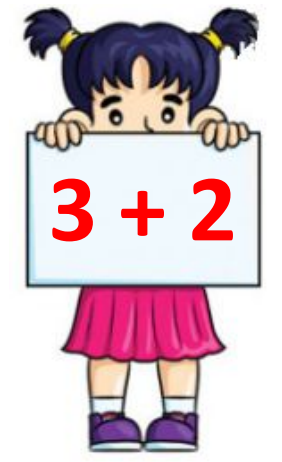
Чи готові ваші
ніжки відпочити
трішки?



Сьогодні
25.11.2022

Підготовчі вправи. Гра «Математичні вирази»





На березі річки
Три жабки сиділи.
До них пристрибали ще
п'ять.
Зможеш всіх порахувати?

$$3 + 5 = 8$$



Вісім вантажівок у гаражі стояли,
Дві з них у рейс сьогодні
відправляли.
Хто уміє рахувати,
Скільком треба зачекати?

$$8 - 2 = 6$$



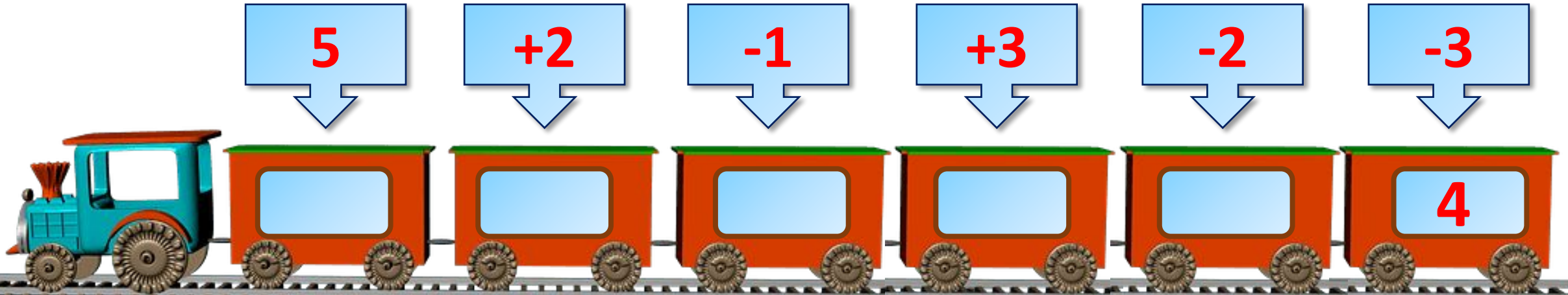
Дев'ять кабачків дозріло на городі.
Три з них на ікру зірвали сьогодні.
Скільки залишилось на грядці,
скажи,
Порахувати допоможи!

$$9 - 3 = 6$$



Сьогодні
25.11.2022

Гра «Потяг»



Скільки пасажирів везе останній вагон потяга?



Скільки лапок у мангуста,
Пелюсток у квітках капусти,
Пальців на курячій ніжці
І на задній лапі кішки,
Рук у Тані і у Іри
Знає циферка ...



Чотири



Вивчити таблицю додавання та віднімання
числа 4.




- Сьогодні на уроці ми будемо додавати і віднімати число 4.
- Будемо креслити відрізки за допомогою лінійки.



- ❖ Полічи фігури в кожному рядку.
- ❖ Поясни, як утворені таблиці.

Запам'ятай
результати
додавання і
віднімання числа 4.



$$1 + 4 = 5$$

$$2 + 4 = 6$$

$$3 + 4 = 7$$

$$4 + 4 = 8$$

$$5 + 4 = 9$$

$$6 + 4 = 10$$

$$5 - 4 = 1$$

$$6 - 4 = 2$$

$$7 - 4 = 3$$

$$8 - 4 = 4$$

$$9 - 4 = 5$$

$$10 - 4 = 6$$



Сьогодні
25.11.2022

Робота з підручником. Обчислення виразів на додавання

Обчисли.



$$4 + 4 = 8$$

$$1 + 3 = 4$$

$$3 + 3 = 6$$

$$1 + 0 = 1$$

$$2 + 2 = 4$$

$$1 + 4 = 5$$

Сьогодні
25.11.2022

Робота з підручником. Обчислення виразів на віднімання

Обчисли.



$$5 - 4 = 1$$

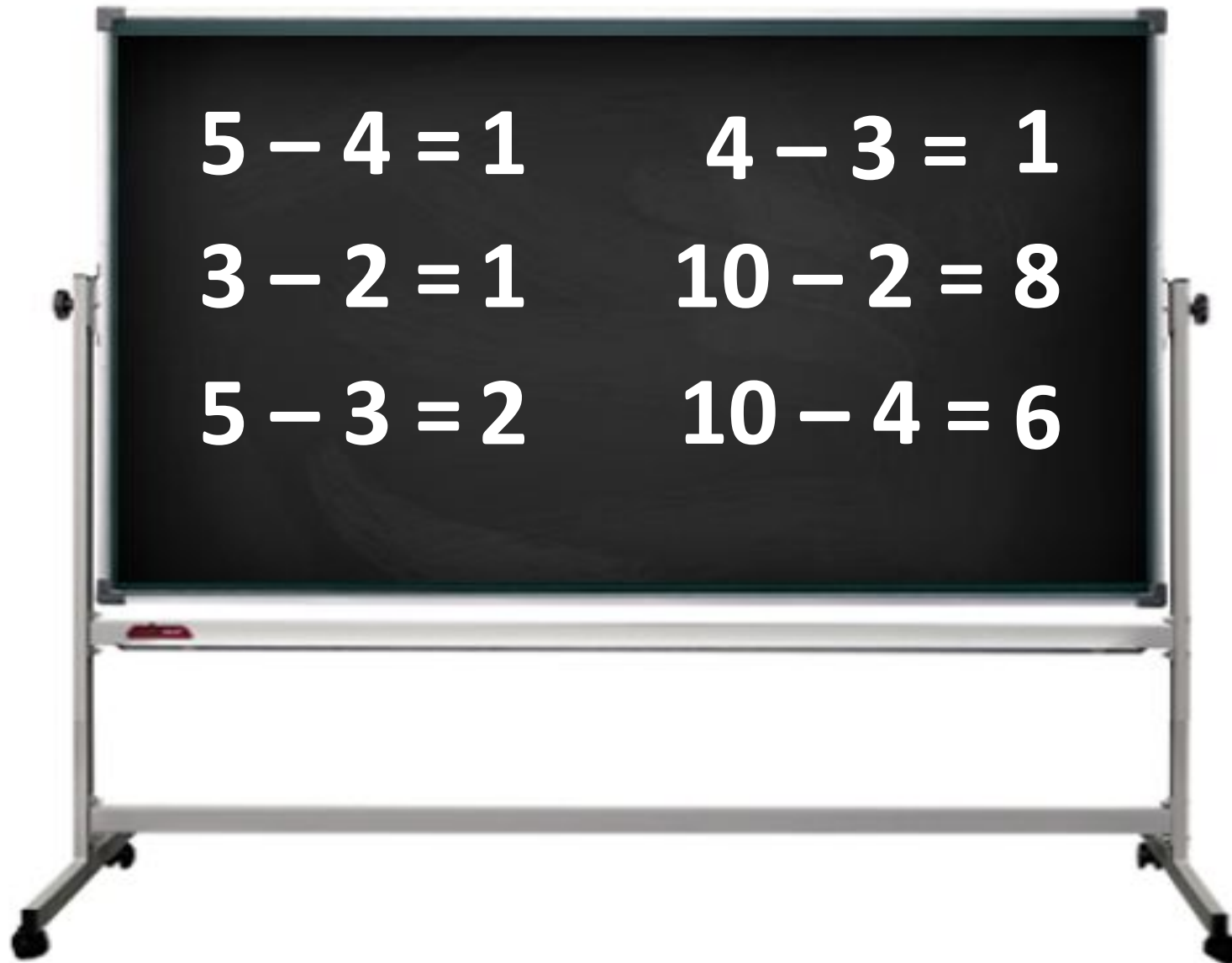
$$4 - 3 = 1$$

$$3 - 2 = 1$$

$$10 - 2 = 8$$

$$5 - 3 = 2$$

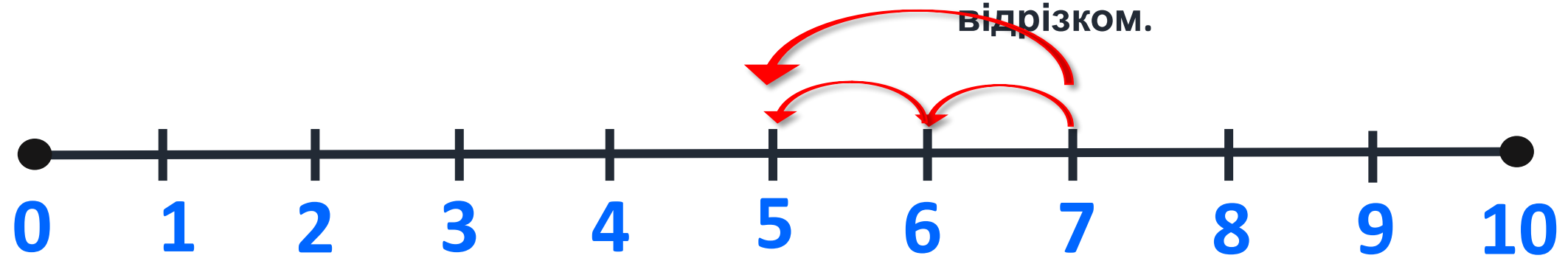
$$10 - 4 = 6$$



СЬОГОДН
25.11.2022

Робота з підручником. Віднімання чисел за числовим променем

❖ Виконай віднімання чисел частинами, скориставшись числовим відрізком.



$$7 - 2 = 5$$

$$9 - 2 = 7$$

$$8 - 2 = 6$$

$$7 - 3 = 4$$

$$9 - 3 = 6$$


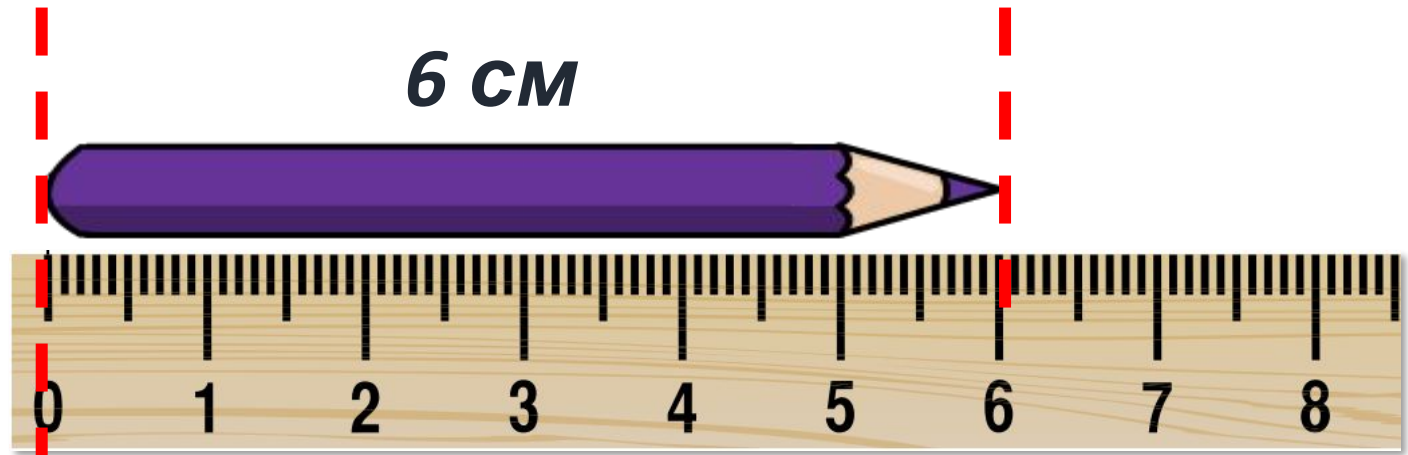
$$8 - 3 = 5$$

$$7 - 4 = 3$$

$$9 - 4 = 5$$

$$8 - 4 = 4$$

Яка довжина предметів?



Сьогодні
25.11.2022

**Робота у зошиті
(сторінка 39).**



- Виконай додавання числа 4.



$1 + 4 = 5$

$4 + 4 = 8$

$2 + 4 = 6$

$5 + 4 = 9$

$3 + 4 = 7$

$6 + 4 = 10$

- Виконай віднімання числа 4.



$$5 - 4 = 1$$

$$8 - 4 = 4$$

$$6 - 4 = 2$$

$$9 - 4 = 5$$

$$7 - 4 = 3$$

$$10 - 4 = 6$$

Робота в зошиті

- Обчисли.



$4 + 2 = 6$

$10 - 3 = 7$

$7 + 0 = 7$

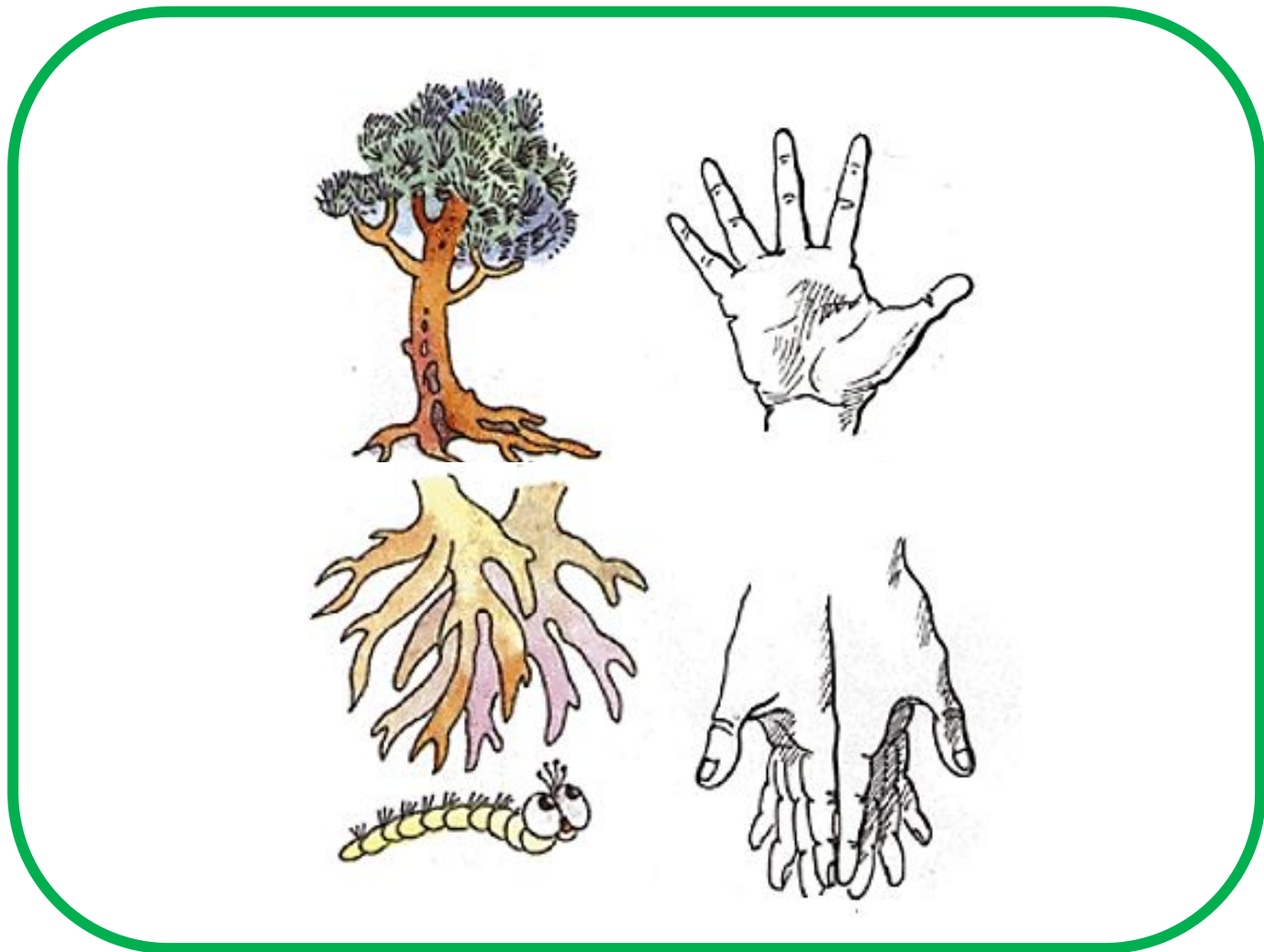
$10 - 1 = 9$

$3 - 3 = 0$

$5 + 4 = 9$

$1 + 2 = 3$

$4 + 5 = 9$



- У кожній парі підкресли більше число.
- Знайди різницю цих чисел.



3 і 7

	7	-	3	=	4	
--	---	---	---	---	---	--

4 і 0

	4	-	0	=	4	
--	---	---	---	---	---	--

2 і 5

	5	-	2	=	3	
--	---	---	---	---	---	--

0 і 8

	8	-	0	=	8	
--	---	---	---	---	---	--

1 і 9

	9	-	1	=	8	
--	---	---	---	---	---	--

10 і 4

	10	-	4	=	6	
--	----	---	---	---	---	--

- Виконай віднімання числа частинами, скориставшись числовим відрізком.



$$5 - 2 = 3$$

$$9 - 2 = 7$$


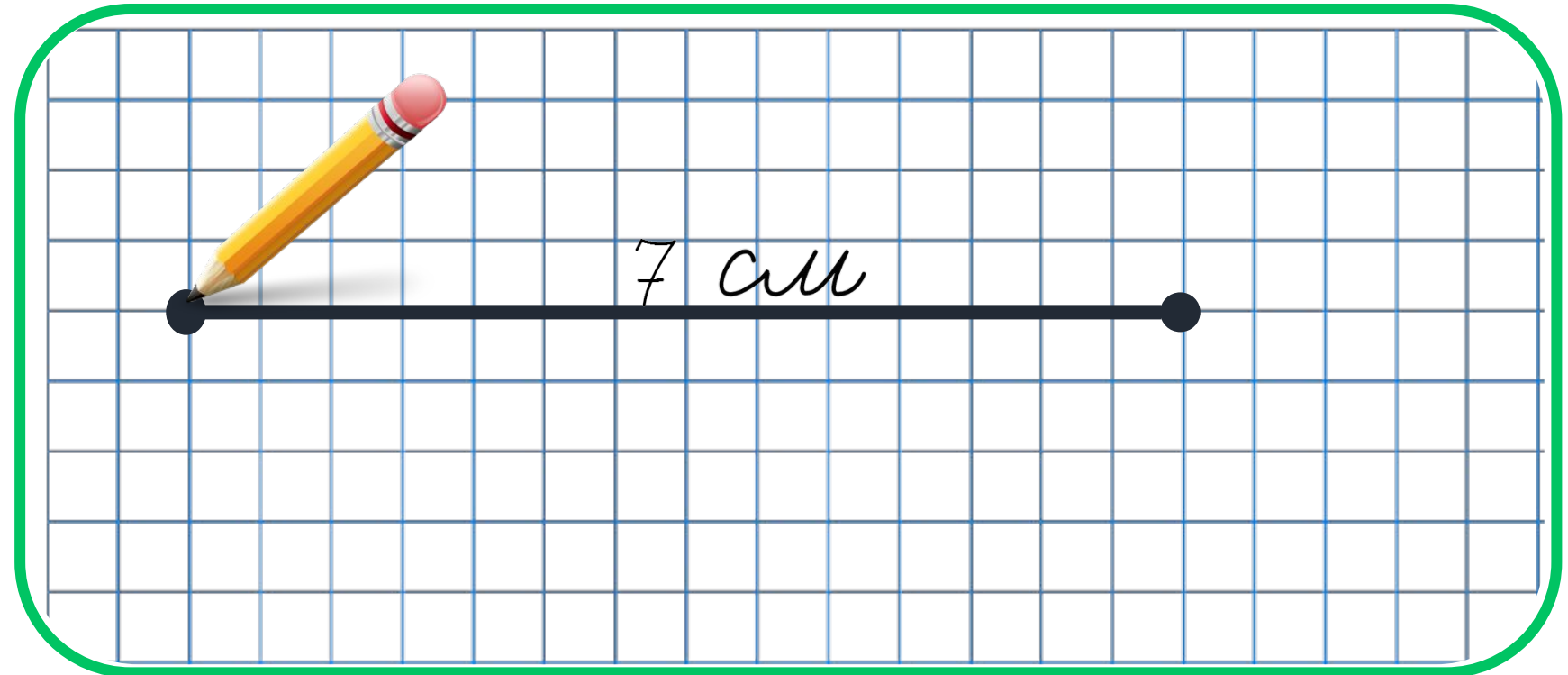
$$5 - 3 = 2$$

$$9 - 3 = 6$$


$$5 - 4 = 1$$

$$9 - 4 = 5$$


- Побудуй відрізок завдовжки 7 см.



Знайди номер кожної пташки.



Знайди номер кожної пташки.





**Про що ви
дізналися на
уроці?**



**Що
навчилися
робити?**



**Що
сподобалося
найбільше?**



**Де можна
використати
здобуті
знання?**

