

Математика

Сьогодні
15.12.2022

Урок
№55



Додавання кількох чисел

СЬОГДН
15.12.2022

Гра «Віднови натуральний ряд»



Підготовчі вправи. Гра «На 2 більше»







Висновок:

- «на ... більше» означає збільшити, «додати»;
- «на ... менше» – «зменшити», «відняти».

Сьогодні
15.12.2022

Повторення складу чисел 4 – 10

4 – це 1 і 3

5 – це 3 і 2

6 – це 5 і 1

7 – це 2 і 5

8 – це 0 і 8

9 – це 7 і 2

10 – це 1 і 9



Були у нашому дворі
два горобці, **три** снігурі.
Хто може скласти лік птахам
— Всім горобцям і снігурам?

$$2 + 3 = 5$$



Десять ялинок у лісі росли,
В школу на свято **одну**
відвезли.

Скільки ялинок лишилося
там?

Добре подумасьш, скажеш це
сам.

$$10 - 1 = 9$$





В'яже бабуся-лисиця
Трьом онукам рукавиці
Рукавичок **по дві** штуки.
Бережіть, не загубіть!
Скільки всіх? Перелічіть!

$$2 + 2 + 2 = 6$$



Сьогодні
15.12.2022

Мотивація навчальної діяльності. Робота з математичними матеріалами



$$3 + 2 = 5$$

$$3 + 2 + 1 = 6$$

Покладемо поряд ще 1 цеглинку жовтого кольору. Скільки стало цеглинок? Складіть приклад.



6 

$$3 + 3 + 4 = 10$$

Треба знайти суму двох чисел, запам'ятати результат і до нього додати третє число.



- 1. Обчисли суму перших двох доданків.**
- 2. Запам'ятай отриманий результат.**
- 3. До отриманого результату додай третій доданок.**

Сьогодні
15.12.2022

Робота з підручником. Додавання кількох чисел



$$6 \text{ pencil} \\ 5 + 1 + 1 = 7$$

$$6 \text{ pencil} \\ 3 + 3 + 3 = 9$$

$$4 \text{ pencil} \\ 2 + 2 + 2 = 6$$

$$5 \text{ pencil} \\ 3 + 2 + 1 = 6$$

Скільки доданків у кожній сумі? Обчисли.

Сьогодні
15.12.2022

Робота з підручником. Додавання кількох чисел



$$9 \text{ (with pencil icon)} \\ 6 + 3 + 1 = 10$$

$$6 \text{ (with pencil icon)} \\ 4 + 2 + 2 = 8$$

$$8 \text{ (with pencil icon)} \\ 5 + 3 + 2 = 10$$

$$8 \text{ (with pencil icon)} \\ 7 + 1 + 2 = 10$$


Скільки доданків у кожній сумі? Обчисли.

Сьогодні
15.12.2022

**Робота у зошиті
(сторінка 50).**



- Напиши за зразком.



7	7	7	7	7	7	7	7	7	7
2	2	2	2	2	2	2	2	2	2

- Обчисли.



$$3 + 5 + 1 = 9$$

$$4 + 4 + 1 = 9$$


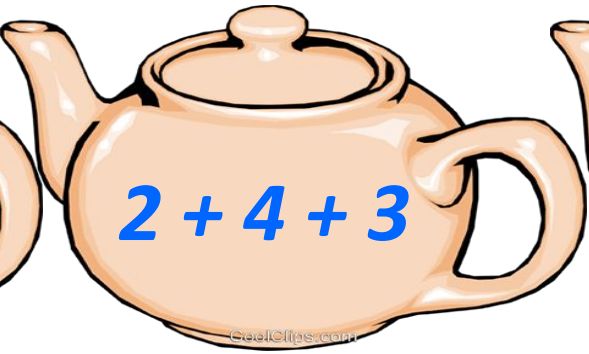
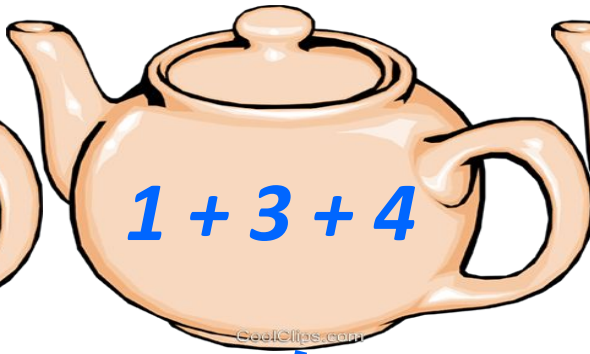
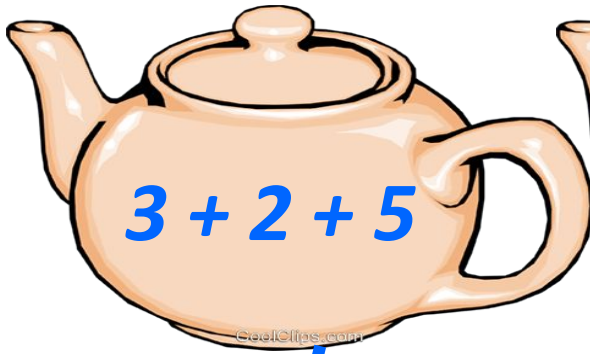
$$2 + 3 + 2 = 7$$

$$3 + 0 + 3 = 6$$

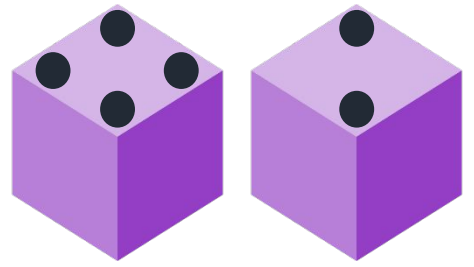
$$5 + 1 + 2 = 8$$

$$8 + 1 + 1 = 10$$

- З'єднай кожний вираз із його значенням.

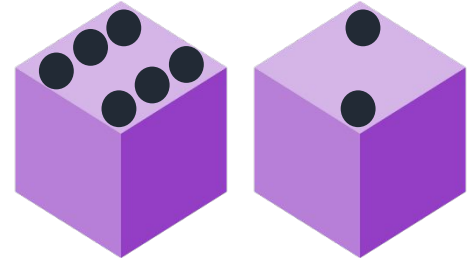


- Зафарбуй клітинку, на яку поставить фішку кожний із гравців.



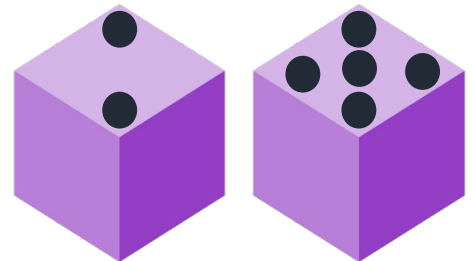
1	2	3	●	5	6	7	8	9	10
---	---	---	---	---	---	---	---	---	----

4	+	6	=	10		
---	---	---	---	----	--	--



●	2	3	4	5	6	7	8	9	10
---	---	---	---	---	---	---	---	---	----

1	+	8	=	9		
---	---	---	---	---	--	--





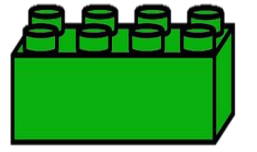
1	●	3	4	5	6	7	8	9	10
---	---	---	---	---	---	---	---	---	----


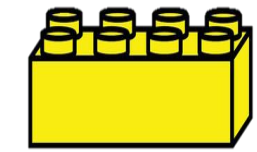
2	+	7	=	9		
---	---	---	---	---	--	--

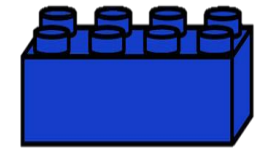
Розшифровка та розгадування прикладів

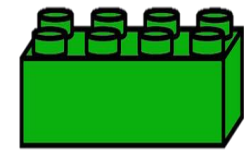

1
2
3
4
5

 +  = 7

 +  = 6

 +  = 6

 +  = 5

 +  = 5



Чи було вам
важко? Якщо так,
то що саме?

Чого ви
навчилися
на уроці?

