

Математика

Сьогодні  
13.06.2023

Урок  
№ 13

8



**Робота з малюнками й  
текстами. Розв'язування  
завдань для розвитку**

Сьогодні  
13.06.2023

Підготовчі вправи. Гра «Зміни емоцію»



$$27 - 2 = 25$$



$$36 - 4 = 32$$



$$42 + 6 = 48$$



$$0 + 100 = 100$$



$$50 + 20 = 70$$



$$19 - 3 = 16$$

Сьогодні  
13.06.2023

Підготовчі вправи. Гра «Зміни емоцію»



$$77 - 10 = 67$$



$$56 + 3 = 59$$



$$40 - 30 = 10$$




$$30 + 10 = 40$$



$$15 + 5 = 20$$



$$66 - 0 = 66$$



Знайдіть числа, менше від 70. Які числа більше 40? Назвіть числа більші 40, але менше 90. Назвіть числа у порядку зростання (спадання).

Сьогодні  
13.06.2023

Відновлення арифметичних знаків у виразах з метою отримання істинних рівностей.

Відновіть  
арифметичні знаки у  
виразах.



$$47 \square - 10 = 37$$

$$73 \square + 10 = 83$$

$$39 \square + 10 = 49$$

Сьогодні  
13.06.2023

Відновлення арифметичних знаків у виразах з метою отримання істинних рівностей.

Відновіть  
арифметичні знаки у  
виразах.



$$56 \square - 10 = 46$$

$$95 \square - 10 = 85$$

$$82 \square + 10 = 92$$

Прочитай розповідь  
про білку.



Білка заготовляє  
запаси на зиму. Вона  
вже збрала  $10 + 40$   
горішків,  $50 + 30$   
жолудів, на гілці  
сохнуть  $5 + 2$  грибів.  
Припаси свої вона  
ховає в дуплі, яке  
розміщене на висоті  
 $10 - 7$  м.  
*Заміни вирази результатом їх  
обчислення.*



Прочитай  
розповідь.

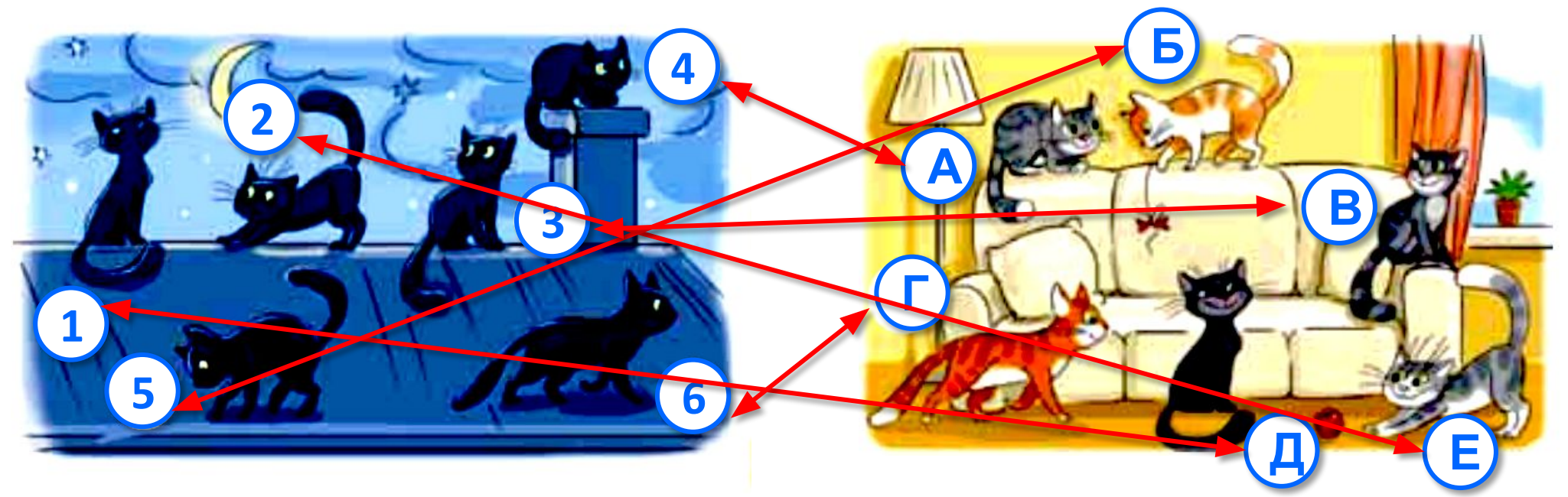


Мама вирішила навести лад у шафі. Там є  $2 + 1$  полиці. На першу полицю мама поставила  $10 + 3$  банок овочевих консервів, на другу полицю поставила  $15 - 4$  банок із варенням, а на третю —  $6 + 3$  банок із грибами.



*Заміни вирази результатом їх обчислення.*






Установи відповідність між силуетом котика, який сидить на даху, і котиком, який перебуває в кімнаті.

**Робота з підручником. Робота за малюнком. Логічне завдання**


**Три подружки — Галинка, Мілана й Любава — люблять зачіски з бантами. Відомо, що Любава — не з червоним бантом, Галинка — також не з червоним і не любить бантиків у горошок. Покажи на малюнку кожну дівчинку.**



Сьогодні  
13.06.2023

Удосконалення вміння читати математичні тексти.  
Гра «Загадкова скринька» (цікаві факти про тварин)

Найбільший нічний метелик має розмах крил до 30 сантиметрів.



Хвіст павича, а точніше його пір'я, завдовжки близько 2 метрів.



Сьогодні  
13.06.2023

Удосконалення вміння читати математичні тексти.  
Гра «Загадкова скринька» (цікаві факти про тварин)

Дорослий бобер може  
досягати ваги 30 кг.




Довжина пташки  
колібри становить  
близько  
5 сантиметрів.



Сьогодні  
13.06.2023

Удосконалення вміння читати математичні тексти.  
Гра «Загадкова скринька» (цікаві факти про тварин)

Зуби акул  
оновлюються кожні 8  
днів.



У тигрів у нічний  
час доби зір  
краще в 6 разів,  
ніж у людини.



Сьогодні  
13.06.2023

Удосконалення вміння читати математичні тексти.  
Гра «Загадкова скринька» (цікаві факти про тварин)

На відміну від  
людини, у вівці є 4  
шлунки. Кожен з них  
допомагає  
перетравлювати їжу  
швидше.



Павук тарантул  
може обійтися без  
їжі близько 2 років.



**Робота у зошиті.  
Додаткові завдання  
(сторінка 60).**



Сьогодні  
13.06.2023

*(щоби відкрити інтерактивне завдання, натисніть на помаранчевий прямокутник)*

**Відкрити онлайнове  
інтерактивне завдання**