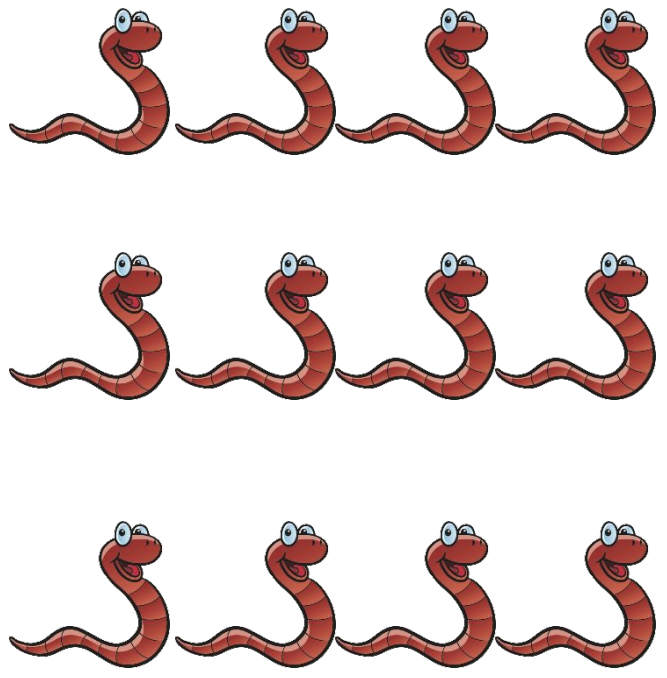


Сьогодні  
23.02.2023

Урок  
№ 77



**Додавання виду  $10 + 4$ .  
Складання задач різних типів за  
одним сюжетом. Вимірювання  
довжини відрізка  
і побудова відрізка заданої довжини**




12

10

8

This block contains three rows of cartoon snakes. The first row has 4 snakes, the second row has 4 snakes, and the third row has 4 snakes. To the right of each row is a green starburst containing a red number: 12, 10, and 8 respectively.




13


10

9

This block contains three rows of cartoon blue birds. The first row has 3 birds, the second row has 3 birds, and the third row has 3 birds. To the right of each row is a green starburst containing a red number: 13, 10, and 9 respectively.



A green-bordered rounded rectangle containing 15 pink flowers arranged in four rows: 3 in the top row, 4 in the second row, 4 in the third row, and 4 in the bottom row. To the right of the flowers are three green starburst shapes containing the numbers 15, 14, and 13 in red, respectively.



A green-bordered rounded rectangle containing 11 bees arranged in four rows: 3 in the top row, 3 in the second row, 3 in the third row, and 2 in the bottom row. To the right of the bees are three green starburst shapes containing the numbers 11, 10, and 12 in red, respectively.

Вітер листя обривав  
І швиденько рахував.  
*Десять* листочків дубових  
Та *три* різьблених  
кленових  
Тихо він на землю клав  
І у діток запитав:  
– Скільки ж я листків  
зірвав?  $10 + 3 = 13$



Котик Васька так вже звичайно  
На сніданок їсть **п'ять**  
риб.

А побігавши як слід,  
Їсть ще **десять** на обід.

Нам порахувати слід,  
Скільки риб з'їдає кіт.


$$5 + 10 = 15$$






Чорний кіт і біла кішка  
 Малювали сірих мишок.  
 Кіт намалював **десяток**,  
 Кішка більше аж на **шість**.  
 Скільки в кішки на  
 малюнку Мишок? Хто нам  
 відповідіть?


$$10 + 6 = 16$$



До кожного малюнка  
склади вираз та  
обчисли його  
значення.



$$10 + 7 = 17$$



$$10 + 5 = 15$$


Сьогодні  
23.02.2023

Робота з підручником. Складання та обчислення виразу

До кожного малюнка  
склади вираз та  
обчисли його  
значення.




$$10 + 2 = 12$$




$$10 + 4 = 14$$



1



✓ Скільки  
всього олівців  
...?



У Миколки були кольорові олівці. 6 олівців лежало у коробці, а 3 – у пеналі.



Скільки всього кольорових олівців було



За малюнком і запитаннями склади та розв'яжи дві задачі.

$$6 + 3 = 9$$


**Відповідь: 9 олівців.**



2



✓ Скільки  
на скільки  
...?




У Миколки були кольорові олівці. 6 олівців лежало у коробці, а 3 – у пеналі.



На скільки у коробці олівців більше, ніж у пеналі?

		6	-	3	=	3				

**Відповідь: на 3 олівці більше.**

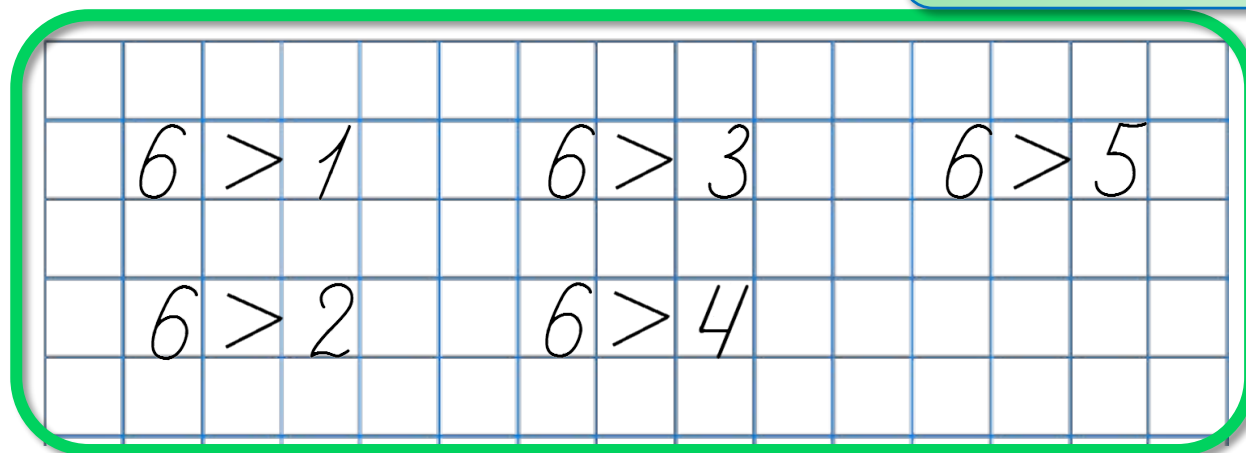


У цукерниці 6 шоколадних цукерок, а карамельок — менше.



Скільки карамельок у цукерниці?

Назви всі можливі варіанти.



Яких чисел не  
вистачає на  
намистинках?







Дмитрик намалював відрізок завдовжки 10 см, а Марійка — на 2 см менший. Яка довжина Марійчиного відрізка?



**10 см**



**?, на 2 см менший**

**$10 \text{ см} - 2 \text{ см} = 8 \text{ см}$**



Сьогодні  
23.02.2023

Робота у зошиті  
(сторінка 12).



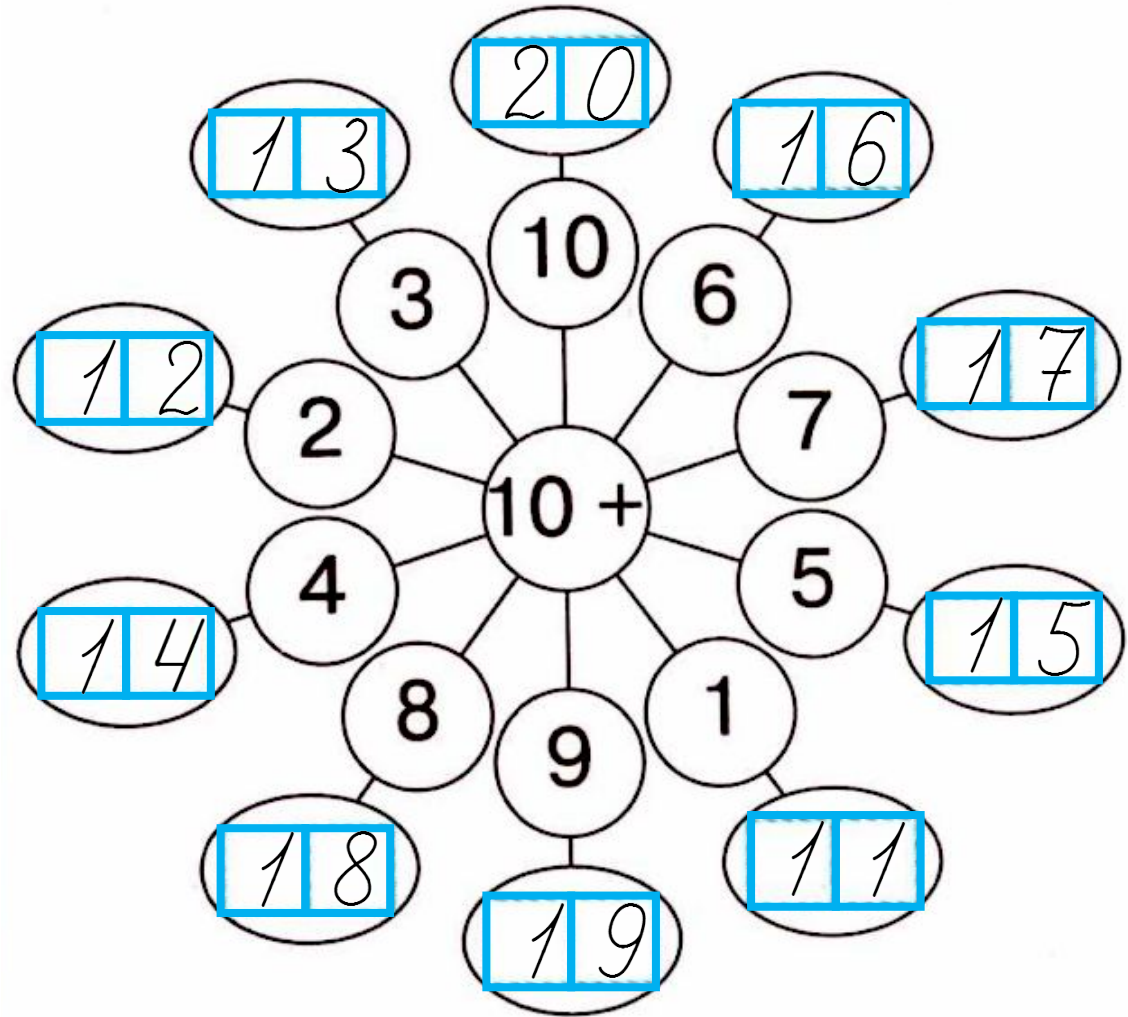
## Робота в зошиті

- Напиши за зразком.



1	8	1	8	1	8	1	8	1	8	1	8	1	8	1	8
1	3	1	3	1	3	1	3	1	3	1	3	1	3	1	3

• Обчисли.



- Скільки гривень у кожному гаманці?



1 2 грн

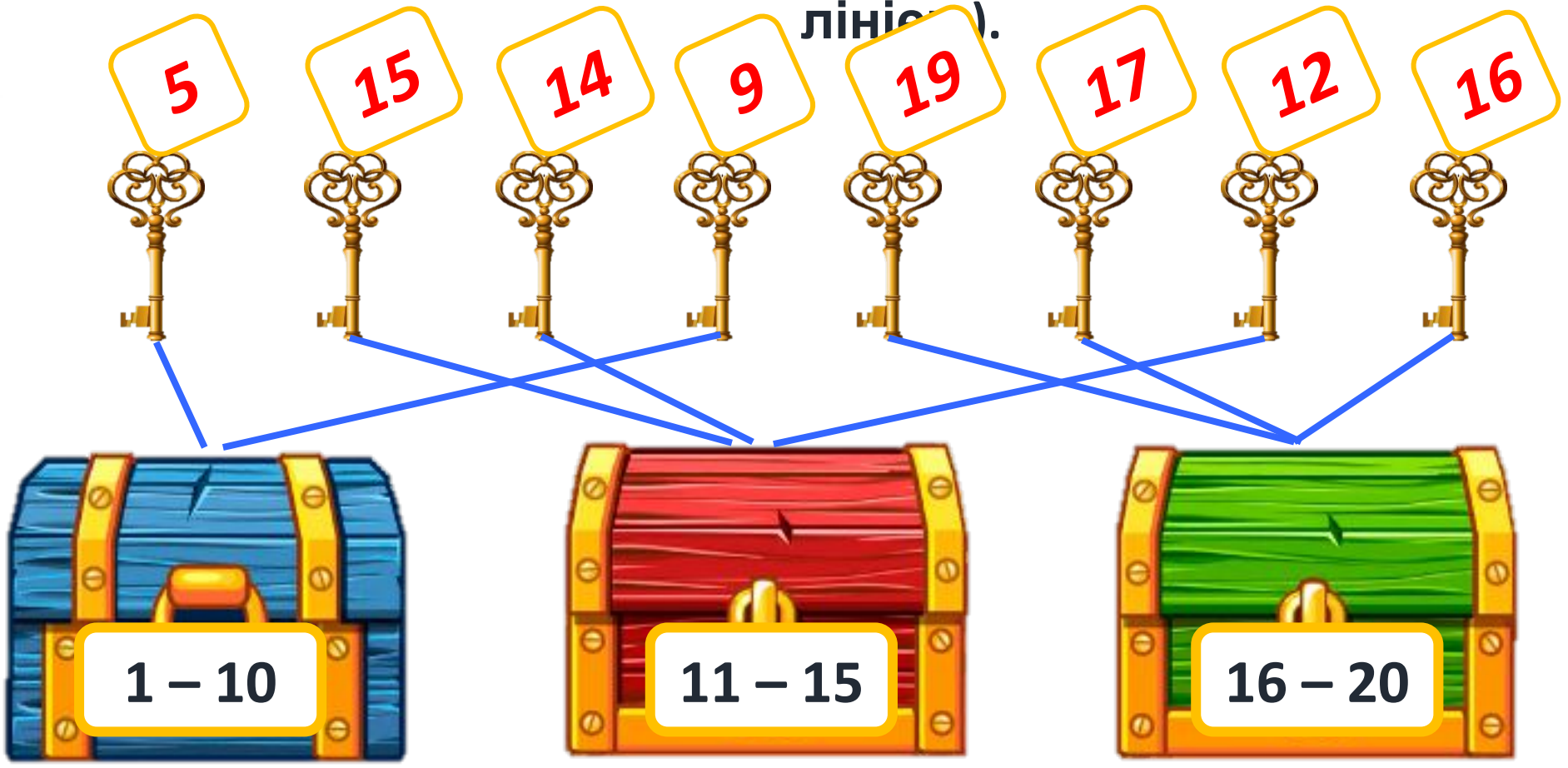


1 1 грн



1 5 грн

- Помісти кожний ключ у свою скриньку (з'єднай лініями).





- Обчисли.



$4 + 4 = 8$

$4 + 5 - 3 = 6$

$5 + 5 = 10$

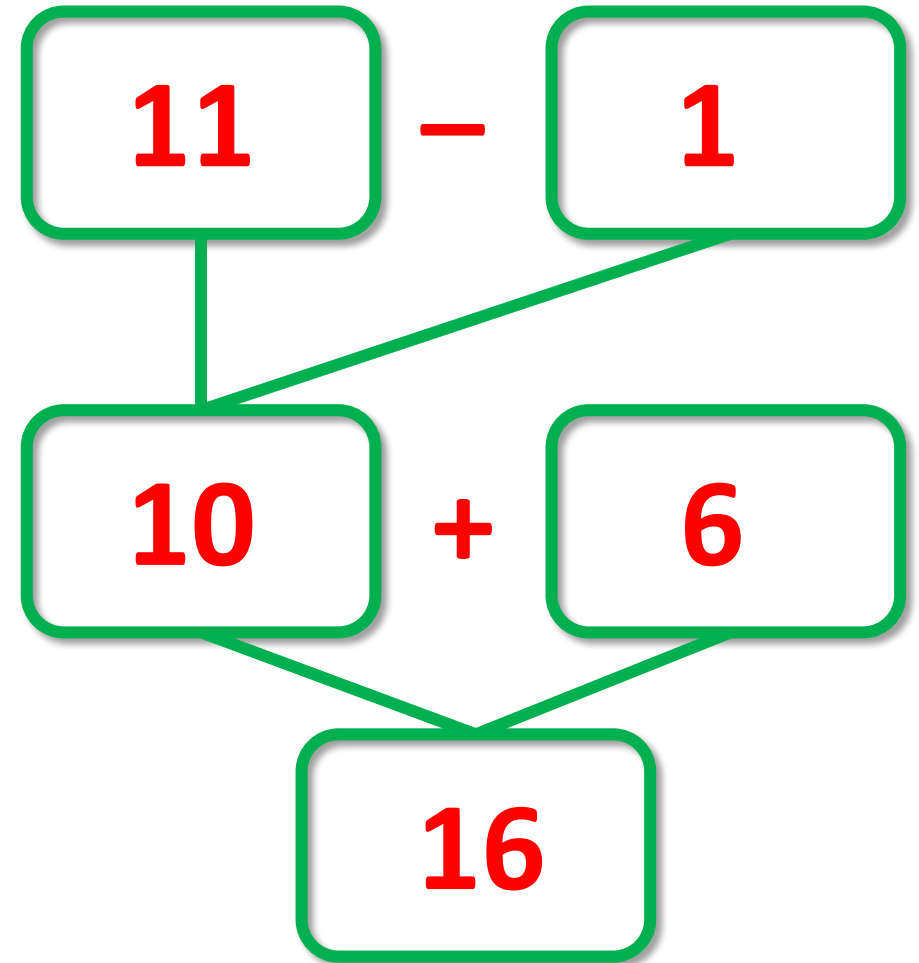
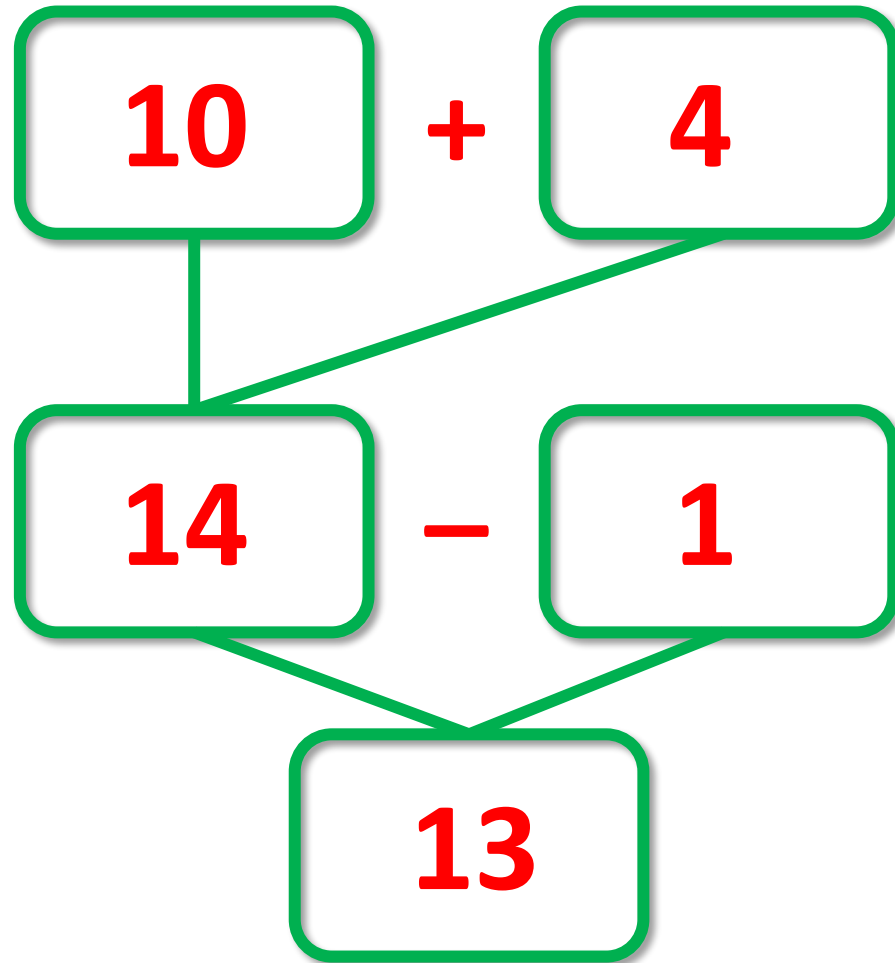
$9 - 2 - 3 = 4$

$2 + 2 = 4$

$7 - 2 + 4 = 9$

$3 + 3 = 6$

$1 + 4 + 2 = 7$



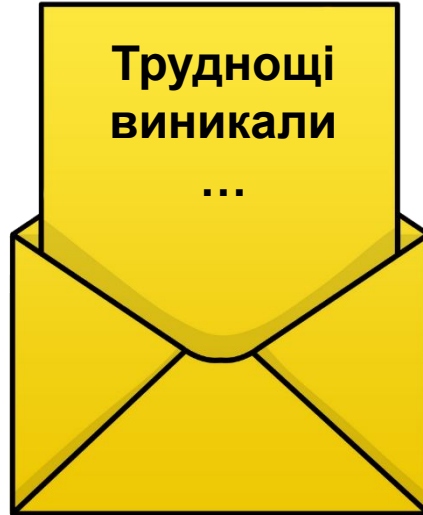
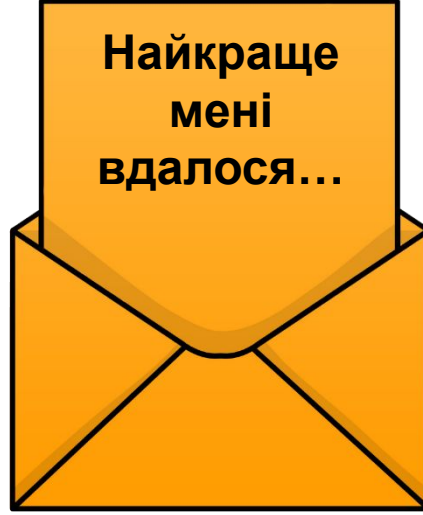
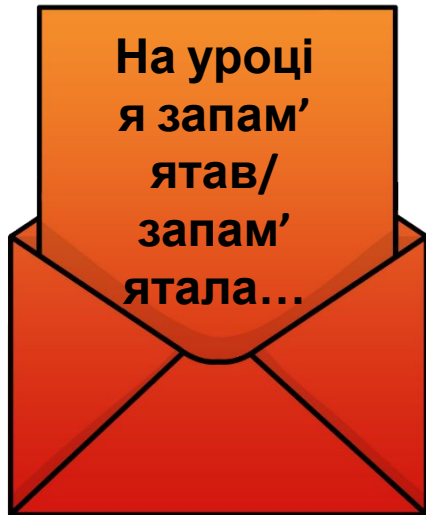
Сьогодні  
23.02.2023

*(щоби відкрити інтерактивне завдання, натисніть на помаранчевий прямокутник)*

**Відкрити онлайнове  
інтерактивне завдання**

**Сьогодні**  
**23.02.2023**

## Рефлексія «Загадкові листи»



**Обери лист, який ти хочеш  
відкрити**  
*(для відкриття по листі варто натиснути)*

