





Математика

Тема: **Что узнали.**
Чему научились



Начинается урок,
Он пойдёт ребятам впрок.
Постарайтесь всё понять,
Чтоб примеры без труда решать,
Преобразовывать, считать,
Чертить, смекать и рассуждать.



**Цель, которую
ставлю перед собой:**

Хочу узнать...

Буду стараться...



Думаем—быстро!


Отвечаем—правильно!

Считаем—точно!

Пишем—красиво!



Проверка домашнего задания:



15 – г

16 – и

13 – Е

30 – е

35 – т

20 – п



Египет



Задача №

Уток - 8 ¹⁰пт.

Гусей - ?, на 2 пт. м.

Кур – столько, сколько


1) $8 - 2 = 6$ (пт.)-гусей.

2) $8 + 6 = 14$ (пт.)



71, 72, 73, 74, 75, 76, 77, 78, 79, 80

П И А Р Д А И М





3

6

32

14

36

37



Мумия. Саркофаг



На чём писали египтяне?

- а) на папирусе-73;**
- б) на пергаменте-74;**
- в) на бересте -75.**

26

+ 8

- 9

+ 20

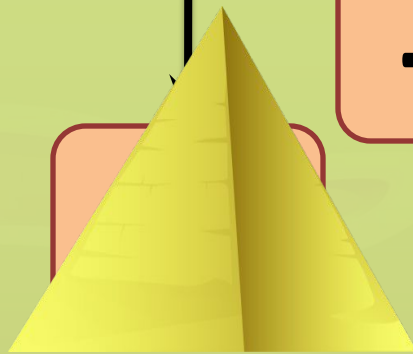

- 7

+ 11

+ 6

+ 25

- 7



На чём писали египтяне?

- а) на папирусе-73;**
- б) на пергаменте-74;**
- в) на бересте -75.**

На чём писали египтяне?

Папирус – бумага из тростника.

ФИЗМИНУТКА



- [Капитан Краб_4Разминка \(физминутка для детей\).mp4](#)

Решите задачу



**Стр. 74, №
18**



Задача №

I - 20 шт. ¹⁸


II - ?, на 10 шт. м.

III - столько, сколько

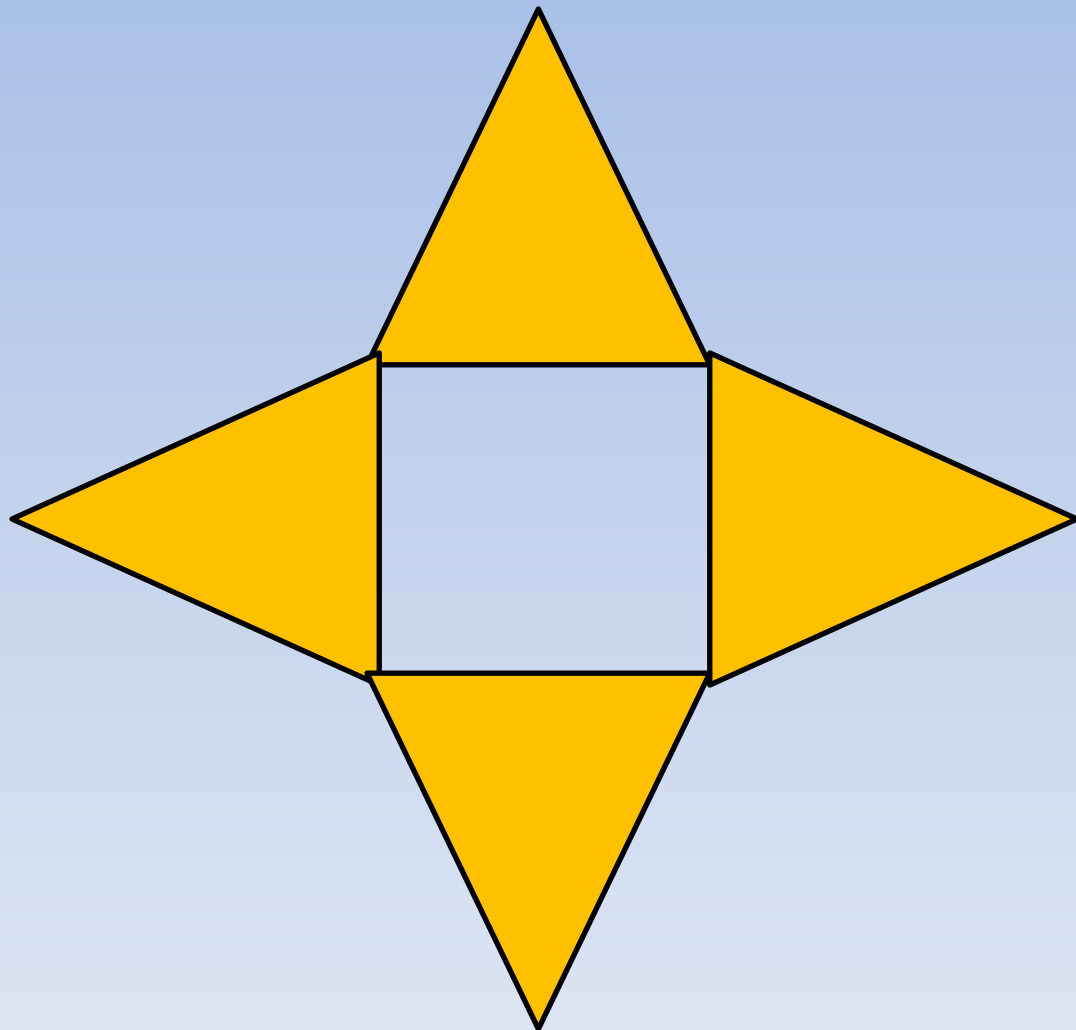
1) $20 - 10 = 10$ (шт.) - во II ящике.

2) $20 + 10 = 30$ (шт.)





Вычислите периметр





**Запишите выражения и
вычислите их значения.**

$$34 - (4 + 6) = 24$$

$$20 + (13 - 7) = 26$$

$$(60 - 40) + 7 = 27$$

$$(30 + 10) - 4 = 36$$

$$90 - (16 - 6) = 80$$





Сравните

величины.




21 см * 2 дм

43 мм * 4 см

60 с * 1 мин



Домашнее задание:





Сегодня я научился...

Было интересно...

Было трудно...



**Нужно было посадить 13 яблонь
и 7 груш. Посадили 5 деревьев.
Сколько деревьев осталось
посадить?**



1) $13+7=20$ (д.)

2) $20-5=15$ (д.)

$(13+7)-5=15$ (д.)

Ответ: 15

деревьев.

Составьте задачу. Запишите решение

ОДНИМ ЧИСЛОВЫМ ВЫРАЖЕНИЕМ.

Было -?

**Заплатили – 6р. и
2р.**

Осталось – 15р.

