

Сьогодні
04.05.2023

Урок
№ 11

6

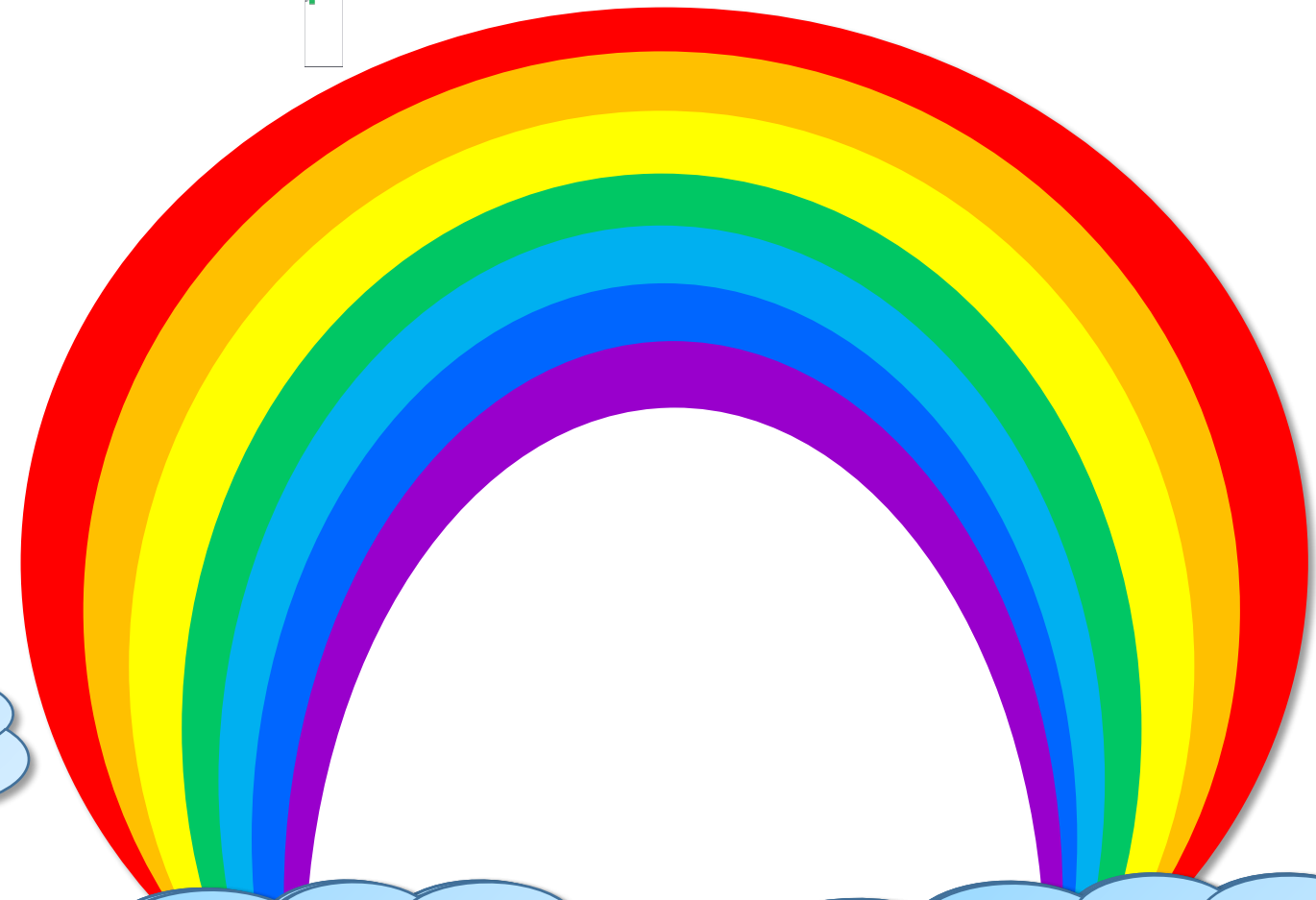


**Додавання виду $45 + 3$
(ознайомлення).**

**Знаходження невідомого доданка.
Аналіз умови задачі.**




Обчисли
вирази.
Намалюй
веселку.



$$100 - 100 = 0$$

$$90 + 10 = 100$$



34

67

80

5

14

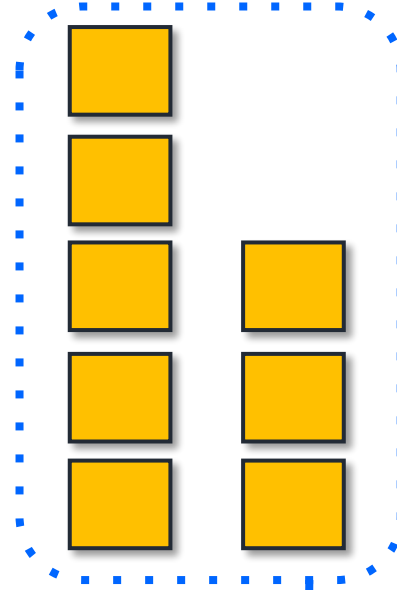
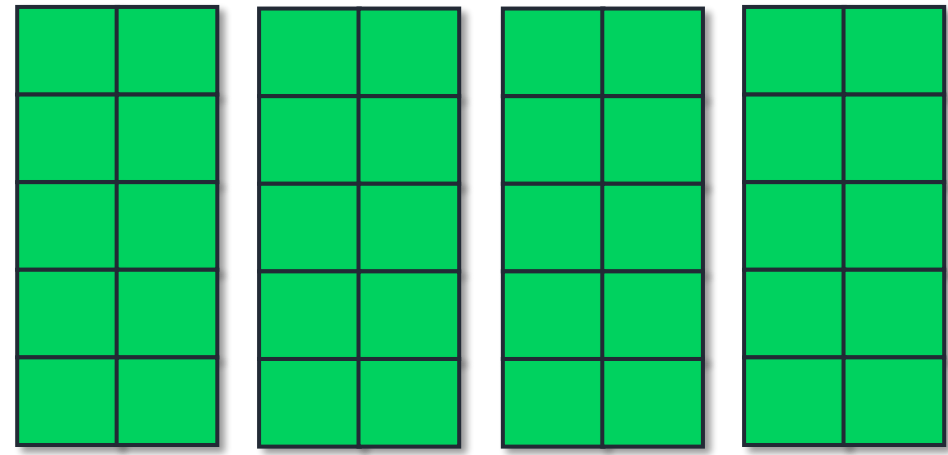
91

28

Знайдіть тепер зайве число. Назвіть у порядку зростання числа, що залишилися.



45



$5 + 3 = 8$

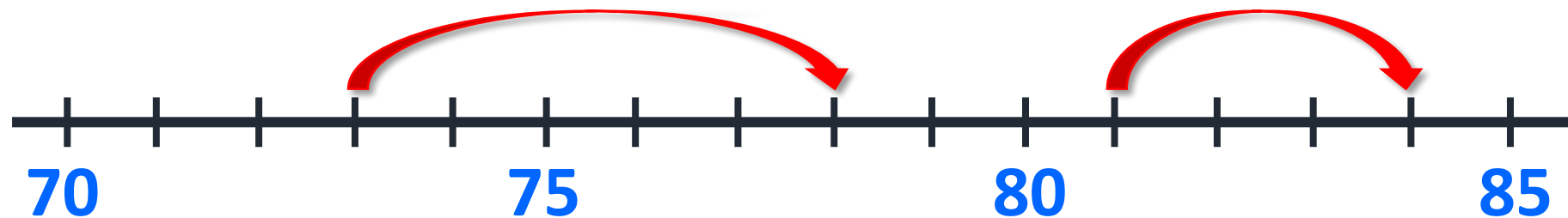
Одиниці додаємо до одиниць.

48

$45 + 3 = 48$

Сьогодні
04.05.2023

Робота з підручником. Дії з десятками



$$73 + 5 = 78$$

$$81 + 3 = 84$$

Обчисли,
скориставшись
числовою прямою.

Сьогодні
04.05.2023

Робота з підручником. Обчислення виразів

Обчисли.



$$4 + 3 = 7$$

$$5 + 4 = 9$$

$$14 + 3 = 17$$

$$15 + 4 = 19$$

$$54 + 3 = 57$$

$$65 + 4 = 69$$

$$94 + 3 = 97$$

$$84 + 4 = 88$$

Сьогодні
04.05.2023

Робота з підручником. Обчислення виразів

Обчисли.



$$6 + 2 = 8$$

$$1 + 8 = 9$$

$$26 + 2 = 28$$

$$11 + 8 = 19$$

$$66 + 2 = 68$$

$$31 + 8 = 39$$

$$36 + 2 = 38$$

$$71 + 8 = 78$$

Розв'яжи задачу,
скориставшись
підказкою.



- ❖ Десять кроликів граються в хованки.
Скільки кроликів уже сховалося?



$$\boxed{6} + 4 = 10$$

Сьогодні
04.05.2023

**Робота у зошиті
(сторінка 41).**



- Обчисли за зразком.

$$25 + 2 = 20 + 5 + 2 = 20 + 7 = \boxed{27} \boxed{} \boxed{} \boxed{}$$

$$62 + 5 = 60 + 2 + 5 = 60 + \boxed{7} = \boxed{67} \boxed{} \boxed{} \boxed{}$$

$$76 + 3 = 70 + 6 + 3 = \boxed{70} + \boxed{9} = \boxed{79} \boxed{} \boxed{} \boxed{}$$

$$44 + 4 = 40 + \boxed{4} + \boxed{4} = \boxed{40} + \boxed{8} = \boxed{48} \boxed{} \boxed{}$$

$$37 + 2 = \boxed{30} + \boxed{7} + \boxed{2} = \boxed{30} + \boxed{9} = \boxed{39} \boxed{}$$



- Обчисли.



$$4 + 5 = 9$$

$$3 + 4 = 7$$

$$1 + 7 = 8$$

$$14 + 5 = 19$$

$$23 + 4 = 27$$

$$61 + 7 = 68$$

$$54 + 5 = 59$$

$$93 + 4 = 97$$

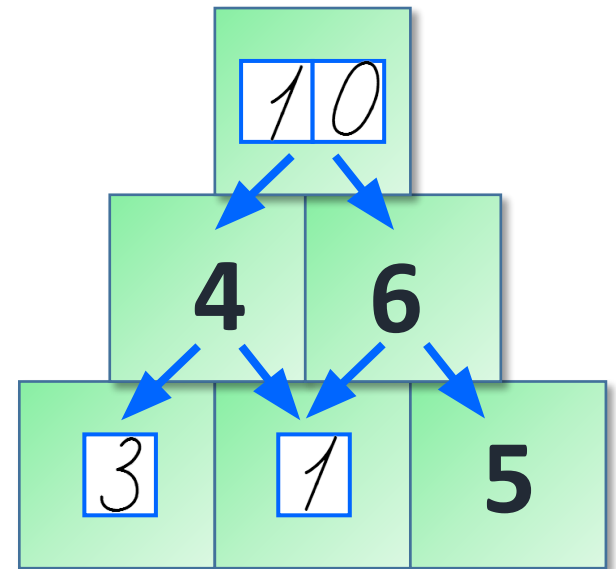
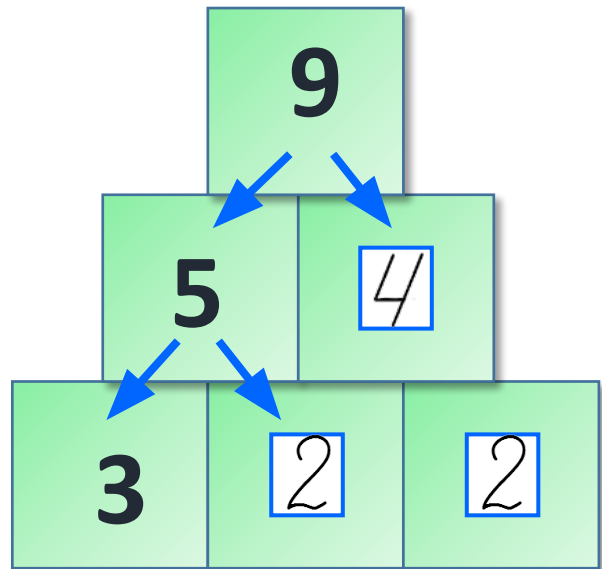
$$21 + 7 = 28$$

$$94 + 5 = 99$$

$$63 + 4 = 67$$

$$81 + 7 = 88$$

- Запиши пропущені числа.





Що в задачі відоме, а що – невідоме? Підкресли правильну відповідь у таблиці. Розв'яжи задачу.

- У їжачка 3 яблука, а грушок – на 4 більше.
- Скільки грушок у їжачка?


Що відоме?	<u>Кількість яблук</u>
Що невідоме?	<u>Кількість грушок</u>
Яке число менше?	<u>Грушок.</u> Шукане.

$$3 + 4 = 7 \text{ (гр.)}$$

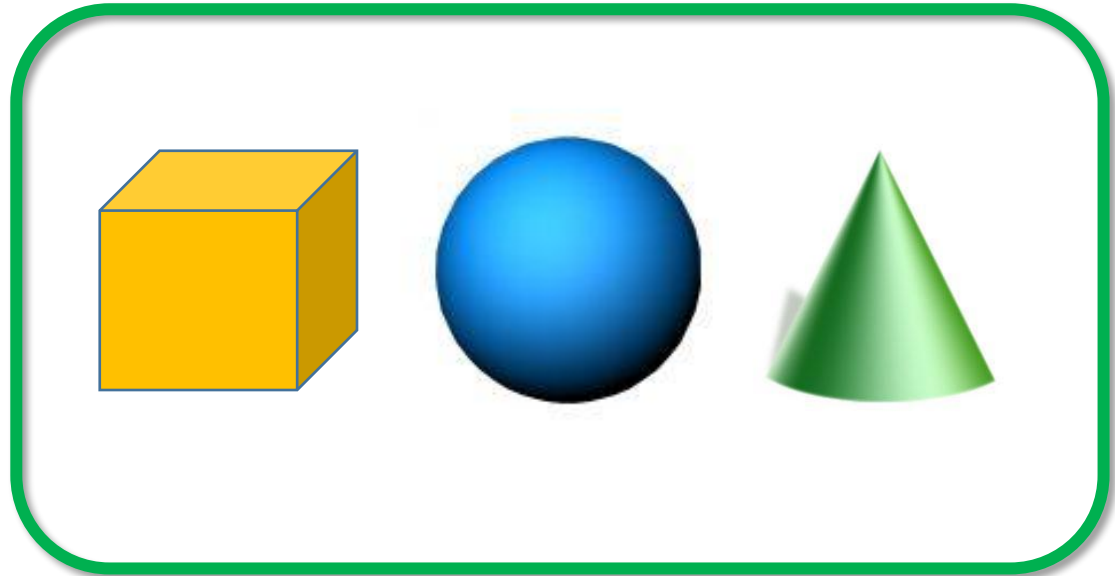
Відповідь 7 грушок у їжачка.

:

❖ Як поділити фігури на дві групи?



Плоскі фігури



Об'ємні фігури




**В небі ластівка летить,
З вітром листя
шелестить,
Воду п'є лелека.
Сонце палить. Спека.
Дозріває жито.
Яка пора?**

Літо



Розшифровка та розгадування прикладів

	11
	2
	30
	4
	62
	8

$$\text{Sun} + \text{Ice cream} = 13$$

$$\text{Ice cream} + \text{Sandcastle} = 19$$

$$\text{Crab} + \text{Sun} = 32$$

$$\text{Red bucket} + \text{Sailboat} = 66$$

$$\text{Red bucket} + \text{Ice cream} = 15$$

Сьогодні
04.05.2023

(щоби відкрити інтерактивне завдання, натисніть на помаранчевий прямокутник)

**Відкрити онлайнове
інтерактивне завдання**