


Сьогодні
01.12.2022

Урок
№ 64

Всім.pptx
Нова українська школа



Розрядні доданки. Складені сюжетні задачі.



Усний рахунок. Гра «Листопад»



Усний рахунок. Гра «Листопад»




Усний рахунок. Гра «Листопад»



СЬОГОДН
01.12.2022

Усний рахунок. Гра «Листопад»





2 грудня
Класна робота

5 2 3

5 2 3

5 2 3

5 2 3

5 2 3

5 2 3

Запиши каліграфічно число, яке
складається з 5 сотень, 2 десятків і 3
одиниць.

СЬОГОДН
01.12.2022

Запиши число, у якому:

4 с. 7 д. і 2 од.

6 с. і 2 д.

3 с. і 8

9 с. 3 д. і 8

9 с. і 4 д.

од.
7 с. і 5

од.

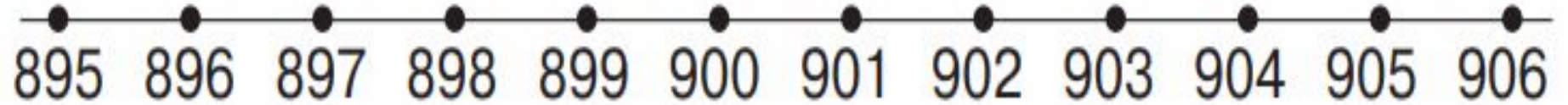
од.

Завдання 570

472

СЬОГДН
01.12.2022

Усно. Назви числа від 897 до 905.



897

898

899

900

901

902

903

904

905

Сьогодні
01.12.2022

Запиши всі числа, що розміщені між числами 457 і 462.

457

Завдання 572

Підручник.
Завдання

572

Підручник.
Сторінка
а

102



СЬОГОДН
01.12.2022

Знайди значення виразів..



$$100 + 30 + 1$$

$$500 + 20 + 7$$

$$40 + 3$$

$$400 + 3$$

СЬОГДН
01.12.2022

Знайди значення виразів..



$80 + 1$

$800 + 1$

$600 + 30$

$600 + 3$

Знайди значення виразів.

Вирази 5 7 4

$$70 - 35 : 5 =$$

$$5 \cdot (15 : 5) =$$

$$48 : 8 - 5 =$$

$$64 + 9 \cdot 4 =$$



Сьогодні
01.12.2022

На картках, що стоять у ящиках, записані розрядні числа — сотні, десятки, одиниці.



Який колір картки позначає
розряд сотень? розряд десятків?
розряд одиниць?

Сьогодні
01.12.2022

Кожна дитина взяла три будь-які картки.
Розглянь малюнки й визнач, яке число
утворилось
у кожного. Запиши ці числа.



3 с.

7 од.

50 д.

Ілон
а

Завдання 5 6 2

3 1 2



Сьогодні
01.12.2022

Кожна дитина взяла три будь-які картки.
Розглянь малюнки й визнач, яке число
утворилось
у кожного. Запиши ці числа.



7 д.

3 с.

1 д.

Тара
с

Сьогодні
01.12.2022

Кожна дитина взяла три будь-які картки.
Розглянь малюнки й визнач, яке число
утворилось
у кожного. Запиши ці числа.



3 с.

4 с.

1 с.

Ян
а

Сьогодні
01.12.2022

Кожна дитина взяла три будь-які картки.
Розглянь малюнки й визнач, яке число
утворилось
у кожного. Запиши ці числа.



5 с.

7 д.

90 д.

Вікторі
Я

Сьогодні
01.12.2022

Кожна дитина взяла три будь-які картки.
Розглянь малюнки й визнач, яке число
утворилось
у кожного. Запиши ці числа.



8 д.

20 д.

30 д.

Павл
о

Сьогодні
01.12.2022

Кожна дитина взяла три будь-які картки.
Розглянь малюнки й визнач, яке число
утворилось
у кожного. Запиши ці числа.



50д.

4 с.

2 д.

Андрі
й




VIDEO



ЗНОБОРІО
ДО ДІТЕЙ

Перший робітник виготовляє 12
деталей
за 3 год, а другий — за 4 год. Хто з
них виготовляє більше деталей за 1



I – 12 д. – 3 год

II – 12 д. – 4 год

на ? більше за 1 год

Задача 575

1) = (д.) - за 1 год виготовляє перший ;

2) = (д.) - за 1 год виготовляє другий.


3) = (д.)

: - : = (д.)

Відповідь: на деталь більше виготовляє перший робітник.

Сьогодні
01.12.2022

Один робітник виготовляє за 1 год 8 деталей, а інший — на 3 деталі більше. Скільки деталей виготовляють два робітники за 1 год, працюючи



I – 8 д.

? д.

II - ? на 3 д. більше



Задача 577

1) = (д.) - другий за 1 год;

2) = (д.)

Відповідь: деталей виготовляють два робітники
за 1 годину.



Сьогодні
01.12.2022

(для відкриття інтерактивного завдання натисніть на помаранчевий прямокутник)

**Відкрити онлайнове
інтерактивне завдання**



**На с. 103 у підручнику,
розв'яжи задачу № 578,
знайди значення
виразів № 579.**

*Короткий запис в
щоденник
С. 103, № 578,
579*



578. За 1 год тато пофарбував 10 м паркану, а син — на 5 м менше. Скільки метрів паркану вони пофарбують за 1 год, якщо працюватимуть разом?

Задача 578

1) (m) — син за 1 год;

2) (m)

$$+ (\quad - \quad) = (m)$$

Відповідь: m паркану пофарбують разом.

Вирази 579

$$500+20+7=$$

$$100+60+3=$$

$$3 \cdot 10 - 5 \cdot 5=$$

$$40:10 + 10=$$

$$18:9 + 18:2=$$

$$13 + 8:8=$$