

Сьогодні
12.04.2023

Урок
№ 10

1



Вартість. Гривня і копійка. Дії з іменованими числами

Сьогодні
12.04.2023

Підготовчі вправи. Гра «Скарбничка»



Сьогодні
12.04.2023

Підготовчі вправи. Гра «Скарбничка»



Назви наступне
число щодо
кожного з чисел:



24 → 25

59 → 60


65 → 66

89 → 90

25 → 26

48 → 49

99 → 100



Хлопчик вирішив сестричці купити ведмедика, що у магазині коштує 37 гривень. Чи вистачить у нього грошей на покупку?

Чи залишаться в Іванка ще гроші?

Чи зможе він собі купити ручку за 4 гривні?

Чи знаєш ти, як називаються українські гроші?
Які монети й купюри ти знаєш?



Коротко
записують:

1 к., 1 грн



Паперові гроші.



Отже, ми визначили, що в магазині предмети купують — за них платять гроші, бо це товари, які мають вартість. Для розрахунку в державі є гроші: паперові та монети. В Україні в обігу є гривні та копійки. Чи знаєте ви, яка з цих величин більша? Скільки копійок в 1 гривні?






**Вартість однієї гривні — 100
копійок:**

1 грн = 100 к.

❖ Визнач вартість кожної покупки.



10 грн




6 грн



Сьогодні
12.04.2023

Робота з підручником. Вартість

❖ Визнач вартість кожної покупки.



Сьогодні
12.04.2023


Робота з підручником. Розв'язування задачі



3 грн



?, на 10 грн
дорожчий



Олівець коштує 3 грн, а
блокнот — на 10 грн
дорожчий.



Яка ціна блокнота?



$$3 \text{ грн} + 10 \text{ грн} = 13 \text{ грн}$$

Відповідь: 13 грн коштує
блокнот

❖ У якій скарбничці найбільше грошей?



4 грн



5 грн



6 грн

Сьогодні
12.04.2023



Назви числа
десятого
десятка.

5	9	5	1	5	6	5	2	9	5	9	7	9	9	1	0	0
---	---	---	---	---	---	---	---	---	---	---	---	---	---	---	---	---

Сьогодні
12.04.2023

Робота у зошиті
(сторінка 32).



- Скільки гривень на кожному малюнку?



8 грн

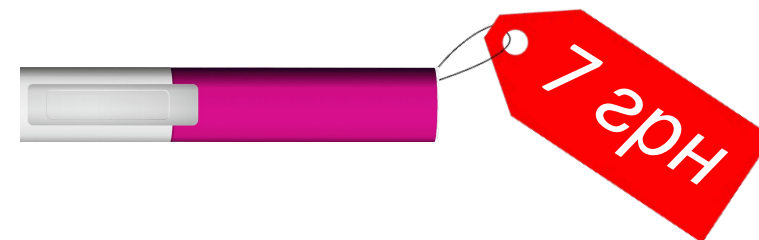


17 грн



15 грн

- Обведи гроші, якими кожна дитина може розрахуватися за покупку маркера.



Максим




Ніна




Ліля



- Температура повітря в Чернігові – 27 градусів, а в Києві – 30 градусів.



Чернігів



Київ

Закріплення вивченого матеріалу. Гроші

- ❖ Скільки гривень у кожному гаманці?
- ❖ У якому гаманці найбільше грошей? У якому найменше?

				9
				6
				31

Закріплення вивченого матеріалу. Гра «Магазин»

❖ Розрахуйся за покупки.



Ціна 14 грн



❖ Розрахуйся за покупки.



Ціна 17 грн



❖ Розрахуйся за покупки.



❖ Розрахуйся за покупки.



Ціна 70 к.



Сьогодні
12.04.2023

(щоби відкрити інтерактивне завдання, натисніть на помаранчевий прямокутник)

**Відкрити онлайнове
інтерактивне завдання**

Сьогодні
12.04.2023

Рефлексія. Вправа «Печиво від совенят»

Найкраще
мені
вдалося...

Я хотів би
дізнатися
про...

Вдома я
розкажу
про...

Сьогодні
на уроці
я
навчився/
навчилася
...



Урок
завершую
з
настроєм
...