

Математика

Сьогодні  
01.02.2023

Урок  
№ 62





**Задачі на визначення,  
«на скільки років  
старший».**

**Обшарпання значення**

Сьогодні  
01.02.2023

# Повторення таблиці додавання та віднімання числа 4



Обчисли. Назви  
від'ємник в кожній  
різниці.



$8 - 3 = 5$

$3 + 2 = 5$

$4 + 4 = 8$

$10 - 3 = 7$

$9 - 6 = 3$

$6 + 3 = 9$

Хлопчики зліпили **10**  
сніжок, а дівчатка –  
на **2** сніжки менше.  
Скільки сніжок  
зліпили дівчатка?



Чому саме її?

$$10 - 2 = 8$$

Яку дію ви  
виконували?

Щоб залити ковзанку,  
дівчатка принесли **4**  
відерця води, а  
хлопчики – на **3** відерця  
більше. Скільки  
відерець води  
принесли хлопчики?



Чому саме її?

$$4 + 3 = 7$$

Яку дію ви  
виконували?



→ Андрійкові 8 років, а його сестричці — 4.

→ На скільки років Андрійко старший від



Визначити «на скільки років старший» — це означає: обчислити, на скільки більше має років.



			8	-	4	=	4			

**Відповідь: на 4 роки старший**





Мама купила 6 бананів та 3 ананаси.



На скільки більше бананів, ніж ананасів, купила мама?

За малюнком склади задачу із запитанням «На скільки більше?».



		6	-	3	=	3				

**Відповідь: на 3 більше.**



Сьогодні  
01.02.2023

## Робота з підручником. Складання нерівностей

$>$   $<$

1, 2, 3, 4, 5



Із числами 1, 2, 3, 4, 5 склади десять нерівностей, використавши знаки  $>$  і  $<$ .




Сьогодні  
01.02.2023

**Робота у зошиті  
(сторінка 3).**



- Напиши за зразком.




2	2	2	2	2	2	2	2	2	2	2
8	8	8	8	8	8	8	8	8	8	8

Сьогодні  
01.02.2023

## Робота у зошиті


- За малюнком склади задачу із запитанням «На скільки більше?». Розв'яжи задачу.



У холодильник поклали 7 груш й 4 лимони.



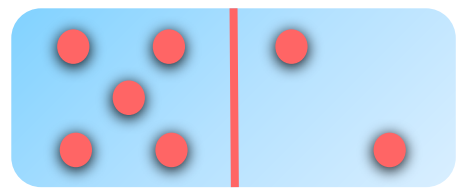
На скільки більше груш, ніж лимонів, поклали у холодильник?



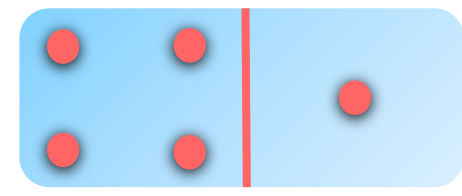
$$7 - 4 = 3$$

**Відповідь: на 3 більше груш.**

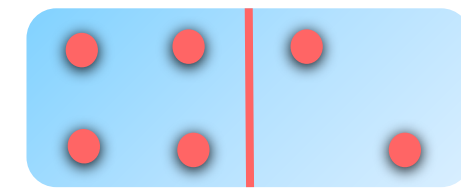
- За малюнками склади вирази на додавання та знайди їх значення.



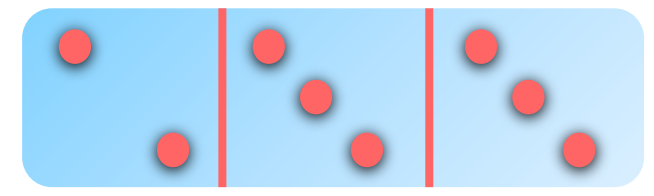
$5 + 2 = 7$



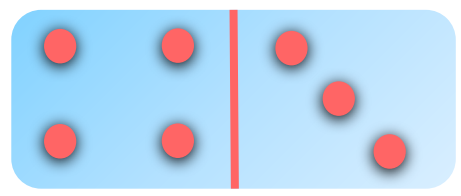
$4 + 1 = 5$



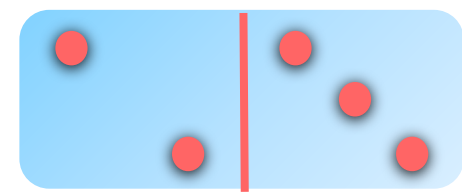
$4 + 2 = 6$



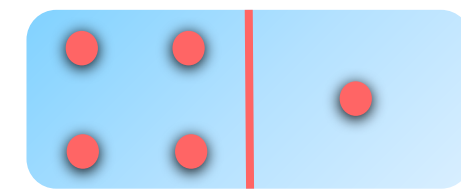
$2 + 3 + 3 = 8$



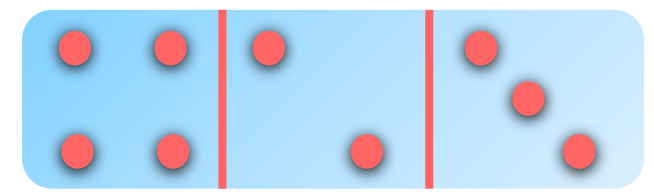
$4 + 3 = 7$



$2 + 3 = 5$



$4 + 1 = 5$




$4 + 2 + 3 = 9$

Сьогодні  
01.02.2023

## Робота у зошиті

- Прочитай задачу.
- Підкресли слова, які визначають **дію**.
- Розв'яжи задачу.



На тарілці лежить 7 бананів, а яблук – на 4 менше.



Скільки яблук лежить на тарілці?



$$7 - 4 = 3$$

Відповідь: 3 яблука.

Сьогодні  
01.02.2023

*(щоби відкрити інтерактивне завдання, натисніть на помаранчевий прямокутник)*

**Відкрити онлайнове  
інтерактивне завдання**

Логічна задача

Сестрі 2 роки, а братові – 5. Скільки років буде сестрі, коли братові виповниться 8 років?

$$1) 8 - 5 = 3$$

$$2) 2 + 3 = 5$$

**2 роки**



**5 років**



Брату 5 років, сестрі 8 років. На скільки років сестра буде старша за брата через 10 років?

**1)  $8 - 5 = 3$**



**5 років**



**8 років**

