




# «Умники и умницы»

## Игра-викторина




Подготовила: Кравченко Дарья  
Ученица 10 класса



Я веселый Почемучка,  
хочу предложить вам  
интересную игру, которая  
сможет проверить и  
закрепить ваши знания по  
окружающему миру,  
полученные за год.



Ну что, начнем?



# Вопрос №1

Какие листья имеют узорную форму с острыми углами?

- А) дубовые,
- Б) липовые
- В) еловые
- Г) кленовые



# Вопрос №2



С	Н	А	Л	К	О	Д	У	В	А	Н	Ч
Г	У	К	Я	О	Б	А	Б	О	Ч	К	И
Р	Э	Ш	П	Л	Н	Ч	Е	Л	А	А	К
Е	Н	А	У	О	Г	У	С	Е	Н	И	Ж
К	В	М	Ш	К	М	У	Х	А	А	Ц	А
О	Ч	О	К	О	К	О	Н	О	Р	О	В
В	И	Р	А	Ц	Ь	Ц	И	К	Ж	У	К
А	Н	Н	О	Д	О	Р	О	Ж	Н	И	К




# Вопрос №3

Узнай по описанию:

Эта равнина - величайшая в мире. Её поверхность не совсем ровная. Здесь есть низменности, возвышенности, холмы.

- А) Восточно-Европейская равнина
- Б) Западно-Сибирская равнина
- В) Среднесибирское плоскогорье



# Вопрос №3

Самые высокие горы России:


А) Кавказские горы



Б) Уральские горы




В) вулканы Камчатки



# Задание №4



К экологическим проблемам относится:

- А) Спасение тропических лесов;
- Б) Борьба с международным терроризмом;
- В) Борьба с ростом цен;
- Г) Проблема переработки мусора



# Вопрос №5

Изображение какого животного является эмблемой Всемирного фонда дикой природы?






# Вопрос №6

Как переводится название «Гринпис»?

- А) «Зеленый двор»
- Б) «Зеленый мир»
- В) «Зеленый дом»



# Задание №7

Разгадай ребусы:

СЗЖ

40а





1




1, 2, 3



1, 2



1



# Вопрос №8

Какое звено в цепи питания пропущено?



# Вопрос №9

Найди флаг России:



# Вопрос №10

Среди предложенных гербов, найди герб Кемеровской области и герб города Прокопьевска:





Вот и подошла к концу наша игра.  
Ребята, я был очень рад провести  
это время с вами. Вы большие  
молодцы! Желаю вам  
дальнейших успехов в изучении  
окружающего мира.  
Продолжайте в том же духе!

До встречи!  
Ваш друг Почемучка.

