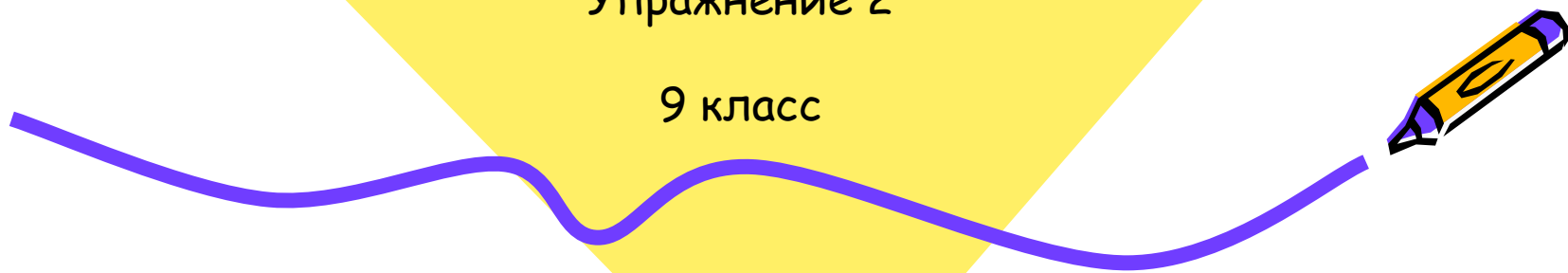




Уравнения и неравенства

Задание для устного счета
Упражнение 2

9 класс



Найдите корень
уравнения:

$$25(4x^3 - 3x^2 + 15x - 1) = 100$$

Правильный ответ: ~~100~~ 5




Найдите подбором корни
уравнения

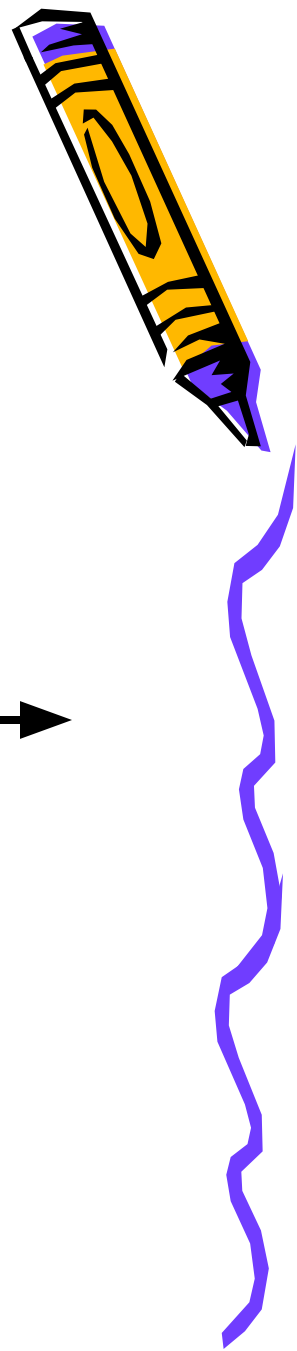
$$x^2 + 8x + 15 = 0$$

Правильный ответ:

~~1; 3; 5; 7; 9~~
-3; -5



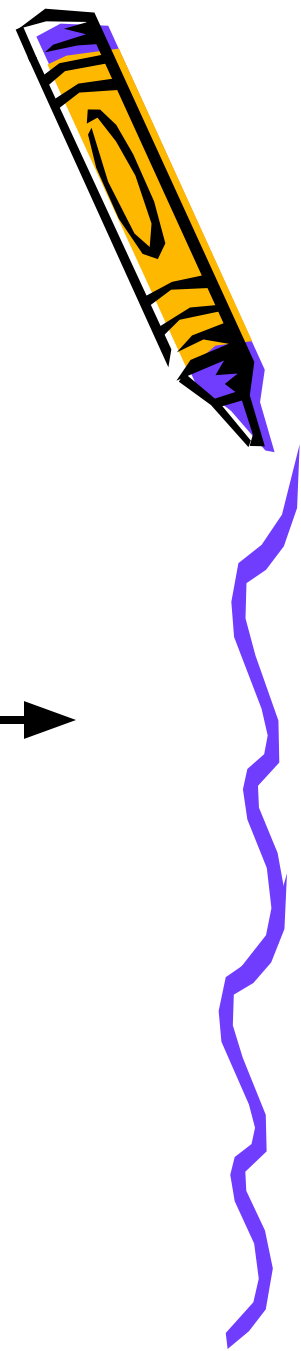
Назовите наименьшее целое число,
принадлежащее данному числовому
промежутку:



Правильный ответ: ~~3~~



Назовите наибольшее целое число,
принадлежащее данному числовому
промежутку:



Правильный ответ: ~~45~~



