

Урок математики в 3 классе



Автор презентации: Кадырова Ольга Игоревна,
Учитель начальных классов МАОУ СОШ №52 города Тюмени
2021

Настрой на урок

Мальчишки вам
желаю на уроке
не ...

Девчонки вам
желаю на уроке
...



7




7×3
7×8
7×2
7×9
7×1
7×5
7×4
7×0
7×6
7×10
7×7

36	?
48	?
14	5
63	5
71	?
45	?
24	?
7	?
42	5
70	5
48	?

21	5
46	?
18	?
72	?
7	5
36	?
29	?
1	?
56	?
27	?
47	?

24	?
56	5
12	?
54	?
17	?
35	5
28	5
0	5
48	?
10	?
49	5

Спрячете от ДОЖДЯ



Лишнее

$49 : 7$

$28 : 4$

$54 : 6$

$70 : 10$

$14 : 2$

$21 : 3$

$35 : 5$

$63 : 9$

$36 : 4$

$42 : 6$



Ребу
с

4 = щ

п

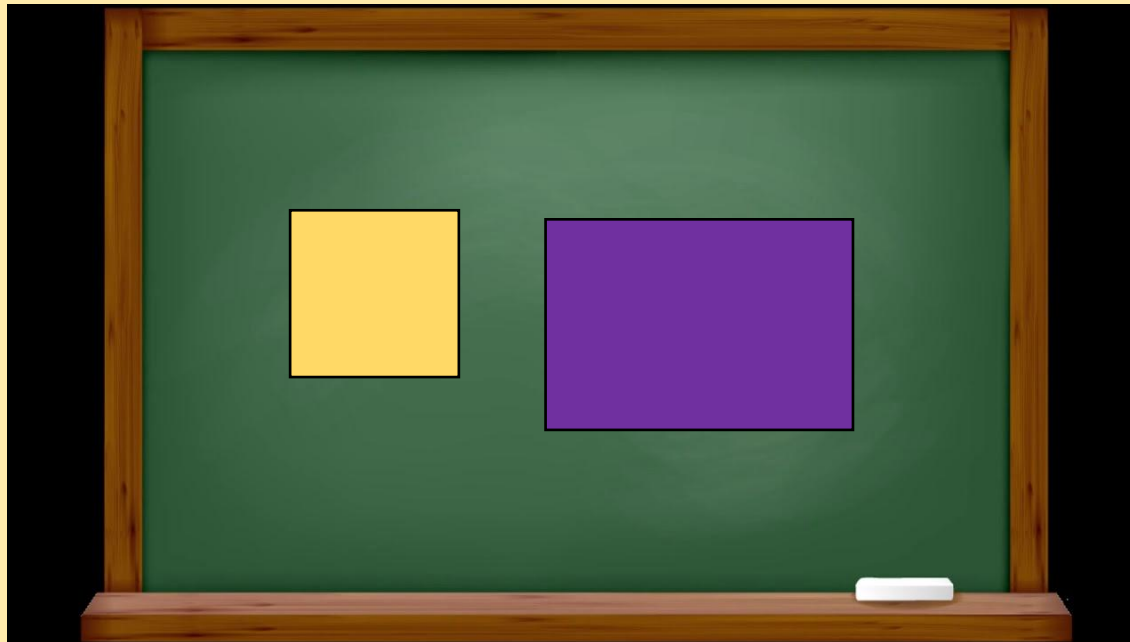


Тема урока

Площадь




Сравни площади



Сравнили на глаз



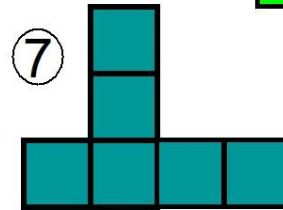
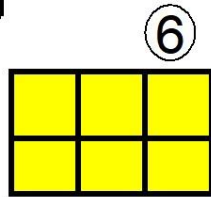
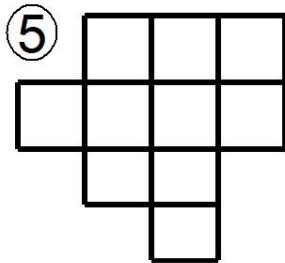



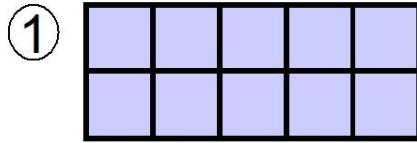
Сравни площади



Сравнили
наложением
фигур



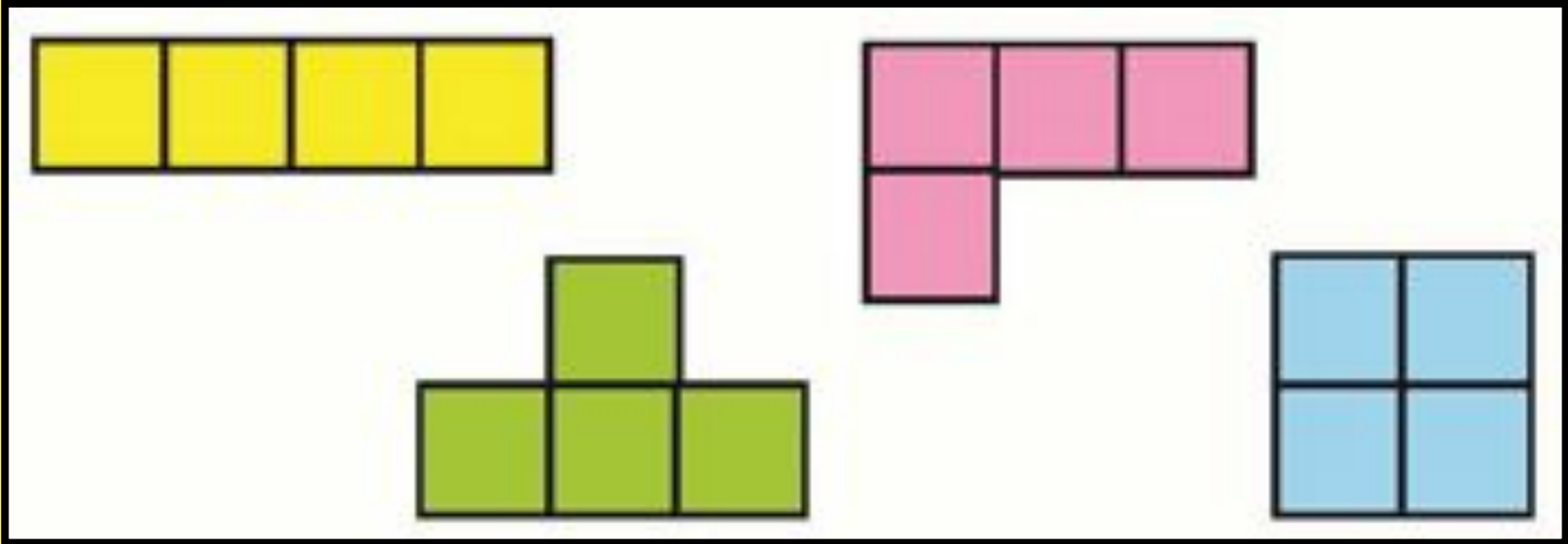
Сравни площади



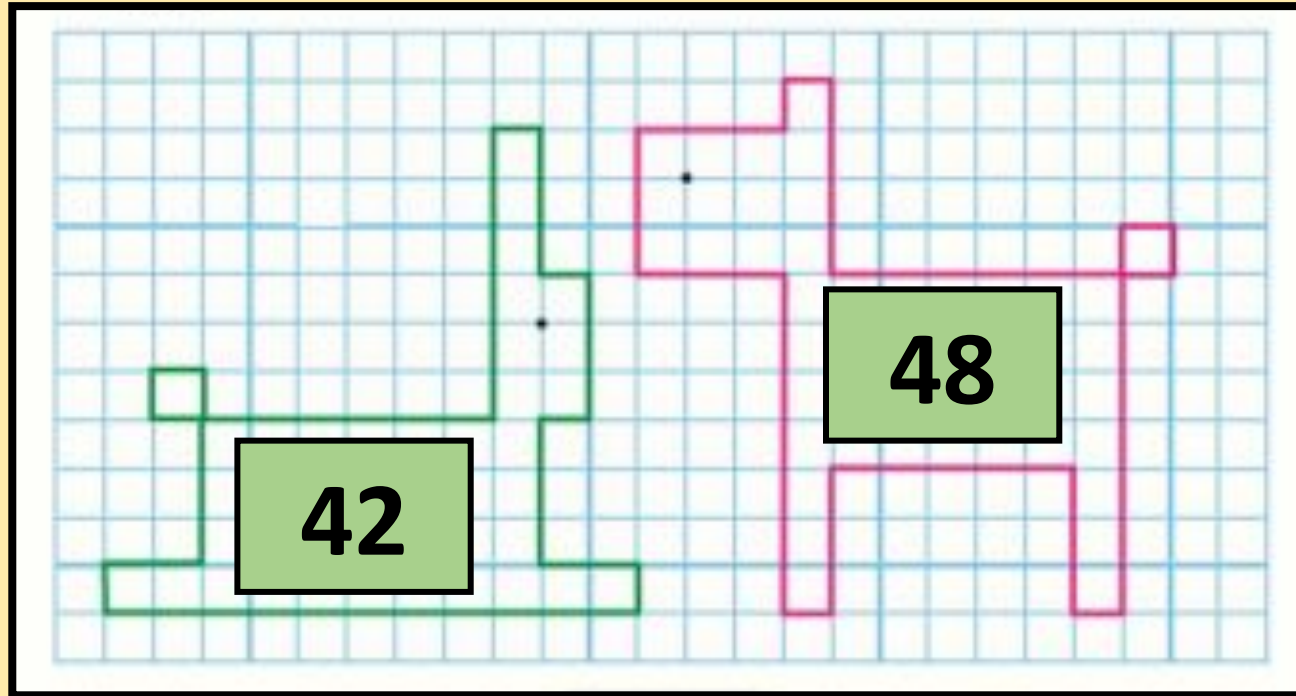
Путём подсчета



Докажи!



Узнай, площадь какой фигуры больше



Задача

Было-
~~Отпилили~~
Осталось

8 м

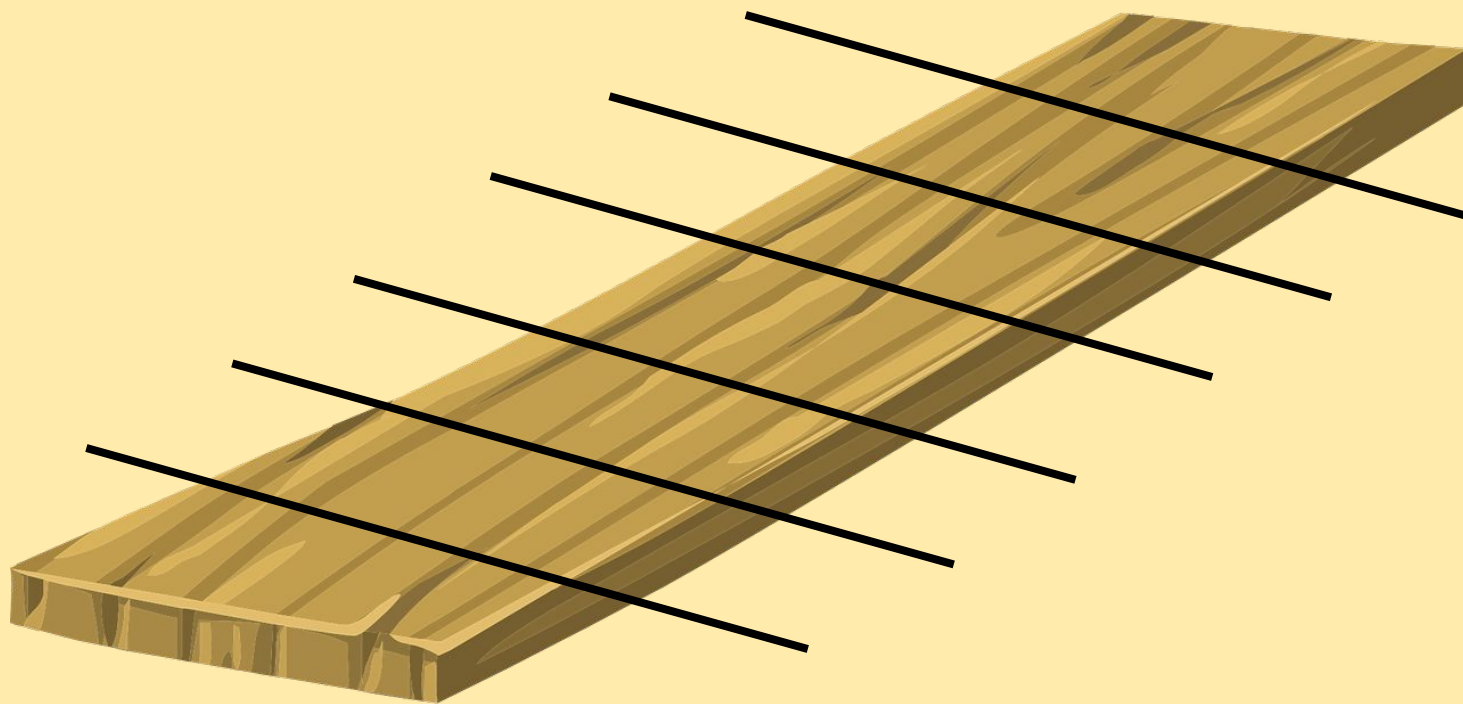
2 м

6 м

во?



Доску разрезали на 7 частей,
сколько разрезов сделали?



Соревнование по рядам

$7 \times 8 = 56$

$6 \times 7 = 42$

$7 \times 5 = 35$

$49 : 7 = 7$

$63 : 9 = 7$

$42 : 6 = 7$

$6 \times 5 - 12 = 18$

$52 - 3 \times 9 = 25$

$8 \times 4 - 15 = 17$

$45 : (18 - 13) = 9$

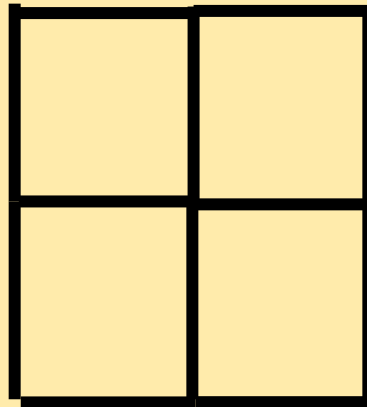
$(27 + 27) : 9 = 6$

$24 : (11 - 7) = 6$



Проверим логику

Убери 2 палочки так, чтоб
получились
2 разных по площади квадратов



Самооценк а



площадь

Итог урока

**Мы сегодня
учились...**

**Эта тема может
пригодится ...**

