

Математический Турнир

СВОЯ ИГРА



Ребусы

История
математик
и

Загадки

Числа
и цифры

Задачи
шутки

100

100

100

100

100

200

200

200

200

200

300

300

300

300

300

400

400

400

400


400

Отгадайте ребус



Категория
«Ребусы»
за 100

Восемь




Отгадайте ребус



**Категория
«Ребусы»
за 200**


Задача



Отгадайте ребус



Категория
«Ребусы»
за 300
Угол




Отгадайте ребус



Категория
«Ребусы»
за 400


Квадрат



Вам крупно повезло!!!

Категория
«История математики»
за 100


Вы получаете 100 баллов!



**Какая мера массы применялась
на Руси для взвешивания мелких,
но дорогих товаров?**

Категория
«История математики»
за 200

Золотник






**Как называется
древнерусская мера
длины, которую вы
видите на картинке?**

Категория

«История математики»

за 300

Косая сажень






**Русский ученый, математик,
поэт и художник, которому
принадлежит знаменитое
высказывание о математике**

Категория

**«История математики»
за 400**


М. В. Ломоносов



У отца 6 сыновей, каждый сын имеет сестру. Сколько детей у этого отца?

Категория
«Загадки»
за 100


Семь



Я села в автобус на начальной станции и пересчитала пассажиров. Их было 17. Автобус тронулся, затем остановился. На первой остановке вошло 6 человек, вышло 2 человека. На следующей остановке вошло 10 человек, никто не вышел. Потом на остановке вошло 4 человека и вышло 7. А потом на остановке гражданин один вошел, с целой кучей обновок ... Сколько было остановок?

Категория
«Загадки»
за 200


Пять



**Как записать «двойку» тремя
«пятерками»?**

**Категория
«Загадки»
за 300**

$(5+5):5$




**Чтобы найти пиратский клад надо
пройти от старого дуба 12 шагов на
север и 5 шагов на юг, затем 4 на север
и 11 на юг. Где зарыт клад?**

**Категория
«Загадки»
за 400**



У старого дуба




Расшифруйте слово



Категория
«Числа и цифры»
за 100

Штрих




Расшифруйте слово



Категория
«Числа и цифры»

за 200


Заколка



**Сумма и произведение каких
трех чисел одинаковы?**

Категория
«Числа и цифры»
за 300

1,2,3




Что больше произведение
всех цифр или их сумма?

Категория

«Числа и цифры»

за 400

Сумма



Крышка стола имеет 4 угла.

Один отпилили.


Сколько углов стало у стола?

Категория

«Задачи шутки»

за 100


5 углов



60 листов книги имеют толщину
1 см. Какова толщина всех листов
книги, если в ней 240 страниц?

Категория
«Задачи-шутки»
за 200


2 см



**К 7 прибавить 5. Как правильно
записать: «одиннадцать» или
«адиннадцать»?**

**Категория
«Задачи-шутки»
за 300**

Двенадцать



**Кто окажется тяжелее первый
людоед, который весил 48 кг и
съел на ужин второго, или второй,
который весил 52 кг и съел на
ужин первого?**

Категория
«Задачи шутки»
за 400

Одинаково

