

Экономика

Экономика - понятие

- Какой смысл обществоведы вкладывают в понятие «производитель»? Привлекая знания обществоведческого курса, составьте два предложения, содержащих информацию о производителе.

Факторы производства

- Найдите в приведенном списке примеры, относящиеся к земле как фактору производства, и запишите цифры, под которыми они указаны.
- 1) денежные средства
- 2) участок пашни
- 3) залежи нефти
- 4) станки и оборудование
- 5) лесной массив
- 6) здания, сооружения

- Назовите и проиллюстрируйте конкретными примерами любые три фактора, определяющие существенные различия в уровнях заработной платы работников.

- Какой смысл обществоведы вкладывают в понятие «факторы производства»? Привлекая знания обществоведческого курса, составьте два предложения: одно предложение, содержащее информацию об основных факторах производства, и одно предложение, раскрывающее ограниченность любого фактора производства.

- Выберите понятие, которое является обобщающим для остальных понятий представленного ниже ряда, и запишите цифру, под которым оно указано.
- 1) Земля; 2) труд; 3) факторы производства; 4) капитал; 5) предпринимательские способности.

ВИДЫ ФАКТОРОВ ПРОИЗВОДСТВА

Труд

...

СУЩНОСТЬ

Деятельность людей по производству товаров и услуг путём использования их умственных и физических способностей, полученных в процессе обучения и работы знаний и навыков

Все виды природных ресурсов, имеющихся на планете и пригодных для производства экономических благ

ФАКТОРЫ ПРОИЗВОДСТВА

Предпринимательские
способности

...

ХАРАКТЕРИСТИКИ

Инициативная новаторская деятельность,
готовность к ведению дела в условиях риска
Использование физических и умственных
способностей людей

- ФАКТОР ПРОИЗВОДСТВА
- ХАРАКТЕРИСТИКА
- Труд
- Использование в процессе производства товаров и услуг физических и умственных способностей людей

- ...
- Денежные средства, знания, сооружения, оборудование, используемое при производстве товаров, услуг

Типы экономических систем

Установите соответствие между необходимыми условиями функционирования и типами экономической системы: к каждой позиции первого столбца подберите соответствующую позицию из второго столбца.

УСЛОВИЯ ФУНКЦИОНИРОВАНИЯ ТИПЫ ЭКОНОМИЧЕСКОЙ СИСТЕМЫ

А) преобладание (господство) государственной собственности 1) командно-административная

Б) свободное ценообразование 2) рыночная

В) контроль государства за производством и распределением

Г) экономическая самостоятельность производителей

Д) конкуренция производителей

Е) централизованное планирование производства

- Вам поручено подготовить развернутый ответ по теме «Экономические системы». Составьте план, в соответствии с которым вы будете освещать эту тему. План должен содержать не менее трех пунктов, из которых два или более детализированы в подпунктах.

- Государство Z переживает экономический подъём. Промышленность в своём развитии опережает сельское хозяйство. Законом установлено господство государственной собственности. Какая экономическая система существует в государстве Z? По какому признаку Вы это установили? Назовите любые два иных признака этой экономической системы

- Экономика страны Z основана на крупном машинном производстве, в ней доминирует тяжёлая промышленность. Какие иные признаки подтверждают наличие в стране Z рыночной экономики? Запишите цифры, под которыми они указаны.
- 1) конкуренция производителей
- 2) свободное ценообразование
- 3) гарантия свободы частной хозяйственной инициативы
- 4) необходимость решать проблему ограниченности ресурсов
- 5) директивное распределение производственных ресурсов
- 6) стабильность доходов населения

- В структуре экономики страны Z в равной мере представлены промышленность и сельское хозяйство. Какие признаки позволяют сделать вывод о том, что в стране Z командная (плановая) экономика? Запишите цифры, под которыми они указаны.
- 1) преобладание интенсивных факторов экономического роста
- 2) директивное ценообразование
- 3) государственная собственность на большинство средств производства
- 4) развитая инфраструктура
- 5) необходимость решать проблему ограниченности ресурсов
- 6) централизованное управление экономикой

Рыночная экономика

Выберите из предлагаемого списка слова, которые необходимо вставить на место пропусков.

«В современной экономике действуют три главных _____ (1): производители экономического продукта, его потребители и _____ (2). Между ними происходит весьма интенсивный _____ (3) товарами, услугами, денежными средствами, информацией. Государство обеспечивает определённую упорядоченность экономических процессов, их правовое _____ (4), защиту прав и интересов отдельных участников экономических отношений. В то же время государство выступает как весьма крупный _____ (5) товаров, услуг, информации. В то же время государство является _____ (6), оно приобретает у производителей военную технику для армии, продукты питания для государственных запасов, компьютерную технику для государственных органов и учреждений».

А) Производитель Б) обмен В) объект Г) государство Д) предложение Е) субъект
Ж) регулирование З) спрос И) потребитель

- Найдите в приведенном ниже списке рычаги правового регулирования рынка со стороны государства. Запишите цифры, под которыми они указаны.
- 1) принятие законов в поддержку «малого бизнеса»
- 2) принятие антимонопольного законодательства
- 3) выдача субсидий малым предприятиям
- 4) установление нормы обязательного банковского резерва
- 5) подготовка экономистов в государственных вузах

- *В приведённом ниже ряду найдите понятие, которое является обобщающим для всех остальных представленных понятий. Запишите это слово (словосочетание).*
- *Равновесная цена, спрос, предложение, рынок, конкуренция.*

«Важное значение в экономических процессах играет так называемый закон спроса. Действие этого закона полнее всего проявляется в рыночной экономике свободной _____ (1). _____ (2) определяется экономистами как общее количество товара, которое _____ (3) в каждый конкретный момент времени желают, готовы и имеют денежную возможность приобрести по определённым ценам. Этот закон означает, что при равных прочих условиях объем спроса уменьшается по мере увеличения _____ (4). Надо, однако, отметить, что изменение цены и изменение спроса на _____ (5) не находятся в прямой пропорциональной зависимости. В рыночной экономике существует ещё много факторов, влияющих на _____ (6) цены и спроса».

А) цена Б) потребитель В) производитель Г) спрос Д) производство
Е) конкуренция Ж) товар З) стоимость И) соотношение

- Проиллюстрируйте тремя примерами влияние конкуренции на развитие производства.

- В городке Z электроэнергию, отопление, подачу воды в дома жителей осуществляет только одна компания.
- Выберите из приведённого ниже списка характеристики данного рынка и запишите цифры, под которыми они указаны.
 - 1) рынок средств производства
 - 2) чистая конкуренция
 - 3) местный рынок
 - 4) рыночный дефицит
 - 5) монополия

В городке Z поставку продуктов питания в магазины осуществляет множество компаний, в число которых входят как крупные производители, так и отдельные фермерские хозяйства.

Выберите из приведённого ниже списка характеристики данного рынка и запишите цифры, под которыми они указаны.

1) рынок товаров и услуг

2) избыток продукции

3) местный рынок

4) рынок информации

5) чистая конкуренция

6) олигополия

- Ниже приведён ряд терминов. Все они, за исключением двух, относятся к понятию «рыночная экономика».
- 1) Государственный план; 2) свобода потребителя; 3) предприниматель; 4) директивные цены; 5) спрос; 6) равновесная цена.
- Найдите два термина, «выпадающих» из общего ряда, и запишите в таблицу цифры, под которыми они указаны.

- Найдите в приведённом списке факторы, влияющие на повышение спроса на потребительские товары. Запишите цифры, под которыми они указаны.
 - 1) увеличение доходов семей
 - 2) повышение налога на добавленную стоимость
 - 3) снижение производства товаров
 - 4) снижение цен на товары
 - 5) интенсивная реклама товаров
 - 6) удорожание потребительских кредитов

- В выступлении главы современного индустриального государства с рыночной экономикой перед правительством и парламентом прозвучало требование создать условия для ускорения экономического роста в стране. Используя обществоведческие знания, укажите любые три меры, которые может предпринять государство в этом направлении, и кратко поясните влияние каждой из них на рост экономики страны.

- Какой смысл обществоведы вкладывают в понятие «рыночная конкуренция»? Привлекая знания обществоведческого курса, составьте два предложения, содержащие информацию о рыночной конкуренции.

- Вам поручено подготовить развёрнутый ответ по теме «Рынок и рыночный механизм». Составьте план, в соответствии с которым Вы будете освещать эту тему. План должен содержать не менее трёх пунктов, из которых два или более детализированы в подпунктах.

- Рынок мобильной связи области Z контролируется одной крупной компанией, другие производители не представлены. Выберите из приведённого ниже списка характеристики данного рынка и запишите цифры, под которыми они указаны.
- 1) рынок средств производства
- 2) совершенная (чистая) конкуренция
- 3) региональный рынок
- 4) рынок услуг
- 5) монополия
- 6) рыночный дефицит

Затраты

Виды издержек фирмы

Постоянные

...

Их сущность

Издержки, размер которых не зависит от объема производства.

Издержки, которые возрастают с увеличением объёма производства и снижаются при его сокращении.

- Ниже приведён перечень примеров. Все они, за исключением двух, являются переменными издержками в краткосрочном периоде.
- 1) плата за сырьё; 2) оклады администрации; 3) проценты за кредит банку; 4) плата за электроэнергию; 5) оплата транспортных услуг; 6) сдельная зарплата рабочих.
- Найдите два примера, «выпадающих» из общего ряда, и запишите в таблицу цифры, под которыми они указаны.

- Салон красоты оказывает парикмахерские услуги клиентам. Что относится к постоянным издержкам фирмы?
- 1) ежемесячные премии парикмахерам
- 2) плата за аренду помещения салона
- 3) приобретение косметических средств
- 4) оплата коммунальных услуг
- 5) заработная плата управляющего

- Фирма Y – салон красоты. Найдите в приведённом ниже списке примеры переменных издержек фирмы Y в краткосрочном периоде и запишите цифры, под которыми они указаны.
- 1)
- арендная плата за помещение салона
- 2)
- издержки на приобретение шампуней, красок для волос
- 3)
- издержки на уплату процентов по ранее взятому кредиту
- 4)
- оплата электроэнергии
- 5)
- издержки на выплату сдельной заработной платы работников
- 6)
- издержки на выплату окладов администрации

Верны ли следующие суждения о постоянных издержках фирмы в краткосрочном периоде?

- А. Постоянные издержки зависят от объёма произведённой фирмой продукции.
- Б. К постоянным издержкам фирмы относят страховые взносы, арендную плату, оплату охраны помещения.
- 1) верно только А
- 2) верно только Б
- 3) верны оба суждения
- 4) оба суждения неверны

- телье специализируется на пошиве вечерних платьев и костюмов.
- Найдите в приведённом списке примеры переменных издержек ателье в краткосрочном периоде и запишите цифры, под которыми они указаны.
- 1) оклад главного бухгалтера
- 2) оплата электроэнергии
- 3) сдельная оплата труда мастеров
- 4) арендная плата за помещение
- 5) приобретение тканей, фурнитуры
- 6) выплата процентов по кредитам

- Установите соответствие между примерами и видами издержек фирмы в краткосрочном периоде: к каждой позиции, данной в первом столбце, подберите соответствующую позицию из второго столбца.

-
- ПРИМЕРЫ ПЕРИОДЕ
- ВИДЫ ИЗДЕРЖЕК ФИРМЫ В КРАТКОСРОЧНОМ

- А) оплата электроэнергии 1) постоянные
- Б) транспортные расходы 2) переменные
- В) арендная плата за помещение
- Г) оклады администрации
- Д) выплата процентов по ранее взятому кредиту

-

Финансовые институты

- Центральный банк
 - 1) принимает вклады граждан
 - 2) выдает ипотечные кредиты
 - 3) осуществляет эмиссию денег
 - 4) утверждает законы, регулирующие экономическую деятельность
 - 5) Предоставляет кредиты коммерческим банкам

Центральный банк, в отличие от коммерческих банков,

- 1) осуществляет финансовые операции
- 2) производит эмиссию денег
- 3) участвует в торгах на валютной бирже
- 4) работает с вкладами граждан и фирм
- 5) является казначеем правительства

- Банк Z расположен в деловом районе столицы государства. По каким признакам можно установить, что Z – центральный банк? Запишите цифры, под которыми указаны эти признаки.
- 1)
- Банк осуществляет эмиссию денег.
- 2)
- Банк осуществляет кредитование физических лиц.
- 3)
- Банк привлекает на депозиты средства граждан и фирм.
- 4)
- Банк лицензирует деятельность финансовых организаций.
- 5)
- Банк устанавливает учётную ставку процента.
- 6)
- Банк обслуживает расчёты фирм.

- Какое экономическое явление отражается в следующем описании социальной ситуации: «Цены росли так быстро, что официанты меняли их в меню по несколько раз за время обеда. Иногда посетителям ресторанов приходилось платить за еду вдвое больше той цены, которая значилась в меню, когда они только делали заказ»?
- 1)
- инфляция

- 2)
- специализация

- 3)
- деноминация

- 4)
- национализация

- Ниже приведён ряд терминов. Все они, за исключением одного, относятся к названиям видов ценных бумаг.
- Вексель, облигация, акция, дивиденды, чек.
- Найдите и укажите термин, «выпадающий» из общего ряда.

- Какой смысл экономисты вкладывают в понятие «инфляция»? Привлекая знания обществоведческого курса, составьте два предложения, содержащих информацию об инфляции.

- Ниже приведён перечень терминов. Все они, за исключением двух, характеризуют понятие «центральный банк».
- 1) Эмиссия денег; 2) лицензирование финансовых организаций; 3) установление учётной ставки; 4) принятие государственного бюджета; 5) открытие депозитов; 6) обеспечение расчётов правительства.

- Выберите верные суждения о ценных бумагах и запишите цифры, под которыми они указаны.
- 1)
- К ценным бумагам относят акцию, вексель, облигацию.
- 2)
- Различают долевыми и долговыми ценными бумагами.
- 3)
- Реализация ценных бумаг осуществляется на валютном рынке.
- 4)
- Акция – это ценная бумага без установленного срока обращения, являющаяся свидетельством о получении доли в имуществе компании
- и дающая её владельцу право получения части прибыли в виде дивиденда.
- 5)
- Выпуск ценных бумаг называется профицит.

- Для получения дохода гражданин сдал принадлежащий ему участок земли арендаторам. Доход гражданина –
 - 1)
 - дивиденд
 - 2)
 - прибыль
 - 3)
 - рента
 - 4)
 - добавленная стоимость

- Ниже приведён перечень функций, выполняемых банками. Все они,
- за исключением двух, относятся к сфере деятельности коммерческих банков.

- 1) хранение золотовалютного резерва государства; 2) покупка и продажа валюты; 3) продажа дорожных чеков; 4) обслуживание счетов фирм; 5) осуществление монополярной эмиссии денег; 6) открытие и обслуживание депозитов граждан.

- Найдите две функции, «выпадающие» из общего ряда, и запишите в таблицу цифры, под которыми они указаны.

- Нина Васильевна вложила свои сбережения в развитие широко разрекламированной фирмы. В обмен она приобрела ценную бумагу,
- по которой планирует получать дивиденды. Как называется такая ценная бумага?

- 1)
- облигация

- 2)
- вексель

- 3)
- акция

- 4)
- ваучер

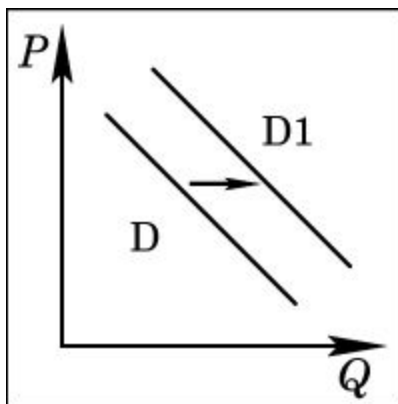
Бизнес

- Что из перечисленного относится к источникам финансирования бизнеса?
- 1) налоговые отчисления
- 2) привлечение инвестиций
- 3) маркетинговое исследование
- 4) оптимизация рабочего места
- 5) прибыль самого предприятия

- Выберите верные суждения об источниках финансирования бизнеса
- и запишите цифры, под которыми они указаны.
- 1) К внутренним источникам финансирования принято относить займы, совершаемые собственником предприятия внутри страны.
- 2) Источники финансирования бизнеса – это пути и каналы поступления денежных средств.
- 3) Источником финансирования бизнеса могут выступать как юридические, так и физические лица.
- 4) Источником внутреннего финансирования являются амортизационные отчисления.
- 5) Внешние источники финансирования бизнеса – это источники поступления денежных средств, которые образованы за счёт результатов предпринимательской деятельности.

Графики

- На рисунке отражена ситуация на рынке товаров для активного отдыха: линия спроса D переместилась в новое положение $D1$ (P – цена товара, Q – количество товара). Это перемещение может быть связано, прежде всего, с (со)

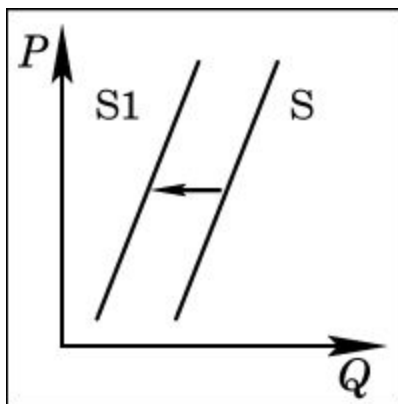


- 1) наступлением сезона отпусков
- 2) повышением цен на товары для отдыха
- 3) снижением доходов потребителей
- 4) уменьшением числа туристических фирм

- На приведенном ниже графике представлены данные об отношении средней и минимальной зарплаты в стране Z к прожиточному минимуму в 2002–2008 гг. Сделайте выводы о соотношении а) минимальной зарплаты с прожиточным минимумом; б) средней зарплаты с прожиточным минимумом в 2002–2008 гг. Объясните, чем опасна сложившаяся в стране Z социально-экономическая ситуация.



- На рисунке отражена ситуация на рынке зерна: линия предложения S переместилась в новое положение S_1 (P – цена товара, Q – количество товара).
- Это перемещение может быть связано, прежде всего, с (со)



- 1) предоставлением производителям зерна налоговых льгот
- 2) снижением цен на топливо и удобрения
- 3) ростом числа хлебопекарных и кондитерских предприятий
- 4) ожиданиями низкого урожая зерна

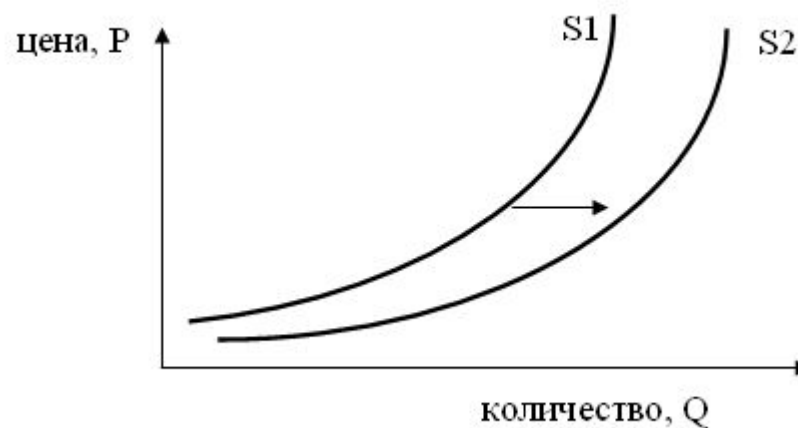
- На графике изображено изменение предложения роликовых коньков на потребительском рынке. Что из приведённого ниже могло вызвать сдвиг кривой предложения из положения S1 в положение S2? (На графике по вертикали – цена товара, по горизонтали – количество товара.)

1) сокращение количества фирм, производящих роликовые коньки

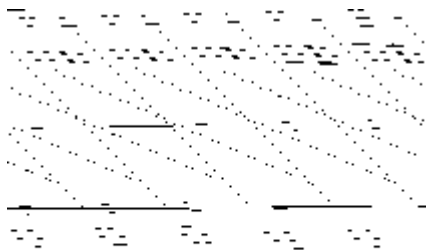
2) внедрение новых технологий производства роликовых коньков

3) рост цен на комплектующие изделия для роликовых коньков

4) рост тарифов на электроэнергию



На рисунке отражена ситуация на рынке страховых услуг (P – цена, Q – количество). Проанализируйте изменение спроса (линия спроса D переместилась в положение D_1).



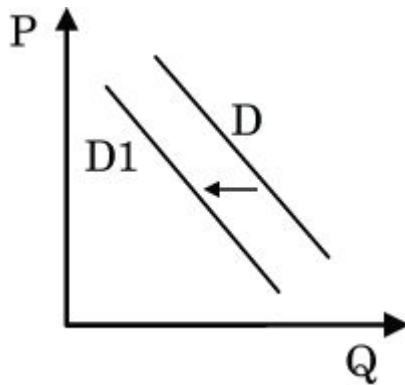
Чем может объясняться подобное изменение?

1) снижением выплат после наступления страховых случаев

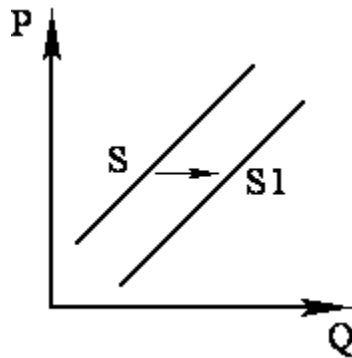
2) повышением доходов потребителей

3) увеличением числа страховых компаний

4) введением обязательного страхования автогражданской ответственности



- На графике отражена ситуация на рынке парикмахерских услуг: линия спроса D переместилась в новое положение – $D1$ (P – цена услуг, Q – количество услуг).
- Это перемещение может быть связано, прежде всего, с
 - 1) увеличением количества салонов красоты
 - 2) модой на сложные причёски у женщин
 - 3) появлением в продаже эффективных средств для самостоятельного ухода за волосами
 - 4) увеличением доходности салонов красоты



На графике отражена ситуация на рынке экзотических фруктов: линия предложения S переместилась в новое положение – $S1$ (P – цена товара, Q – количество товара).

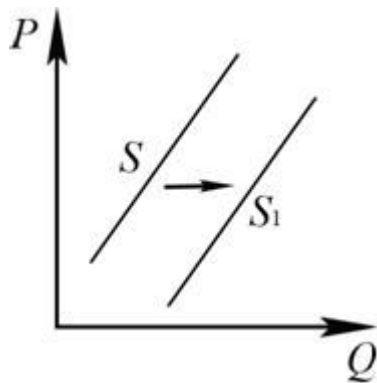
Это перемещение может быть связано, прежде всего, с (со)

1) ростом таможенных пошлин на импорт фруктов

2) высоким урожаем экзотических фруктов

3) повышением тарифов на грузовые перевозки

4) снижением доходов потребителей



На рисунке отражено изменение предложения наручных часов на соответствующем рынке: линия предложения S переместилась в новое положение – S_1 . (P – цена; Q – количество.)

Какие из перечисленных факторов могут вызвать такое изменение? Запишите цифры, под которыми они указаны.

- 1) появление моды пользоваться часами на мобильных устройствах
- 2) рост себестоимости производства наручных часов
- 3) уменьшение налогов, уплачиваемых производителями наручных часов
- 4) увеличение количества продавцов наручных часов
- 5) использование новых высокопроизводительных технологий для производства наручных часов

Собственность

- Проиллюстрируйте тремя примерами теоретическое положение о разнообразии способов получения человеком доходов от собственности. В каждом случае сначала назовите способ получения дохода, а затем – пример.

Издержки

- Фирма Y – салон красоты. Найдите в приведённом ниже списке примеры переменных издержек фирмы Y в краткосрочном периоде и запишите цифры, под которыми они указаны.
- 1) арендная плата за помещение салона
- 2) издержки на приобретение шампуней, красок для волос
- 3) издержки на уплату процентов по ранее взятому кредиту
- 4) оплата электроэнергии
- 5) издержки на выплату сдельной заработной платы работников
- 6) издержки на выплату окладов администрации

Ателье специализируется на пошиве вечерних платьев и костюмов. Найдите в приведённом списке примеры переменных издержек ателье в краткосрочном периоде и запишите цифры, под которыми они указаны.

- 1) оклад главного бухгалтера
- 2) оплата электроэнергии
- 3) сдельная оплата труда мастеров
- 4) арендная плата за помещение
- 5) приобретение тканей, фурнитуры
- 6) выплата процентов по кредитам

- Ниже приведён перечень примеров. Все они, за исключением двух, являются переменными издержками в краткосрочном периоде.
- 1) плата за сырьё; 2) оклады администрации; 3) проценты за кредит банку; 4) плата за электроэнергию; 5) оплата транспортных услуг; 6) сдельная зарплата рабочих.
- Найдите два примера, «выпадающих» из общего ряда, и запишите в таблицу цифры, под которыми они указаны.

Фирма «Пушинка» – ателье, специализирующееся на пошиве школьной формы. Найдите в приведённом списке примеры постоянных издержек фирмы «Пушинка» в краткосрочном периоде и запишите цифры, под которыми они указаны.

- 1) плата за охрану помещения ателье
- 2) издержки на приобретение тканей, ниток, фурнитуры
- 3) взносы по страхованию имущества фирмы
- 4) издержки на погашение процентов по ранее взятому кредиту
- 5) оплата потреблённой электроэнергии
- 6) издержки на выплату сдельной заработной платы работникам

Ценные бумаги

- В приведённом ниже ряду найдите понятие, которое является обобщающим для всех остальных представленных понятий. Запишите это слово (словосочетание).
- *Вексель, облигация, обыкновенная акция, ценная бумага, чек.*

Налоги

- Какой смысл экономисты вкладывают в понятие «налог»? Привлекая знания обществоведческого курса, составьте два предложения, содержащие информацию о налогах.

- Установите соответствие между примерами и видами налогов: к каждой позиции, данной в первом столбце, подберите соответствующую позицию из второго столбца.

-

- ПРИМЕРЫ ВИДЫ НАЛОГОВ

А) подоходный 1) прямые налоги 2) косвенные налоги

Б) с продаж

В) акциз

Г) на наследство

Д) на имущество

Е) на добавленную стоимость

-

Рынок труда. Занятость. Безработица

- Глава государства поставил перед правительством задачу снижения уровня безработицы в стране. Какие из приведённых мер могут способствовать решению этой задачи? Запишите цифры, под которыми они указаны.
- 1) увеличение ставок налогообложения предприятий
- 2) организация бесплатных курсов профессиональной переподготовки
- 3) повышение размера пособий по безработице
- 4) уменьшение экспорта промышленной продукции
- 5) создание новых рабочих мест
- 6) государственная поддержка малого и среднего бизнеса

ВИДЫ

Структурная безработица

... безработица

ХАРАКТЕРИСТИКИ

Возникает в стране в результате научно-технического прогресса, уменьшающего спрос на работников профессий одного вида и увеличивающего спрос на работников профессий другого вида

Вызвана сокращением числа занятых во всех отраслях экономики в условиях экономического спада

ВИДЫ

Фрикционная безработица

... безработица

ХАРАКТЕРИСТИКИ

Существует при любой экономической ситуации в стране: безработному требуется определённое время, чтобы найти полностью устраивающую его работу (должность, оплата, расположение фирмы и др.); отражает свободу продажи людьми своих трудовых услуг
Возникает в стране в результате научно-технического прогресса, сокращающего спрос на работников профессий одного вида и увеличивающего спрос на работников профессий другого вида

- В стране Z сократились потребление и экспорт угля, большинство шахт закрылось, десятки тысяч шахтёров потеряли работу. Выберите из приведённого ниже списка характеристики возникшей безработицы и запишите цифры, под которыми они указаны.
- 1) структурная безработица
- 2) добровольная безработица
- 3) скрытая безработица
- 4) фрикционная безработица
- 5) сезонная безработица
- 6) массовая безработица

- В стране Z в результате модернизации производства сократились потребление и экспорт угля, большинство шахт закрылось, десятки тысяч шахтёров потеряли работу. Они зарегистрировались на бирже труда и получили статус безработных. Выберите из приведённого списка характеристики возникшей в стране Z безработицы и запишите цифры, под которыми они указаны.
- 1) скрытая
- 2) стихийная
- 3) структурная
- 4) массовая
- 5) фрикционная
- 6) сезонная

- Нередко можно услышать мнение, что с безработицей в рамках рыночной экономики государство бороться не должно: она присуща рынку. Сформулируйте собственное мнение по данному вопросу. Приведите два аргумента.

- Прочитайте приведённый ниже текст, в котором пропущен ряд слов.
- Выберите из предлагаемого списка слова, которые необходимо вставить на место пропусков.
- «Рынок труда похож на рынки других _____(1) и услуг. Его особенностью является то, что _____(2) сам определяет, сколько времени он хотел бы работать, а сколько – отдыхать.
- На конкурентных рынках рабочей силы цена _____(3), то есть _____(4) работника устанавливается как конкурентное равновесие предложения и _____(5) по различным категориям работников, по видам работ, по наличию и отсутствию профсоюзов и т.д. Существует множество рынков труда, на которых предлагается труд работников разных _____(6) в разных местностях».
-
- Слова в списке даны в именительном падеже. Каждое слово (словосочетание) может быть использовано только один раз.
- Выбирайте последовательно одно слово за другим, мысленно заполняя каждый пропуск. Обратите внимание на то, что в списке слов больше, чем вам потребуется для заполнения пропусков.
-
- А) зарплата Б) отрасли В) специальности Г) труд Д) спрос Е) взаимодействие Ж) безработица
З) товары И) работник

- Вам поручено подготовить развёрнутый ответ по теме «Рынок труда». Составьте план, в соответствии с которым вы будете освещать эту тему. План должен содержать не менее трёх пунктов, из которых два или более детализированы в подпунктах.

Установите соответствие между примерами и видами безработицы, которые они иллюстрируют: к каждой позиции, данной в первом столбце, подберите соответствующую позицию из второго столбца.

ПРИМЕРЫ

А) в связи с экономическим кризисом фирмы, производящие различные товары и услуги, сократили численность персонала

Б) выпускники творческих вузов ищут работу по специальности, не соглашаясь ни на какую другую

В) в службе занятости безработные отказываются от рабочих вакансий и просят подобрать работу менеджеров

Г) в связи с изменением спроса на энергоресурсы многие шахты закрылись, а шахтеры остались без работы

Д) полгода жители городка на морском побережье обслуживают туристов, а в остальное время большинство из них не могут найти себе работу

ВИДЫ БЕЗРАБОТИЦЫ

1) циклическая 2) структурная 3) фрикционная 4) сезонная

Регулирования рынка со стороны государства

- Найдите в приведенном ниже списке рычаги финансово-экономического регулирования рынка со стороны государства.
- 1) антимонопольное законодательство
- 2) кредиты, предоставляемые предпринимателям
- 3) развитие системы экономического образования в средней школе
- 4) вручение государственных наград за производственные успехи
- 5) налоговая политика

- Найдите в приведенном ниже списке рычаги правового регулирования рынка со стороны государства. Запишите цифры, под которыми они указаны.
- 1) принятие законов в поддержку «малого бизнеса»
- 2) принятие антимонопольного законодательства
- 3) выдача субсидий малым предприятиям
- 4) установление нормы обязательного банковского резерва
- 5) подготовка экономистов в государственных вузах

- Назовите любые три экономические функции государства и проиллюстрируйте примером каждую из НИХ.

- Какой смысл экономисты вкладывают в понятие «экономический рост»?
Привлекая знания обществоведческого курса, составьте два предложения, содержащие информацию об экономическом росте.

- В выступлении главы современного индустриального государства с рыночной экономикой перед правительством и парламентом прозвучало требование создать условия для ускорения экономического роста в стране. Используя обществоведческие знания, укажите любые три меры, которые может предпринять государство в этом направлении, и кратко поясните влияние каждой из них на рост экономики страны.

Бюджет

- Что из перечисленного отражают статьи государственного бюджета?
 - 1) расходы на государственное управление
 - 2) доходы граждан от предпринимательской деятельности
 - 3) уровень безработицы
 - 4) среднемесячную заработную плату
 - 5) налоги

- Статьи государственного бюджета включают
- 1) фиксированные цены на товары массового спроса
- 2) объём производимой промышленной продукции
- 3) поступления в виде налогов с физических и юридических лиц
- 4) данные о численности безработных
- 5) расходы на содержание армии

- Государственный бюджет
- 1)
 - определяет уровень инфляции в стране
- 2)
 - регулирует объём денежной массы
- 3)
 - отражает основные направления внутренней политики
- 4)
 - устанавливает минимальный размер оплаты труда

ВВП

Экстенсивный рост

...

Запишите слово, пропущенное в таблице.
Увеличение Экономический рост внутреннего валового продукта за счет расширения масштабов производства

Увеличение ВВП за счет эффективности производства