

Математика

Сьогодні
02.02.2023

Урок
№ 63




**Задачі на визначення,
«на скільки коротший».
Обчислення значень
виразів**

СЬОГОДН
02.02.2023

Підготовчі вправи. Гра «Допоможемо зимі»





Сушить білочка гриби для холодної зими.

Десять штук лежать в дуплі –
І великі, і малі.

Менше на **чотири**
Білка винесла сушить
над дуплом на гілках.

Скільки зверху їх висить?
Хто ж нам скаже, дітки?

$$10 - 4 = 6$$



В магазині мама й Коля фрукти купували.
Походжали між полиць, товар вибирали.

Дев'ять бананів хлопчик взяв

І до кошика поклав.

І про маму він подбав:

Ківі смачненькі їй він узяв,

На **два** менше, ніж бананів

У пакуночок поклав.



$$9 - 2 = 7$$

Ми з Наталкою збирали
 В полі білії ромашки
 Та в букети їх складали –
 Було це неважко.
 Я зірвала **п'ять** квіток –
 І букетик мій готовий.
 На **дві** більше Ната – для матусі й тата.
 Скільки ромашок в букеті у Нати?



$$5 + 2 = 7$$

Обчисліть значення виразів та дізнайтеся зашифроване слово.



| <i>Математичний вираз</i> | <i>Слово</i> |
|---------------------------|--------------|
| $9 - 7 = 2$ | П |
| $1 + 0 = 1$ | О |
| $8 - 3 = 5$ | С |
| $2 + 6 = 8$ | У |
| $10 - 6 = 4$ | Д |


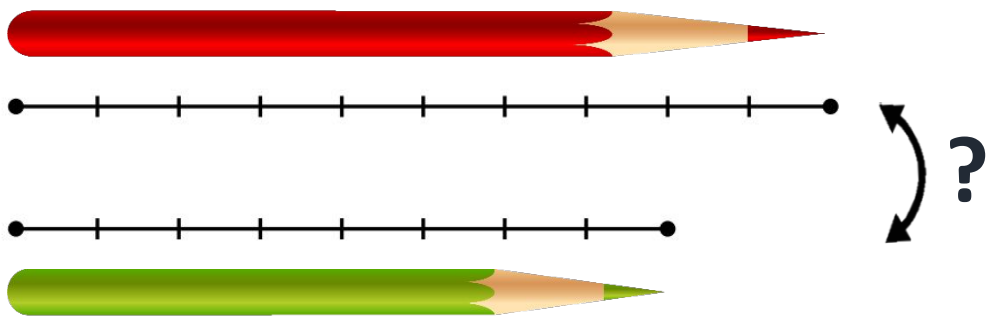
Шифр

| | | | | | | | | | |
|---|---|---|---|---|---|---|---|---|----|
| 1 | 2 | 3 | 4 | 5 | 6 | 7 | 8 | 9 | 10 |
| О | П | Р | Д | С | Я | Ь | У | Л | Е |



Якого посуду більше? На скільки більше?

$$6 - 5 = 1$$



Довжина червоного олівця
10 см, а довжина зеленого —



8 см.
На скільки сантиметрів
зелений олівець
коротший, ніж червоний?

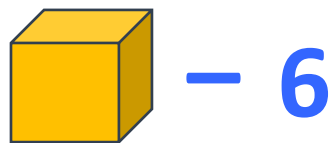
Визначити «на скільки коротший» — це
означає: обчислити, на скільки сантиметрів
менше.




$$10 - 8 = 2$$

**Відповідь: на 2 см
коротший**





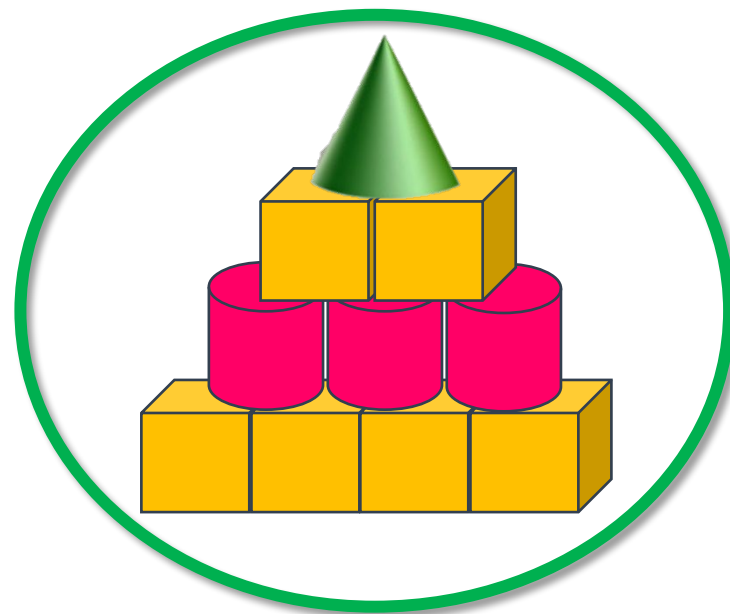
– 6



– 3



– 1



$$6 - 3 = 3$$

$$6 - 1 = 5$$

Зі скількох фігур складено піраміду? Скільки в ній кубів; циліндрів; конусів? На скільки більше кубів, ніж циліндрів?

На скільки менше конусів, ніж кубів?



Сьогодні
02.02.2023

Робота з підручником. Обчислення виразів

Обчисли.



$$9 - 5 = 4$$

$$5 + 3 = 8$$

$$9 - 4 = 5$$

$$8 - 5 = 3$$

$$9 - 3 = 6$$

$$8 - 3 = 5$$

Обчисли.



$$5 + 5 - 1 = 9 \quad 4 + 6 - 8 = 2$$

$$7 - 4 + 1 = 4 \quad 10 - 3 - 7 = 0$$


$$3 + 3 + 3 = 9 \quad 6 - 6 + 5 = 5$$



РУХЛИВА

ВПРАВА






3


<

5






4 > 3

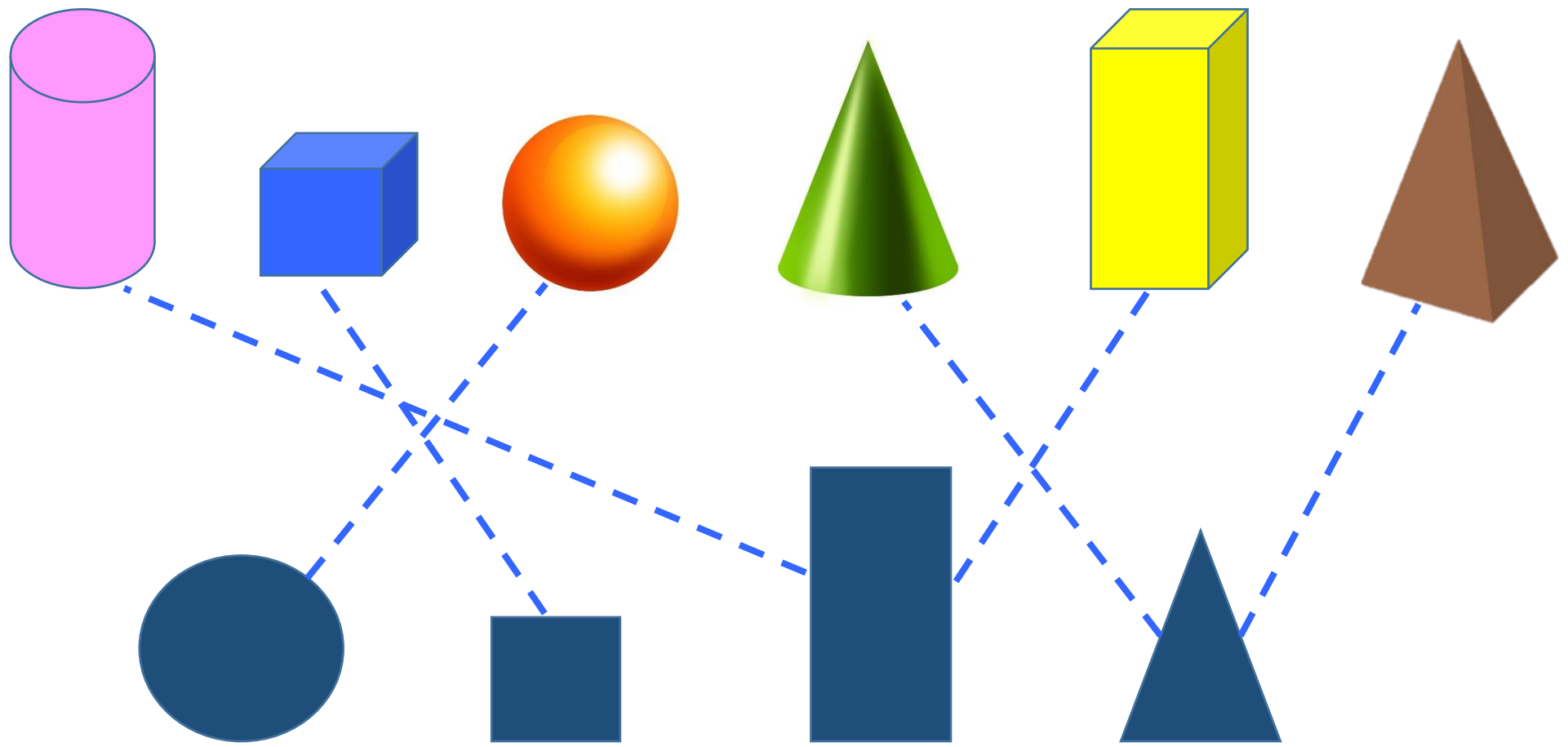


$$6 = 6$$



Уточнення знань про об'ємні геометричні фігури

❖ Установити відповідність між плоскими та об'ємними геометричними фігурами.



Сьогодні
02.02.2023

(щоби відкрити інтерактивне завдання, натисніть на помаранчевий прямокутник)

**Відкрити онлайнове
інтерактивне завдання**