

Сьогодні
28.02.2023

Урок
№ 79



**Віднімання виду $17 - 7$, $17 - 10$.
Задачі на знаходження суми.
Вимірювання довжини відрізка
заданої довжини.**

Лічба від 1 до 20 в порядку зростання





Яке число передує числу 12? Яке число наступне після числа 14? Назвіть «сусідів» числа 13. Яке число знаходиться між числами 11 і 13? Назвіть числа більші за 10, менші за 13. Які числа більші за 12, менші за 15?

Сьогодні
28.02.2023



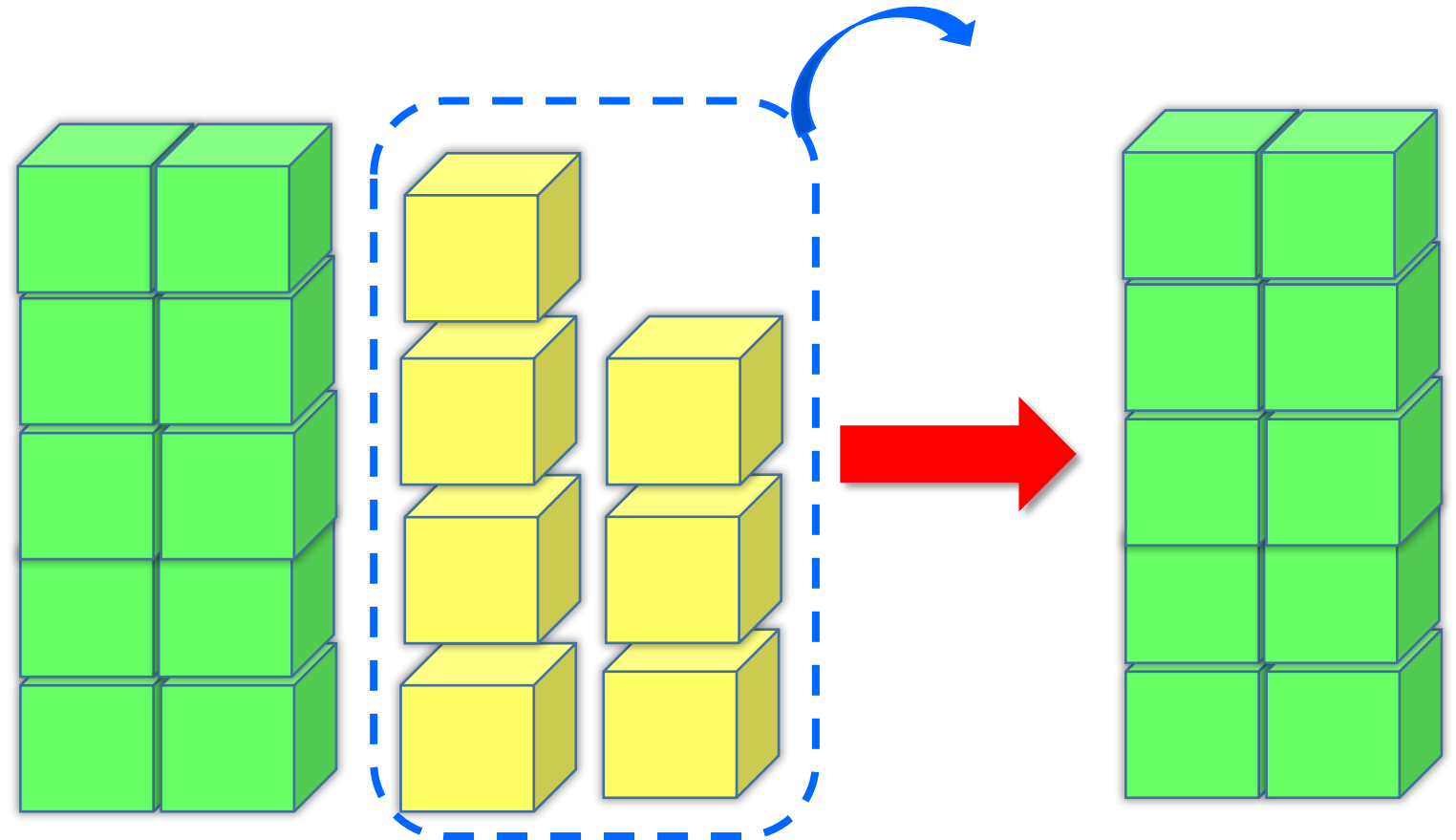
**Скільки сантиметрів
в 1 дециметрі?**



The illustration shows three examples of number decomposition. Each example features a yellow smiley face with large eyes and a wide smile, positioned between two yellow hands. The hands are holding circular cards that represent the tens and ones components of a number. Below each pair of hands is the number being decomposed.

- 11:** The left hand holds a blue-bordered circle with the number "1" and the text "дес." (tens). The right hand holds a red-bordered circle with the number "1" and the text "од." (ones). The number "11" is written below.
- 16:** The left hand holds a blue-bordered circle with the number "1" and the text "дес." (tens). The right hand holds a red-bordered circle with the number "6" and the text "од." (ones). The number "16" is written below.
- 20:** The left hand holds a blue-bordered circle with the number "2" and the text "дес." (tens). The right hand holds a red-bordered circle with the number "0" and the text "од." (ones). The number "20" is written below.

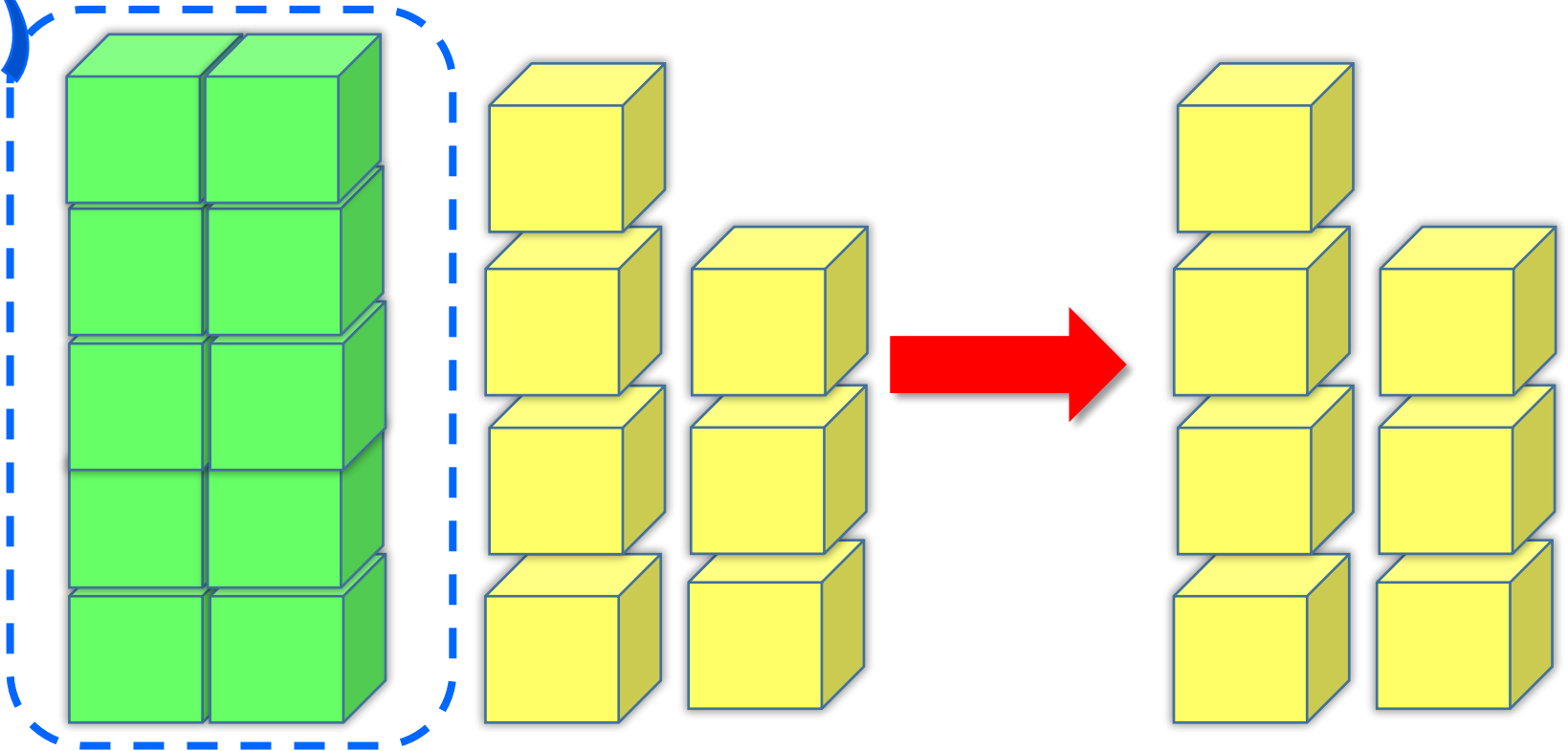
Віднімаємо
одиниці,
залишається
десяток.



$$17 - 7 = 10$$



Віднімаємо
десяток,
залишаються
одиниці.



$$17 - 10 = 7$$

Сьогодні
28.02.2023

Робота з підручником. Обчислення виразів

Обчисли.



$$13 - 3 = 10$$

$$14 - 10 = 4$$

$$13 - 10 = 3$$

$$16 - 6 = 10$$

$$14 - 4 = 10$$

$$16 - 10 = 6$$

Сьогодні
28.02.2023

Робота з підручником. Обчислення виразів

Обчисли.




$$15 - 5 = 10$$

$$18 - 8 = 10$$

$$15 - 10 = 5$$

$$18 - 10 = 8$$



Артемко розмістив у альбомі
10 світлин з відпочинку на
морі та 5 світлин зі змагань із




футболу.
Скільки всього світлин
розмістив Артемко в
альбомі?



$$10 + 5 = 15$$

Відповідь: 15
світлин

1) Виміряй довжину кожного предмета.



Сьогодні
28.02.2023

Робота у зошиті
(сторінка 14).



- Обчисли.



$19 - 9 = 10$	$17 - 7 = 10$
$19 - 10 = 9$	$17 - 10 = 7$
$11 - 1 = 10$	$13 - 3 = 10$
$11 - 10 = 1$	$13 - 10 = 3$

- З'єднай вирази, які мають однакове значення.
- Запиши рівності за зразком.

$18 - 10$

$15 - 5$

$13 - 3$

$1 + 7$

$10 + 3$

$14 - 1$

	1	8	-	1	0	=	1	+	7		
--	---	---	---	---	---	---	---	---	---	--	--

	1	3	-	3	=	1	5	-	5		
--	---	---	---	---	---	---	---	---	---	--	--

	1	0	+	3	=	1	4	-	1		
--	---	---	---	---	---	---	---	---	---	--	--

Сьогодні
28.02.2023

Робота в зошиті



- Зменш на 10 кожне число в таблиці.

- 10

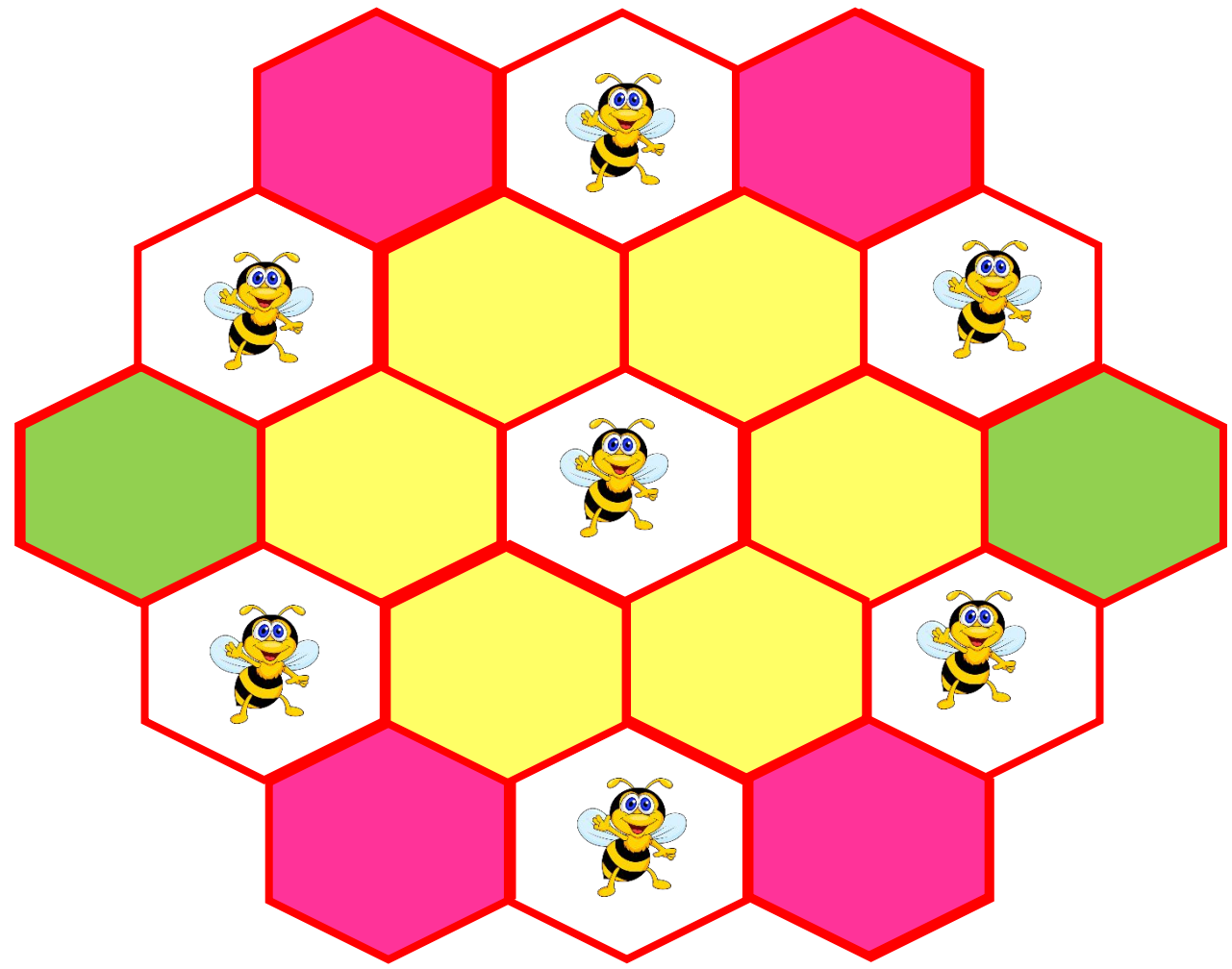
11	15	19	10	14	17	13	18	16
1	5	9	0	4	7	3	8	6

- Обчисли. Зафарбуй відповідними кольорами.

10 – 

17 – 

19 – 



- Виміряй довжину кожного відрізка.
- На скільки сантиметрів довжина відрізка зеленого кольору менша, ніж довжина відрізка жовтого кольору?



	1	2	см	-	1	0	см	=	2	см	
--	---	---	----	---	---	---	----	---	---	----	--



Сьогодні
28.02.2023

(щоби відкрити інтерактивне завдання, натисніть на помаранчевий прямокутник)

**Відкрити онлайнове
інтерактивне завдання**