

Математика

Сьогодні  
10.05.2023

Урок  
№ 11

9



**Додавання виду  $45 + 30$   
(ознайомлення).**


**Задача на знаходження невідомого  
від'ємника**

Сьогодні  
10.05.2023

Підготовчі вправи. Гра «Веселка»



Обчисли  
вирази.  
Намалюй  
веселку.



$$90 - 3 = 87$$

$$10 + 10 = 20$$

Сьогодні  
10.05.2023

## Вправа «Веселка»

Скільки кольорів у  
веселки?

Яким є четвертий  
колір веселки?

Котрим за порядком є  
жовтий колір  
веселки?





Запам'ятати кольори  
веселки нам  
допоможе речення-  
підказка:



**Ч**екаючи **О**бідy, **Ж**ирафа **З**'їла **Б**агато **С**ушених

Сьогодні  
10.05.2023

# Геометрично-логічна хвилинка



Яка фігура зайва?  
Чому?

**Сьогодні**  
**10.05.2023**

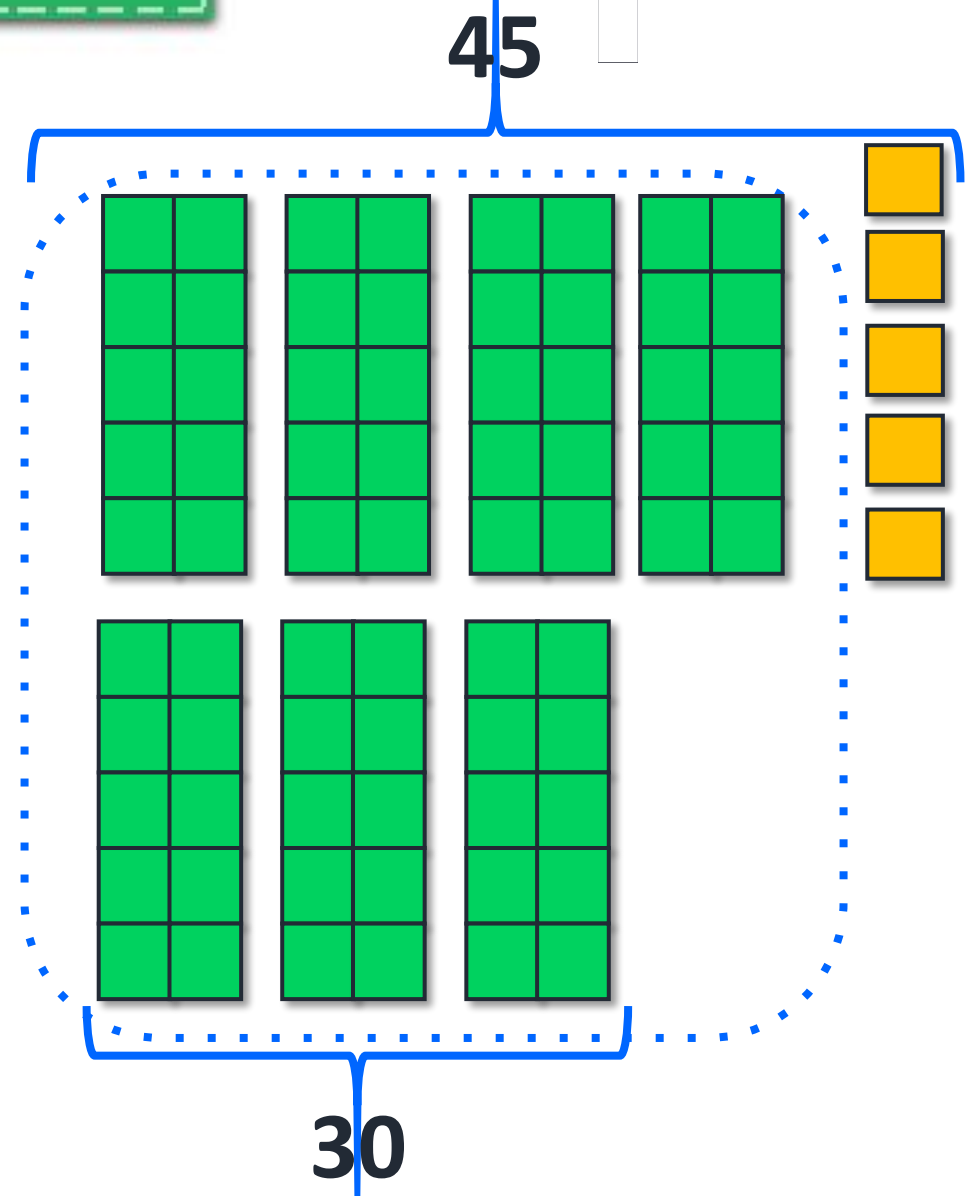
## Мотивація навчальної діяльності. Робота з нумераційною таблицею

Прочитайте числа,  
у складі яких є 5  
одиниць.

Назвіть сусідів  
чисел 50, 18, 36, 89,  
90.

Назвіть числа, що  
на десяток менші  
та більші  
поданого: 24, 55, 80.

1	2	3	4	5	6	7	8	9	10
11	12	13	14	15	16	17	18	19	20
21	22	23	24	25	26	27	28	29	30
31	32	33	34	35	36	37	38	39	40
41	42	43	44	45	46	47	48	49	50
51	52	53	54	55	56	57	58	59	60
61	62	63	64	65	66	67	68	69	70
71	72	73	74	75	76	77	78	79	80
81	82	83	84	85	86	87	88	89	90
91	92	93	94	95	96	97	98	99	100



Розглянь схему та поясни обчислення.

$$4 \text{ д.} + 3 \text{ д.} = 7 \text{ д.}$$

$$40 + 30 = 70$$

$$45 + 30 = 75$$



- Десятки додаємо до десятків.

$$45 + 30 = 75$$

Обчисли.



$$5 \text{ д.} + 3 \text{ д.} = 8 \text{ д.}$$

$$50 + 30 = 80$$

$$54 + 30 = 84$$

$$57 + 30 = 87$$



Сьогодні  
10.05.2023

## Робота з підручником. Обчислення виразів

Обчисли.



$$3 \text{ д.} + 4 \text{ д.} = 7 \text{ д.}$$

$$30 + 40 = 70$$

$$37 + 40 = 77$$

$$39 + 40 = 79$$

Обчисли.



$$1 \text{ д.} + 8 \text{ д.} = 9 \text{ д.}$$

$$10 + 80 = 90$$

$$11 + 80 = 91$$

$$18 + 80 = 98$$

Робота з підручником. Розв'язування задачі

Опиши ситуацію, яку зображено на малюнку. Як дізнатися, скільки рибин з'їв котик? Що невідомо в цій задачі?

Спіймали – 8 р.  
З'їв кіт – ?  
Залишилось – 5 р.

$$8 - 5 = 3 \text{ (р.)}$$

Ми спіймали 8 рибин.



Сьогодні  
10.05.2023

Робота у зошиті  
(сторінка 44).



- Обчисли.



$$5 \text{ д.} + 2 \text{ д.} = \boxed{7} \text{ д.}$$

$$50 + 20 = \boxed{7} \boxed{0}$$

$$53 + 20 = \boxed{7} \boxed{3}$$

$$59 + 20 = \boxed{7} \boxed{9}$$

$$2 \text{ д.} + 7 \text{ д.} = \boxed{9} \text{ д.}$$

$$20 + 70 = \boxed{9} \boxed{0}$$

$$29 + 70 = \boxed{9} \boxed{9}$$

$$24 + 70 = \boxed{9} \boxed{4}$$

- Заповни таблицю.



	19	23	57	44	36	55	29
Збільшити на 40	5 9	6 3	9 7	8 4	7 6	9 5	6 9

- Обчисли.



$$4 + 3 - 7 = 0$$

$$8 - 4 + 6 = 10$$



$$9 - 9 + 4 = 4$$

$$10 - 4 + 1 = 7$$

$$7 + 0 - 5 = 2$$

$$7 + 3 - 10 = 0$$

- Доповни умову задачі. Запиши розв'язання та відповідь.



Вартість банана – 7 грн,  
а яблука –  грн.



На скільки гривень банан  
дорожчий, ніж яблуко?

$$7 \text{ грн} - 6 \text{ грн} = 1 \text{ грн}$$

Відповідь: на  грн.

- Поміркуй, якою може бути вартість яблука. Запиши.

грн

грн

грн

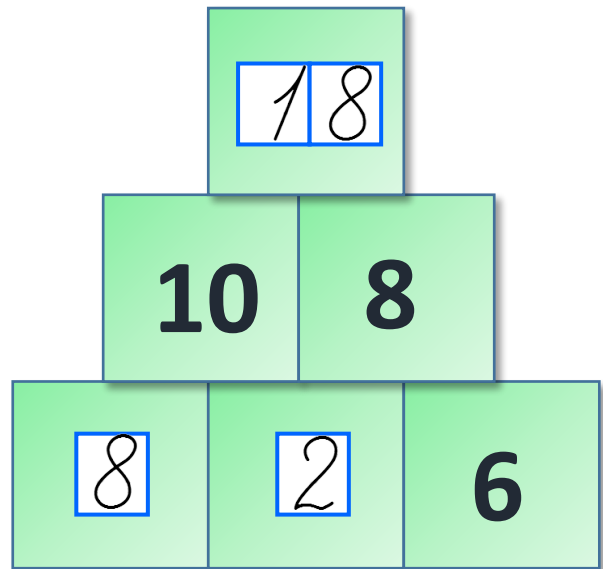
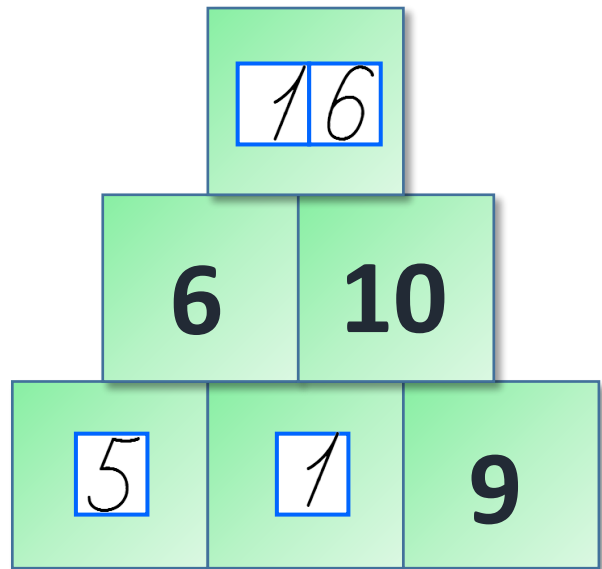
грн

грн

грн



- Запиши пропущені числа.



Сьогодні  
10.05.2023

## Гра «Чи правильно ведмедик обчислив вирази?»

$$36 - 1 = \cancel{37} 35 \quad 50 + 20 = \cancel{30} 70$$

$$28 + 1 = 29$$

$$68 - 60 = 8$$

$$39 - 9 = 30$$

$$40 + 7 = 47$$



Сьогодні  
10.05.2023


Усні обчислення з цеглинками LEGO. Вправа «Знайди пару»

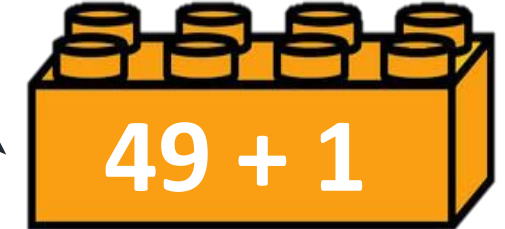
З'єднайте приклади з  
однаковими  
відповідями.



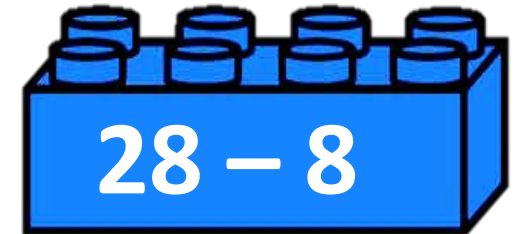
A green LEGO brick with four studs on top. The number  $54 - 4$  is printed on its front face.
$$54 - 4$$

A red LEGO brick with four studs on top. The number  $70 - 1$  is printed on its front face.
$$70 - 1$$

A yellow LEGO brick with four studs on top. The number  $19 + 1$  is printed on its front face.
$$19 + 1$$

An orange LEGO brick with four studs on top. The number  $49 + 1$  is printed on its front face.
$$49 + 1$$

A dark blue LEGO brick with four studs on top. The number  $60 + 9$  is printed on its front face.
$$60 + 9$$

A light blue LEGO brick with four studs on top. The number  $28 - 8$  is printed on its front face.
$$28 - 8$$



Сьогодні  
10.05.2023

*(щоби відкрити інтерактивне завдання, натисніть на помаранчевий прямокутник)*

**Відкрити онлайнове  
інтерактивне завдання**