

Занимательная математика

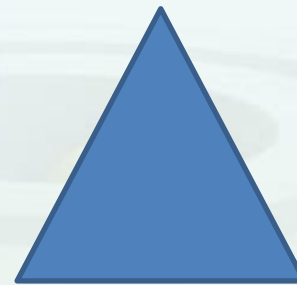


Подготовительная группа

«ГЕОМЕТРИЧЕСКИЕ ФИГУРЫ»



Презентацию подготовила:

Крылова Марина Михайловна, старший воспитатель ГБДОУ детский сад № 28 Приморского района Санкт-Петербурга



РАЗМИНКА

Посчитаем, числовой ряд состоит из 20 цифр
(1,2,3,4,5,6,7,8,9,10,11,12,13,14,15,16,17,18,19,20)

а теперь обратный счет числового ряда 10
(10,9,8,7,6,5,4,3,2,1)

Давайте вспомним числа четные и нечетные
первого десятка:

шепотом мы называем нечетные числа 1,3, 5, 7,9.

громко четные 2, 4, 6, 8,10.

Молодцы, теперь скажите, какое число я загадала,
если оно на 1 больше 7 и на 1 меньше 9?

8




ОТГАДАЙ ПО ОПИСАНИЮ

Я многоугольник, имею 3 стороны



Я многоугольник, у меня 4 равные стороны



Я не многоугольник, меня можно катать



У меня нет углов, но я не круг



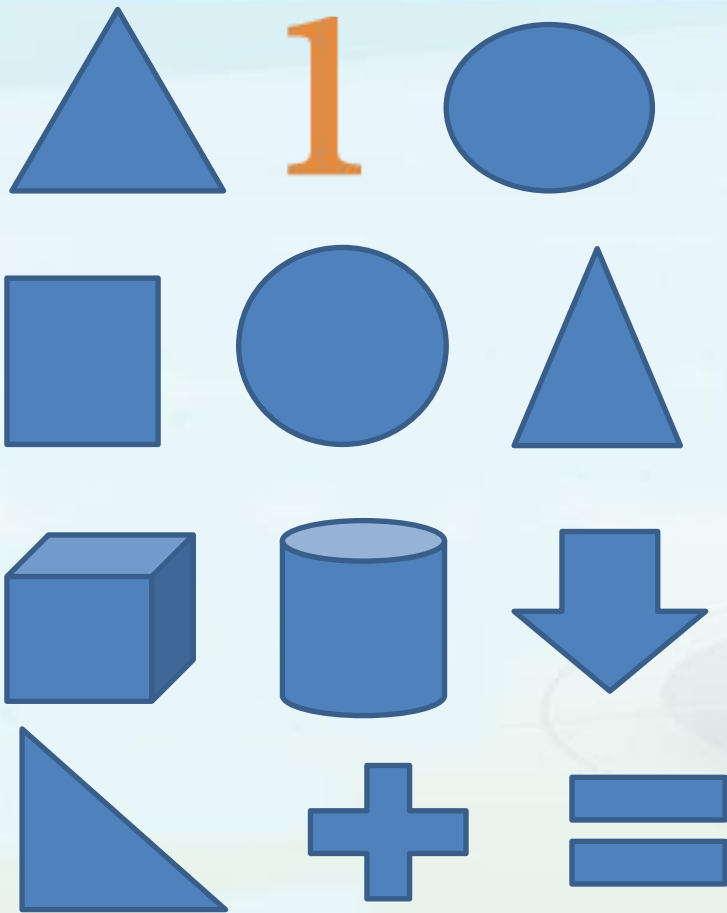
Я четырех угольник, но у меня не все стороны равны



*Спасибо!
Мак держать!*




ТРЕТИЙ ЛИШНИЙ



*Молодец!
Так держать!*



ФИГУРЫ ИЗ ПАЛОЧЕК. ПОВТОРИ ПО ОБРАЗЦУ.



*Молодец!
Так держать!*



Перед вами геометрические фигуры.

НАЗОВИТЕ ИХ



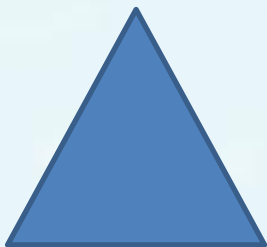

ЧТО НАХОДИТСЯ СЛЕВА ОТ ТРЕУГОЛЬНИКА?

СЛЕВА ОТ КВАДРАТА?

КАКАЯ ФИГУРА НАХОДИТСЯ МЕЖДУ КРУГОМ И ОВАЛОМ?

А МЕЖДУ ТРЕУГОЛЬНИКОМ И ПРЯМОУГОЛЬНИКОМ?


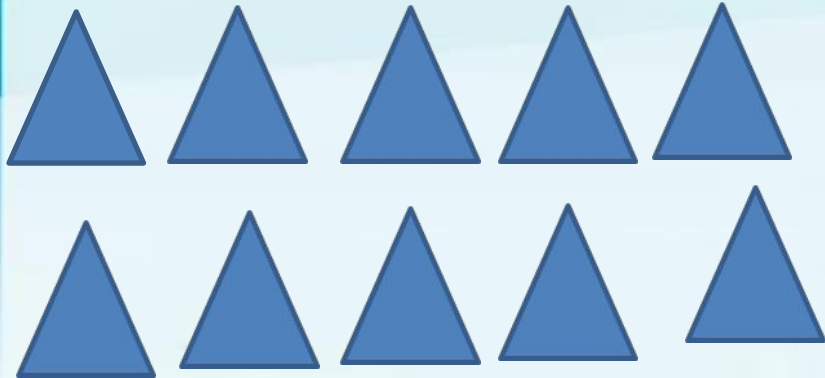
СПРАВА ОТ ПРЯМОУГОЛЬНИКА?



*С Молодцы!
Так держать!*



На сколько меньше?



СКОЛЬКО



СКОЛЬКО


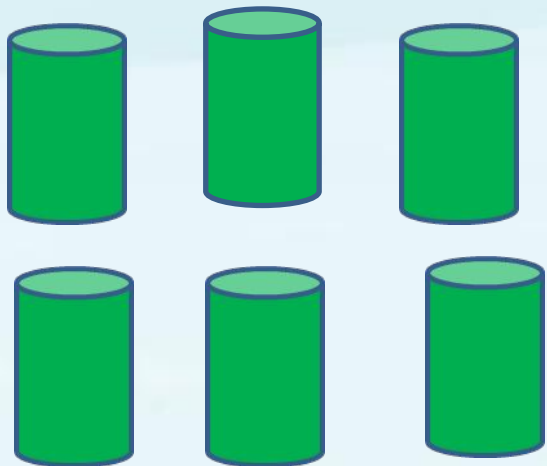


ЧЕГО МЕНЬШЕ И НА СКОЛЬКО?

*Молодец!
Так держать!*



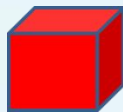
НА СКОЛЬКО БОЛЬШЕ?



СКОЛЬКО



СКОЛЬКО



ЧЕГО БОЛЬШЕ И НА СКОЛЬКО?

*Молодец!
Мак дедюса!*



Реши задачи.

Вышли с гоготом, гляди,
Пять гусей из-за угла.
И у каждого, гляди,
Две ноги и два крыла.
Вышли гуси на лужок.
Сосчитай в уме, дружок,
Сосчитай-ка без ошибки
Сколько крыльев? $5+5=10$
Сколько ног? $5+5=10$


К богатой кошке гость пришел –
Известный в городе козел
С женой седой и строгой
Козою длиннорогой.
Петух явился боевой.
За петухом – наседка,
И в мягкой шапке пуховой
Пришла свинья – соседка.
Пересчитай скорей
Всех кошкиных гостей! $1+1+1+1+1=5$

Забежал щенок в курятник,
Разогнал всех петухов.
Три взлетели на насест,
А один в кадучку влез.
Два в раскрытое окно,
Сколько было их всего? $3+1+2=6$

*Молодец!
Так держать!*



Возьми лист бумаги и цветные карандаши .



*Молодец!
Так держать!*



Физкультминутка


- Раз, два – выше голова.
- Три, четыре – руки шире.
- Пять, шесть – тихо сесть.
- Раз – подняться. Подтянуться.
- Два – согнуться, разогнуться.
- Три – в ладоши три хлопка,
- Головою три кивка.
- На четыре – руки шире,
- Пять – руками помахать,
- Шесть – за стол тихонько сядь.

*Счастья!
Мак держась!*




На внимательность

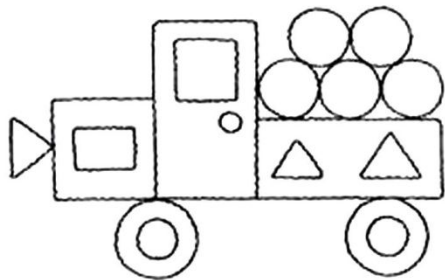
Посчитай, из скольких фигур состоит картинка




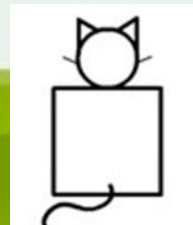

- 7
- 7
- △ 7
- ▭ 3



- 2
- 12
- △ 7
- ▭ 4





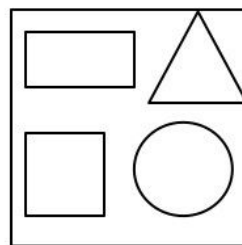
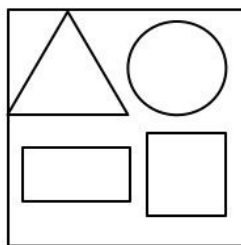
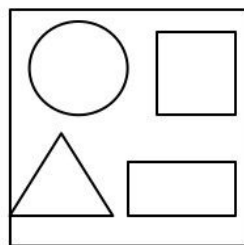
- 2
- 10
- △ 3
- ▭ 3



*Вперед!
Маша добрая!*



НАЙДИ ЗАКОНОМЕРНОСТЬ.



*С Володец!
Мак держась!*



ЗАМЕНИ ЦИФРЫ ГЕОМЕТРИЧЕСКИМИ ФИГУРАМИ.

0 4 0 3 0 5 0 4 0 3 0 5

ПОДСКАЗКА



*Молодец!
Мак дедосам!*



Составь задачи на сложение и вычитание.

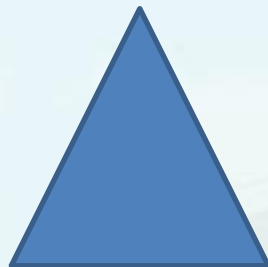
БЫЛО 15 СТАЛО 9



$$15-6=9$$



БЫЛО 13 СТАЛО
18



$$13+5=18$$

*Молодец!
Мак дерзасать!*



По щелчку мышки

