

Реши ребус –
отгадай слово

С З Ж

стриж



100 лица

столица

Р 1 А

родина





Расположите единицы измерения по возрастанию:

метр

дециметр

километр

миллиметр

сантиметр

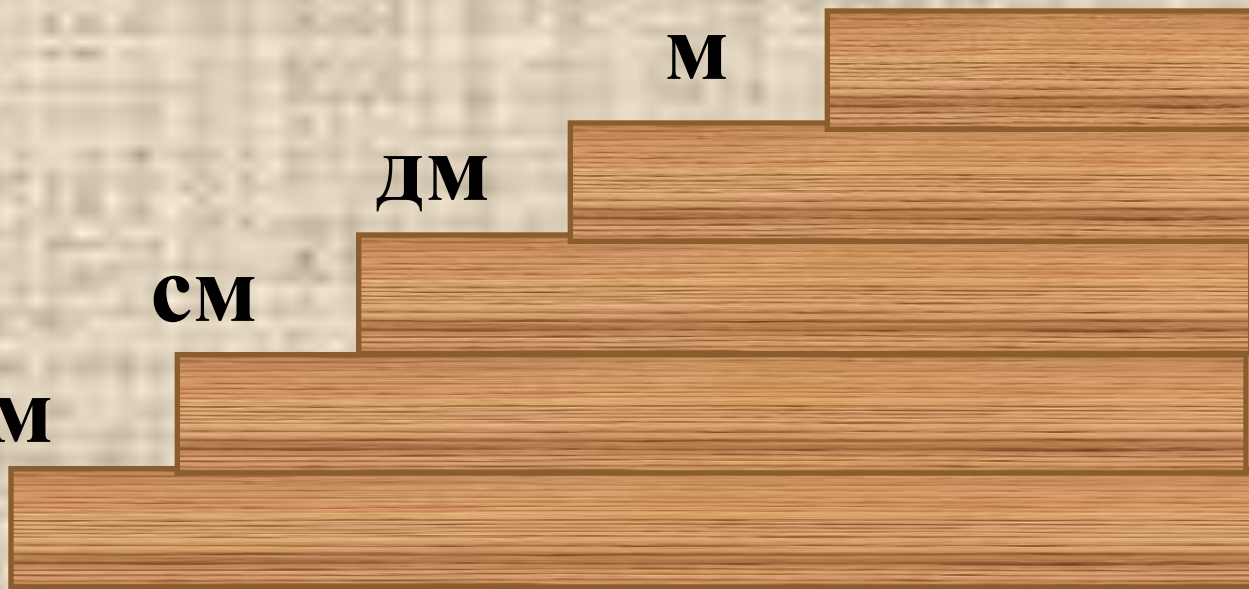
км

м

дм

см

мм





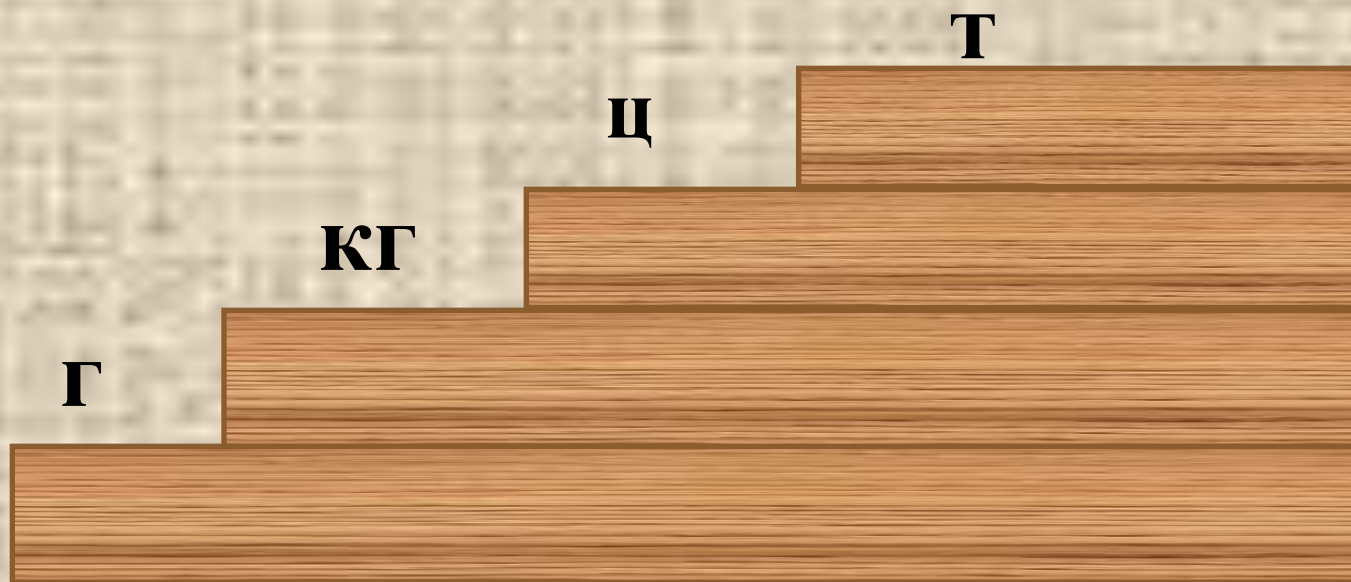
**Расположите единицы измерения
по убыванию:**

килограмм

грамм

тонна

центнер





Расположите единицы измерения по возрастанию:

месяц

неделя

год

день

век

век

год

месяц

неделя

день





Реши задачу

*Мы только с
парохода,
Мы только из похода
—
Одиннадцать недель
Гостили на воде.
А сколько это дней?
Считай-ка поверней.*





Реши задачу

Самолёт летит от Москвы до С.-Петербурга 1 час, а обратно из С.-Петербурга в Москву – то же расстояние – он пролетает за 60 минут. Почему такая разница?





Реши задачу

Четверо
играли в
домино 20
минут. По
скольку минут
играл каждый?





Реши задачу

Бревно распилили на 4 части, расходуя каждый раз на отпиливание одной части 2 минуты. За сколько времени было распилено всё бревно?





Тема урока: *Единицы времени.*





Какие бывают часы



солнечные



водяные



песочные





Какие бывают часы



маятниковые





Какие бывают часы






Какие бывают часы



Кремлёвские
куранты



Биг - Бен










Пражские куранты





Определи время.





Покажите время

15 час 20 мин

20 час 15 мин

23 час 55 мин.






Что такое время?



Время - это продолжительность какого-либо действия или существования чего-либо. Основные единицы измерения времени: *секунда, минута, час, день, неделя, месяц, год, век (столетие).*

Для измерения времени используют *часы, секундомеры, хронометры и т.д.*





Запомни единицы времени:

1 МИНУТА = 60 СЕКУНД

1 ЧАС = 60 МИНУТ = 3600 СЕКУНД

**1 СУТКИ = 24 ЧАСА = 1440
МИНУТ**

**1 НЕДЕЛЯ = 7 СУТОК = 168
ЧАСОВ**

**1 МЕСЯЦ = 4 НЕДЕЛИ = 30-31
ДЕНЬ**





Запомни единицы времени:

КВАРТАЛ – 3 МЕСЯЦА

ДЕКАДА – 10 СУТОК

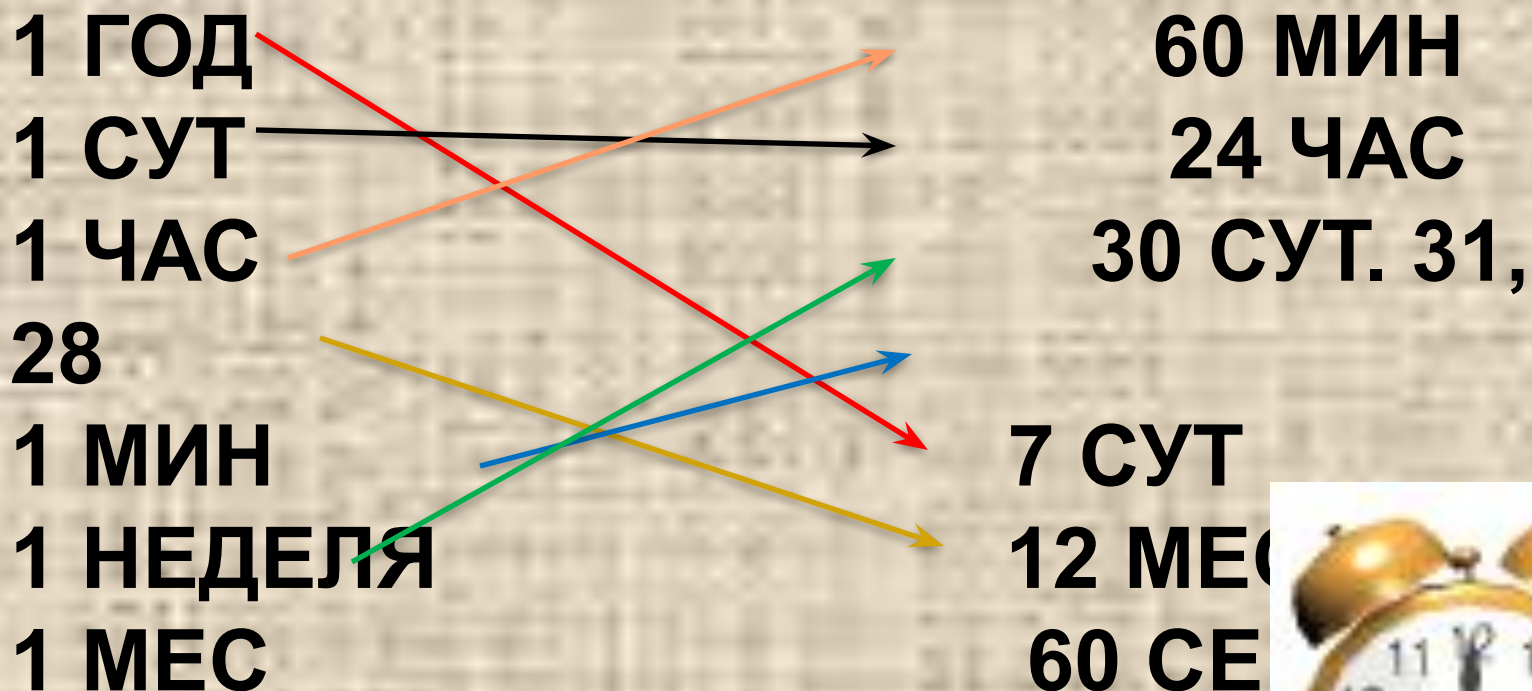
1 ГОД = 12 МЕСЯЦЕВ = 368 ДНЕЙ

1 ВЕК = 100 ЛЕТ





Восстановите последовательность





Вырази:

• В секундах:

$$2 \text{ мин} = 120 \text{ сек}$$

$$5 \text{ мин} = 300 \text{ сек}$$

$$1 \text{ мин } 30 \text{ сек} = 90 \text{ сек}$$

$$2 \text{ час} = 7200 \text{ сек}$$

• В часах:

$$2 \text{ сут} = 48 \text{ часов}$$

$$120 \text{ мин} = 2 \text{ часа}$$

$$3600 \text{ сек} = 1 \text{ час}$$

$$7200 \text{ сек} = 2 \text{ часа}$$






- 1 век
 - 1 год
 - 1 сут
 - 1 ч
 - 1 мин
 - 1 неделя
 - 1 месяц
- 60 с
 - 60 мин
 - 7 сут
 - 24 ч
 - 30 сут или 31 сут (в феврале 28 или 29)
 - 100 лет
 - 365 или 366 сут
 - 12 мес
- Diagram showing connections between units of time:
- 1 век connects to 100 лет
 - 1 год connects to 12 мес, 365 или 366 сут, 7 сут, 24 ч, 60 мин, 60 с
 - 1 сут connects to 24 ч, 60 мин, 60 с
 - 1 ч connects to 60 мин, 60 с
 - 1 мин connects to 60 с
 - 1 неделя connects to 7 сут
 - 1 месяц connects to 30 сут или 31 сут (в феврале 28 или 29)



Сравни

2 час 12 мин $>$ 7200 сек

120 с $<$ 2 час 5 сек



Поставь вместо звёздочек знаки сравнения так, чтобы получились верные равенства.

3 недели < 1
месяц

9 недел < 64 дня

4 недели = 1
месяц

30 дней > 4 недели

2 месяц < 10
недель

8 недел = 2
месяца



В какой строке только единицы времени

а) см, км, кг, м.

б) км, м, дм, мм.

в) час, сутки, мин, месяц



Расскажите маме:

В году ... месяцев.

В году ... дней.

В году ... зимних месяца: ..., ...,

В году ... весенних месяца: ..., ...,

В году ... летних месяца: ..., ...,

В году ... осенних месяца: ..., ...,

... год кончает, а ... начинается.

В месяце ... недель.

В неделе ... дней.

Самый короткий месяц в году -



Расскажите друг другу:

В году **12** месяцев.

В году **368** дней.

В году **3** зимних месяца: **декабрь, январь, февраль.**

В году **3** весенних месяца: **март, апрель, май.**

В году **3** летних месяца: **июнь, июль, август.**

В году **3** осенних месяца: **сентябрь, октябрь, ноябрь**

Декабрь год кончает, а **январь** начинает.

В месяце **4** недели.

В неделе **7** дней.

Самый короткий месяц в году - **февраль** .

