

**Путешествие по
Древнему Египту**

Итоговая игра

Путешествие по Древнему Египту



Задание № 1

Разминка

1. На каком материке расположен Египет?
2. В какой части Африки?
3. На берегах какой реки?
4. Какие ещё реки протекают в Египте?
5. Покажи на карте Древний Египет.
6. Как называют правителя Египта?
7. Знатные люди Египта?
8. Первая столица Египта?
9. Кто записывал указы фараона?
10. Особое приспособление для полива – столб и качающаяся жердь?
11. Сплав меди и олова?
12. Несвободный человек?
13. Человек, изготавливающий какие-либо вещи, предметы?



Задание № 2

Найдите фактические ошибки:

В Северо-восточной Африке расположено одно из самых больших озёр в мире – Нил. Долина Нила в древности была покрыта зеленью, по берегам росли финиковые пальмы, акации и высокий тростник – пороги.

Течение Нила встречало на своём пути опасные каменистые преграды – оазисы. Среди песков изредка встречаются островки зелени – ил.



Задание № 3

Египтяне страну мёртвых называли Аментис, что в переводе означает «запад». Почему именно так они называли страну мёртвых?



Задание № 4

Какое «чудо света» создали в Египте?



Задание № 5

**Почему пирамиды
строились только на
левом берегу Нила и
никогда на правом?**



Задание № 6

Как называется высохшее тело умершего человека и во что оно помещалось?




Задание № 7

Древнегреческий историк писал: «Река течет тихо и увлекает с собой много различной земли и водных растений ... Ежегодно разливаясь, река наносит свежий ил... Разделяясь на много частей, река образует дельту». О какой реке писал древний историк?



Задание № 8

Земледелие – важнейшее занятие египтян. Как называется орудие труда, применяемое при обработке земли?




Задание № 9

Вопрос команды.



Задание № 10

Наступление дня египтяне связывают с появлением на небесном своде этого бога. Назовите его имя.



Задание № 11

Древнегреческий историк писал :
«Сначала она идет в виде лестницы уступами или ступенями. После того, как заложили первые камни, остальные поднимали при помощи помостов» О строительстве какого сооружения идет речь?




Задание № 12

Вопрос команды.



Задание № 13

**В древнем Египте
рядом с пирамидами
устанавливали
огромные скульптуры
львов с головой
человека. Как они
назывались?**



Задание № 14

Их помещали у
входа в храм и
называли «иглы
фараонов». Что
это?



[Увеличить](#)



Задание № 15

Как называются
знаки
египетской
письменности?



Задание № 16

**Имя мифического
царя Египта,
научившего египтян
выращивать зерно и
виноград, печь хлеб?**



Задание № 17

Как называется
короткое
копьё?



Задание № 18

Как называется плата в казну части урожая и приплода скота?



Задание № 19

Чью гробницу
археологи
нашли
нетронутой?




Задание № 20

Кто мог быть
владельцем
колесницы?



Задание № 21

**При каком
фараоне были
совершены
самые крупные
завоевательные
походы?**



Задание № 22

Для поддержания войска каждый год проводился набор юношей, при этом в армию забирали...?



Задание № 23

Почему для своей
охраны фараоны
часто нанимали
чужеземных воинов?



Задание № 24

**Для «охраны»
пирамид древние
египтяне
помещали рядом
с ними статуи
фантастических
животных с
головой человека
и телом льва?**



Задание № 25

Какой материал применяли в Египте для письма?



Задание № 26

Сколько лет назад произошло объединение Северного и Южного Египта?



Задание № 27

Какое оружие было у египетского войска?



Задание № 28

Расположите данных людей в порядке их положения в египетском обществе по убыванию:

- а) ремесленник
- б) вельможа
- в) писец
- г) фараон
- д) жрец

