

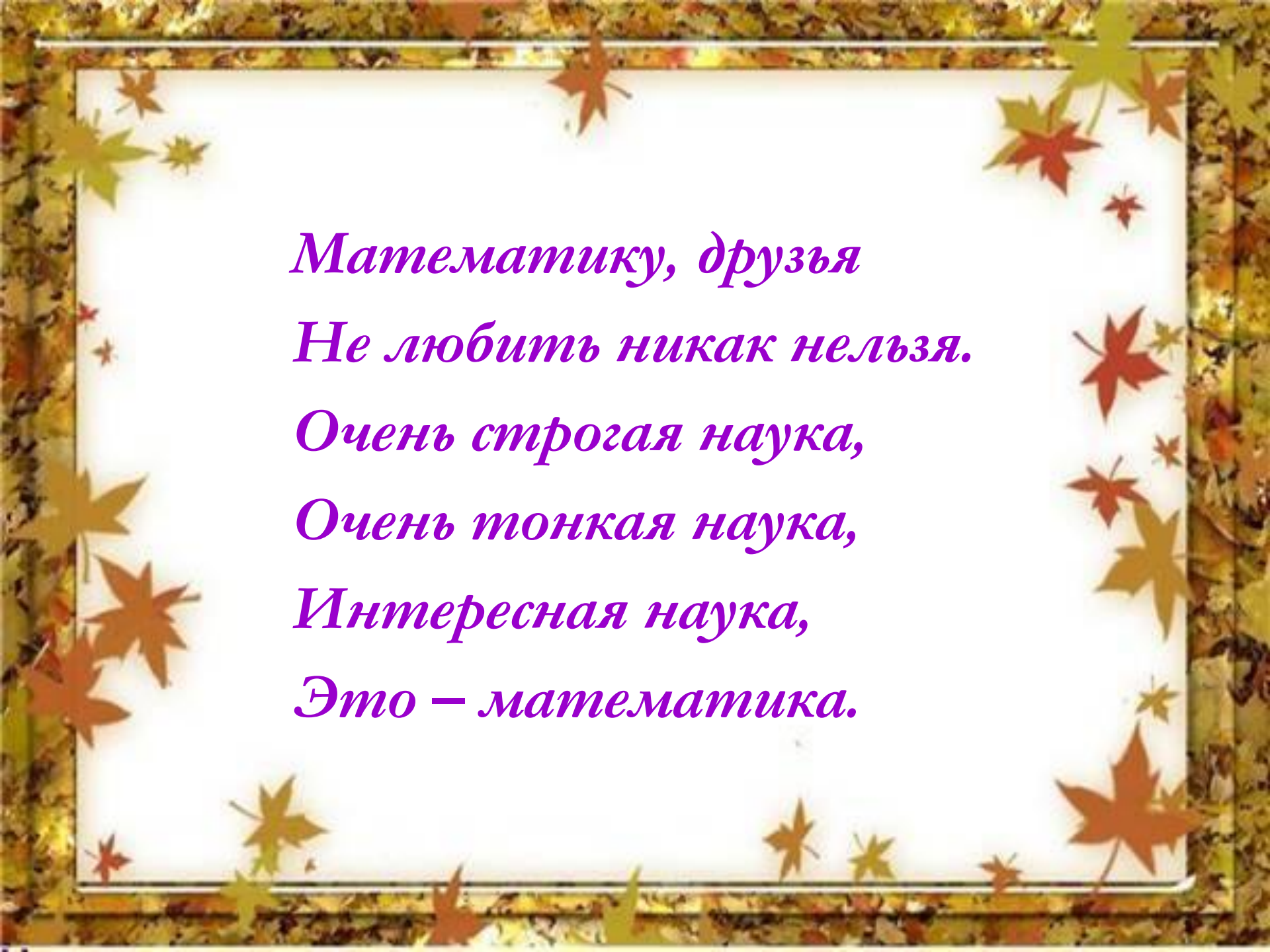


Урок математики!

Закрепление изученного



Учитель-КоданеваЛВ





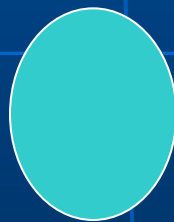

*Математику, друзья
Не любить никак нельзя.
Очень строгая наука,
Очень тонкая наука,
Интересная наука,
Это – математика.*

Задание на внимание

- Баба – Яга приготовила вам трудные задания, она просит вас найти :

- **«Лишнее в строчке...»** и объяснить почему?

1 3 5 7 8 9




10

30

7

40

90



Упражнение 1

0 Сложите числа и запишите только ответы в строчку:

А) $3+6 = ?$

Б) $6+4 = ?$

В) $12+4 = ?$

Г) $11+6 = ?$

Д) $16-3 = ?$





ОТВЕТЫ

9 10 16 17 13

Нарисуй рядом с заданием небольшой смайлик:



- если задание выполнил без ошибок



- если при выполнении задания допустил 1 - 2 ошибки



- если при выполнении задания допустил более 2 ошибок

Упражнение 2 Ответы записывай в тетрадь.
Чему равна сумма чисел 3 и 6?

9

5



8

**Какое число называют при
счете между числами 14 и 16?**

16

17



15

На сколько 1 меньше 6?

на 6

на 5



на 7

***К какому числу прибавили 1,
если получили 17?***

16

15



18

Разность каких двух чисел равна 5?

10 и 5

3 и 2



5 и 2

В школьной столовой обедало 6 мальчиков, а девочек на 4 меньше. Сколько девочек обедало в школьной столовой?

$$10-4=6(\text{д})$$

$$6+4=10(\text{д})$$



$$6-4=2(\text{д})$$

***Уменьши число 10 на 2.
Сколько получилось?***

6

7



8

7 – это 5 и сколько?

3

2



1

*Оля раскрасила в альбоме 4 собачки
и 3 котенка. Сколько зверюшек рас-
красила Оля?*

7

5



6

Правильные ответы:

1. 9
2. 15
3. 5
4. 16
5. 10 и 5
6. $6-4=2$
7. 8
8. $5+2$
9. 7

Баба-Яга очень
довольна вашими
ответами.





Нарисуй рядом с заданием
небольшой смайлик:



- если задание выполнил без ошибок



- если при выполнении задания
допустил 1 - 2 ошибки



- если при выполнении задания
допустил более 2 ошибок

УСТНО

Какие числа спрятались?

1) $\bigcirc + 20 = 80$

4) $\bigcirc - 80 = 10$

2) $50 + \bigcirc = 90$

5) $30 + \bigcirc = 100$

3) $\bigcirc - 70 = 30$

6) $\bigcirc + 10 = 90$

Физминутка



https://drive.google.com/open?id=1bd-6V6L_8vyzslItHr_HsfCISt0lYck


Посчитаем!!!

Записываем только решение задачи
(пример)

0 Было 


0 апельсинов, 6 скушал Ваня.

0 Сколько осталось апельсинов?



Задача 1.

0 В одном первом классе 6 отличников, а в другом - 8. Сколько отличников в двух классах?



Задачи.

- 0 Ване сейчас 12 лет. Сколько лет ему будет через 5 лет?
- 0 На площадке играло 6 мальчиков и 10 девочек. Сколько всего детей играло на площадке?
- 0 Ваня скушал 7 яблок, осталось 6. Сколько яблок было всего?



Задачи.

- 0 У Насти было 12 резинок, 7 резинок она подарила Даше. Сколько резинок осталось у Насти?
- 0 Ваня купил 4 конфеты и ему дали ещё 8 конфет. Сколько конфет у Вани всего?
- 0 Ваня подарил Ксюше 3 яблока и 17 груш, сколько Ваня подарил Ксюше фруктов?



Задачи.

- 0 У мамы было 18 цветов, 9 цветов она подарила соседке, сколько у мамы цветов осталось?
- 0 Папа сделал 10 машинок и 4 самолётика, сколько папа сделал игрушек?
 - 0 В киоске продавали цветочки, мама купила 11 цветов, а папа 9. Сколько цветов купили родители?



ОТВЕТЫ.

$$14 - 6 = 8$$

$$6 + 8 = 14$$

$$12 + 5 = 17$$

$$6 + 10 = 16$$

$$6 + 7 = 13$$

$$12 - 7 = 5$$

$$4 + 8 = 12$$

$$3 + 17 = 20$$

$$18 - 9 = 9$$

$$10 + 4 = 14$$

$$11 + 9 = 20$$



Нарисуй рядом с заданием
небольшой смайлик:



- если задание выполнил без ошибок
или допустил 1 ошибку

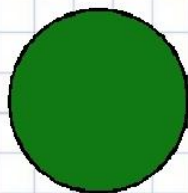


- если при выполнении задания
допустил 2 - 3 ошибки




- если при выполнении задания
допустил более 3 ошибок


Рефлексия



**Мне все понятно.
Я молодец!**



**У меня не всё
получилось, но я
старался!**



**Мне надо быть
внимательнее!**



