

# Объёмные геометрические фигуры

Урок №27






Студия «Умники»



# Устный счёт



Допиши недостающие числа.

				
1	11	21	31	41
3	13	23	33	43
5	15	25	35	45
7	17	27	37	47
9		29		49
10	20	30	40	50





**Так  
держаться!!**

# Кто решил правильно?

- В автобусе ехало 5 человек . На первой остановке зашли 3 женщины. Сколько всего человек стало в автобусе?

$5-3=$

$5+3=$

$5+4=$



Ира



Коля



Ван  
я



# Подумай!

Сколько яиц можно съесть на голодный желудок?



(1)



# Задача!

В комнате было 12 цыплят ,



3 кролика



5 щенят,



2 кошки,



1 петух



и 2 курицы.



Сюда зашёл хозяин с собакой. **Сколько в комнате стало ног?**

(2)



# Задача!

На берёзе росло 90 яблок . Подул сильный ветер и 10 яблок упало . Сколько яблок






# Пчёлы угощают зверей

Пролетела сорока по лесу и сообщила , что пчёлы будут зверей мёдом угощать. Первым к улью прибежал медведь с бидончиком . Второй прискакала белка с кружкой . Третьим примчался заяц с миской. Четвёртой пришла лиса с кувшином . Пятым приковылял волк с кастрюлей.



Вопросы???????

Каким по счёту примчался



3



У кого была самая маленькая посуда?



У кого была самая большая посуда?




# Подумай!

- В лесной избушке жили зверюшки.
- Угадайте кто?
- Рыжая, пушистая, хитрая ...
- Длинноухий, короткохвостый, трусливый....
- Круглый, колючий...
- Серый, злющий, зубастый...
- Неуклюжий, толстый, ворчливый, мохнатый ...
- **Вопрос.** Сколько всего зверюшек жило в избушке?



# Проверь себя!



# 5




У МНИЧКИ !

Отлично!



# Назови фигуры









## Ребят

Предлагаем вам  
познакомиться  
с объёмными  
геометрическими  
фигурами и предметами,  
которые  
на них похожи. Вспомните, что  
вас  
окружает, и приведите свои  
примеры.




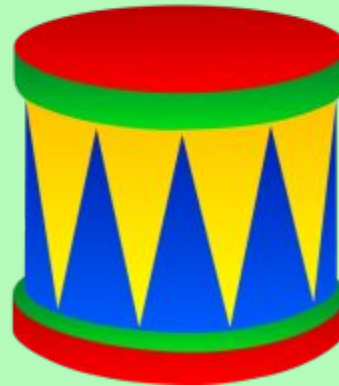
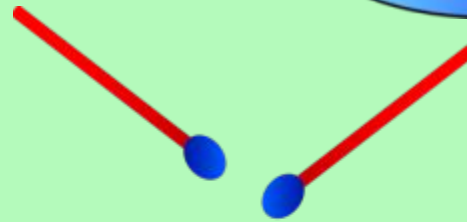
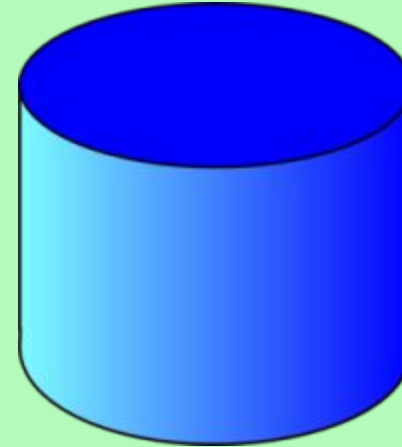


конус






# Цилиндр







# Шар





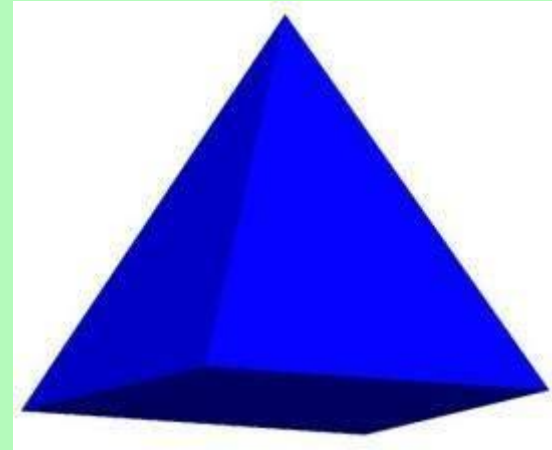



# Куб





# Пирамида






# Top






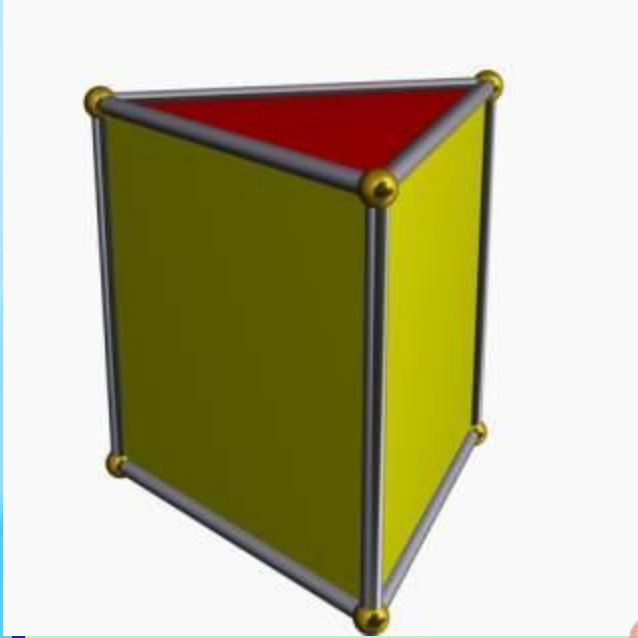



# Параллелепипед





# Призма



# Домашнее задание

- 6-7 лет –учебник урок 27, тетрадь на печатной основе «Изучаем математику» №2-стр 23
- 5лет –учебник урок 27, тетрадь на печатной основе «Изучаем математику» №1-стр 26
- 4 года –учебник урок 25, тетрадь на печатной основе «Математика для малышей» №1-стр 24-25



Пока!!!!



Ещё  
увидимся!

!

