

**Урок математики
для учащихся 4-А класса
14.03.2023**

Здравствуйте, дорогие ребята!

**Мы продолжаем обучение в
дистанционном
формате.**

Тема урока « Симметрия »

Четырнадцатое марта
Классная работа
Симметрия

**Запиши в
тетрадь**

Вспомни правило

Симметрия - зеркальное отражение предметов, которые при наложении друг на друга полностью совпадают.

Вспомни правило

Ось симметрии – прямая относительно которой расположены одинаковые части фигуры или сами фигуры.


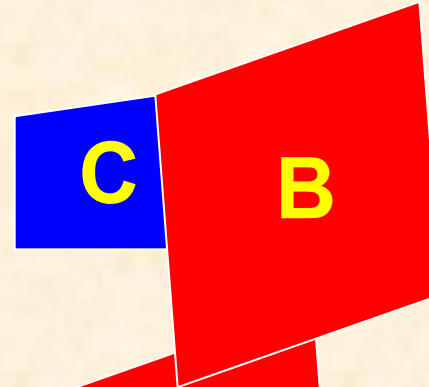
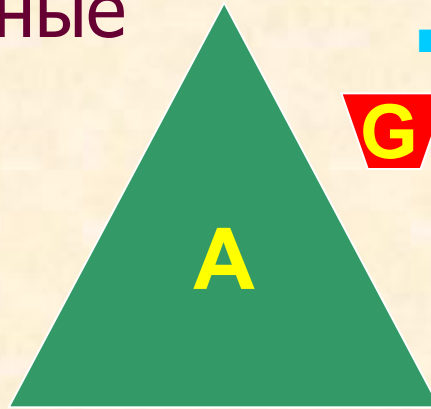

Осевая симметрия – симметрия относительно какой-либо оси.



Распредели фигуры на две группы

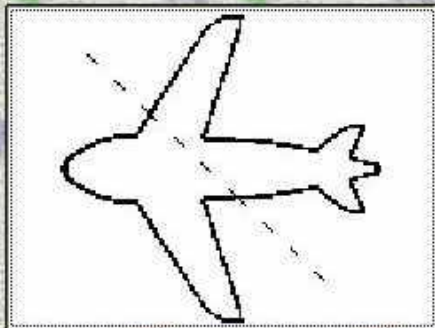
■ Симметричные

■ Ассиметричные

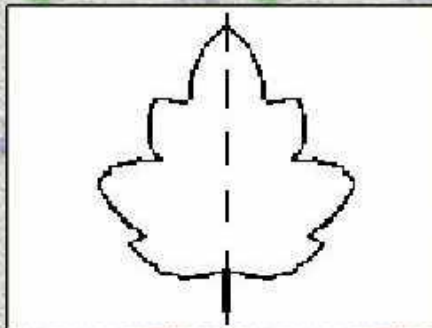


Выполни тест


Выберите рисунки, на которых оси симметрии проведены верно.



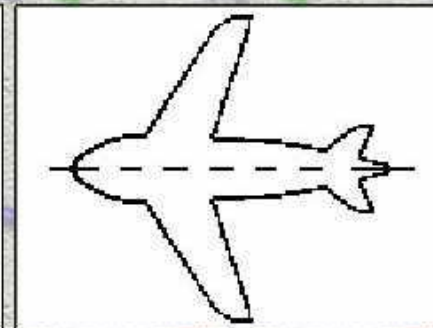
А



Б



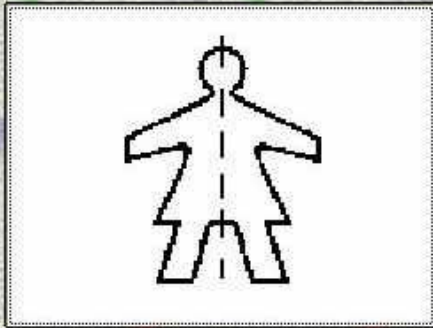
В




Г

1) Б, В, Г.

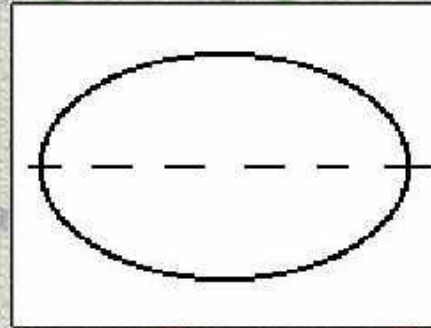
2 Выберите рисунки, на которых оси симметрии проведены верно.



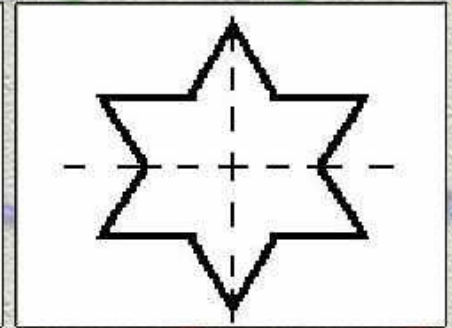
А



Б

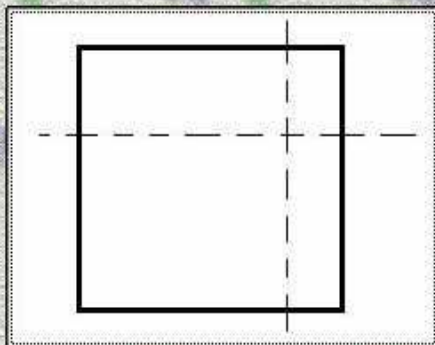


В

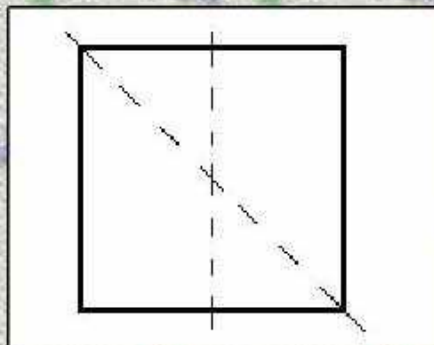


Г

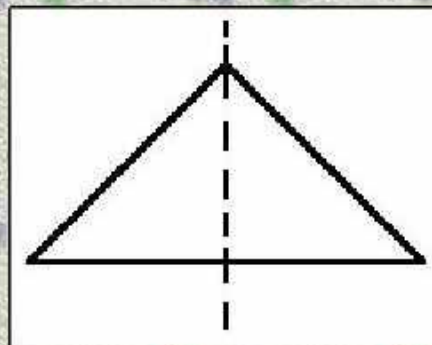
3 Выберите рисунки, на которых оси симметрии проведены верно.



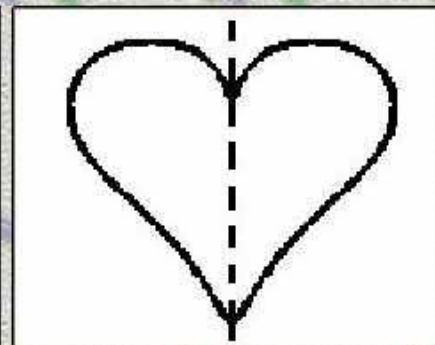
А



Б



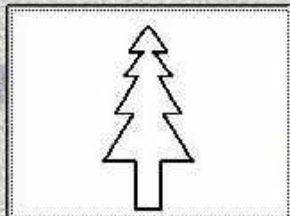
В



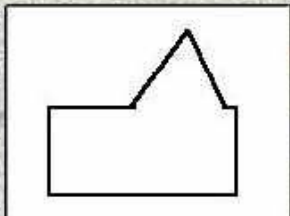
Г

4

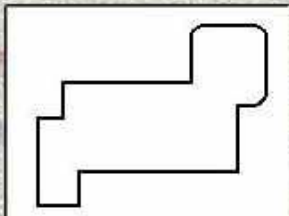
Выберите симметричные фигуры.



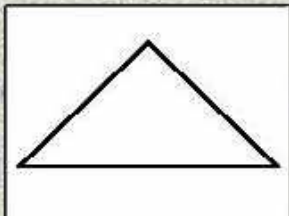
А



Б



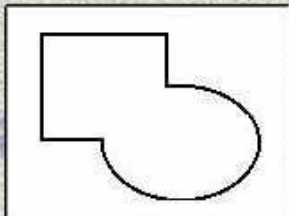
В



Г



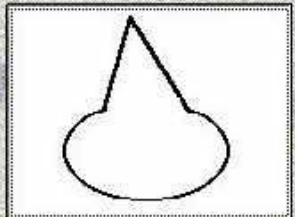
Д



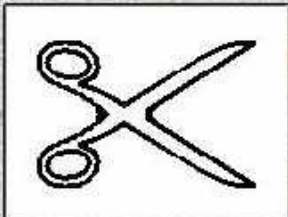
Е

5

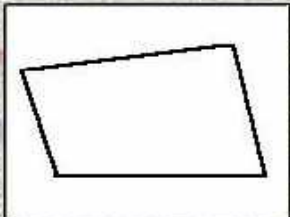
Выберите симметричные фигуры.



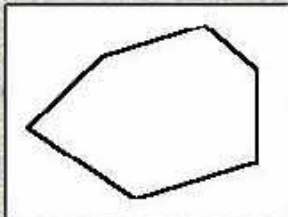
А



Б




В



Г





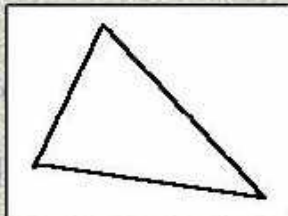

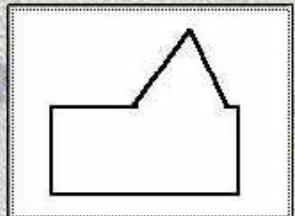
Д



Е

6

Выберите симметричные фигуры.



А

Б

В

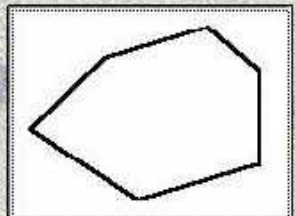
Г

Д

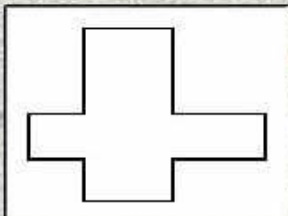
Е

7

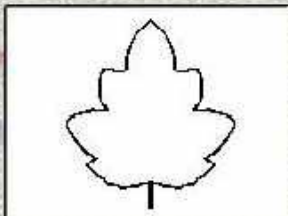
Выберите несимметричные фигуры.



А



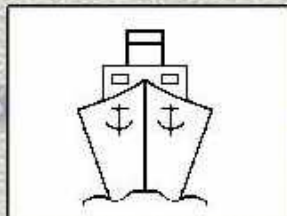
Б



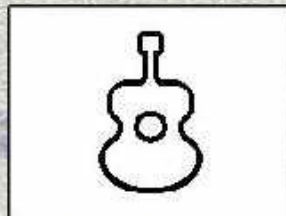
В



Г



Д



Е

8


Выберите вторую половину лица.



А



Б




В



Г



Д



9

Выберите буквы, имеющие только одну ось симметрии.

М

Н

У

К

Ж

З

А

Б

В

Г

Д

Е

Проверь себя

- 1) Б, В, Г.
- 2) А, В, Г.
- 3) Б, В, Г.
- 4) А, Г, Д.
- 5) Б, Д, Е.
- 6) Б, Д, Е.
- 7) А,Б.
- 8) Д.
- 9) А, Д.

Задание

**Стр.55 №14 (1 строчка) ;
стр.57 №207 (условие в таблицу)
(2 часть учебника).**

**К следующему уроку подготовить
циркуль.**

Пришлите фото работы учителю на почту:

elena.marchenko.67@inbox.ru