

Математическая смекалка



Внеклассное мероприятие
для проведения в
пришкольном лагере для
учащихся с 1 – 5 класс.

Дополнительные
материалы: ватные палочки.
Подготовил учитель математики:
Кузьменко О.Н.



Задачки для разогрева



- ❖ У родителей 6 сыновей. Каждый имеет сестру. Сколько всего детей в семье?
- ❖ На руках 10 пальцев. Сколько пальцев на 10 руках?
- ❖ Сколько ушей у трех мышей?
- ❖ Сколько лап у двух медвежат?
- ❖ Какой месяц короче всех?

Задача на смекалку



На столе стояло 3 стакана с малиной. Дима съел 1 стакан малины. Сколько стаканов осталось?




Задача на смекалку



Лежали конфеты в кучке. Две матери, две дочери да бабушка с внучкой взяли конфет по одной штучке и не стало этой кучки. Сколько конфет было в кучке?



Задачка на смекалку



Длина удава равна 40 шагам попугая. В одном шаге мартышки 5 шагов попугая. Скольким шагам мартышки равна длина удава?



Задачка на смекалку



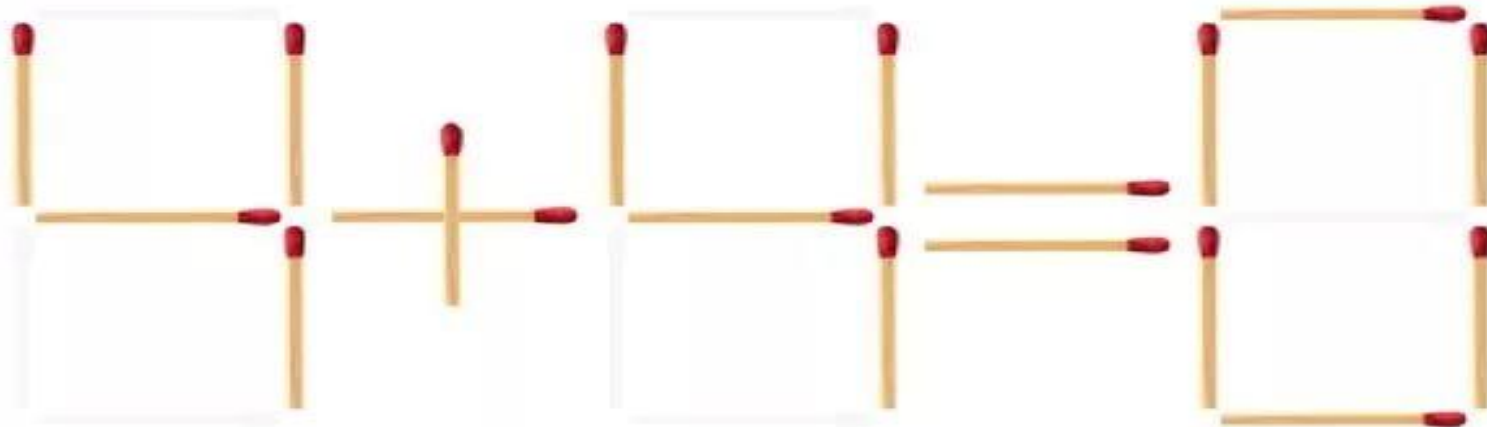
Доктор Пилюлькин прописал Незнайке принимать ложку лекарства каждые 20 минут. На какое время хватит Незнайке этого лекарства, если в пузырьке его ровно на 3 приема?

Почему у меня ничего не получается?

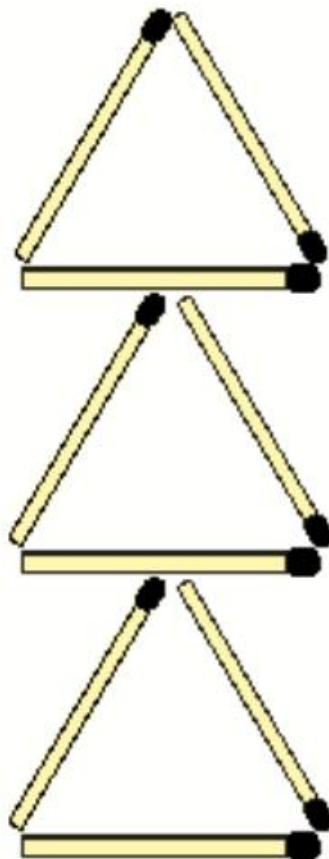




*В математическое равенство вкралась
ошибка. Запишите, какое получится
верное равенство, если убрать одну
спичку.*



Задача со спичками № 2





Переставь три спички так, чтобы получилось четыре треугольника.



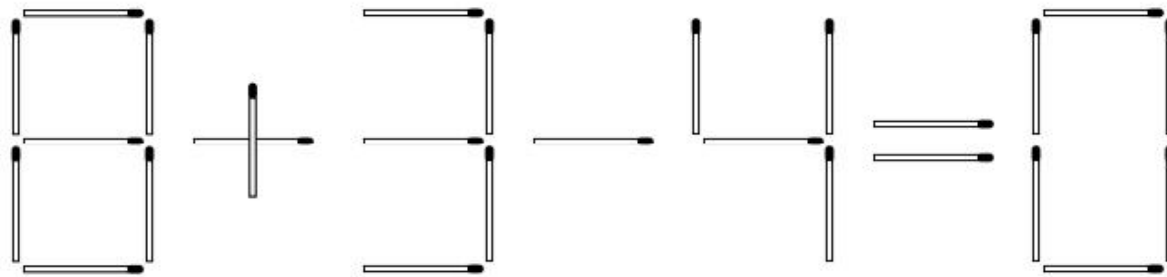
Задачи со спичками

- Переложите 3 спички, чтобы стрела поменяла своё направление на противоположное.




Задача со спичками

- Нужно переложить одну спичку так, чтобы получилось верное равенство:

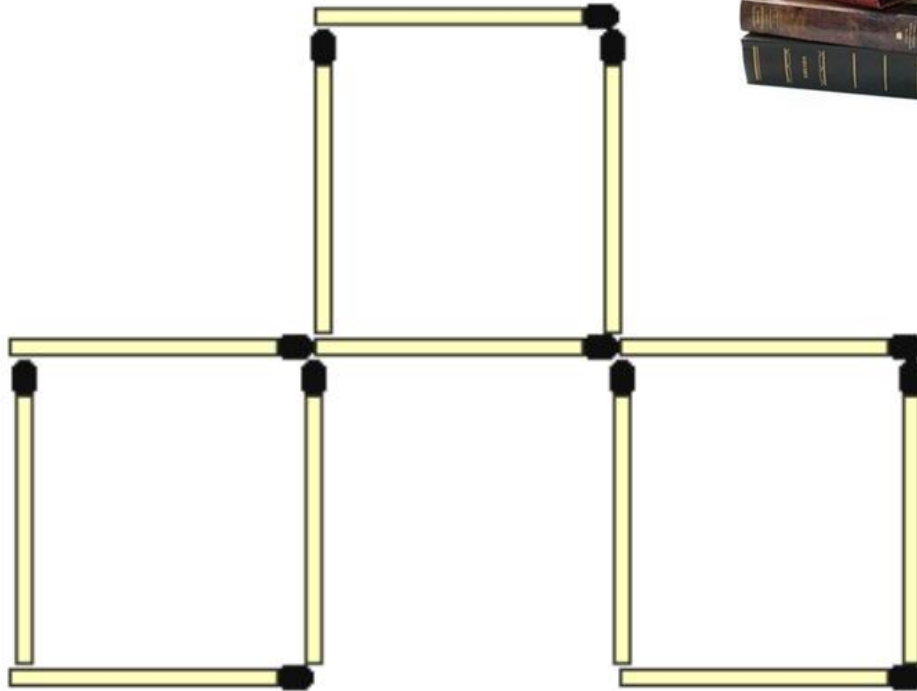


КАК ПРОВЕРИТЬ
ДОСТИЖЕНИЕ НОВЫХ
ОБРАЗОВАТЕЛЬНЫХ

РЕЗУЛЬТАТОВ?



Задача со спичками


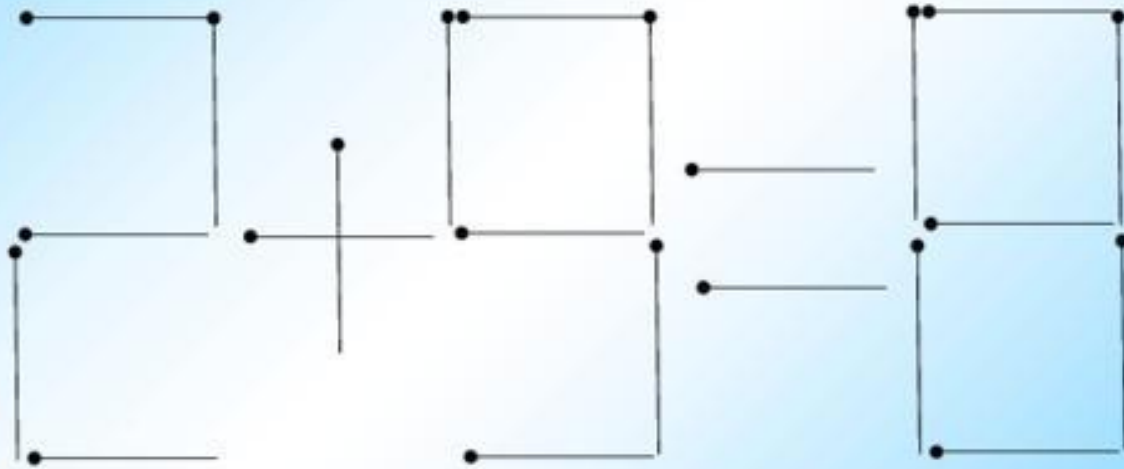


Переложи 3 спички так, чтобы получилось 4 одинаковых квадрата.

Задачи со спичками 200

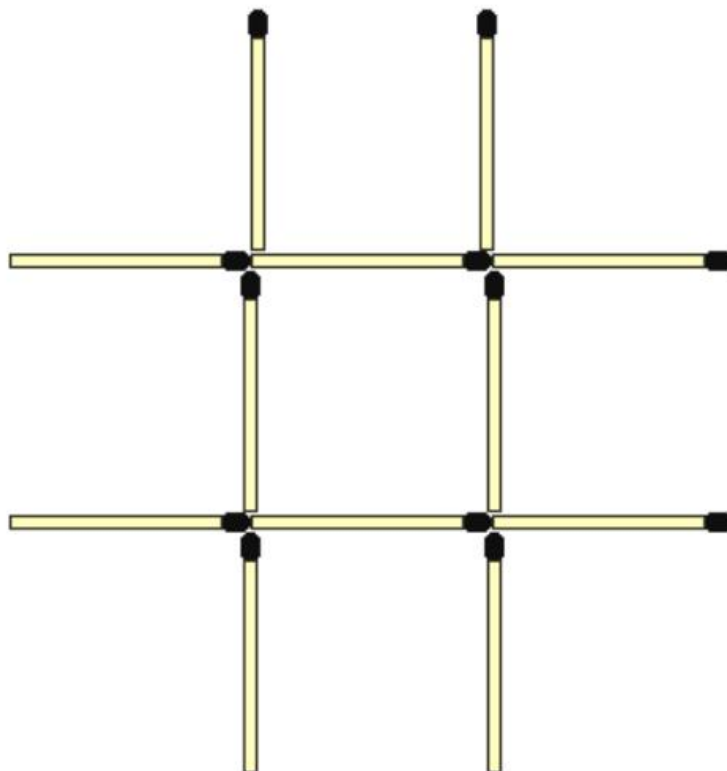



Перенесите одну спичку, чтобы выражение стало верным





Задача со спичками



Переложи 3 спички так, чтобы получилось 3 одинаковых квадрата.

Задания с поисково-исследовательским характером:



Найди правильный
ответ:



Произведение
чисел 18 и 3
равно

- 6
- 36
- 54
- 15



Найди правильный
ответ:



Вычисли:
2м - 40см

- 240
см
- 42
см
- 1960
см
- 160
см





**Благодарю за
внимание!**