


Математически

й

базар

(для учащихся

1-4 классов)





ПИФАГОР





Быстро и правильно отвечай





Быстро и правильно отвечай

- Сколько пальцев на руке?*
- Как называется знак сложения?*
- Сколько носов у двух псов?*
- Сколько хвостов у семи китов?*
- Сколько слогов в слове школа?*
- Какое число идёт при счете после 8?*
- Сколько букв в слове я?*
- Назовите первый день недели?*
- Сколько орехов в пустом стакане?*
- Сколько пальчиков у четырёх мальчиков?*
- Сколько ушей у пяти малышей?*
- Сколько месяцев в году?*
- Сколько слогов в слове умножение?*
- Как называется результат при умножении?*
- Назовите число в котором 7 дес 9ед*
- На дубе выросли 8 яблок и 6 груш. Ск всего фруктов выросло на дубе?*





Быстро и правильно отвечай

5

Плюс

2

7

2

9

1

понедельник

• несколько, стакан пустой

•40

•10

•12

•4

•Произведение

•79


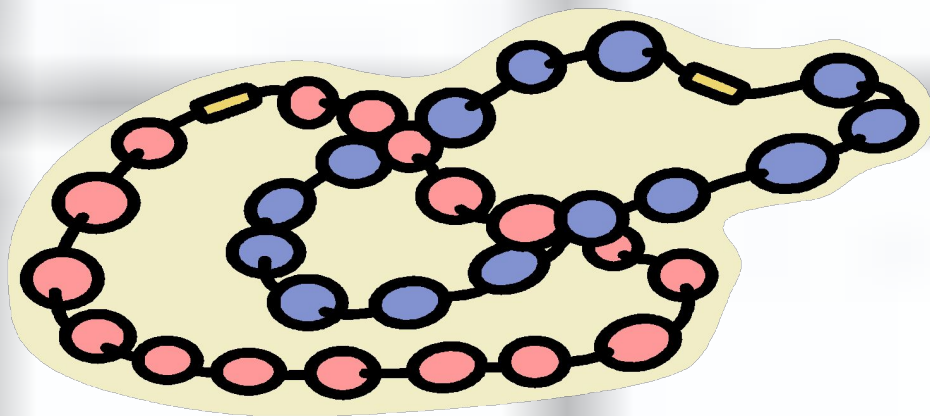
•0





Математические бусы

*Из разных чисел я сделала бусы,
А в тех кружках, где чисел нет,
Расставьте минусы и плюсы,
И деление с умноженьем
Чтоб данный получить ответ.*





Математические бусы

$$2 + 3 - 1 + 4 - 2 = 4$$

$$1 \frac{1}{2} + 8 - 2 \frac{3}{0} = 4 \frac{4}{0}$$

$$6 \frac{5}{5} + 3 \frac{3}{0} - 5 + 7 - 2 \frac{3}{3} = 6 \frac{0}{0}$$

$$1 \frac{2}{0} + 3 \frac{3}{0} - 1 \frac{1}{0} + 2 \frac{2}{0} - 1 \frac{1}{0} = 2 \frac{0}{0}$$





Математические бусы

$$2 + 3 + 1 - 4 + 2 = 4$$

$$\begin{matrix} 1 \\ 2 \end{matrix} + \begin{matrix} 1 \\ 0 \end{matrix} + 8 - \begin{matrix} 2 \\ 0 \end{matrix} + \begin{matrix} 3 \\ 0 \end{matrix} = \begin{matrix} 4 \\ 0 \end{matrix}$$

$$\begin{matrix} 6 \\ 5 \end{matrix} + \begin{matrix} 3 \\ 0 \end{matrix} - 5 - 7 - \begin{matrix} 2 \\ 3 \end{matrix} = \begin{matrix} 6 \\ 0 \end{matrix}$$

$$\begin{matrix} 1 \\ 2 \\ 0 \end{matrix} - \begin{matrix} 3 \\ 0 \end{matrix} - \begin{matrix} 1 \\ 0 \end{matrix} + \begin{matrix} 2 \\ 0 \end{matrix} + \begin{matrix} 1 \\ 0 \\ 0 \end{matrix} = \begin{matrix} 2 \\ 0 \\ 0 \end{matrix}$$





Что означают эти выражения?





*Одна нога
здесь,
другая –там.*

*Как свои пять
пальцев.*

*На все четыре
стороны.*

*От горшка два
вершка.*





Быстро

*Знать очень
хорошо*

Куда угодно

Маленький





Отгадай ребус





С З Ж

ВИ З НА

ВО 100 К

ПРО 100 Р







по 2 л

100 ЯНКА

7

100 Г








Сказочный

*Сколько поросят строили дома?
Сколько козлят было у многодетной козы?
Сколько друзей-гномов было у Белоснежки?
Сколько лет жил старик со старухой у моря
в сказке А.С.Пушкина «Сказка о рыбаке и рыбке»?*







33 года



Семеро



7



3





Собери пословицу.





СЕМЬ

ОТРЕЖЬ

- ОДИН

РАЗ

ОТМЕРЬ

ГОЛОВА

ОДНА

ХОРОШ
О

ЛУЧШЕ

, А

ДВЕ

ЛУЧШЕ

СТО

РАЗ

УВИДЕТЬ

УСЛЫШАТЬ

, ЧЕМ

РАЗ

ОДИН

ВЛЕТЕЛО

-
ВЫЛЕТЕЛО

В

УХО

ДРУГОЕ

ОДНО

, В





*Семь раз
отмерь –
один отрежь.*

*Одна голова
хорошо, а две
лучше.*

*Лучше один раз
увидеть, чем
сто раз
услышать.*

*В одно ухо
влетело, в другое
- вылетело.*





*Прояви
смекалку.*








*1. В доме 7
этажей.
Какой этаж
средний?*

*2. На полке 9 пар
сапог. Сколько
сапог на правую
ногу?*

*3. Как найти
середину палки,
имея веревку
такой же
длины?*



*4. Подрисуйте к
квадрату два
треугольника так,
чтобы получился
треугольник.*






5. У квадрата 4 угла. Сколько углов останется, если отрезать один из них?

7. «Мышеловка» из трех букв.

6. Закричал один петух и разбудил одного человека. Сколько нужно петухов, чтобы разбудить 10 человек?

8. Батон разрезали на 3 части. Сколько сделали разрезов?





9. *Круглый, но не дурак, с дыркой, но не бублик.*

11. *Шла старушка в Москву, а навстречу ей три старика. Сколько человек шло в Москву?*

10. *Над рекой летели птицы: голубь, щука, две синицы, два стрижа и пять угрей. Сколько птиц? Ответ скорей!*

12. *Сколько горошин входит в пустой стакан?*





Подведение итогов.

