



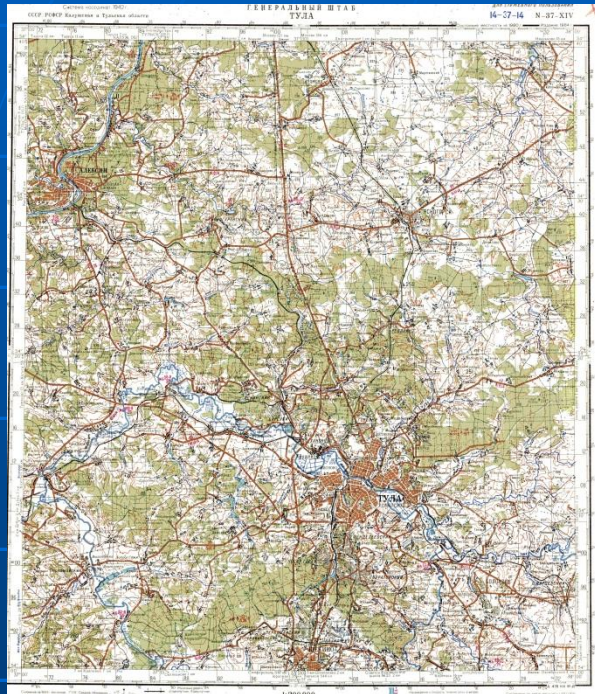
# Виды условных знаков

**ЦЕЛЬ:** сформировать представление о видах условных знаков и легенде карт.

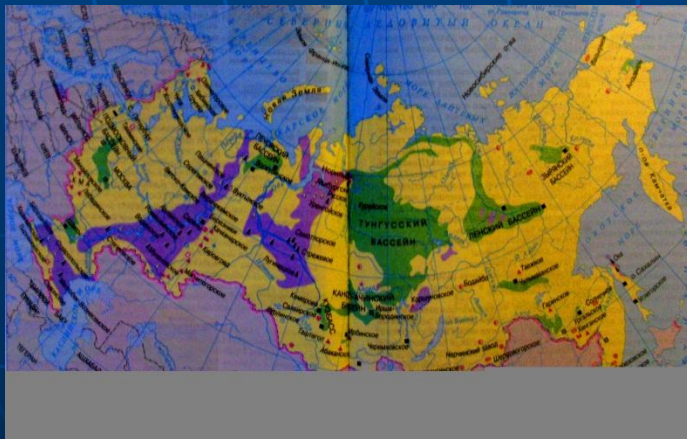
**ЗАДАЧИ:**

- сформировать понятия «условные знаки», «легенда карты»;
- сформировать представления о видах и значении условных знаков;
- выработать умение пользоваться разными условными знаками для характеристики территории;
- начать формирование умения работы с контурной картой.

# Виды карт по содержанию



- Общегеографические карты. На них изображается поверхность Земли. Это физические и **топографические** карты.
- Тематические карты. На них изображаются отдельные явления. Это климатические, тектонические карты, карты земельных, лесных, **минеральных ресурсов** и т.д.



# Условные знаки

- В зависимости от назначения карты используются различные условные знаки, перечень которых дан в легенде карты.
- Виды условных знаков: качественный фон, знаки, изолинии и знаки движения.

# Качественный фон

## ФИЗИЧЕСКАЯ КАРТА МИРА



# Знаки


## Полезные ископаемые



Нефть



Газ



Каменный уголь



Железная руда



Золото

## Топографические знаки



Здание



Завод



Грунт. дорога




Шоссе



Мост



Родник




Река



Сад



Лес



Луг



Кустарники



Горизонтали

# Определите вид условных знаков

	Смешанный лес		Луга
	Хвойные леса		Болото непроходимое с камышом
	Лиственные леса		Болото проходимое
	Вырубленный лес		Сплошной кустарник
	Горелый лес		Курганы (+8,1-высота кургана в м)
	Редкий лес с буреломом		Пески ровные
	Просеки в лесу		Подписи высот и горизонталей Перевалы
	Отдельные рощи или небольшие лески, имеющие значение ориентиров		Овраги
	Фруктовые сады		Ледник и морена


- Линии связи (телефонные, телеграфные, радиотрансляции)

- Линии электропередачи на деревянных опорах

- Древние исторические стены (5—высота стены в метрах)

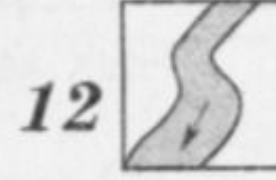

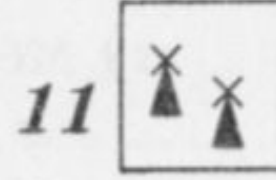

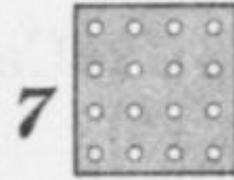


Маяки



Огни

# Подпишите названия условных знаков



1. \_\_\_\_\_
2. \_\_\_\_\_
3. \_\_\_\_\_
4. \_\_\_\_\_
5. \_\_\_\_\_
6. \_\_\_\_\_
7. \_\_\_\_\_
8. \_\_\_\_\_
9. \_\_\_\_\_
10. \_\_\_\_\_
11. \_\_\_\_\_
12. \_\_\_\_\_





# Изолинии и знаки движения



- Изолиния- линия на карте, соединяющая точки с одинаковыми значениями каких-либо величин.
- Знаки движения указывают направление ветра, морских течений.



# Домашнее задание

Параграф №9; изобразить схему движения «Дом- школа» с помощью условных знаков.