



***ПРЕДМЕТ МАТЕМАТИКИ
НАСТОЛЬКО СЕРЬЁЗЕН, ЧТО
ПОЛЕЗНО НЕ УПУСКАТЬ СЛУЧАЕВ
ДЕЛАТЬ ЕГО НЕМНОГО
ЗАНИМАТЕЛЬНЫМ.***

Б. ПАСКАЛЬ





УМНИКИ

И

УМНИЦЫ



Подготовила: учитель
математики Клочкова Светлана
Викторовна

БОУ «Самсоновская СОШ»
Тарского муниципального района
Омской области

I ЭТАП

- -занимательная геометрия
- - реши задачки
- -ребусы

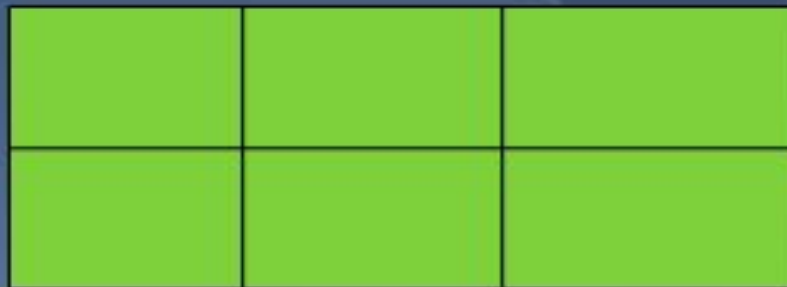


2 этап

ЗАНИМАТЕЛЬНАЯ ГЕОМЕТРИЯ

Занимательная геометрия

 Сколько
прямоугольников?



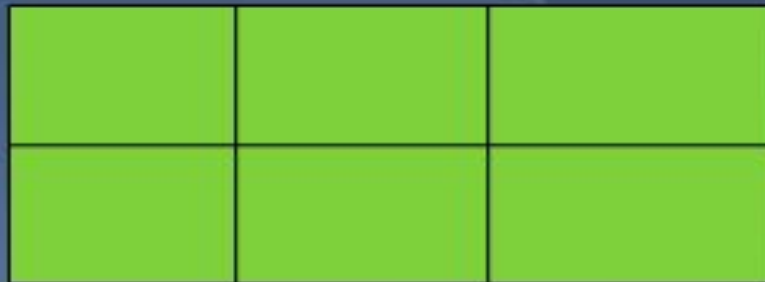
ЗАНИМАТЕЛЬНАЯ ГЕОМЕТРИЯ

ОТВЕТ

Занимательная геометрия

 Сколько
прямоугольников?

18



РЕШИ ЗАДАЧКУ

- ▣ **Иру спросили: «Сколько учеников у вас в классе?» Ира ответила «Это число меньше 26, но больше 23 и является чётным». Сколько учеников в классе у Иры?**



ответ

РЕШИ ЗАДАЧКУ

ОТВЕТ

▣ Иру спросили: «Сколько учеников у вас в классе?» Ира ответила «Это число меньше 26, но больше 23 и является чётным». Сколько учеников в классе у Иры?

▣ **Ответ:** 24 ученика в классе у Иры.



РЕБУСЫ



ОТВЕТ

РЕБУСЫ



ОТВЕТ: ДАЧА



II ЭТАП

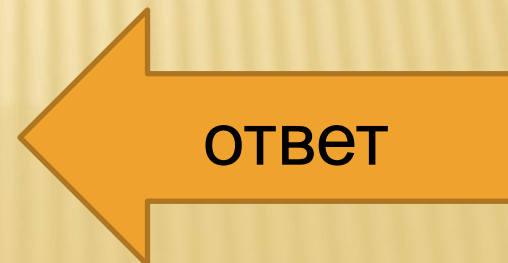

- - Математика в пословицах и поговорках
- - Ребусы
- - Задачи на смекалку



3 этап

ЗАДАЧИ НА СМЕКАЛКУ

- У семи братьев по одной сестре.
Сколько всего детей?




ЗАДАЧИ НА СМЕКАЛКУ

ОТВЕТ

- У семи братьев по одной сестре.
Сколько всего детей?

- **Ответ: 8 детей**



РЕБУСЫ

Д

”



← ОТВЕТ

РЕБУСЫ



ОТВЕТ: ДВА




ЧИСЛА В ПОСЛОВИЦАХ И ПОГОВОРКАХ.

- Вставь пропущенное число в пословицах и поговорках.
- Конь о _____ ногах, да и то спотыкается.
- Не имей _____ рублей, а имей _____ друзей.



ЧИСЛА В ПОСЛОВИЦАХ И ПОГОВОРКАХ. ОТВЕТ

- Вставь пропущенное число в пословицах и поговорках.
- Конь о четырёх ногах, да и то спотыкается.
- Не имей 100 рублей, а имей 100 друзей.




III ЭТАП

- Занимательная геометрия
- Три вопроса на смекалку
- Составь слово

ЗАНИМАТЕЛЬНАЯ ГЕОМЕТРИЯ

- Сколько треугольников вы видите на




← ОТВЕТ


ЗАНИМАТЕЛЬНАЯ ГЕОМЕТРИЯ

ОТВЕТ

- Сколько треугольников вы видите на рисунке



- Ответ: **12** треугольников



ТРИ ВОПРОСА НА СМЕКАЛКУ

- У квадрата 4 угла. Сколько углов останется, если отрезать один из них?
- Закричал один петух и разбудил одного человека. Сколько нужно петухов, чтобы разбудить 10 человек?
- На грядке сидели 7 воробьев. К ним подкрался кот и схватил одного. Сколько воробьев осталось на грядке?




ОТВЕТ

ТРИ ВОПРОСА НА СМЕКАЛКУ

ОТВЕТЫ

- У квадрата 4 угла. Сколько углов останется, если отрезать один из них? **(ответ: 5)**
- Закричал один петух и разбудил одного человека. Сколько нужно петухов, чтобы разбудить 10 человек? **(ответ: 1)**
- На грядке сидели 7 воробьев. К ним подкрался кот и схватил одного. Сколько воробьев осталось на грядке?
(ответ: ни одного, кот всех распугал.)



СОСТАВЬ СЛОВО

Нужно взять по одному слогу из данных слов и составить математический термин

- 1. СУМКА, МАШИНА
- 2. ДЕЛО, ЛИМОН, ЖИТЕЛЬ




ОТВЕ

Т

СОСТАВЬ СЛОВО ОТВЕТЫ

Нужно взять по одному слогу из данных слов и составить математический термин

- 1. СУМКА, МАШИНА (СУММА)
- 2. ДЕЛО, ЛИМОН, ЖИТЕЛЬ
(ДЕЛИТЕЛЬ)



IV ЭТАП


- -Посчитай
- -Геометрические
фигуры
- - Задачи на
сообразительность



ВЫХОД

ПОСЧИТАЙ

- 1. К 4 десяткам и 3 единицам прибавить 7 единиц.
- 2. Уменьшаемое 80, вычитаемое 30, найти разность.
- 3. 1 слагаемое – 22, второе слагаемое – 9, назовите сумму.



ПОСЧИТАЙ ОТВЕТЫ

- 1. К 4 десяткам и 3 единицам прибавить 7 единиц.


Ответ: 50

- 2. Уменьшаемое 80, вычитаемое 30, найти разность.

Ответ: 50


- 3. 1 слагаемое – 22, второе слагаемое – 9, назовите сумму.

□ **Ответ: 31**



ГЕОМЕТРИЧЕСКИЕ ФИГУРЫ

- 1. Как называется линия, имеющая начало, но не имеющая конца?
- 2. Как называется фигура, не имеющая углов?
- 3. Сколько прямых углов у прямоугольного треугольника?



ГЕОМЕТРИЧЕСКИЕ ФИГУРЫ

ОТВЕТЫ

- 1. Как называется линия, имеющая начало, но не имеющая конца?


Ответ: прямая

- 2. Как называется фигура, не имеющая углов?

□ **Ответ: круг**

- 3. Сколько прямых углов у прямоугольного треугольника?

□ **Ответ: один**



ЗАДАЧИ НА СООБРАЗИТЕЛЬНОСТЬ

- На заборе сидели 10 птиц. 3 галки, 2 вороны, 2 бабочки улетели.
- Сколько птиц осталось?




ОТВЕТЫ

ЗАДАЧИ НА СООБРАЗИТЕЛЬНОСТЬ

ОТВЕТЫ

- На заборе сидели 10 птиц. 3 галки, 2 вороны, 2 бабочки улетели.
- Сколько птиц осталось?
- **Ответ: 5 (бабочки не птицы)**



**ЖЕЛАЮ
УСПЕХОВ !**