

МАРШРУТНЫЙ ЛИСТ

Сложение и вычитание

числа 4



Повтори написание цифр

**Напишите числа до 10 в порядке
возрастания.**

1, 2, 3, 4, 5, 6, 7, 8, 9, 10.

Запиши и реши примеры

$4 + 5 =$

$3 + 6 =$

$2 + 5 =$


$9 - 3 =$

$8 - 4 =$

$5 -$

$2 =$

Устно составьте задачи.






7



Вспомни состав числа




4

2

2

Вспомни, что это за фигуры



$6 + 4 = 10$

$10 - 4 = 6$

Спасибо!

