


Пара лошадей пробежала 20 км.
Сколько километров пробежала
каждая лошадь?



**Куриное яйцо всмятку варится 4 мин.
А сколько минут варятся 5 яиц?**



4 мин



? мин

Летели утки: одна впереди и две позади, одна позади и две впереди, одна между двумя и три в ряд. Сколько всего летело уток?



**Сколько месяцев в году
имеют 28 дней?**



Мальчик написал на бумажке число **86** и говорит своему товарищу: «Не производя никакой записи, увеличь это число на 12 и покажи мне ответ». Недолго думая, товарищ показал ответ. А вы это сделать сумеете?

86

98

Петя хотел прибавить к 12 какое-то число.
Когда он сложил эти числа, то получил 63, но
оказалось, что он ошибся, его ответ на 1
больше того, который является правильным.
Какое число прибавлял Петя?

???



**Найдите три разных способа
выразить число 30 тремя
одинаковыми цифрами!**

$$30 = 5 \cdot 5 + 5$$

$$30 = 6 \cdot 6 - 6$$

$$30 = 33 - 3$$

Какое наибольшее число
можно записать с помощью
трёх двоек и арифметических
операций?

Чему равна сумма самого большого и самого маленького трёхзначных чисел?

$$999 + 100 = 1099$$

Сколько всего трёхзначных чисел?

$$999 - 100 + 1 = 900$$

В каком процессе вода заменила солнце, через 600 лет ее заменил песок, а еще через 1100 лет всех их заменил механизм?



В каком случае, смотря на цифру 2, мы говорим «десять»?



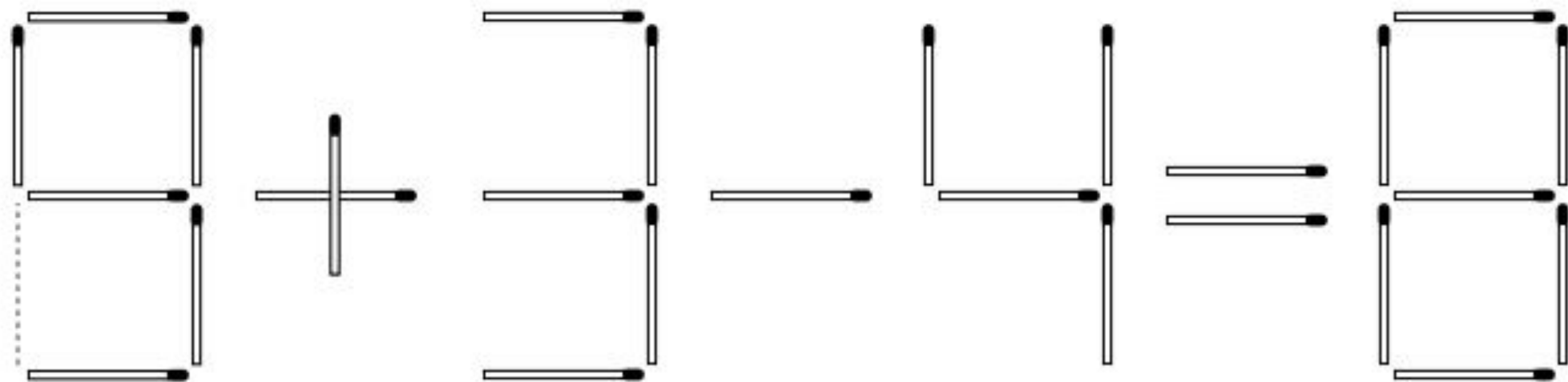
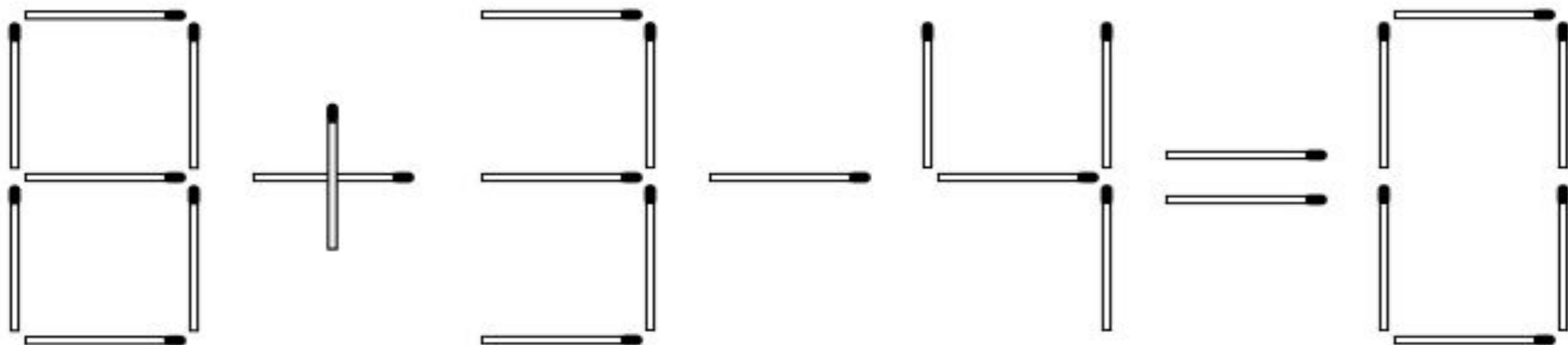
Если в 11 часов ночи идет дождь,
то возможно ли через 48 часов
солнечная погода?




Как приложить к четырём спичкам пять спичек так, чтобы получилось сто?



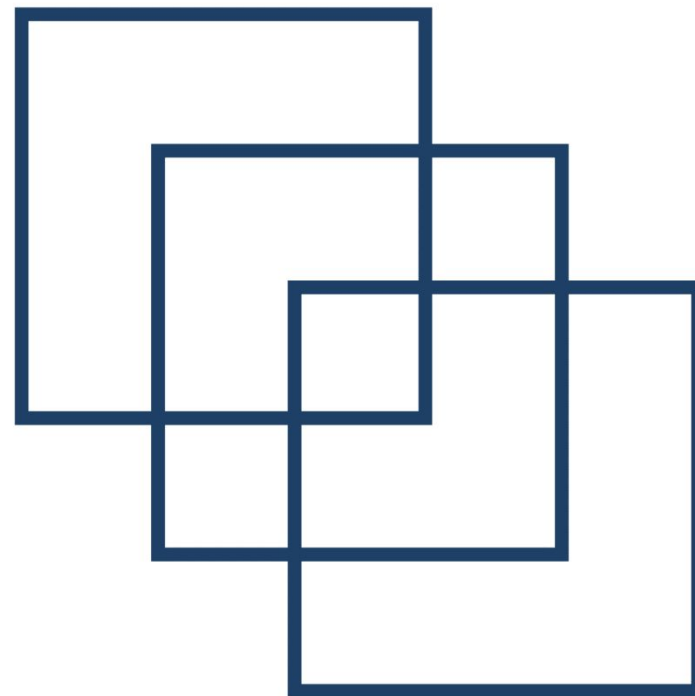
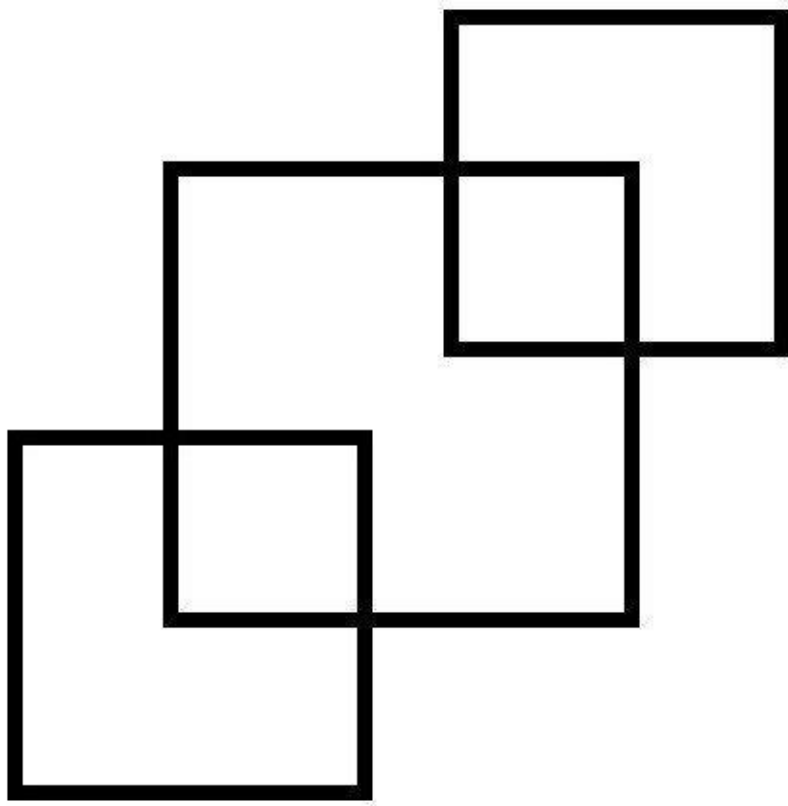
Нужно переложить ровно одну спичку так, чтобы равенство стало верным!



**Сколько треугольников
на рисунке?**



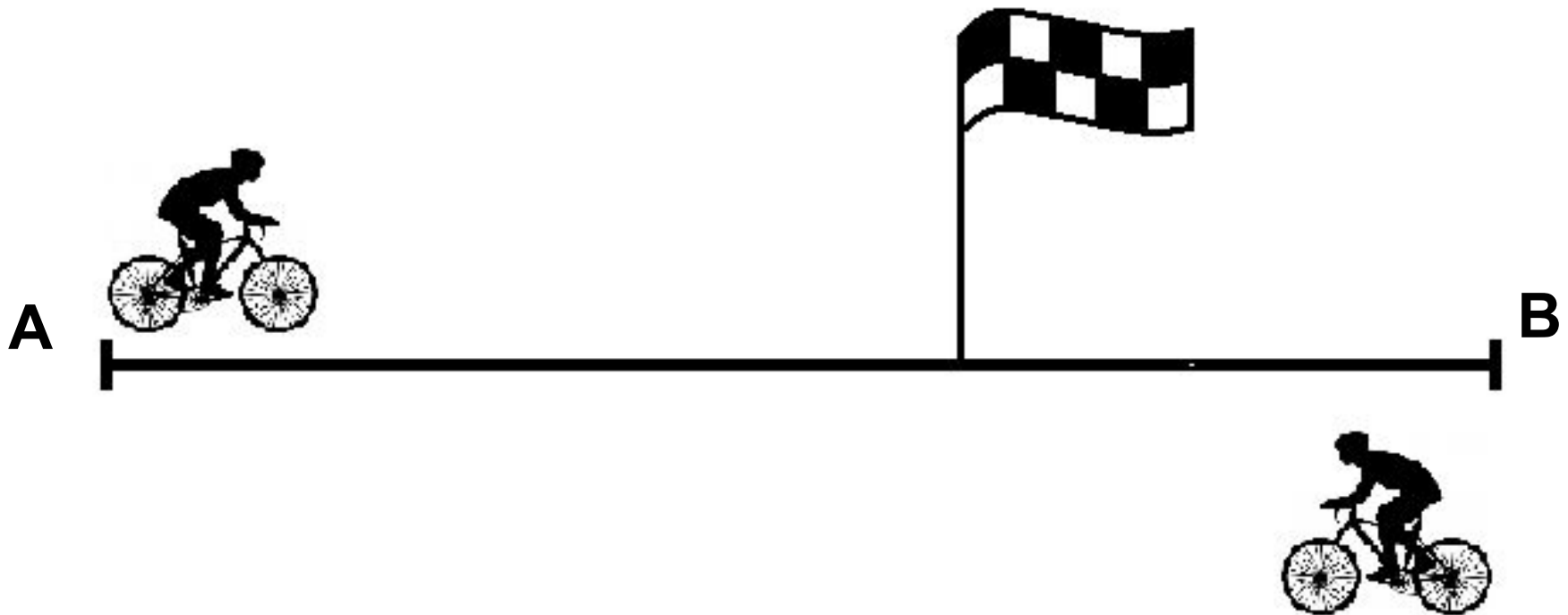
Сколько квадратов изображено на
каждом из рисунков?



Ручка на 100 рублей дороже карандаша, а вместе они стоят 110 рублей. Сколько стоит ручка, а сколько карандаш?



Два велосипедиста одновременно выехали навстречу друг другу: первый из пункта А со скоростью 20 км/ч, второй из В со скоростью 15 км/ч.
Который из велосипедистов будет ближе к А в момент встречи их?



В одной комнате 16 стульев, а в другой 10.
Сколько стульев нужно переместить из первой
комнаты во вторую, чтобы стульев в каждой
комнате стало одинаковое число стульев?



Марина мечтала о шоколаде, но ей на покупку не хватало 10 рублей. Вася тоже мечтал о шоколадке, но ему не доставало 1 рубля. Дети решили купить хотя бы одну шоколадку на двоих, но им всё равно не хватило 1 рубля. Какова стоимость шоколадки?

