

**Случаи  
вычитания 11-**



Запиши ответы в тетрадь.



A flower-shaped diagram with a central stem and two leaves. The stem is a vertical line with a red circle at the top containing a blue plus sign (+) and a red circle at the bottom containing a blue minus sign (-). The leaves are two large, rounded shapes, each containing a red number: the left leaf contains '5' and the right leaf contains '12'. The petals are arranged in three rows: the top row has three petals with numbers 1, 8, and 9; the middle row has three petals with numbers 5, 1, and 12; the bottom row has three petals with numbers 1, 7, and 6. A red number '1' is also written below the bottom-left petal.



В ящике **15** кг яблок, а в корзине на **10** кг меньше.  
Сколько кг яблок в корзине?

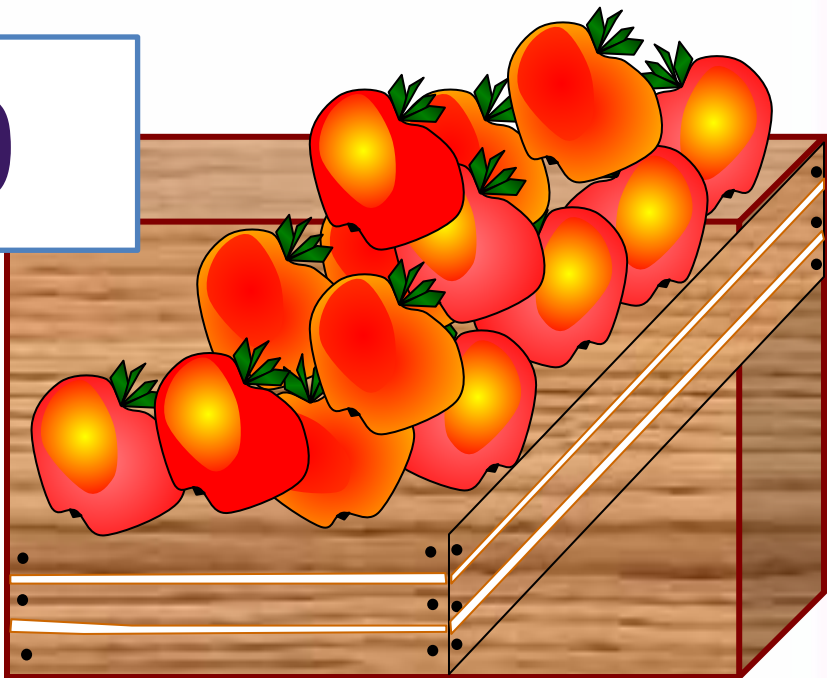

**5**

$$15 - 10 = 5$$


**КГ** Сколько всего кг яблок в ящике и корзине  
вместе?



$$15 + 5 = 20$$



После того как Петя решил **6** примеров, ему осталось решить **9**. Сколько примеров нужно решить Пете ?




15

$$9 + 6 = 15$$

**3** девочки нарисовали двух кошек и зайца. Что рисовала Ася, если Катя с Асей и Лена с Асей рисовали разное?



**Ася -  
зайца.**

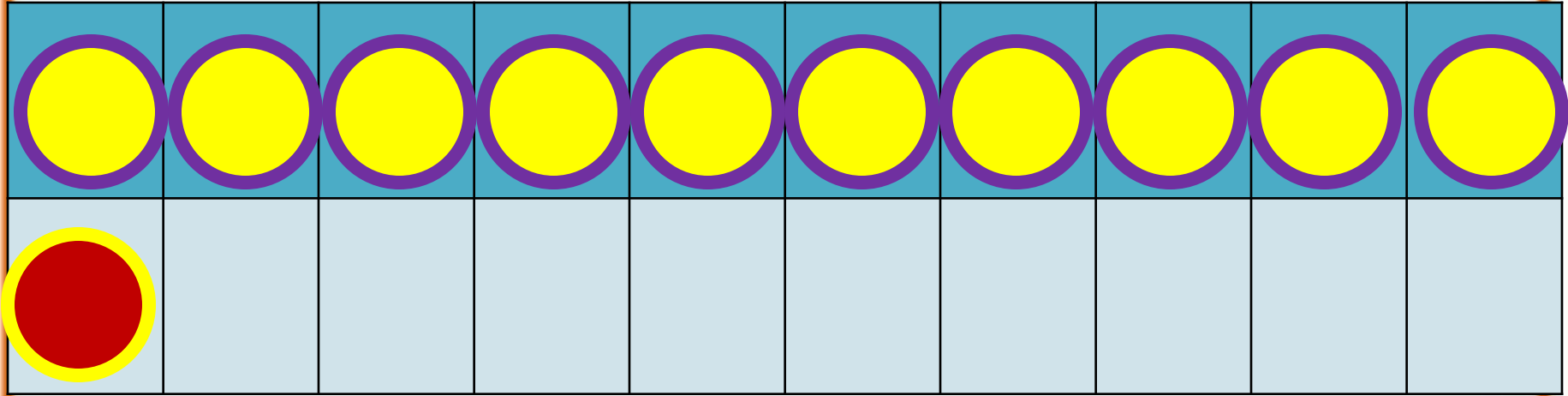


# Состав числа

11

	9	8	7	6
11	2	3	4	5

1



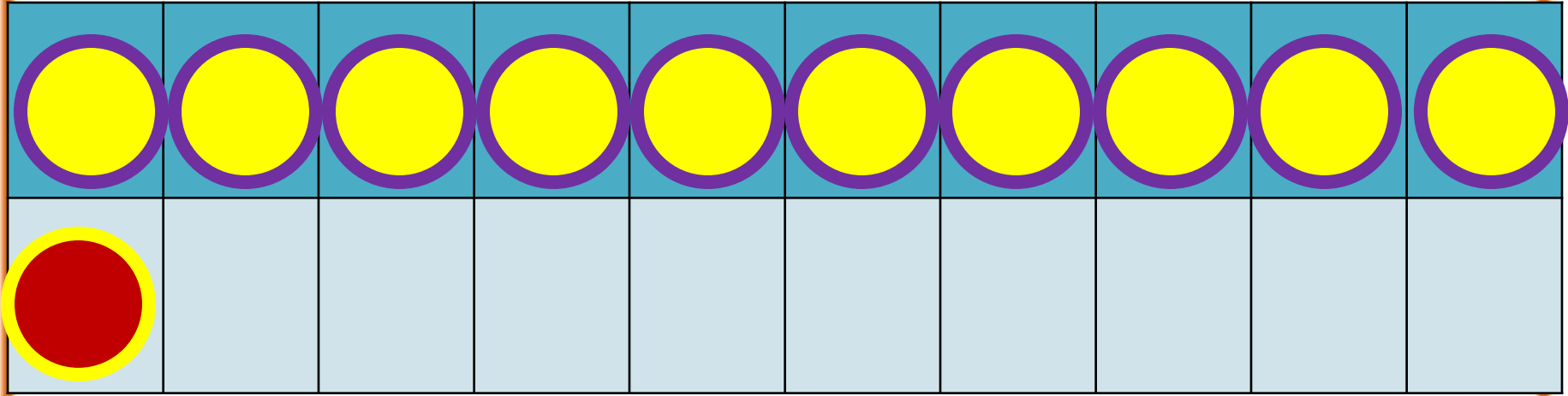
2



способ

$$11 - 2$$

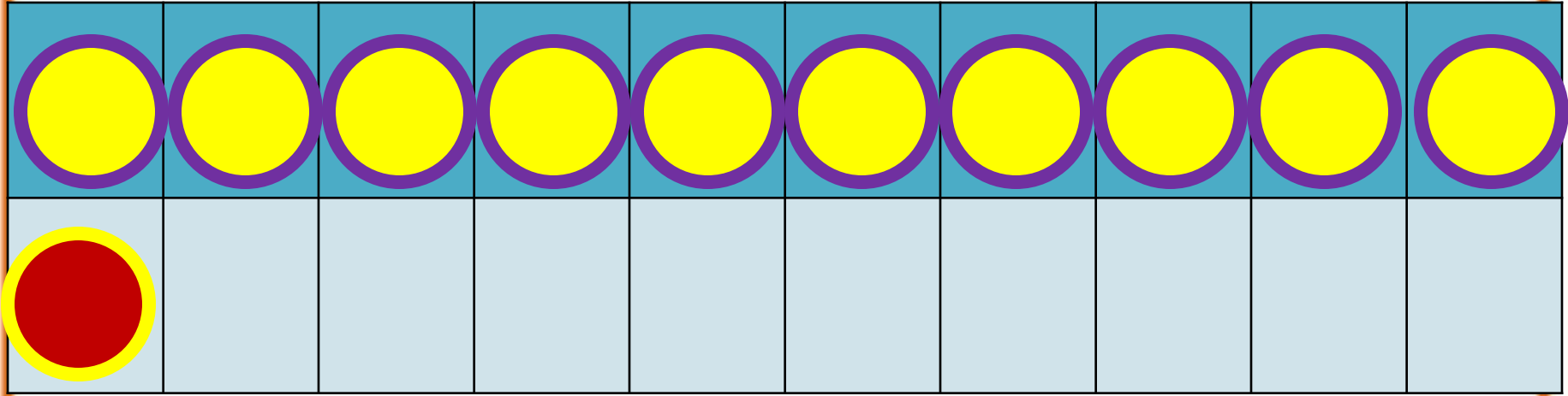
$$11 - 1 - 1$$



$$11 - 3$$

$$11 - 1 - 2$$






$$11 - 4$$

$$11 - 1 - 3$$

# Случай вычитания

$$12 - \square$$

Собери фрукты с ответом 11.



Сосчитай примеры.



$$9 + 6 - 4 =$$

11

$$7 + 7 + 4 =$$

18

$$11 - 3 - 5 =$$

3

$$11 - 6 + 8 =$$

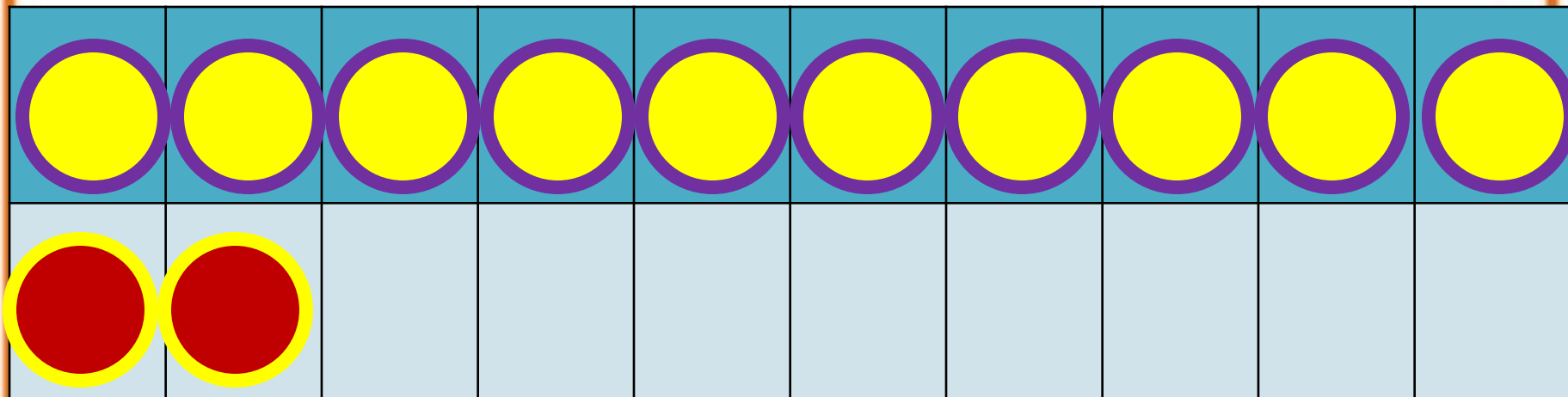
13

# Состав числа 12



	9	8	7	6
12	3	4	5	6

1 способ



**2 способ**

**12 - 3**

**12 - 2 - 1**

Заполни пропуски.



$$12 - 6 = 12 - 2 - \underline{\quad}$$

$$12 - 7 = 12 - 2 - \underline{\quad}$$

$$12 - 8 = 12 - 2 - \underline{\quad}$$







# Запомни!

$$11 - 2 = 9$$

$$11 - 3 = 8$$

$$11 - 4 = 7$$

$$11 - 5 = 6$$

$$11 - 6 = 5$$

$$11 - 7 = 4$$

$$11 - 8 = 3$$

$$11 - 9 = 2$$

4. Ребята посадили по 10 горошин. У Коли не дали ростки 3 горошины, а у Миши — 4. Сколько горошин дали ростки у каждого из этих мальчиков?

5. Из коробки взяли 6 кубиков. Сколько кубиков надо положить в коробку, чтобы в ней стало на 3 кубика больше, чем было сначала?

---

▶  $11 - 7 = \square$

$11 - 3 = \square$

$11 - 6 = \square$

Стоит в поле дуб. На дубе **три** ветки, на каждой ветке по **три** яблока. Сколько всего яблок?



**На дубе яблоки  
не растут.**





Ты пилот самолета, летящего из Парижа в Москву с посадкой в Киеве. Время в полете - 2 часа. Сколько лет пилоту?



А сколько тебе?

Какого цвета стоп-кран в поезде и в самолете?



**В самолете нет  
стоп-крана.**