

Вычитание из чисел

6, 7.

Закрепление

изученных

Урок №

ПРИЁМОВ

85



Школа России
Математика 1 класс





Устный счёт

Реши примеры.



$$7 - 3 - 2 + 1 = 3$$

$$6 - 1 + 2 + 2 = 9$$

$$7 - 6 + 3 - 1 = 3$$

$$6 - 2 - 1 + 4 = 7$$

Какое самое большое число можно вставить в окошко.



$$+ 0 > 6$$

$$+ 0 < 6$$

$$+ 0 > 7$$

$$+ 0 < 8$$




Красиво вышила Татьяна
2 лилии и **2** тюльпана,
3 яблока и груши.
Какие чудные цветы!
А сколько их – скажи –ка ты.

$$2 + 2 =$$



$$4$$

На пасеке **7** медвежат
Играли в прятки у бочонка.
Один в бочонок еле влез,
А сколько убежало в лес?



6



$$7 - 1 = 6$$

7 яблок из сада
Ёжик притащил.
И несколько яблок
Белке подарил.
Сколько яблок получила белка,
Если **3** лежат у ежа в тарелке.



4

яблока




$$7 - 3 =$$

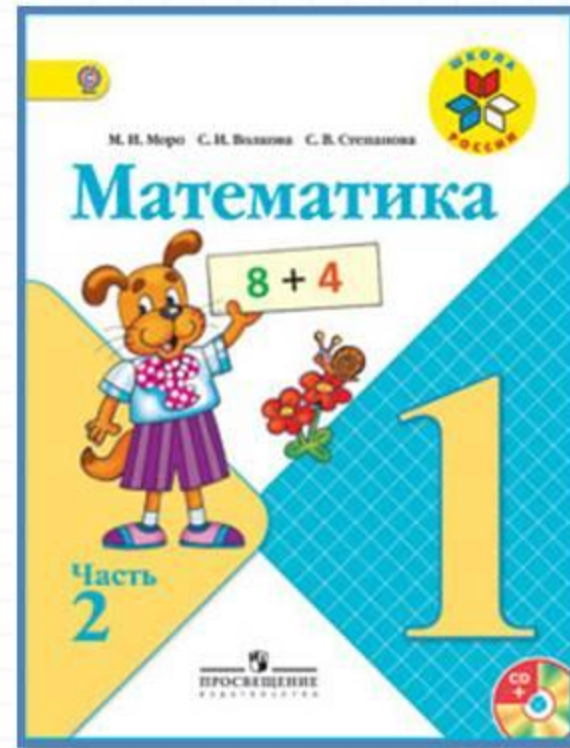


Физкультминутка

**Кустик гнется на ветру,
И роняет он листву.
Ветерок его качает,
Ветки до земли сгибает.
Лишь затихнет ветерок –
Кустик ветками взмахнет.**

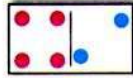


Работа по учебнику

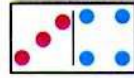


стр. 31

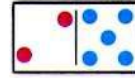
1. Объясни, как составлены равенства первого столбика. Закончи записи и вычисли.



$$\begin{aligned} 4 + 2 &= 6 \\ 6 - 2 &= \square \\ 6 - 4 &= \square \end{aligned}$$

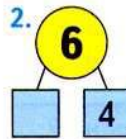


$$\begin{aligned} 3 + 4 & \\ \square - 3 & \\ \square - 4 & \end{aligned}$$

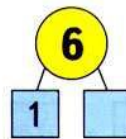


$$\begin{aligned} 2 + 5 & \\ \dots & \\ \dots & \end{aligned}$$

- 2.



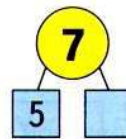
$$6 - 4$$



$$6 - 1$$



$$7 - 6$$



$$7 - 5$$

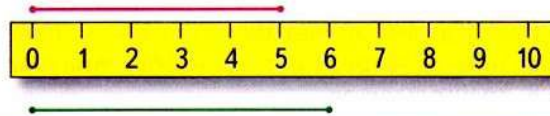
3. У белой наседки ,

а у пёстрой — на 2 цыплёнка меньше.
Сколько цыплят у пёстрой наседки?
Сколько всего цыплят у двух наседок?

4. У серой крольчихи ,

а у чёрной — на 2 кролика больше.
Сколько кроликов у чёрной крольчихи?
Сколько всего кроликов у этих крольчих?

5. Какой отрезок длиннее, а какой — короче? На сколько сантиметров?




$$\begin{array}{ccc} 6 - 4 + 5 & 5 + 4 - 3 & 3 + 3 - 6 \\ 6 - 5 + 7 & 7 - 6 + 4 & 8 - 7 + 6 \end{array}$$

СРАВНИ
РАВЕНСТВА.
КАКОЕ
СЛЕДУЮЩЕЕ?

$$\begin{aligned} 3 + 1 &= \square \\ 5 + 1 &= \square \\ 7 + 1 &= \square \\ \dots & \end{aligned}$$


1. Объясни, как составлены равенства первого столбика. Закончи записи и вычисли.



$$4 + 2 = 6$$

$$6 - 2 = \square$$


$$6 - 4 = \square$$



$$3 + 4$$

$$\square - 3$$

$$\square - 4$$

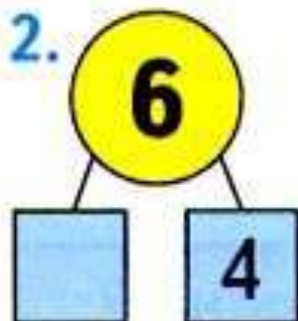


$$2 + 5$$

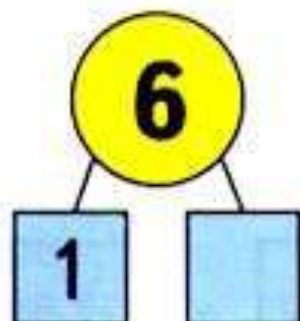
...

...

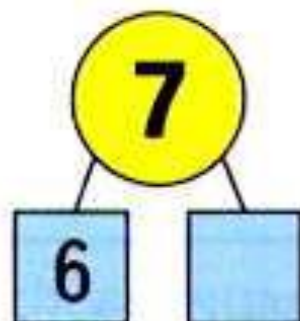
2.



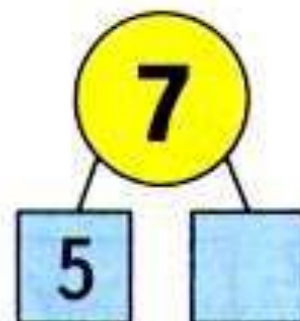
$$6 - 4$$



$$6 - 1$$



$$7 - 6$$



$$7 - 5$$

3. У белой наседки



а у пёстрой — на 2 цыплёнка меньше.

Сколько цыплят у пёстрой наседки?

Сколько всего цыплят у двух наседок?

4. У серой крольчихи

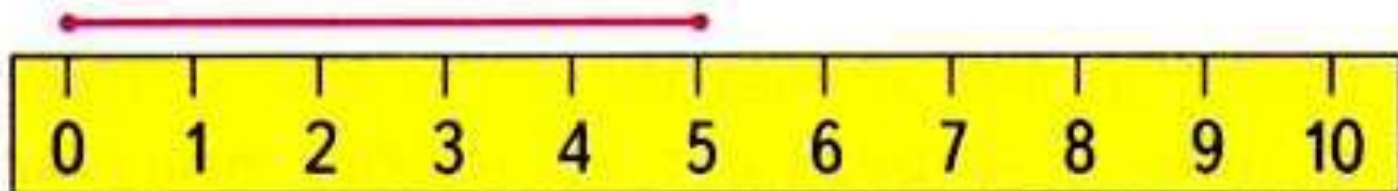


а у чёрной — на 2 кролика больше.

Сколько кроликов у чёрной крольчихи?

Сколько всего кроликов у этих крольчих?

5. Какой отрезок длиннее, а какой — короче? На сколько сантиметров?



$$6 - 4 + 5$$

$$5 + 4 - 3$$

$$3 + 3 - 6$$

$$6 - 5 + 7$$

$$7 - 6 + 4$$

$$8 - 7 + 6$$

Физкультминут

На реке живёт **е**нот.
Чешет лапкой он живот.
Своим хвостиком виляет,
Кверху лапки поднимает.
Шустро он по кочкам скачет,
Под корнём запасы прячет.
Он среди воды живёт
Добродушный наш енот.



Работа в тетради

стр. 18



- 1 Утром Дима прочитал 2 страницы книги, а вечером — на 3 страницы больше. Сколько ... Дима прочитал вечером?

_____ Ответ: _____

- 2 Лена полила 7 цветков, а Таня — на 4 цветка меньше. Сколько цветков полила Таня?

_____ Ответ: _____

Сколько всего цветков полили Лена и Таня?

_____ Ответ: _____

- 3 5 4 3 2



- 1 Утром Дима прочитал 2 страницы книги, а вечером — на 3 страницы больше. Сколько ... Дима прочитал вечером?

Ответ:

- 2 Лена полила 7 цветков, а Таня — на 4 цветка меньше. Сколько цветков полила Таня?

Ответ:

Сколько всего цветков полили Лена и Таня?

Ответ:

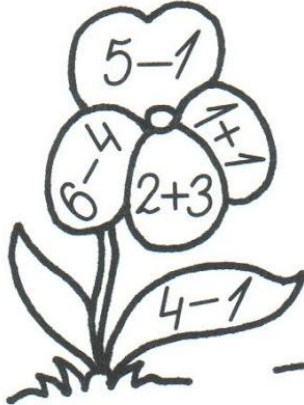

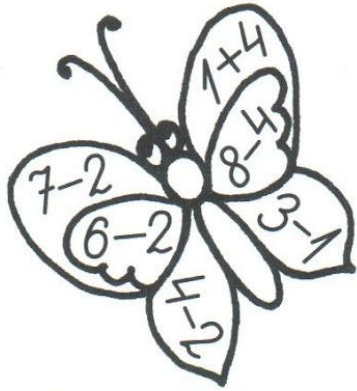
3

5

4


3

2




Задания на смекалку





Найди отличия на картинках.

Отгадай ребус.



запах



••••



1, 3, 4, 2

ЗВОНО

Рефлексия

- Что мы с вами повторяли?
- Что запомнилось?
- Какие задания вызвали затруднение?
- Почему?
- Оцените свою работу на уроке.



