

# Случай вычитания

$$13 - \square$$



*Школа России*  
*Математика 1 класс*





Устный счёт

Приведи кораблики к причалу, с ответом.  
(устно)

13



$7+5$



$7+6$



$8+5$



$8+4$



$6+6$



$9+4$


Реши цепочки примеров. Запиши примеры в тетрадь.

$$8 + 4 + 3 - 10 =$$

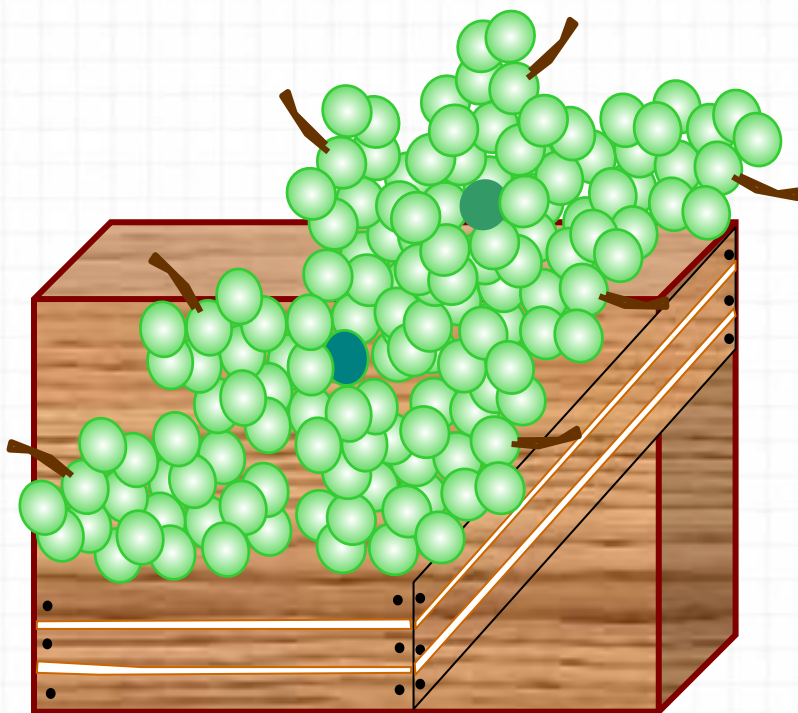
$$11 - 6 + 7 - 3 =$$

$$12 - 8 - 3 + 1 =$$

Один кабачок весит **3** кг. Найди массу **3** кабачков.(устно)




Собрали **16** кг винограда. Из **7** кг сделали сок, а **2** кг съели. Сколько кг винограда осталось? (устно)





# Новый материал



# Состав числа

13

9

8

7

13

4

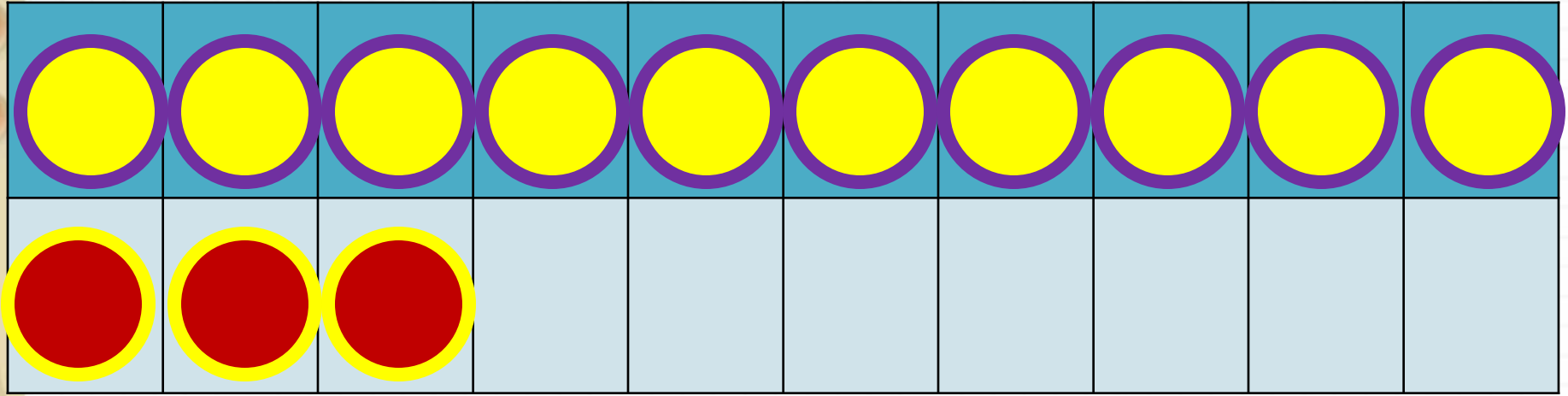
5

6

1

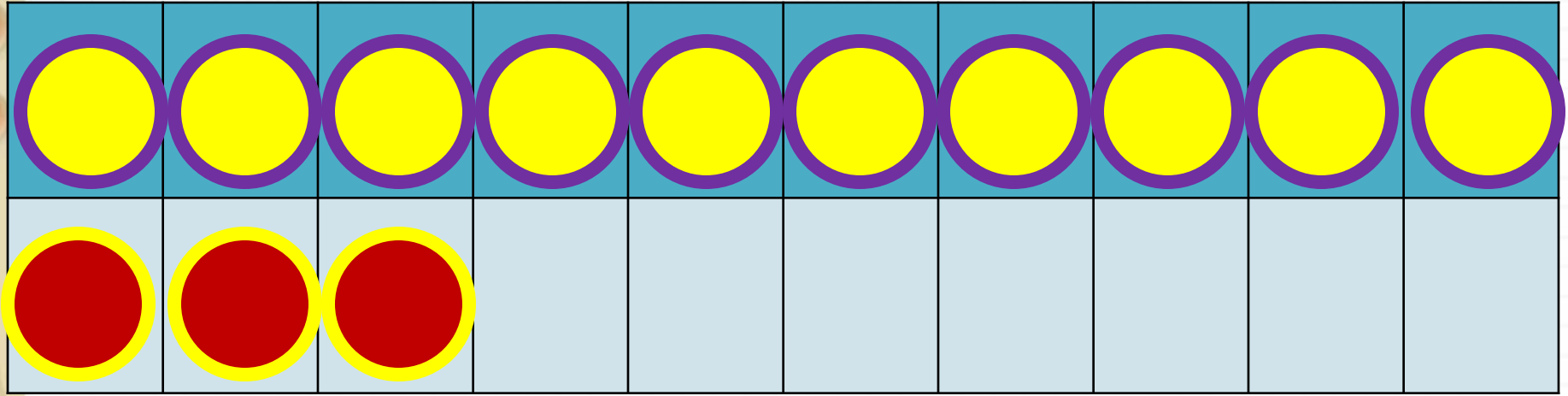
Из какого числа будем учиться  
вычитать сегодня?





$$13 - 4$$

$$13 - 3 - 1$$



$$13 - 5$$

$$13 - 3 - 2$$

**Заполни**

**пропуски.(устно)**

$$13 - 6 = 13 - 3 - \underline{\quad}$$

$$13 - 7 = 13 - 3 - \underline{\quad}$$

$$13 - 8 = 13 - 3 - \underline{\quad}$$

# Запомн

# и!

$$13 - 4 = 9$$

$$13 - 5 = 8$$

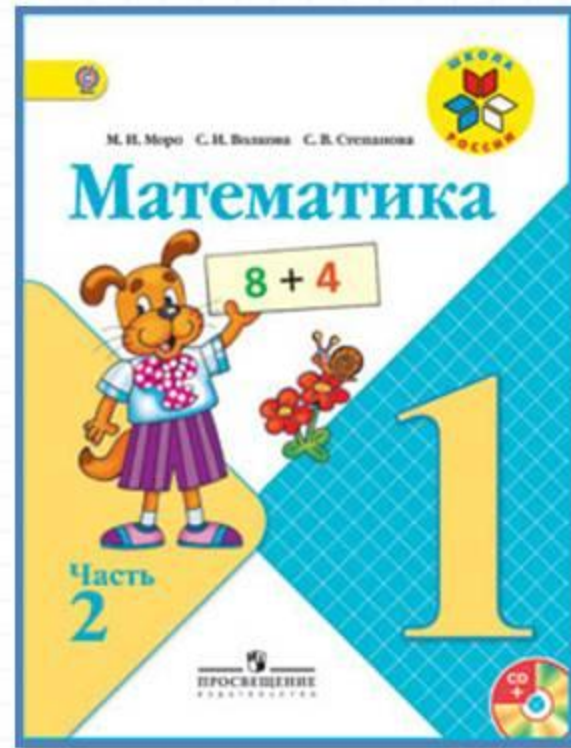
$$13 - 6 = 7$$

$$13 - 7 = 6$$

$$13 - 8 = 5$$

$$13 - 9 = 4$$

# Работа по учебнику



стр. 84

## Работа по учебнику стр. 84.

- № 1
- № 2
- № 4
- № 5
- № 6 (устно)



# Работа в тетради


стр.43(№1-3)



# Задания на смекалку



Вдоль дорожки друг за другом растут **5** деревьев, между которыми стоят скамейки. Сколько всего скамеек?



Отец с двумя детьми катались на велосипедах.  
Велосипедов было **3**, а колес **7**. Как это могло быть?





# Рефлексия

**С каким вычислительным приёмом мы познакомились сегодня на уроке?**

**Кто запомнил таблицу вычитания из числа 13?**

**Кому было трудно?**

**Какое задание было трудно выполнять?**

**Оцените свою работу на уроке.**

