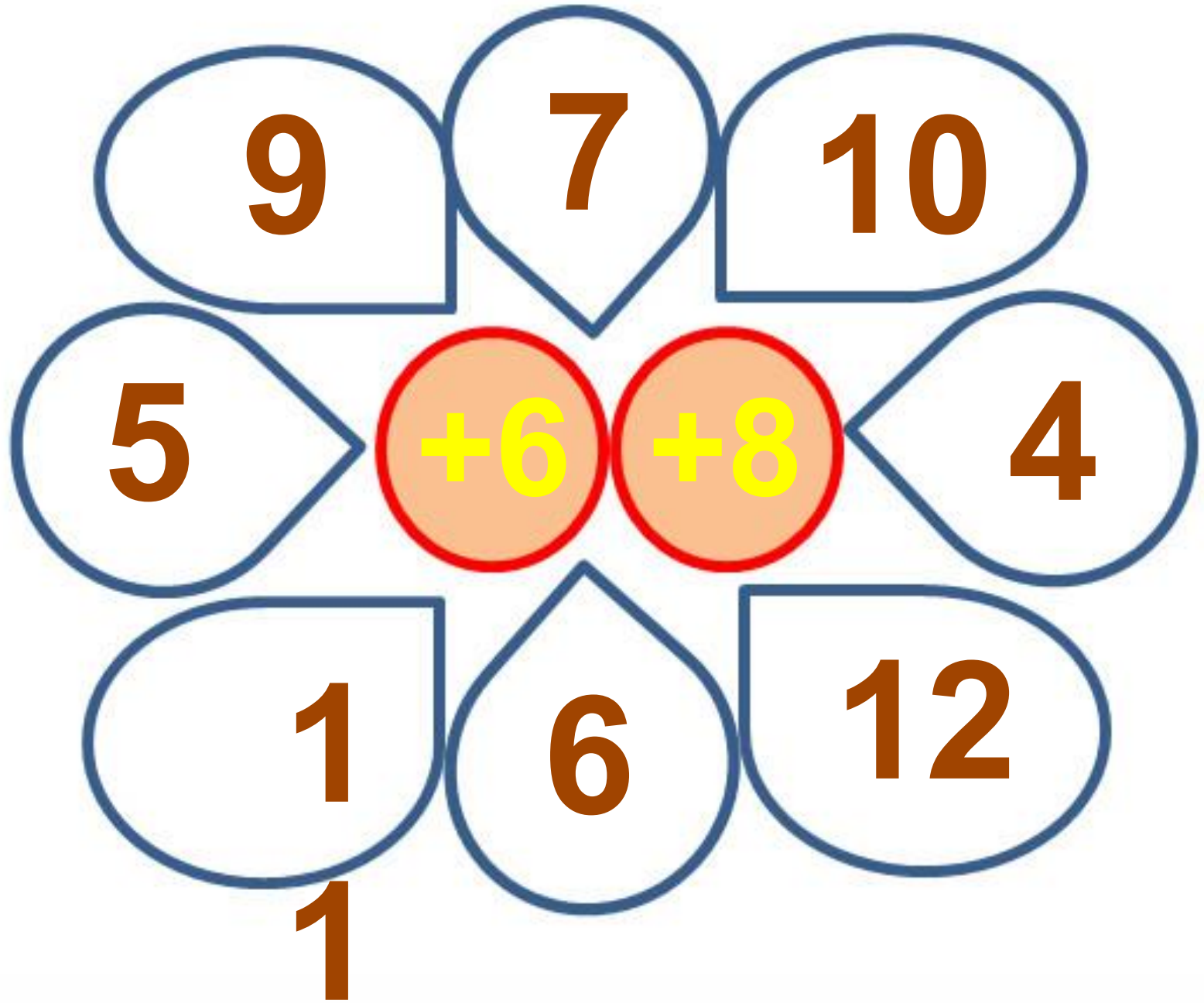


**Решение задач
и выражений.**

Урок № 106

УСТНЫЙ СЧЁТ





Купили **2** пучка по **10** редисок в каждом. Из **8** редисок сделали салат. Сколько редисок осталось?

12



$$10 + 10 - 8 = 12$$



После того как из корзинки взяли **7** яблок, в ней осталось **9** яблок. Сколько яблок было в корзине сначала?



16

$$7 + 9 = 16$$



В вазе было **17** конфет. Съели несколько штук.
Осталось **10**. Сколько конфет съели?




7

$$17 - 10 = 7$$



РАБОТА ПО УЧЕБНИКУ



Стр. 76 - 77

ЧТО УЗНАЛИ. ЧЕМУ НАУЧИЛИСЬ

1. У Веры было 10 р. Сколько рублей было у Люды, если у неё было на 2 р. меньше, чем у Веры?

Что известно из условия задачи? Что нужно узнать? Реши задачу.

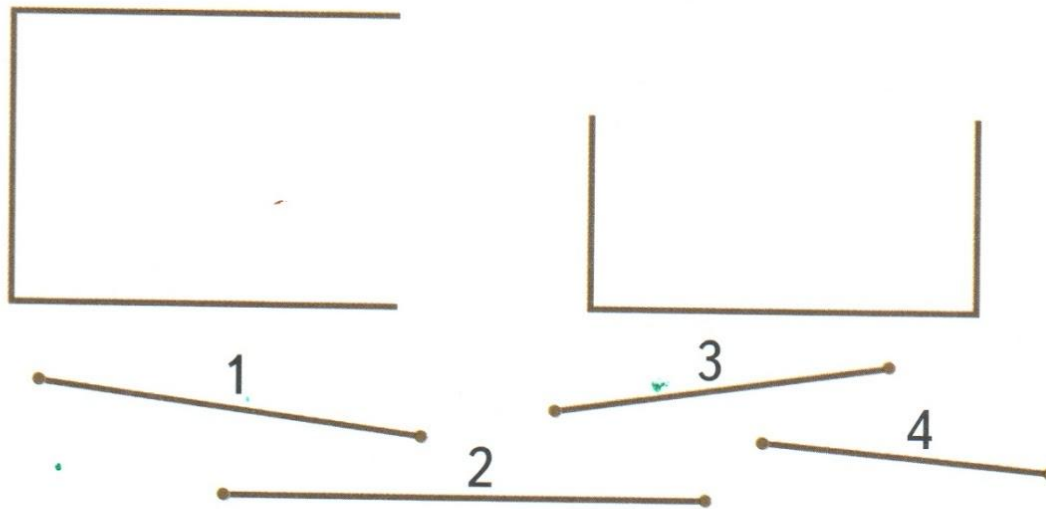
2. У продавца было 12 книг. Утром он продал 2 книги, а днём ещё 7 книг. Сколько книг осталось у продавца?

3. $3 + 10 \bigcirc 15$ | $6 + 4 \bigcirc 11$ | $9 - 1 \bigcirc 9$
 $9 - 4 \bigcirc 5$ | $8 + 3 \bigcirc 11$ | $8 + 2 \bigcirc 8$

4. $7 + 3 - 9$ $10 - 7 + 8$ $14 - 10 + 7$
 $8 - 2 + 4$ $12 - 2 - 6$ $18 - 10 + 6$

5. $8 \bigcirc 3 \bigcirc 2 = 7$ $10 \bigcirc 4 \bigcirc 7 = 13$
 $9 \bigcirc 6 \bigcirc 5 = 10$ $10 \bigcirc 3 \bigcirc 8 = 15$

6. Медвежонок хочет починить две рамки для семейных фотографий. Помоги ему выбрать нужные для этого планки.



7. Степану 10 лет. Сколько лет его сестре, если она на 3 года старше?

$$8. \frac{8 + 5}{8 + 2 + \square}$$

$$\frac{7 + 6}{7 + \square + \square}$$

$$\frac{9 + \square}{9 + 1 + 3}$$

9. Вычисли и скажи, сколько всего прибавили к числу или сколько всего вычли из него.

$$9 + 1 + 7$$
$$8 + 2 + 7$$

$$14 - 4 - 5$$
$$16 - 6 - 3$$

$$7 + 3 + 6$$
$$15 - 5 - 3$$

10. $5 + 7$
 $5 + 8$
 $5 + 9$

$7 + 6$
 $8 + 6$
 $9 + 6$

$9 + 9$
 $9 + 8$
 $9 + 7$

$9 - 7$
 $8 - 6$
 $7 - 5$

11. $9 + 9 - 8$
 $7 + 7 - 10$
 $8 + 8 - 16$

$4 + 8 - 2$
 $2 + 9 - 1$
 $6 + 5 - 10$

$6 + 6 + 1$
 $15 - 5 - 7$
 $20 - 1 - 19$

12. Сравни, не вычисляя.

$$9 + 2 \bigcirc 9$$

$$8 - 6 \bigcirc 8$$

$$7 + 0 \bigcirc 7$$



$$19 + 1 \bigcirc 19$$

13. Увеличь на 5 каждое число: 6, 7, 10, 9, 8.

14. На площадке молодняка играли 5 волчат, а лисят на 2 меньше. Сколько лисят было на площадке? Сколько всего волчат и лисят на площадке?

15. Маша гостила у бабушки в деревне весь май, июнь и июль, а её сестра Оля — июль и август. Сколько месяцев бабушка принимала у себя Машу и Олю?

РАБОТА В ТЕТРАДИ



Стр. 39

3



11		12		13		14		15		16	
3	<input type="text"/>	<input type="text"/>	5	7	<input type="text"/>	<input type="text"/>	6	<input type="text"/>	6	<input type="text"/>	6
<input type="text"/>	6	8	<input type="text"/>	<input type="text"/>	4	5	<input type="text"/>	<input type="text"/>	6	<input type="text"/>	6
4	<input type="text"/>	<input type="text"/>	3	5	<input type="text"/>	<input type="text"/>	7	8	<input type="text"/>	7	<input type="text"/>
<input type="text"/>	9	6	<input type="text"/>	<input type="text"/>	<input type="text"/>	<input type="text"/>	<input type="text"/>	<input type="text"/>	<input type="text"/>	<input type="text"/>	<input type="text"/>

- 4 От ленты длиной 15 дм отрезали кусок длиной дм. Какой длины лента осталась?

Ответ:



ЗАДАНИЯ НА СМЕКАЛКУ



Сколько концов у палки? У двух палок? У двух с половиной?



2 конца

4 конца

6 концов

Курица, стоящая на одной ноге, весит **2** кг.
Сколько весит курица, стоящая на двух ногах?



2

КГ

конец