



Тема: Вычитание
вида $11-\square$, $12-\square$



Устный счет



11

2

6

3


8

4

7

5

9



$10 - 3 = 7$


$10 - 5 = 5$

$10 - 1 = 9$

$10 - 4 = 6$

$10 - 2 = 8$

$10 - 6 = 4$






У фокусника в
левой руке 10
мячиков,, а в
правой руке 7.
На сколько
мячиков у
фокусника в
левой руке
больше, чем в
правой?




Фокусник достал из шляпы 7
черных кроликов, а белых
на 2 кролика меньше.


Сколько белых кроликов
достал фокусник из шляпы?



На плечах фокусника сидят 6 попугаев, и еще 5 попугаев летает над его головой, а в клетке сидят 3 кошки.
Сколько попугаев в задаче?



Фокусник с помощью волшебной палочки перекрасил 4 синих и 2 зеленых шарика в красный цвет. Сколько красных шариков получилось?



Фокусник подарил 5
воздушных шариков
мальчикам, а девочкам на 3
больше. Сколько воздушных
шариков подарил фокусник
девочкам?



Рассмотри способы вычисления с переходом через десяток



С. 82 № 1 (устно)

С. 83 № 2 (устно)






Физкультминутка



Прибежали, прибежали
Ежики, ежики.
Наточили, наточили
Ножики, ножики.
Прискакали, прискакали
Зайчики, зайчики.
Ну-ка вместе, ну-ка дружно:
Девочки! Мальчики!





Работа по учебнику
с. 82 выучить таблицу
вычитания числа 11 и 12.
с. 82 - 83 примеры под
чертой (письменно)
с. 83 № 4 (письменно)



Рефлексия

Сегодня на уроке

Я

повторил...

запомнил...

научился...

