

Сложение вида

+ 2, + 3

стр. 66

Урок № 106


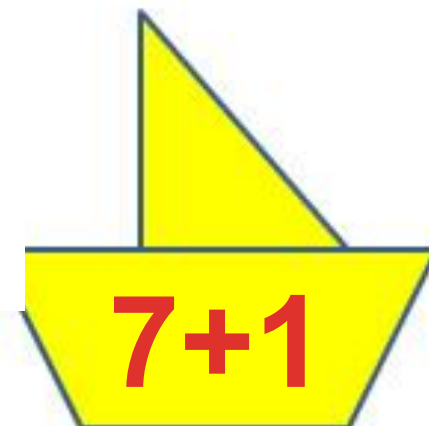
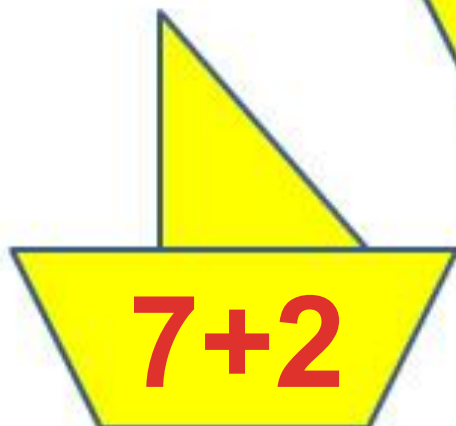
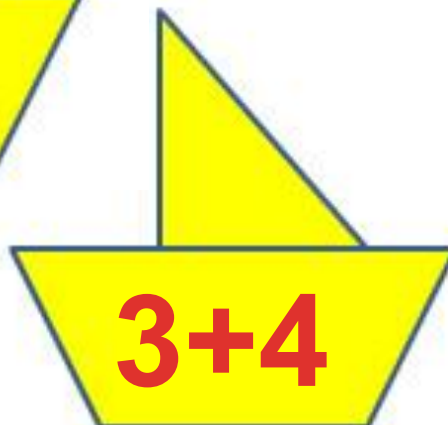
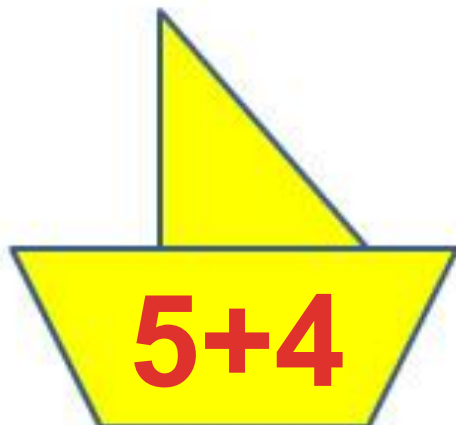


Школа России
Математика 1 класс





Устный счёт





Приведи кораблики
к 9 причалу.

Составь задачи по выражениям.



$$10 + 2 = 12$$

$$10 - 2 = 8$$



В одной вазе **5** роз, а в другой на **2** больше. Сколько роз во второй вазе? Сколько всего роз в двух вазах?

$$5 + 2 = 7$$

$$5 + 7 = 12$$

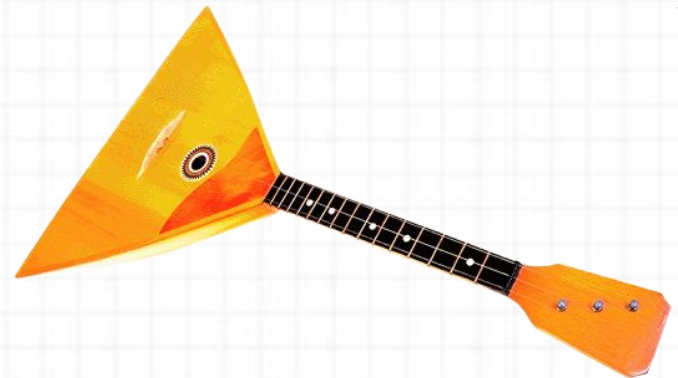


**? на 2
больше**


Два мальчика играли на гитарах, а один на балалайке.
На чём играл Юра, если Миша с Петей и Петя с Юрой
играли на разных инструментах?


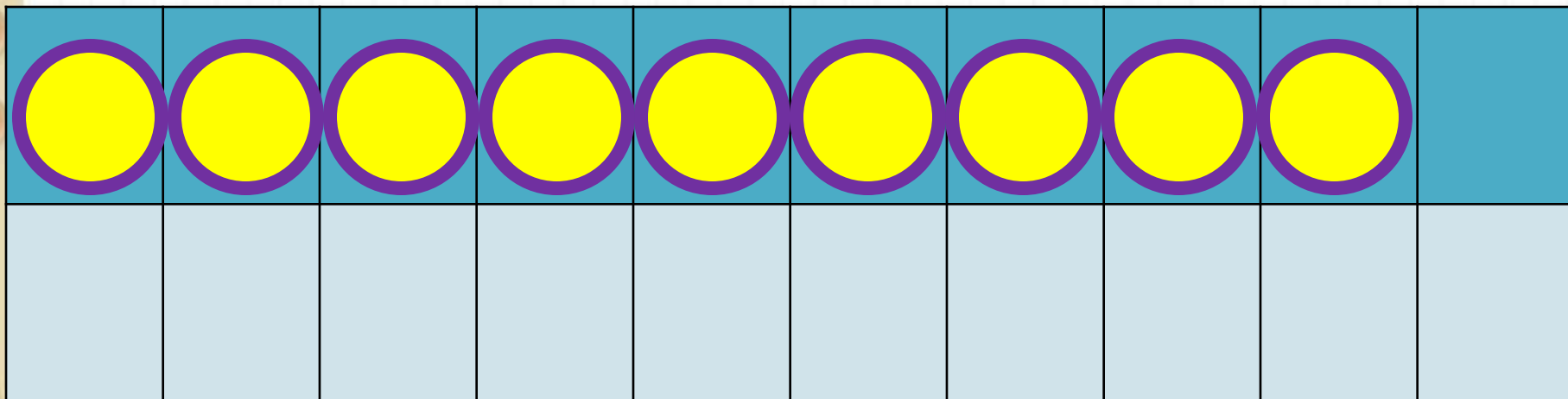


**Юра играл на
гитаре.**




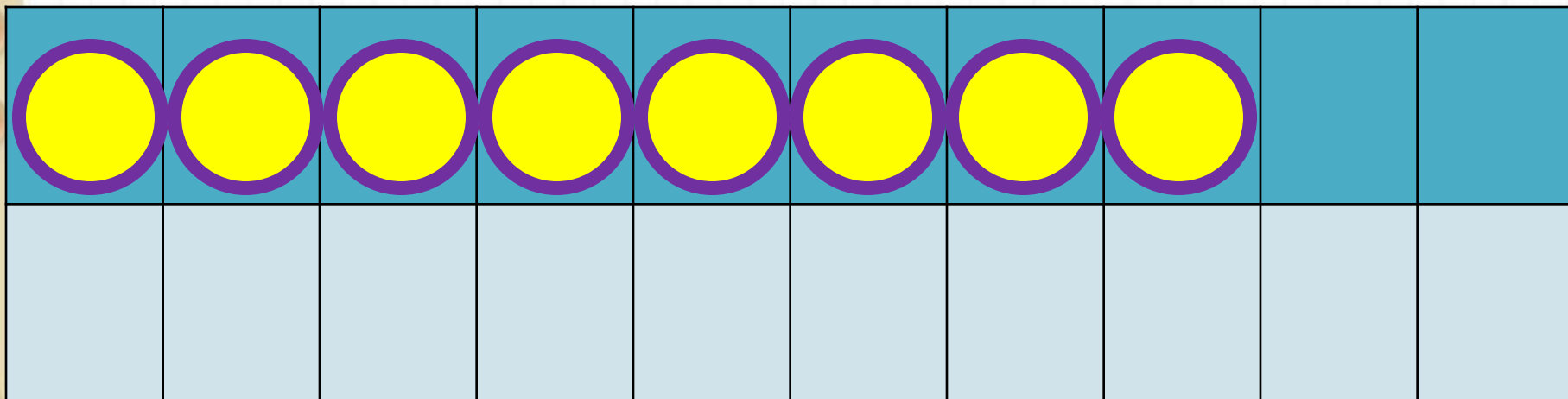
Новый материал





$$9 + 2$$


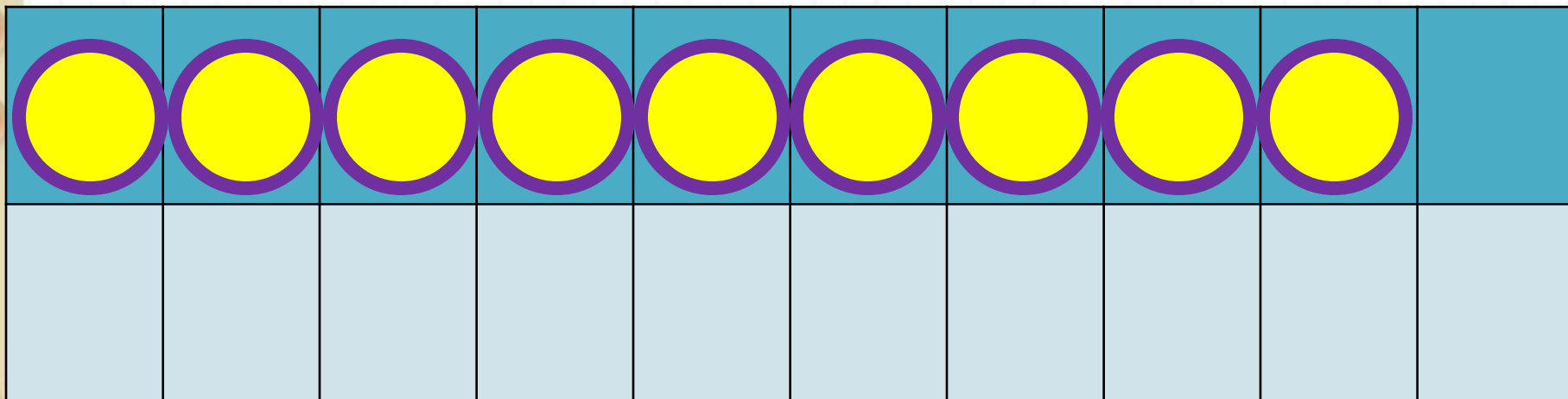
$$9 + 1 + 1$$



$$8 + 3$$

$$8 + 2 + 1$$

Какие числа будем учиться прибавлять?



$$9 + 3$$

$$9 + 1 + 2$$

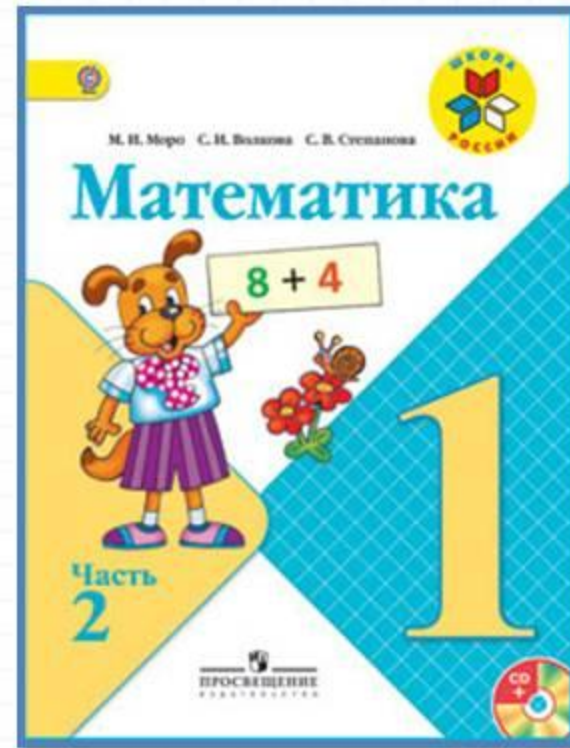
Запомни!

$$9 + 2 = 11$$

$$8 + 3 = 11$$

$$9 + 3 = 12$$

Работа по учебнику



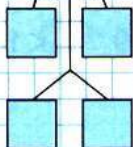
стр. 66

$$\square + 2$$

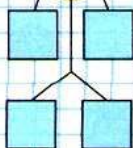
$$\square + 3$$



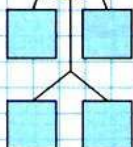
7



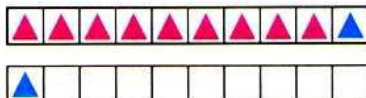
8



9



Объясни, как к числу 9 прибавить 2.



$$9 + 2$$

$$9 + 1 + 1$$

Рассуждая так же, вычисли.

$$\frac{9 + 3}{9 + 1 + \square}$$

$$\frac{8 + 3}{8 + 2 + \square}$$

Запомни!

$$9 + 2 = 11$$

$$9 + 3 = 12$$

$$8 + 3 = 11$$

- $8 - 5 - 2$ $0 + 9 - 8$ $8 - 6 + 10$
 $10 - 7 - 2$ $8 + 2 - 4$ $7 - 5 + 10$
 $10 - 8 - 2$ $6 + 0 - 5$ $9 - 7 + 10$
- Зина купила 6 тетрадей в клетку, а тетрадей в линейку на 2 меньше. Сколько всего тетрадей купила Зина?
- В большом ведре помещается 10 л воды, а в маленьком — 4 л. Сколько всего ... ?
- Мама собрала 16 кг яблок. Из 6 кг яблок она сварила варенье. Сколько ... ?
- Определи, как зовут каждую девочку.



Это Таня и Оля.



Это Оля и Катя.

$$12 \bigcirc 20$$

$$10 \bigcirc 9$$

$$1 \text{ дм} \bigcirc 9 \text{ см}$$

$$12 \text{ см} \bigcirc 1 \text{ дм}$$

$$7 \bigcirc 4$$

$$0 \bigcirc 1$$

Объясни, как к числу 9 прибавить 2.



$$\begin{array}{r} 9 + 2 \\ \hline 9 + 1 + 1 \end{array}$$

Рассуждая так же, вычисли.

$$\begin{array}{r} 9 + 3 \\ \hline 9 + 1 + \square \end{array}$$

$$\begin{array}{r} 8 + 3 \\ \hline 8 + 2 + \square \end{array}$$

Запомни!

$$9 + 2 = 11$$

$$9 + 3 = 12$$

$$8 + 3 = 11$$

1. $8 - 5 - 2$

$10 - 7 - 2$

$10 - 8 - 2$

$0 + 9 - 8$

$8 + 2 - 4$

$6 + 0 - 5$

$8 - 6 + 10$

$7 - 5 + 10$

$9 - 7 + 10$

2. Зина купила 6 тетрадей в клетку, а тетрадей в линейку на 2 меньше. Сколько всего тетрадей купила Зина?

3. В большом ведре помещается 10 л воды, а в маленьком — 4 л. Сколько всего ... ?

4. Мама собрала 16 кг яблок. Из 6 кг яблок она сварила варенье. Сколько ... ?
5. Определи, как зовут каждую девочку.



Это Таня и Оля.



Это Оля и Катя.

12 20

10 9

1 дм 9 см


12 см 1 дм

7 4

0 1

Работа в тетради

стр. 34



2

$7 + 4 =$		$9 + 6 =$		$8 + 3 =$	
$8 + 5 =$		$7 + 7 =$		$6 + 5 =$	

3

Первая сказка в книге занимает 9 страниц, а вторая — на 3 страницы больше. Сколько страниц занимает вторая сказка?

Ответ:

4

$7 +$	$=$	11	$9 +$	$=$	11	$11 -$	$=$	4	
<input type="checkbox"/>	$8 +$	$=$	11	$6 +$	$=$	11	$-$	$=$	2

Задания на смекалку



Ширина норки крота **1 м 2 см**. Сможет ли туда пройти Дюймовочка, если ширина её юбки **8 см**?

Да, 1 м 2 см = 12

СМ



Рефлексия

Какие примеры мы решали сегодня на уроке?

Всё ли было понятно?

Кому было трудно?

Оцените себя.

Оцените свою работу на уроке

«!»- молодец, выполнил всё верно.

«+» – хорошо, ошибся совсем немного.

«-» с заданием пока не справился.



