

Занимательная математика

ВИКТОРИН
А

Разминка.

- 1) Варит отлично твоя голова:
Пять плюс один получается...
- 2) Вышел зайчик погулять,
Лап у зайца ровно...
- 3) Пакет молока на весах если взвесить,
То стрелка весов нам укажет на...
- 4) Ты на птичку посмотри:
Ног у птицы ровно...

Разминка.

- 5) У меня собачка есть,
У нее хвостов аж...
- 6) Ходит в народе такая молва:
Шесть минус три получается...
- 7) Мышь считает дырки в сыре:
Три плюс две - всего...
- 8) Для математики, дружочек,
Нужна тетрабочка в...

«Веселые задачки»

- Три пушистых кошечки улеглись в лукошечке.
 - Тут одна к ним прибежала.
 - Сколько вместе кошек стало?
-
- Пять щенят плюс мама-лайка.
 - Сколько будет? Сосчитай-ка!
-
- У меня и галочки десять счетных палочек.
 - Две случайно потерялось. Сколько палочек осталось?

«Веселые задачки»

- Пять ворон на крышу сели.
 - Две еще к ним прилетели.
 - Отвечайте быстро, смело.
 - Сколько всех их прилетело?
-
- В кружку набрала Марина
 - Девять ягодок малины.
 - Четыре дала своей подружке.
 - Сколько ягод стало в кружке?

«Веселые задачки»

- Пять снегирей и пять синиц.
- Ребята, сколько вместе стало птиц?

- Семь листьев Вася сам собрал, А два еще Алеша дал.
- Скажите, сколько у него осенних листиков всего?

- Повела гусыня-мать шесть гусят своих гулять.
- Вот шагают на лужочек три сынка. А сколько дочек?

«Перемешки».

▣ Л Д А И Н

▣ И Р Ш И А Н

▣ М Р Т Е И П Е Р

▣ Л П А Щ О Ъ Д

Какие числа пропущены?

□ 1, 2, ..., 4, ..., 6, 7, ...,
9,

□ 0, 2, 4, 6, ..., 10, ..., 14,
16, ..., 20.

Какие числа пропущены?

- 3, 6, ..., 12, ..., 18, 21, ..., ..., 30.
- 5, 10, ..., 20, ..., 30, ..., ..., 45,

Переведите из одной величины в другую:

□ 5 м = ... см

□ 1000 см = ... дм

□ 25 см = ... мм

□ 300 дм = ... м


□ 5 дм = ... см

□ 1000 мм = ... м

□ 2 км = ... м

□ 50 см = ... дм

«Найди отличия»



Чем отличаются картинки?



«Четвертый лишний»

1



2





3






4



«Четвертый лишний»



«Четвертый лишний»



«Знатоки русского языка»

- Назовите слова, внутри которых есть число 100.

«Загадка на внимание»

▣ Я села в автобус на начальной станции и пересчитала пассажиров. Их было 17. Автобус тронулся, затем остановился.

На первой остановке вошло 6 человек, вышло 2 человека.

На следующей остановке вошло 10 человек, никто не вышел.

Потом на остановке вошло 4 человека и вышло 7.

А потом на остановке вошел один гражданин, с целой кучей обновок ...

Сколько было остановок ?



Конкурс капитанов.

□ $3+4-2+8-1+4+2 = \dots$





□ $8-6+4-2+9+5-8+10 = \dots$

□ $5+8-4+3-6+9-1+8 = \dots$

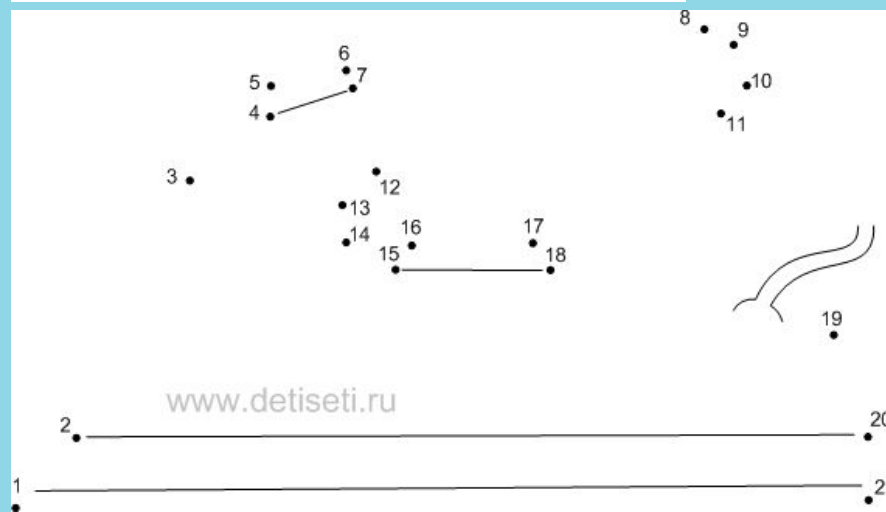
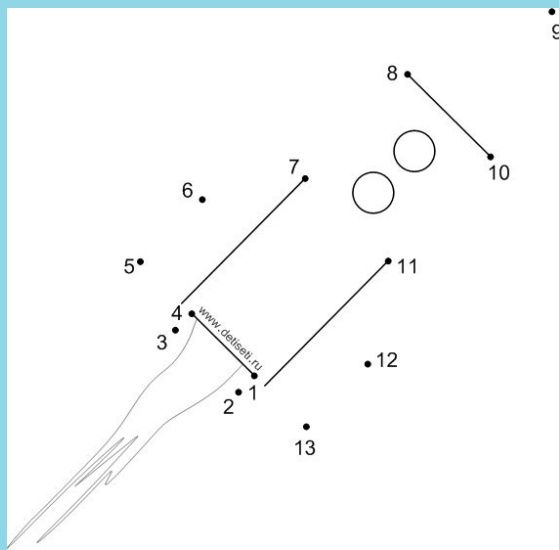
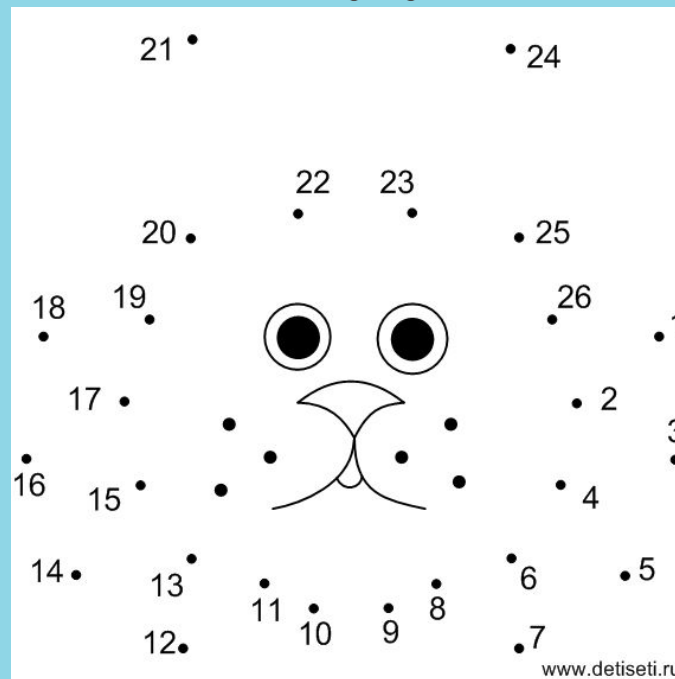
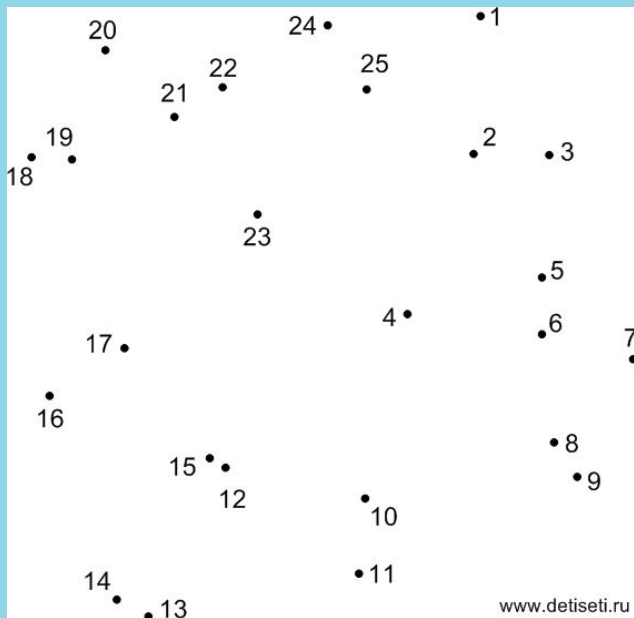
«Продолжи ряд»



«Продолжи ряд»



«Соедини по цифрам»




«Напряги внимание».

- 1) Кто окажется тяжелее первый людоед , который весил 48 кг и на ужин съел второго или второй , который весил 52 кг и съел первого?
- 2) Какое число надо увеличить в 15 раз , чтобы получить 15?
- 3) Две монашки пошли в церковь , и прошли 60 вёрст .Сколько вёрст прошла каждая , если они шли с одинаковой скоростью ?

«Напряги внимание».

- 4) Вот вам три пилюли - сказал доктор - принимайте по одной через каждые полчаса. Вы покорно согласились .На сколько времени хватит вам этих пилюль ?
- 5) Яйцо в всмятку варится 3 минуты. Сколько времени потребуется , чтобы сварить 3 яйца всмятку ?
- 6) У отца 6 сыновей , каждый сын имеет сестру . Сколько детей у этого отца ?

Сколько здесь геометрических фигур? Какие это фигуры?



Интернет ресурсы:

- <http://razvlekat.rastu.ru/connection-points/>
- http://images.yandex.ru/yandsearch?p=2&text=%D0%B4%D0%BE%20%D0%BD%D0%BE%D0%B2%D1%8B%D1%85%20%D0%B2%D1%81%D1%82%D1%80%D0%B5%D1%87%20%D0%B0%D0%BD%D0%B8%D0%BC%D0%B0%D1%86%D0%B8%D1%8F&pos=84&uinfo=sw-1263-sh-653-fw-1038-fh-448-pd-1&rpt=simage&img_url=http%3A%2F%2Fi081.radikal.ru%2F1006%2Fcb%2F570bcc48bca9.gif

Спасибо за внимание!

