



Тема:
**«ПРИБАВЛЕНИЕ
ЧИСЕЛ 7, 8, 9»**



УСТНЫЙ счет





9

3

6

2

Винни Пух и Кролик слепили 15 снежков.
Кролик бросил в цель 5 снежков, а Винни
– 7. Сколько снежков у них осталось?



9

3

6

2

Красная Шапочка несла в корзинке пирожки для бабушки: 3 пирожка с капустой и 6 пирожков с яблоками. Сколько всего пирожков в корзинке ?



9

3

8

2

Буратино решил 6 примеров на сложение, а на вычитание на 2 примера больше. Сколько примеров со знаком «минус» решил Буратино?

9


3

8

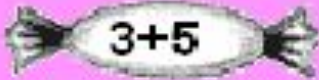
5

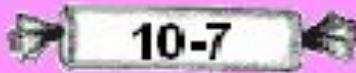


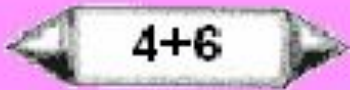
В коробке у Буратино было 8 конфет и 3 пряника. На сколько меньше пряников, чем конфет у Буратино?

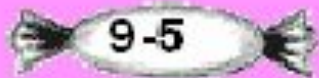


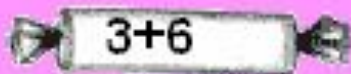
Запиши примеры в тетрадь и реши их

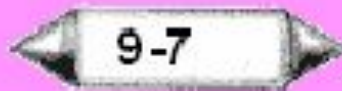
 $3+5$


 $10-7$

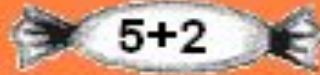
 $4+6$

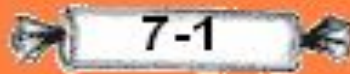
 $9-5$

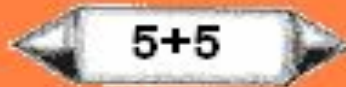
 $3+6$

 $9-7$

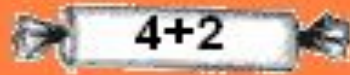
 $8-4$

 $5+2$

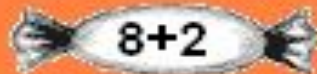
 $7-1$

 $5+5$

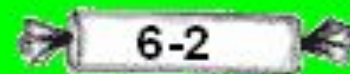
 $6-3$

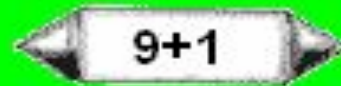
 $4+2$

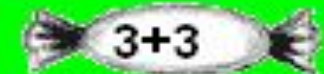
 $10-1$


 $8+2$

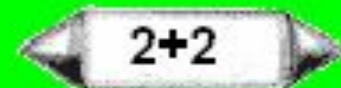
 $5+1$


 $6-2$

 $9+1$

 $3+3$

 $4-1$

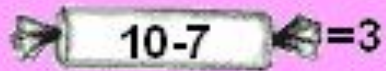
 $2+2$

 $8-1$

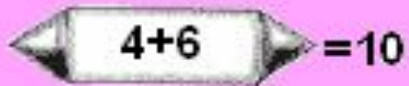
Проверь себя



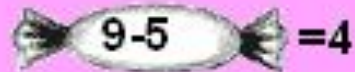
$3+5=8$



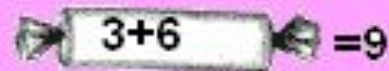
$10-7=3$




$4+6=10$




$9-5=4$



$3+6=9$



$9-7=2$



$8-4=4$




$5+2=7$



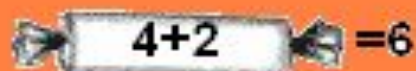
$7-1=6$



$5+5=10$



$6-3=3$



$4+2=6$



$10-1=9$



$8+2=10$




$5+1=6$



$6-2=4$



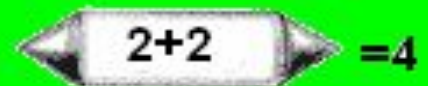
$9+1=10$



$3+3=6$



$4-1=3$



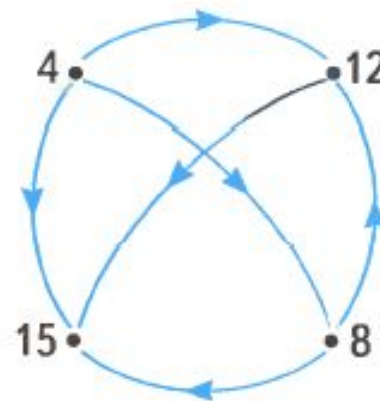
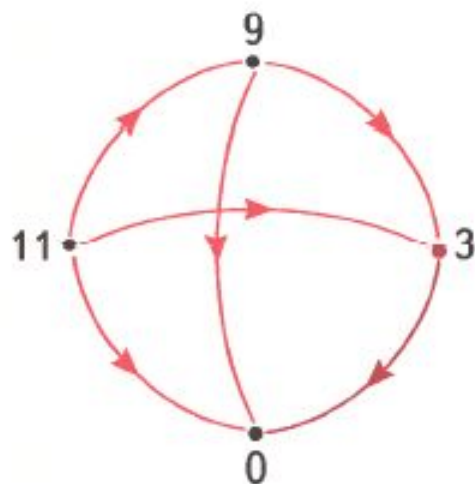
$2+2=4$




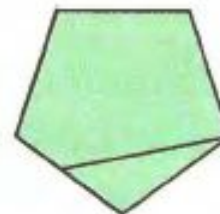
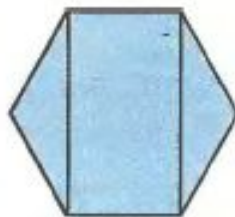
$8-1=7$

Работа по учебнику №15, №16

15. Составь все предложения о парах чисел.



16.  Найдите на каждом рисунке два пятиугольника.



Работа по учебнику №17, №18






17. Измерь длину и ширину картинки.



18. Начерти на глаз отрезок длиной 5 см.
Проверь себя: выполни измерение.

Работа по учебнику №19

19. В таблице содержится информация о том, сколько учеников первых классов поехали на экскурсию в музей, в зоопарк, в цирк, в театр, в кино.

Класс					
1 «А»	5	5	3	2	4
1 «Б»	4	10	—	1	5
1 «В»	—	—	10	3	3
1 «Г»	15	—	—	—	5

Ответь на вопросы.

Ученики какого класса приняли участие во всех мероприятиях?

Ученики каких классов не поехали в зоопарк в цирк?

Сколько всего учеников поехали в цирк в кино?

На сколько больше учеников поехали в цирк, чем в театр?

Сколько всего учеников из 1 «В» поехали в кино, театр и цирк?

Ученики какого класса были только на двух мероприятиях?

Сколько учеников из 1 «Б» были в музее и зоопарке? в театре и кино? в цирке и театре?

Были ли в зоопарке ученики 1 «В» класса?

Рефлексия



**на уроке было комфортно и всё
понятно**



**на уроке немного затруднялся, не всё
понятно**



**на уроке было трудно, ничего не
понял**