



Климат Африки



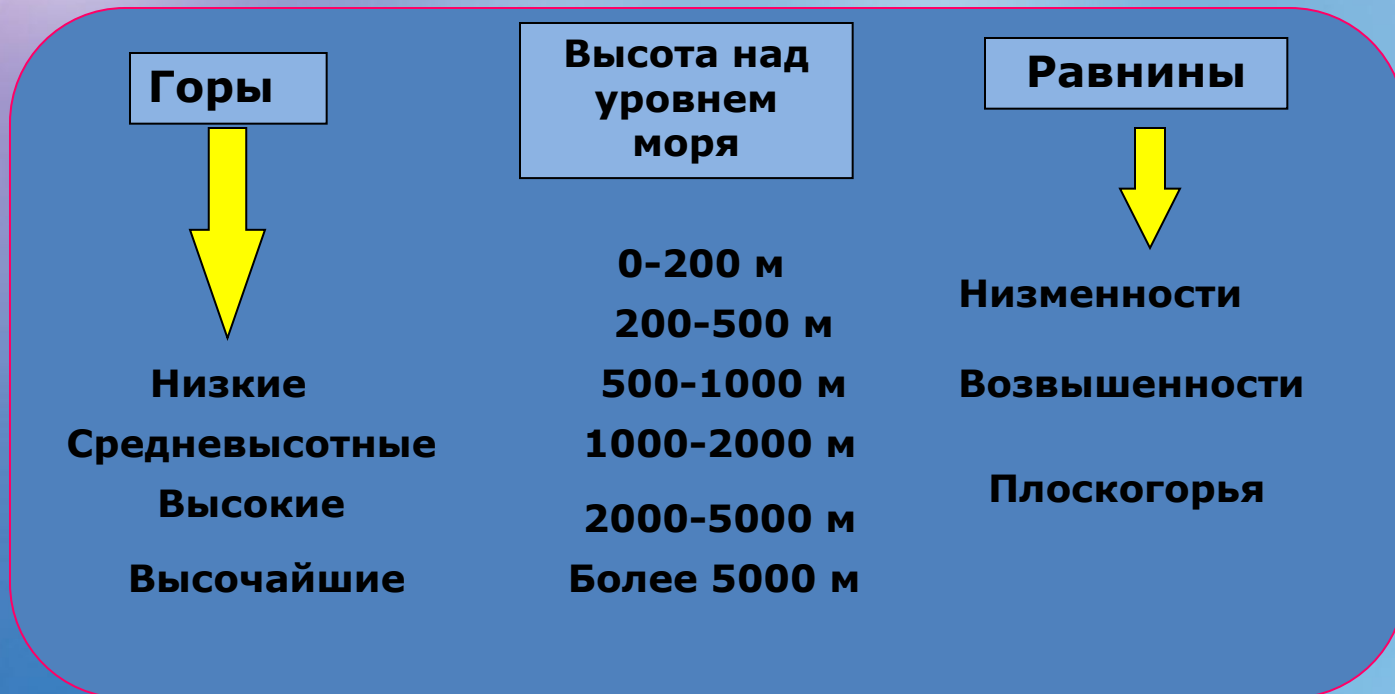
Африка- самый жаркий материк на земле. Она получает больше солнечного тепла и света. Чем другие материки. Там всегда высоко стоит Солнце над горизонтом, а два раза в год в любой точке оно бывает в зените.

Вспомним!

1. Что называется рельефом?

Рельеф – совокупность неровностей земной поверхности, различающиеся по размерам, происхождению и возрасту.

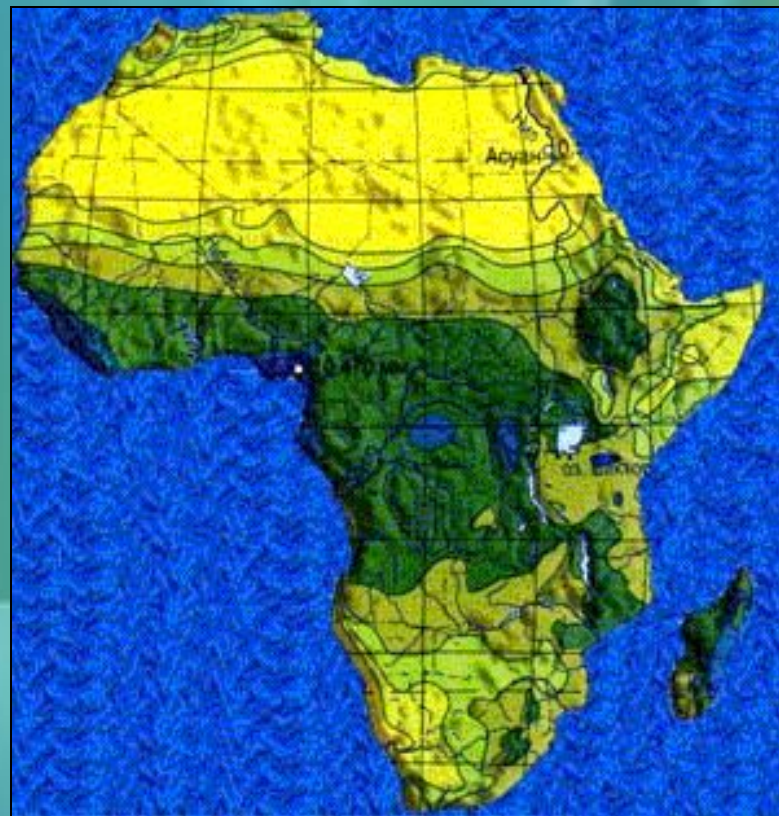
2. Назовите основные формы поверхности суши и их деление по высоте.



Цель урока: выяснить особенности климата Африки

- 1. Дайте определения понятий «погода», «климат».
- 2. Перечислите климатические пояса Земли по карте атласа
- 3. Определите в каких климатических поясах расположена Африка

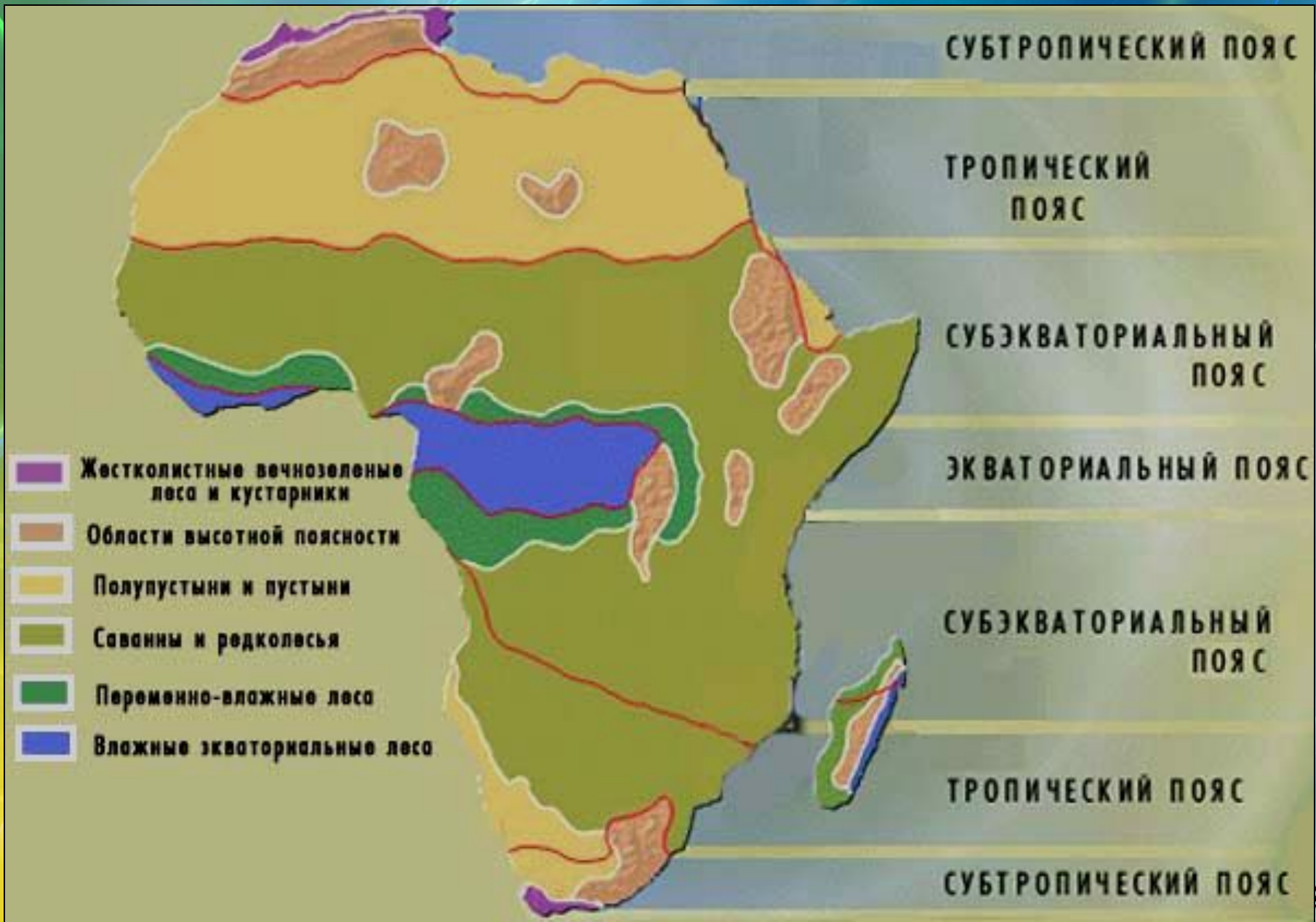
ТИП УРОКА:
урок изучения нового
материала



Африка - самый жаркий континент планеты. Причина этого - в географическом расположении континента: вся территория Африки находится в жарких климатических поясах. Именно в Африке находится самое жаркое место на Земле - Даллол, и была зафиксирована самая высокая температура на Земле (+58,4 °C).



Климатические пояса Африки



Экваториальный пояс

Центральная Африка и прибрежные районы Гвинейского залива относятся к экваториальному поясу, там в течение всего года выпадают обильные осадки и нет смены времён года. Здесь постоянный климат. Днём поверхность сильно нагревается, а после полудня идут ливневые дожди. К вечеру опять наступает ясная погода.



Субэкваториальный пояс доходит примерно до 15-20° широты к северу и к югу экватора. Два сезона - сухая зима и влажное лето. Севернее и южнее субэкваториальных поясов расположены северный и южный тропические пояса. Для них характерны высокие температуры при малом количестве осадков, что ведёт к образованию пустынь.

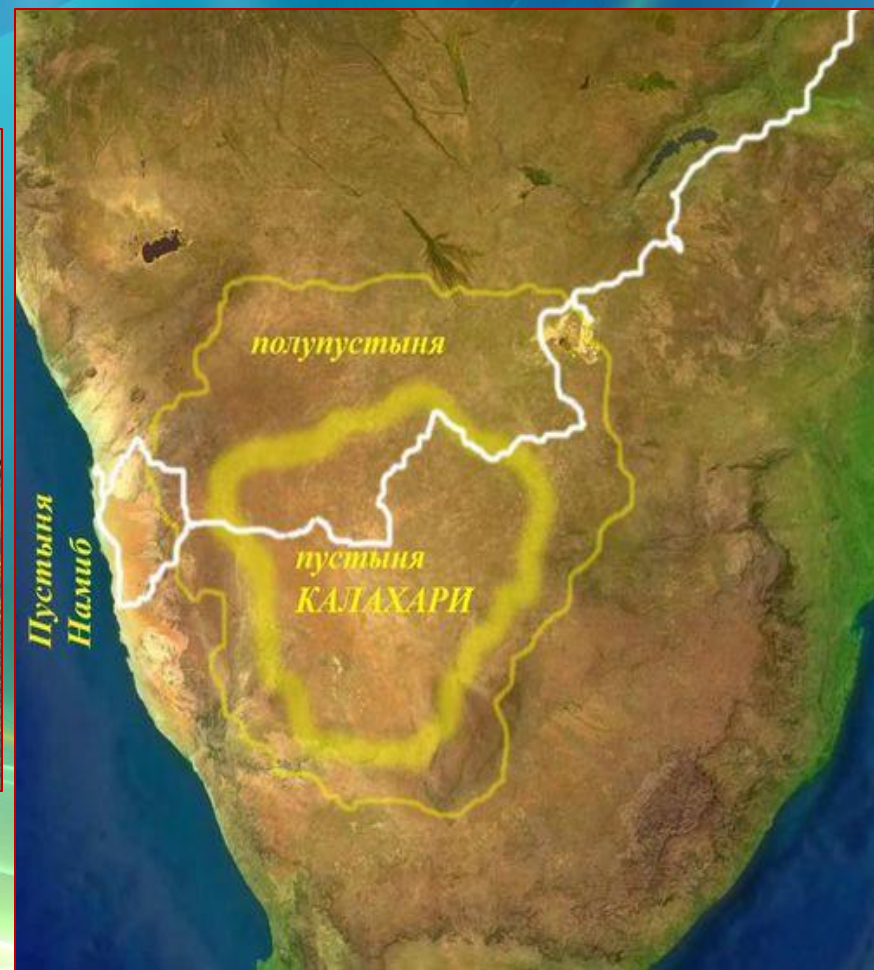


Тропический климатический пояс.

Средние температуры зимой не ниже 10 °С, летом 30-35 °С. В засушливых местах расположены пустыни и полупустыни, в более увлажненных местах — саванны и листопадные леса.



На севере расположена крупнейшая на Земле пустыня **Сахара**, на юге — пустыня **Калахари**. Северная и южная оконечности материка входят в соответствующие субтропические пояса.



На дом:

**§22, конт.карты
(климат. пояса
с атласа)**

**Нанести границы
поясов,
покрасить их
цветом,
указать в условных
знаках цвет
и название пояса**

