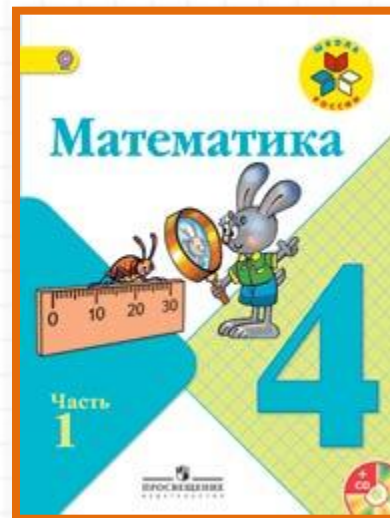


Школа России

4 класс


стр. 75



Устный счёт к уроку № 120

Закрепление изученного

Устный счёт



Назови число по его устной характеристике.

265 ед. 1 класса и **178 ед.** 2 класса

893 ед. 2 класса и **483 ед.** 1 класса

605 ед. 1 класса и **70 ед.** 2 класса

81 ед. 2 класса и **54 ед.** 1 класса

9 ед. 1 класса и **12 ед.** 2 класса

14 ед. 2 класса и **6 ед.** 1 класса

Чем похожи и чем отличаются числа?

345 098 и 265 900

34 009 и 340 009

Продолжите последовательность.

345 800, 345 799, 345 798, ...

500 400, 499 401, 498 402, ...

300 690, 300 695, 300 700, ...

Площадь квадрата 81 см^2 . Найдите
периметр квадрата.



$$a = ?$$



36 см

Ракета за **4 с** пролетела **28 км**. Затем её скорость увеличилась на **3 км/с**.
Найдите скорость ракеты в конце пятой секунды.



10 км/с

В **9** клетках **20** серых и **25** белых кроликов. Сколько всего кроликов в клетках




405

Индюшат, их **240**,
Водит Катя на пригорок.
А на речке уток **200**.
Ну и чайк **205**
Как закрякают все вместе!
Хороши все птицы эти!
Сколько их? Считайте, дети!



645 ПТИЦ

Галера первую часть пути шла **4 ч** со скоростью **10 км/ч**, а вторую часть пути она шла **2 ч** со скоростью **12 км/ч**. Какое расстояние проплыла галера?



64 км

Задание на смекалку



Вдоль улицы стоят **100** домов. Мастера попросили изготовить номера для всех домов от **1 до 100**. Чтобы выполнить заказ, он должен запастись цифрами. Не пользуясь карандашом и бумагой, подсчитайте в уме, сколько девяток потребуется мастеру?



20 штук

Конец

Сайт Елены Берюховой «Школа АБВ»
<http://shkola-abv.ru>

