

9 класс

§1 Учимся с «Полярной звездой»

Подготовка к ОГЭ по географии,
трудности и пути их преодоления

Д\з §1, стр. 5, задания 1-5

Экзамен

- **КАК СДАТЬ ОГЭ ПО ГЕОГРАФИИ. СОВЕТЫ ПРОФЕССИОНАЛОВ:**
[HTTPS://WWW.RGO.RU/RU/ARTICLE/КАК-SDAT-OGE-PO-GEOGRAFII-SOVETY-PROFESSION
ALOV](https://www.rgo.ru/ru/article/kak-sdat-oge-po-geografii-sovety-professiona-
alov)
- [ОГЭ \(ГИА\) 2016 География Демонстрационный вариант](#)
- **Время проведения экзамена – 120 минут (2 часа)**
Разрешенные материалы – линейка, непрограммируемый калькулятор и географические атласы для 7, 8 и 9-х классов.
- **В экзамене по географии в 2019 году отличий от предыдущего года нет.**
- **Работа содержит 3 задания (15, 20 и 23), на которые следует дать полный развёрнутый ответ. Ответы на эти задания записываются на бланке ответов N2.**
- **Стоит обратить внимание на то, что вопросы расположены в тесте ОГЭ по географии не по возрастанию сложности, а по темам или сгруппированы вокруг небольших текстовых или графических материалов.**

Учащиеся должны знать/понимать:

- 1. Требования к выполнению каждого вида заданий, представленных в **КИМах ОГЭ по географии**;
- 2. Правила работы с экзаменационными бланками.

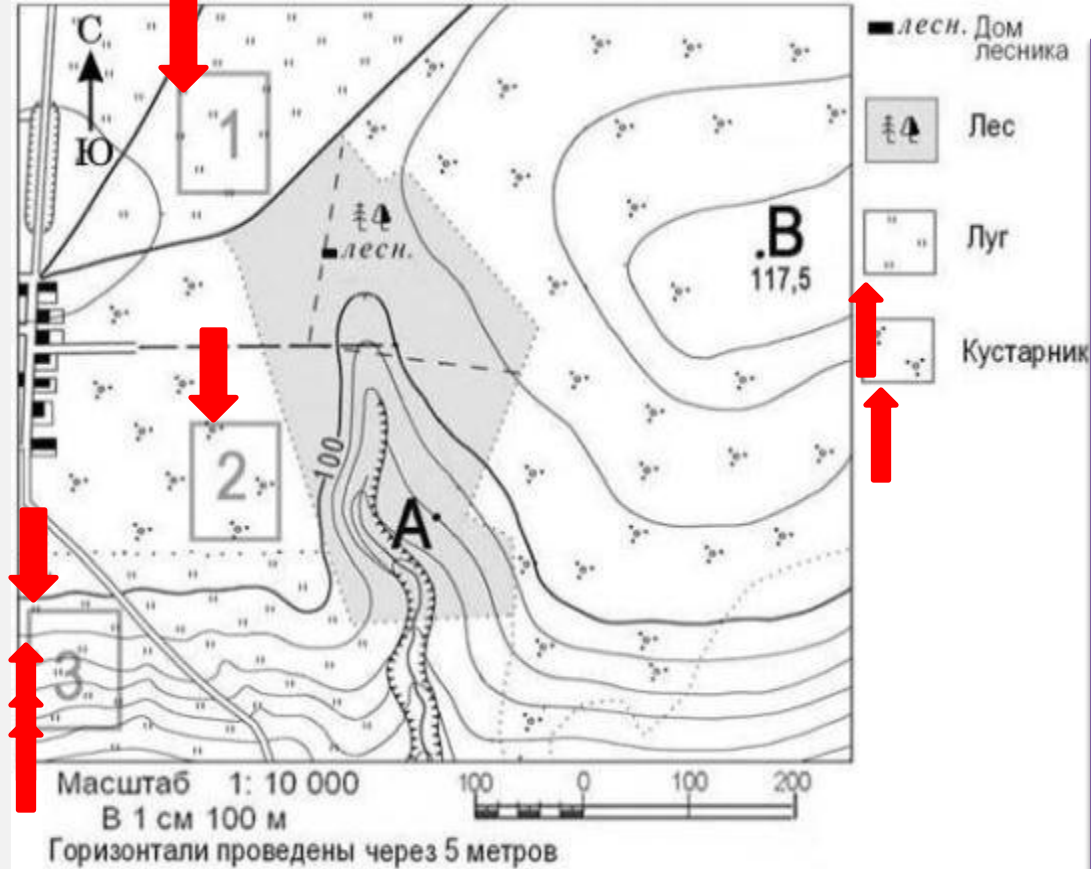
Учащиеся должны уметь:

- 1. Следовать при выполнении всех этапов работ **ОГЭ** критериям, представленным в демоверсии «ОГЭ - 2020. География».
- 2. Правильно заполнять экзаменационные бланки.



Система подготовки

- образовательный маршрут повторения учебного материала;
- график проведения консультаций;
- учет посещения консультаций учащимися;
- организация индивидуальной, групповой работы;
- включение в изучение текущего учебного материала заданий, соответствующих экзаменационным;
- включение в содержание текущего контроля экзаменационных заданий;
- диагностирование



Задание №20

Участники школьной футбольной секции выбирают место для обустройства нового футбольного поля. Оцените, какой из участков, обозначенных на карте цифрами 1, 2 и 3, наиболее подходит для этого. Для обоснования своего ответа приведите два довода. Обоснованный ответ запишите на отдельном листе или бланке, указав сначала номер задания

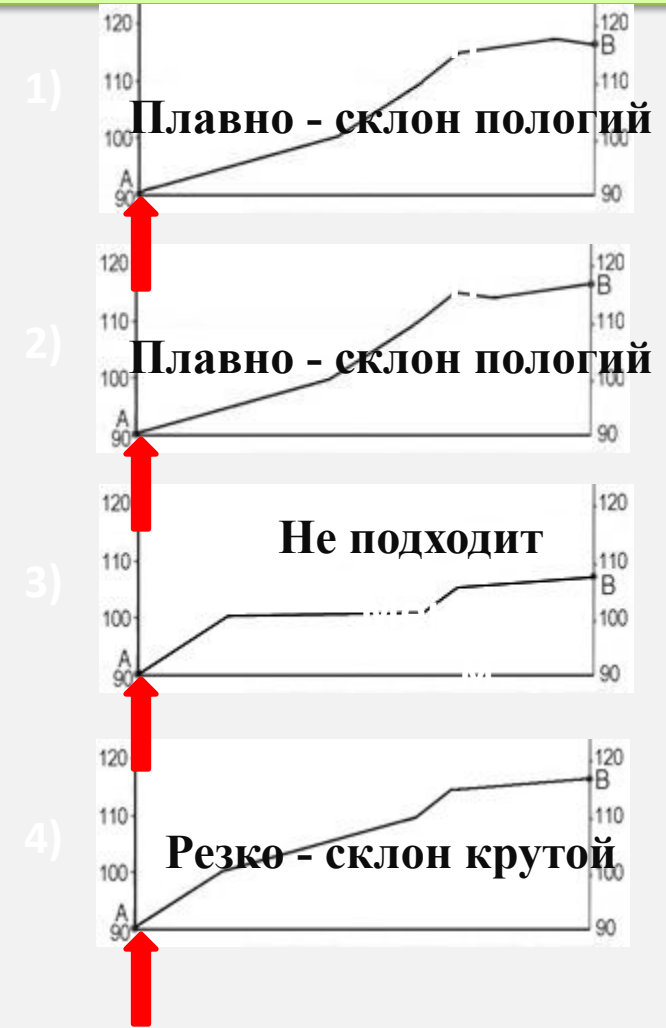
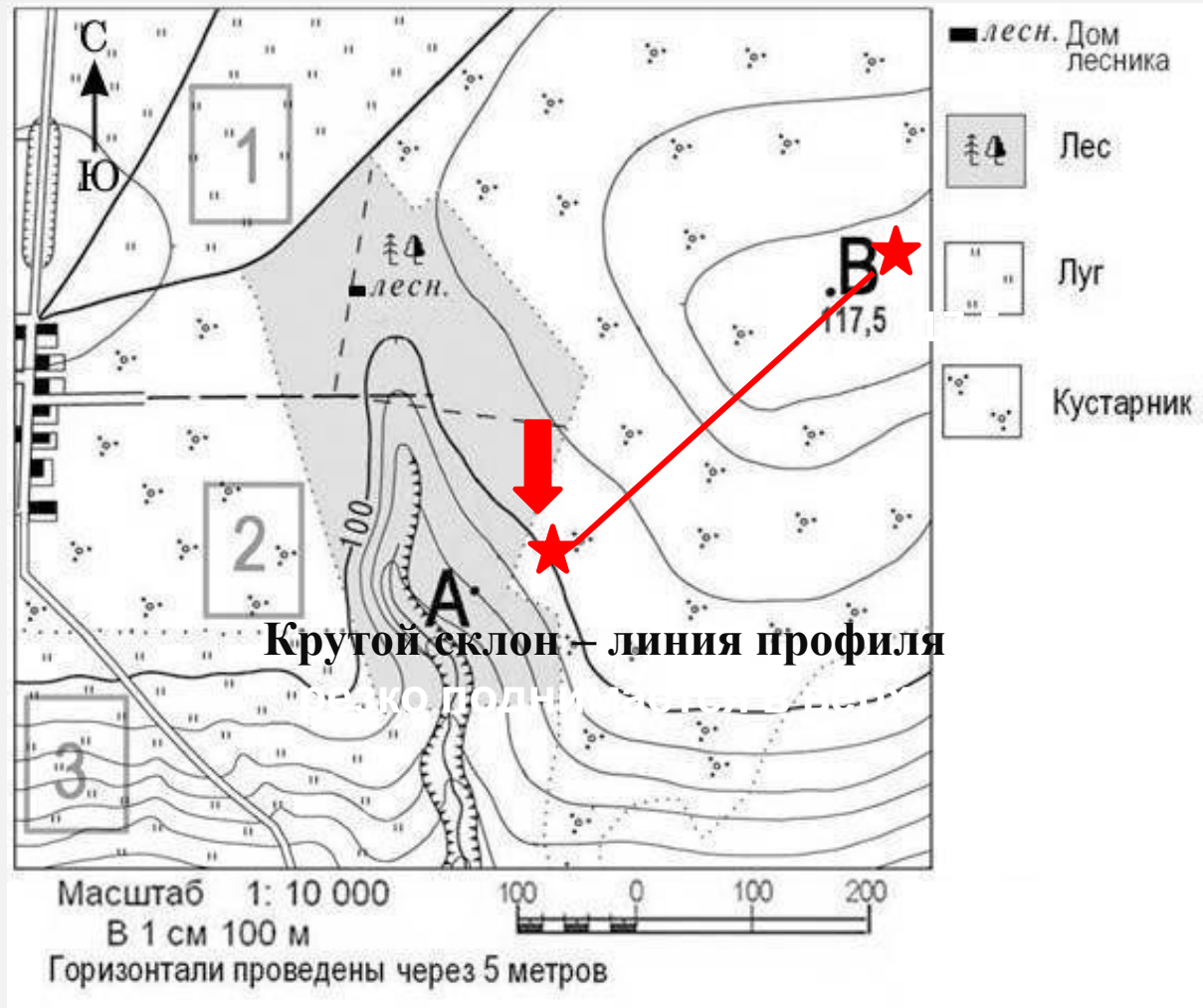
Участок 2 не подходит – заросли кустарников

Участок 3 не подходит – не ровная местность:
склон

Участок 1 подходит – ровная местность и луг с
травянистой растительностью

Наиболее подходит для обустройства футбольного поля участок № 1, потому что там ровное место на лугу.

Задание 21. На рисунках представлены варианты профиля рельефа местности, построенные на основе карты по линии А–В разными учащимися. Какой из профилей построен верно?



Ответ:

Задание №29

Временные промежутки	Положение Солнца	На что это влияет?
дни солнцестояния 22 июня	Солнце в зените над северным тропиком — $23,5^{\circ}$ с.ш., а на северном полярном круге — $66,5^{\circ}$ с.ш. и к северу от него до полюса — полярный день	Продолжительность светового дня больше (а ночи меньше) в городах, расположенных ближе к северному полярному кругу, т.е. в более северных городах
22 декабря	север и юг меняются местами (Солнце в зените над южным тропиком)	продолжительность светового дня больше (а ночи меньше) в городах, расположенных южнее

**с 22 марта
до 22 сентября**

**Солнце в зените в
северном полушарии**

**в более северных городах
продолжительность дня больше
(а ночи, соответственно,
меньше), чем в городах,
имеющих более южную
географическую широту**

**с 24 сентября
до 20 марта**

**Солнце в зените в
южном полушарии**

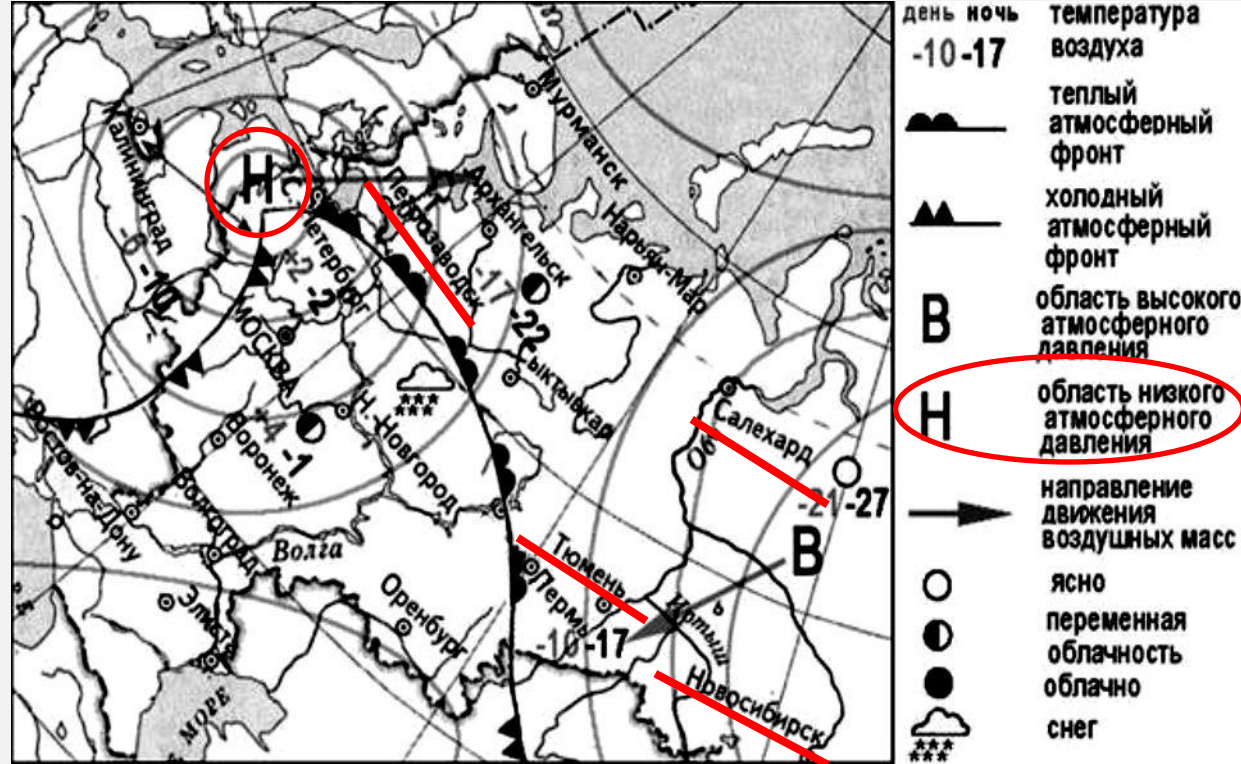
**продолжительность дня больше
будет в более южных городах**

Задания №10,11

с использованием карты погоды

Какой из перечисленных городов, показанных на карте, находится в зоне действия циклона?

1. Тюмень
2. Новосибирск
3. Петрозаводск
4. Салехард



2) 1 Салехард
3) Новосибирск

Петрозаводск находится в области с низким давлением

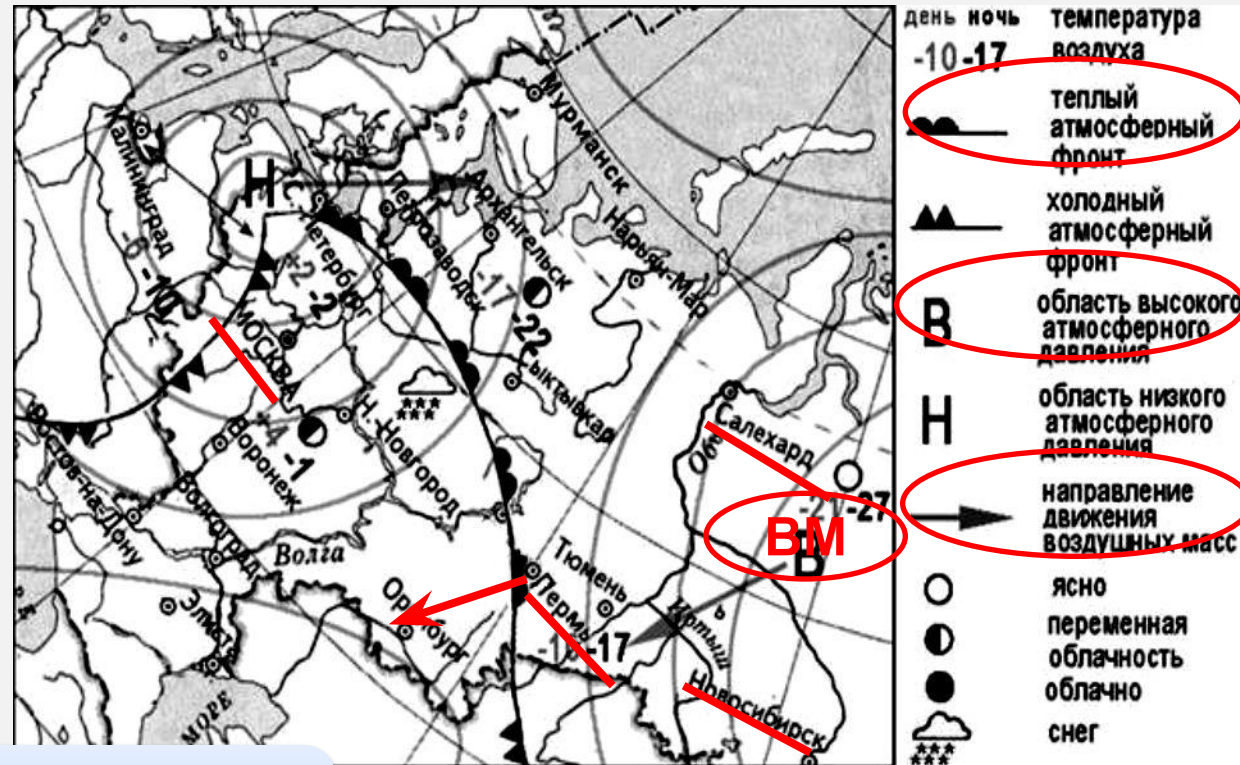
Следовательно, в зоне действия циклона

Что такое циклон?

Атмосферный вихрь с низким давлением в центре

Карта погоды составлена на 7 февраля. В каком из перечисленных городов, показанных на карте, на следующий день вероятно существенное потепление?

- 1) Москва
- 2) Новосибирск
- 3) Пермь
- 4) Салехард



Сейчас Пермь находится в районе действия теплого фронта



После его прохождения наступает потепление

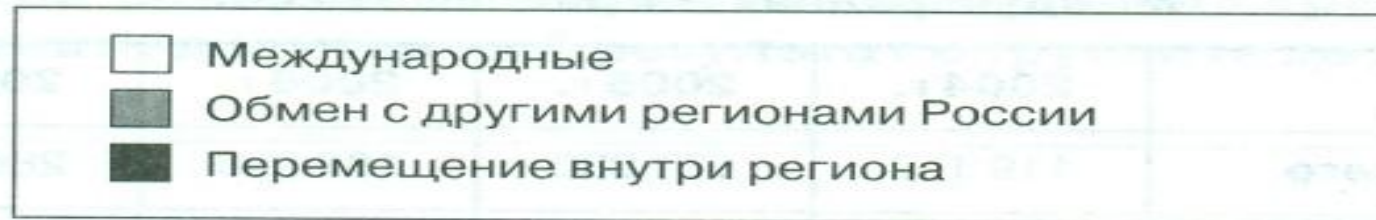

С чем может быть связано потепление?

После прохождения теплого атмосферного фронта.

**Включение заданий №8, 9,
направленных на чтение статистической информации,
в урок**

Задание 7. Используя данные диаграммы, определите величину миграционного прироста населения в России в 2011 году. Ответ запишите цифрами.

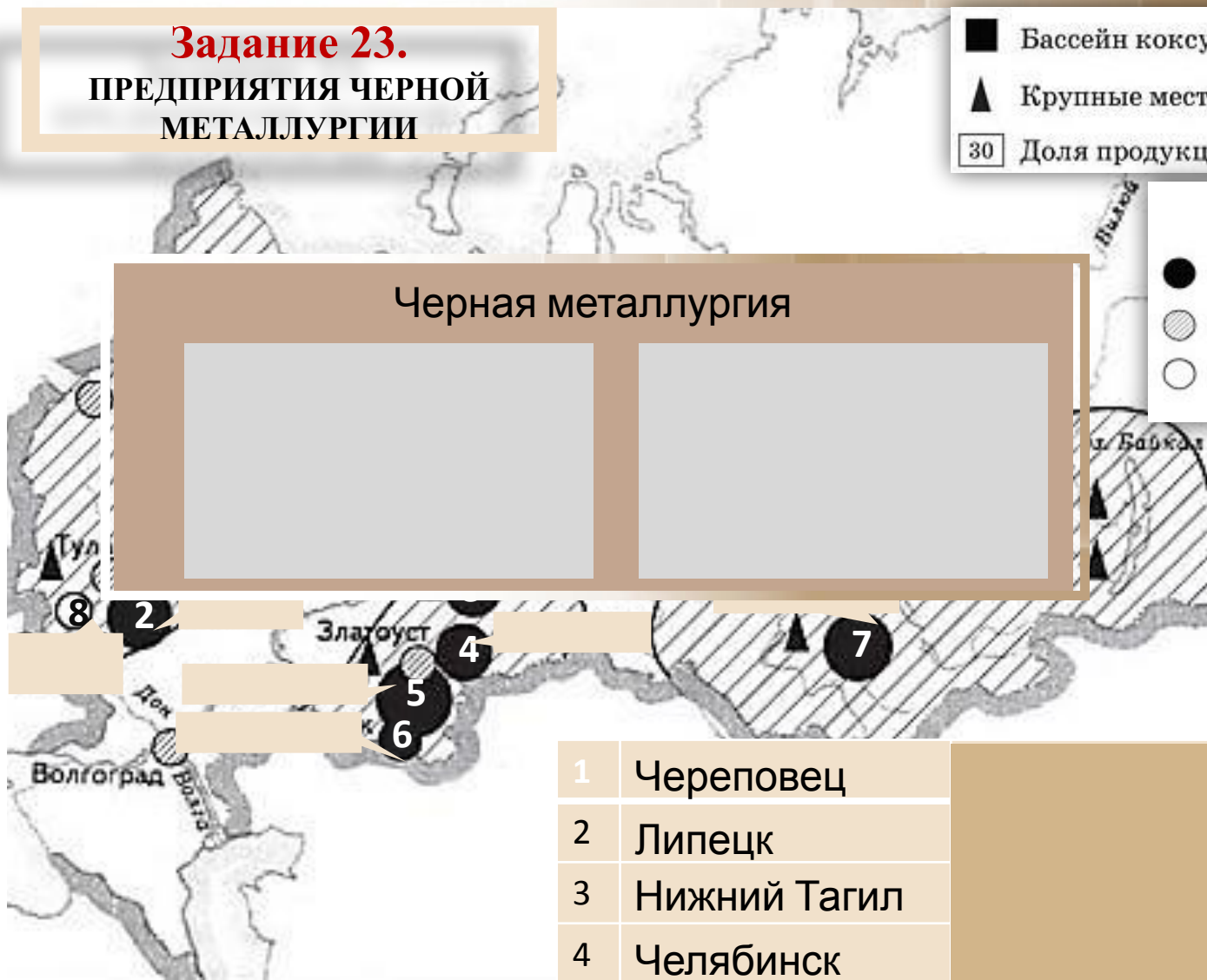
**Распределение числа мигрантов по основным потокам передвижения в России, 2011 г.
(тыс. человек)**



Задание 23.
ПРЕДПРИЯТИЯ ЧЕРНОЙ
МЕТАЛЛУРГИИ

- Бассейн коксующегося угля
- ▲ Крупные месторождения железных руд
- 30 Доля продукции (%) черной металлургии

- Типы предприятий черной металлургии:*
- заводы полного цикла
 - ▨ передельные заводы
 - электрометаллургический завод



Черная металлургия

8
2
3
4
5
6

- | | |
|---|--------------|
| 1 | Череповец |
| 2 | Липецк |
| 3 | Нижний Тагил |
| 4 | Челябинск |
| 5 | Магнитогорск |
| 6 | Новотроицк |
| 7 | Новокузнецк |
| 8 | Старый Оскол |

Факторы размещения

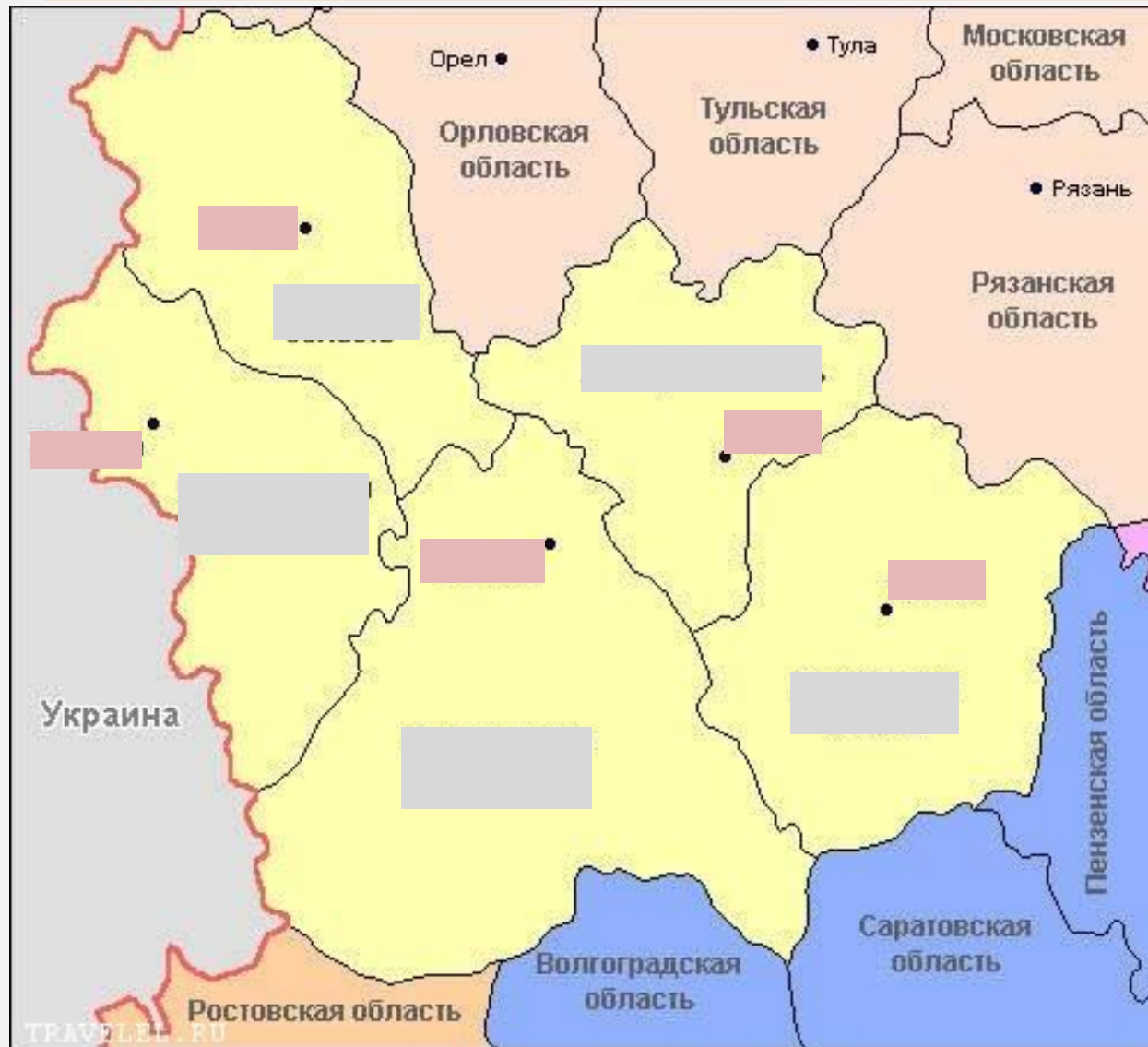
Задание №23. Факторы размещения отраслей промышленности России

Отрасли промышленности	Факторы размещения предприятий
Металлоемкое машиностроение	металлоемкость
Авиакосмическая промышленность	наукоемкость
Автомобилестроение	Специализация и кооперирование, выгодное положение, наличие кадров
Сельскохозяйственное машиностроение	потребительский
Предприятия ВПК (ОПК)	стратегический, научный

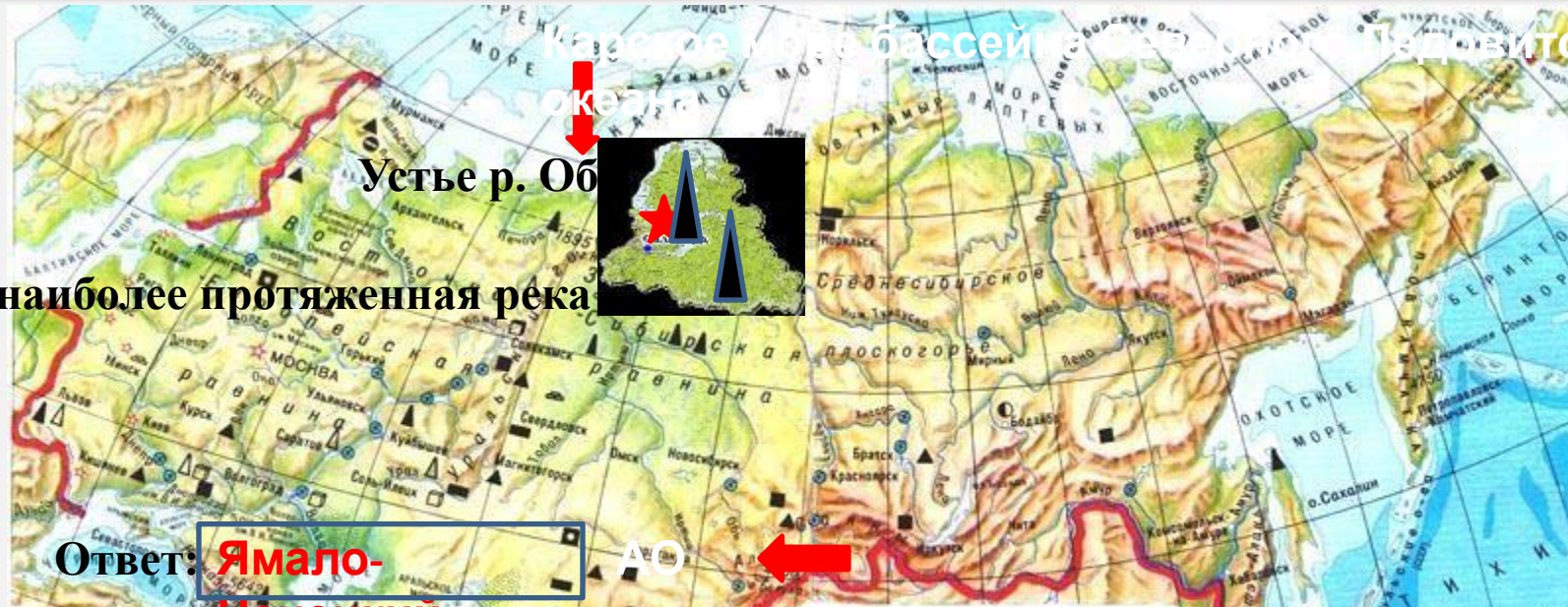
Гидроэнергетика	Наличие крупных рек с большим падением
Атомная энергетика	У потребителя, наличие ядерного топлива, дешевой электроэнергии
Медная промышленность	Сырьевой, транспортный
Алюминиевая промышленность	Энергетический, водный, сырьевой
Химическая промышленность	Энергетический, водный, сырьевой
Лесная промышленность	Энергетический, водный, сырьевой
Зерновое хозяйство	Климатический
Картофельводство	Потребительский
Птицеводство	Потребительский
Рыбная промышленность	Сырьевой
Текстильная промышленность	Сырьевой, потребительский

СОСТАВ
ЭКОНОМИЧЕСКИХ
РАЙОНОВ

Центрально-Черноземный экономический район



Задание 30. Определите регион России по его краткому описанию. Этот автономный округ находится в азиатской части страны. Он омывается водами одного из морей Северного Ледовитого океана. На территории округа находится устье одной из наиболее протяженных рек России. Большую часть территории округа занимает тундра. Основное природное богатство – природный газ.



Обь – наиболее протяженная река

Ответ: Ямало-Ненецкий АО

Наиболее протяженная река России Обь с притоком Иртыш

Впадает в Обскую губу, относящейся к Карскому морю бассейна Северного Ледовитого океана

Находятся месторождения газа на севере Западно-Сибирской равнины

Следовательно Ямало-Ненецкий АО

Задание 25. Туристические фирмы разных регионов России разработали слоганы (рекламные лозунги) для привлечения туристов в свои регионы. Установите соответствие между слоганом и регионом.

А) Добро пожаловать в Приэльбрусье – земной рай для альпинистов и горнолыжников!

Б) Совершите путешествие в самые западные города России, ознакомьтесь с их уникальными достопримечательностями!

1) Кабардино-Балкарская республика

2) Калининградская область

3) Челябинская область

4) Сахалинская область

Ответ:

1

2

Челябинская и
Сахалинская
области –
восточные города



Самый западный
город



Калининградская
область

Образовательные сайты в Интернете:

- - Интернет - сообщество учителей
- - Сеть творческих учителей
- - Фестиваль педагогических идей «Открытый урок»
- [-web@rosuchebnik.ru](http://web@rosuchebnik.ru) – образовательная платформа ЛЕСТА
- Видеоуроки от проекта info@infourok.ru



The screenshot shows the website of the Federal Institute of Pedagogical Measurements (FIPPI). The header includes the FIPPI logo and the text: "Федеральная служба по надзору в сфере образования и науки", "ФЕДЕРАЛЬНОЕ ГОСУДАРСТВЕННОЕ БЮДЖЕТНОЕ НАУЧНОЕ УЧРЕЖДЕНИЕ", and "«Федеральный институт педагогических измерений»". The navigation menu contains: Главная, О нас, ЕГЭ и ГВЭ-11, ОГЭ и ГВЭ-9, Поиск документов, Мероприятия, and Отчеты. The main content area is titled "ОГЭ и ГВЭ-9" and contains the following text:

Освоение образовательных программ основного общего образования завершается обязательной **государственной итоговой аттестацией** (далее – ГИА 9) по русскому языку и математике.

Экзамены по другим учебным предметам: литературе, физике, химии, биологии, географии, истории, обществознанию, иностранным языкам (английский, немецкий, французский и испанский языки), информатике и информационно-коммуникационным технологиям (ИКТ), а также по родному языку из числа языков народов Российской Федерации и литературе народов Российской Федерации на родном языке из числа языков народов Российской Федерации (для обучающихся по образовательным программам основного общего образования, изучавших родной язык и родную литературу и выбравших экзамен по родному языку и (или) родной литературе для прохождения ГИА) – обучающиеся сдают на добровольной основе по своему выбору.

Формы проведения ГИА 9 – основной государственный экзамен (ОГЭ) и государственный выпускной экзамен (ГВЭ).

ОГЭ – это форма государственной итоговой аттестации по образовательным программам основного общего образования. При проведении ОГЭ используются контрольные измерительные материалы стандартизированной формы.

ГВЭ – форма ГИА в виде письменных и устных экзаменов с использованием текстов, тем, заданий, билетов.

Для получения аттестата участники сдают обязательные экзамены: русский язык и математика. Кроме того, участники могут сдавать экзамены по выбору: литература, физика, химия, биология, география, история, обществознание, информатика и ИКТ, иностранные языки (4), родной язык и родная литература.

On the right side of the page, there are several buttons: "Итоговое сочинение", "Открытый банк заданий ЕГЭ", "Открытый банк заданий ОГЭ", and "ПЕРЕГОВОРНАЯ".

Самоконтроль

Самостоятельная подготовка к реальным вариантам ОГЭ –
это серьезная вещь!

Выполнение заданий ОГЭ:

- в режиме on-lain - открытый банк заданий ФИПИ

www.fipi.ru;

- размещённые на сайтах

- СтатГрада,
- «Решу ОГЭ»
- Незнайка

РЕШУ ЕГЭ
Образовательный портал для подготовки к экзаменам

МАТЕМАТИКА правильный уровень **Сван ГИА**

Математика Информатика Русский язык Английский язык Немецкий язык Французский язык Испанский язык
Физика Химия Биология География Обществознание Литература История

Реклама от Google
▶ Егэ

О проекте
 Об экзамене
 Каталог заданий
 Учебнику
 Учебные
 Методисту
 Знатоку
 Школа
 Репетиторы
 Справочник

ДАЕГЭ СУПЕРПОДГОТОВКА ДЛЯ СУПЕРВЫПУСКНИКОВ

Wrike Work smart Time-tracking, User groups, Work progress, Workload management, and more. Try it free

ЕСТЬ ВОПРОСЫ? МЫ РЕШИЛИ ВСЕ ЕГЭ!
Все задания открытого банка заданий ЕГЭ по математике с образцами решений.

Введите номер задания: [Перейти к решению](#)

ВЫ УЖЕ ГОТОВЫ К ЭКЗАМЕНУ? ПРОВЕРЬТЕ СВОЙ УРОВЕНЬ!
Мы подготовили 15 тренировочных вариантов. Чтобы начать тестирование, выберите номер варианта. По окончании работы вы увидите правильные решения заданий и узнаете свой балл по стоальной шкале.

Вариант 1	Вариант 2	Вариант 3	Вариант 4	Вариант 5
Вариант 6	Вариант 7	Вариант 8	Вариант 9	Вариант 10
Вариант 11	Вариант 12	Вариант 13	Вариант 14	Вариант 15

Поиск [kolosnikovalud.ucoz.ru](#)

Информирование родителей о результатах усвоения материала

Отметка по пятибалльной шкале	«2»	«3»	«4»	«5»
Общий балл	0 – 11	12 – 19	20 – 26	27 – 32

Посещение консультаций

Фамилия имя																					

Выполнение заданий ОГЭ

№ работы	№1	№2	№3	№4	№5
Количество набранных баллов					

Учитываю следующие условия:

- - Формирование ситуации успеха, где важным условием является регистрация собственных достижений в процессе подготовки к экзамену.
- - При подборе тестовых тренировочных изданий отдаю предпочтение тем, которые изданы под редакцией ФИПИ.
- - Подготовку к экзамену осуществляю по принципу «от простого к сложному», уделив особое внимание повторению курса физической географии 6 класса и физической географии материков и океанов 7 класса, знаний основ географической номенклатуры.
- - Не забываю о принципе «карта-второй язык географии». Особую роль уделяю развитию картографических умений и навыков.
- - Регулярно отслеживаю результаты подготовки к экзамену.
- - Развитие логического мышления, анализ и оценка геоэкологических ситуаций, усиление практической направленности географии – **Из рекомендаций для подготовки учащихся к сдаче ОГЭ (спецификация)**

География? География! География...

Никто никогда не встречал в СМИ математических формул, физической или химической терминологии, а с языком географии все мы встречаемся ежедневно.

Язык географии – язык цивилизации!

/А.П. Горкин/



«Дорогу осилит идущий!»

Используемые источники

The background of the slide features a yellow upper section and a green lower section. In the yellow section, a globe is partially visible. In the green section, a map is partially visible.

- Демонстрационный вариант контрольных измерительных материалов для проведения в 2017 году основного государственного экзамена по ГЕОГРАФИИ;
- Кодификатор элементов содержания и требований к уровню подготовки обучающихся для проведения основного государственного экзамена по ГЕОГРАФИИ;