



**Тема: ПРЕКРАСНЫЙ МИР
ЦВЕТОВ**

[ВАЛЬС ЦВЕТОВ](#)

ОПРЕДЕЛИТЕ КАКОЙ ЦВЕТОК ОТНОСИТСЯ К СЕМЕЙСТВУ

розоцветн ые

ВЫЧИСЛИТЕ:

$$(135 - 204) : (-3) - 14$$

И ВЫ УЗНАЕТЕ НОМЕР
БУКВЫ
В АЛФАВИТЕ С КОТОРОЙ
НАЧИНАЕТСЯ ЭТОТ
ЦВЕТОК



маргаритка



гиацинт



сурепка



вика



земляника

ОПРЕДЕЛИТЕ КАКОЙ ЦВЕТОК ОТНОСИТСЯ К СЕМЕЙСТВУ

крестоцветны

е

РЕШИТЕ УРАВНЕНИЕ:

$$63 - 17 * 2 = X + 10$$

И ВЫ УЗНАЕТЕ НОМЕР
БУКВЫ
В АЛФАВИТЕ С
КОТОРОЙ НАЧИНАЕТСЯ
ЭТОТ
ЦВЕТОК



вика



маргаритка



гиацинт



дурман2



сурепка

ОПРЕДЕЛИТЕ КАКОЙ ЦВЕТОК ОТНОСИТСЯ К СЕМЕЙСТВУ

бобовые

СОКРАТИТЕ ДРОБЬ:

$$\frac{24}{8} =$$

И ВЫ УЗНАЕТЕ НОМЕР
КАРТИНКИ
СЕМЕЙСТВА БОБОВЫХ

1.



яблоня

2.



пастушья сумка

3.



чина

4.



табак

ОПРЕДЕЛИТЕ КАКОЙ ЦВЕТОК ОТНОСИТСЯ К СЕМЕЙСТВУ

пасленовые

ЧИСЛО КОТОРОЕ НЕ
ЯВЛЯЕТСЯ ПРОСТЫМ И
СОСТАВНЫМ, НО
ЯВЛЯЕТСЯ НОМЕРОМ
ФОТО ЦВЕТКА
ОТНОСЯЩЕГОСЯ К
СЕМЕЙСТВУ
ПАСЛЕНОВЫЕ.

1.



томат

2.



гербера

3.



соя

4.



пастушья сумка

5.



табак

ОПРЕДЕЛИТЕ КАКОЙ ЦВЕТОК ОТНОСИТСЯ К СЕМЕЙСТВУ

СЛОЖНОЦВЕТНЫ

е

ВЫЧИСЛИТЕ:

$$\frac{7}{8} * \frac{2}{7} =$$

И ВЫ УЗНАЕТЕ КАКИЕ
ЦВЕТЫ ОТНОСЯТСЯ К
СЕМЕЙСТВУ
СЛОЖНОЦВЕТНЫХ.

0,25



василёк

0,4



пастушья сумка

1,4



ландыш

0,5



ВИШНЯ

ВИШНЯ

$\frac{1}{4}$



гербера

ОПРЕДЕЛИТЕ КАКОЙ ЦВЕТОК ОТНОСИТСЯ К СЕМЕЙСТВУ

лилейные



редис



томат



петуния



лилия



подсолнух

УПРОСТИТЕ
ВЫРАЖЕНИЕ:
 $(-a + 2b) - (a + b)$

И ВЫ УЗНАЕТЕ НОМЕР
ФОТО ЦВЕТКА
СЕМЕЙСТВА
ЛИЛЕЙНЫХ

К КАКОМУ СЕМЕЙСТВУ ОТНОСИТСЯ ЦВЕТОК

1. РОЗОЦВЕТНЫЕ
2. БОБОВЫЕ
3. ПАСЛЕНОВЫЕ
4. КРЕСТОЦВЕТНЫЕ
5. СЛОЖНОЦВЕТНЫЕ
6. ЛИЛЕЙНЫЕ

ПОДСКАЗКА



ФИЗМИНУТКА



СОСТАВТЕ ФОРМУЛУ И
ОПРЕДЕЛИТЕ К КАКОМУ
СЕМЕЙСТВУ ОНА ОТНОСИТСЯ

$$\underline{Ч*Л*П1Т^\infty}$$

НАЙДИ НОД (25;15) И ВСТАВЬ ВМЕСТО *

$$\underline{Ч*Л*П1Т6}$$

НАЙДИ НОК (4;2) И ВСТАВЬ ВМЕСТО *

$$\underline{Ч*Л*П1Т*}$$

ПОСЛЕДНЮЮ ЦИФРУ

НАЙДИ НОК (5;8) УБЕРИТЕ
ЧИСЛА, А К ОСТАВШЕЙСЯ ПРИБАВЬТЕ
1
И ВСТАВЬ ВМЕСТО *

$$\underline{О*+3Т*+3П1}$$

НАЙТИ НОД (6;12) УМЕНЬШИТЬ ЕГО В
ДВОЕ И ВСТАВЬ ВМЕСТО *

МАТЕМАТИЧЕСКИЙ ТЕСТ



1	В
2	Б
3	А
4	Е
5	Р
6	Ш
7	Ч
8	П
9	О
10	И
11	К
12	М

**ВЗАИМОПРОВЕР
КА
МАТЕМАТИКА**

САМОПРОВЕР

ВЕНЕРИИ

БАШМАЧ

ОК



САМООЦЕНКА МАТЕМАТИКА



11 – 12 БАЛЛОВ – «5»

9 – 10 БАЛЛОВ – «4»

6 – 8 БАЛЛОВ – «3»

МЕНЕЕ 6 БАЛЛОВ

ПОВТОРИ ТЕМУ:

«ДЕЛИМОСТЬ НАТУРАЛЬНЫХ
ЧИСЕЛ НАЗОВИ ЦВЕТOK...

Посчитай и отгадай.

13

17

15

21

9



ЛЕГЕНДА

О Венере –
Богини
красоты и
Грации,
покровительниц
ы
молодости и

Викторина

самопроверк

1. Сколько других названий есть у венерина башмачка? **1 балл)**
(а названка - 1 балл)
2. К какому семейству относится цветок? **2 балла)**
(орхидные - 2 балла)
3. Где в нашей стране можно встретить этот цветок? **1 балл)**
(в лесу, где много влаги - 1 балл)
4. Через какое время после прорастания зацветает этот цветок и сколько длится его цветение? **1 балл)**
(15-17 лет, 1 месяц - 1 балл)
5. Какие условия должны выполняться для прорастания этого цветка? **1 балл)**
(наличие грибов-симбионтов - 1 балл
увлажненная питательная почва - 1 балл
затенение - 1 балл)

Самооценка биология

8 БАЛЛОВ – «5»

5 – 7 БАЛЛОВ –
«4»

3 – 4 БАЛЛА – «3»

МЕНЕЕ 3
БАЛЛОВ

Рефлексия

«ПЛЮС — МИНУС — ИНТЕРЕСНО»

В графу «П» — «плюс»- запишите все, что понравилось на уроке.

В графу «М» — «минус»- запишите все, что не понравилось на уроке.

В графу «И» — «интересно»- все любопытные факты, о которых узнали на уроке.

Итоги урока:



15 ромашек
+
16 маков
+
8 васильков
=
букет цветов



СПАСИБЬ

О

ЗА

УРОК!!!

ПОДСКАЗКА

ВЫПОЛНИТЕ ЗАДАНИЕ И УЗНАЕТЕ ПОД
КАКИМ

НОМЕРОМ РАСПОЛОЖЕНО СЕМЕЙСТВО

ЦВЕТКА

158, 1250, 255, 1290, 369, 890, 735, 176, 254

1. СКОЛЬКО ЧИСЕЛ ИЗ ПЕРЕЧИСЛЕННЫХ ДЕЛЯТСЯ ОДНОВРЕМЕННО НА 2 И 3?
2. СКОЛЬКО ЧИСЕЛ ДЕЛЯТСЯ НА 5?
3. СКОЛЬКО ЧИСЕЛ КРАТНЫ 5, НО НЕ КРАТНЫ 2?
4. СКОЛЬКО ЧИСЕЛ ДЕЛЯТСЯ НА 3?
5. СКОЛЬКО ЧИСЕЛ КРАТНЫ 10?
6. КОЛИЧЕСТВО ЧИСЕЛ КРАТНЫ 2?



НАЗАД

СОСТАВТЕ ФОРМУЛУ И
ОПРЕДЕЛИТЕ К КАКОМУ
СЕМЕЙСТВУ ОНА ОТНОСИТСЯ
Ч5Л5П1Т ∞



Розоцветные

НАЗАД

Ч4Л4П1Т6

СОСТАВТЕ ФОРМУЛУ И
ОПРЕДЕЛИТЕ К КАКОМУ
СЕМЕЙСТВУ ОНА ОТНОСИТСЯ
Ч5Л5П1Т5




Паслёновые

О2+3Т3+3П1

← НАЗАД

Посчитай и отгадай.



17


15

21

9

Посчитай и отгадай.

13



15

21

9


Посчитай и отгадай.

13

17

15

9




Посчитай и отгадай.

13

17

15

21



13

ВЕНЕРИН
БАШМАЧОК

21

9

