



**Здравствуйтесь, дорогие ребята!
Сегодня мы работаем устно.**

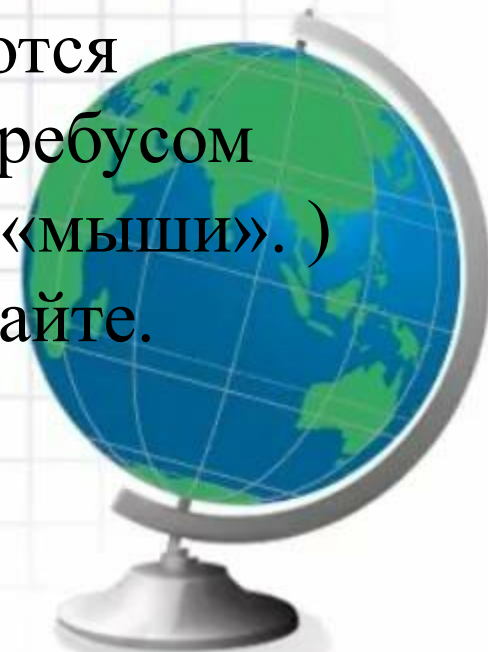
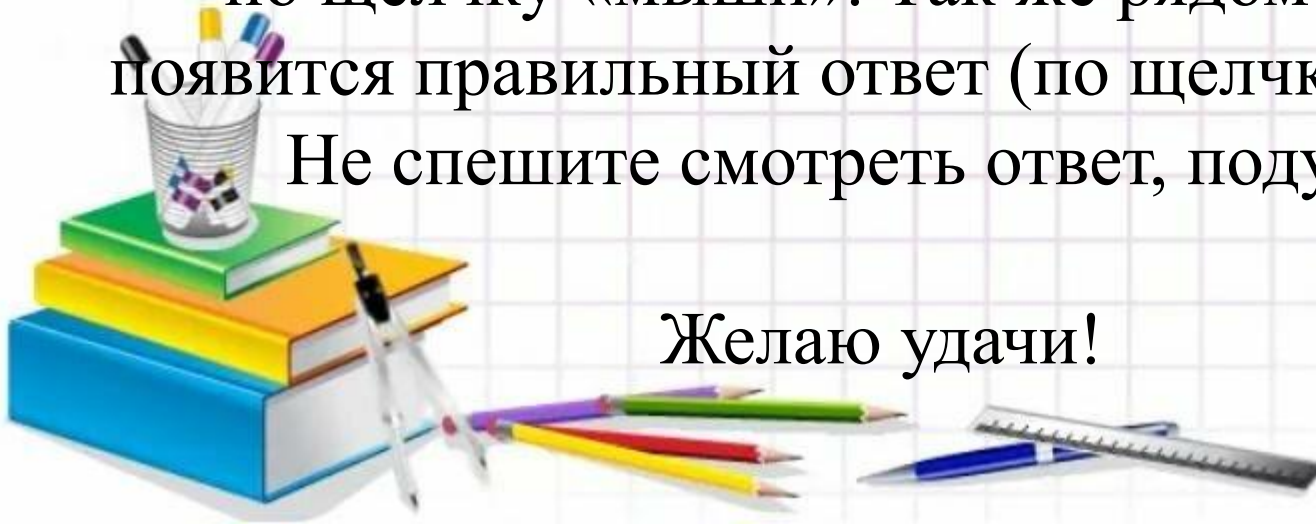
Я вам предлагаю интересный
материал по математике.

Посмотрите презентацию.

Слайды презентации переключаются
по щелчку «мыши». Так же рядом с ребусом
появится правильный ответ (по щелчку «мыши».)

Не спешите смотреть ответ, подумайте.

Желаю удачи!



Занимательная

математика





чис



сч




1



2



5



8



З



Н

А

К



МИН

ус

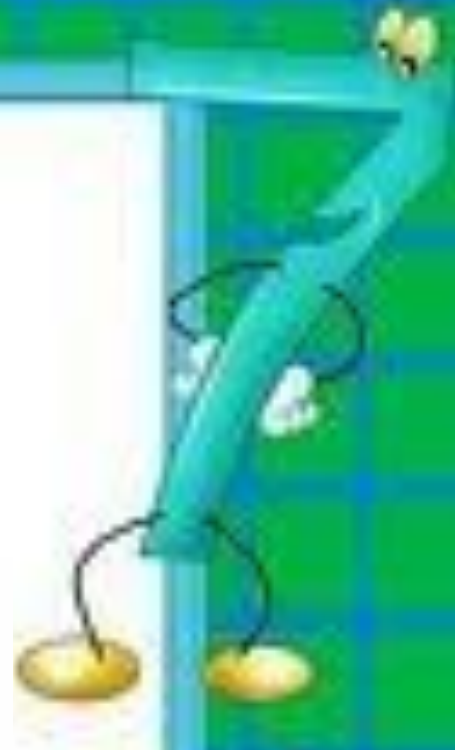
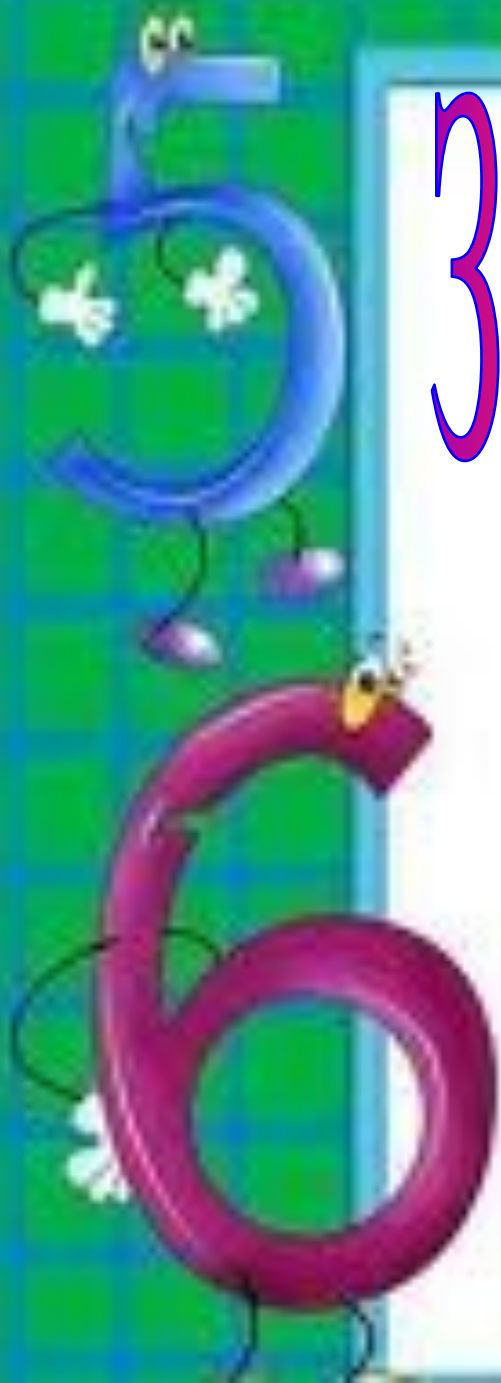
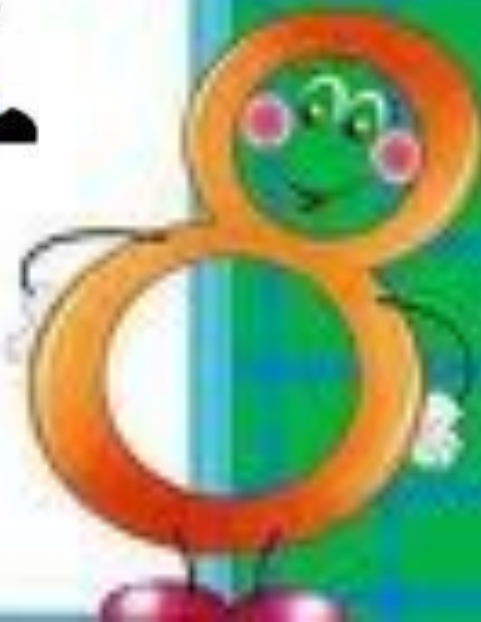


ТОЧ



зад

Задачи-тесты



Выбери правильный

ответ

Дед, баба, внучка, Жучка, кошка и мышка тянули-тянули репку и, наконец, вытянули. Сколько глаз смотрело на репку?

10

12

8



Выбери правильный




от

Два цыплёнка стоят,
Два в скорлупке сидят,
Шесть яиц под
крылом

У наседки лежат.

Сосчитай поточней,
Отвечай поскорей:

Сколько будет цыплят
У наседки моей?



9

10

8

**Выбери правильный
ответ.**



Три гуся летят над нами,



**Три других – за
облаками,**

**Два спустились на
ручей.**

4

8

6




Логические задачи



Кошки



В комнате 4 угла, в каждом углу по одной кошке, напротив каждой кошки по три кошки, на хвосте у каждой кошки по одной кошке. Сколько кошек в комнате?



Ответ: *4 кошки. Напротив каждой кошки по три кошки в трёх углах, и каждая кошка сидит на своём хвосте!*

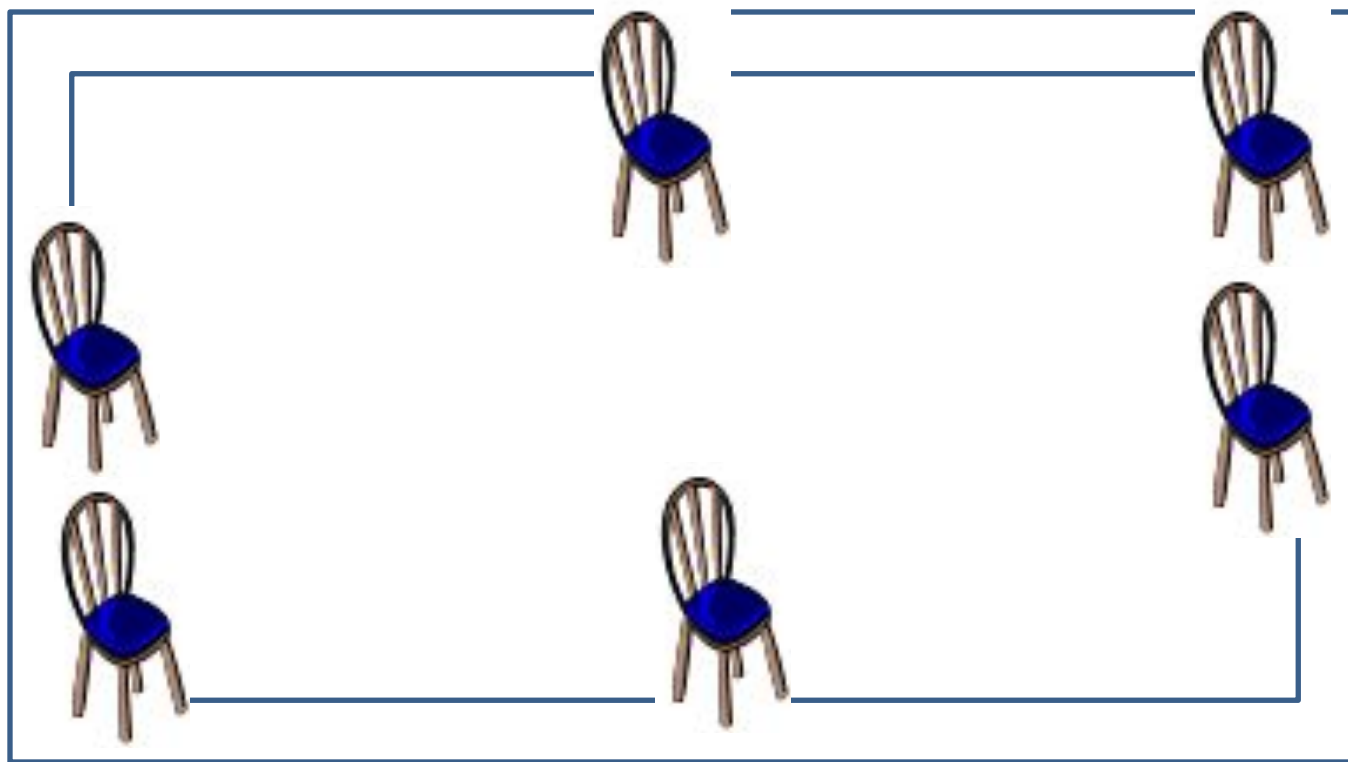
Свечи.

В комнате горело 50 свечей, 20 из них задули. Сколько останется?



Ответ: останется 20 свечей, остальные сгорят, а задутые свечи не сгорят полностью.

Расставьте в комнате 6 стульев так, чтобы у каждой стены стояло по 2 стула.



*Сестре 4 года, брату 6 лет.
Сколько лет будет брату, когда
сестре исполнится 6 лет?*



Ответ: 8 лет.

У мальчика столько сестер, сколько и братьев, а у его сестры вдвое меньше сестер, чем братьев. Сколько всех братьев и всех сестер?



Ответ: 4 брата, 3 сестры.



Разминка

Два мальчика играли в шашки 2 часа. Сколько времени играл каждый мальчик?

Термометр показывает плюс 15 градусов. Сколько градусов покажут два таких термометра?

Кузнец подковал тройку лошадей. Сколько подков пришлось ему сделать?

Сестре 4 года, брату 6 лет. Сколько лет будет брату, когда сестре исполнится 6 лет?

Логические задачи 10

**У меня было 3 целых яблока,
4 половинки и 8 четвертинок.
Сколько было яблок?**

