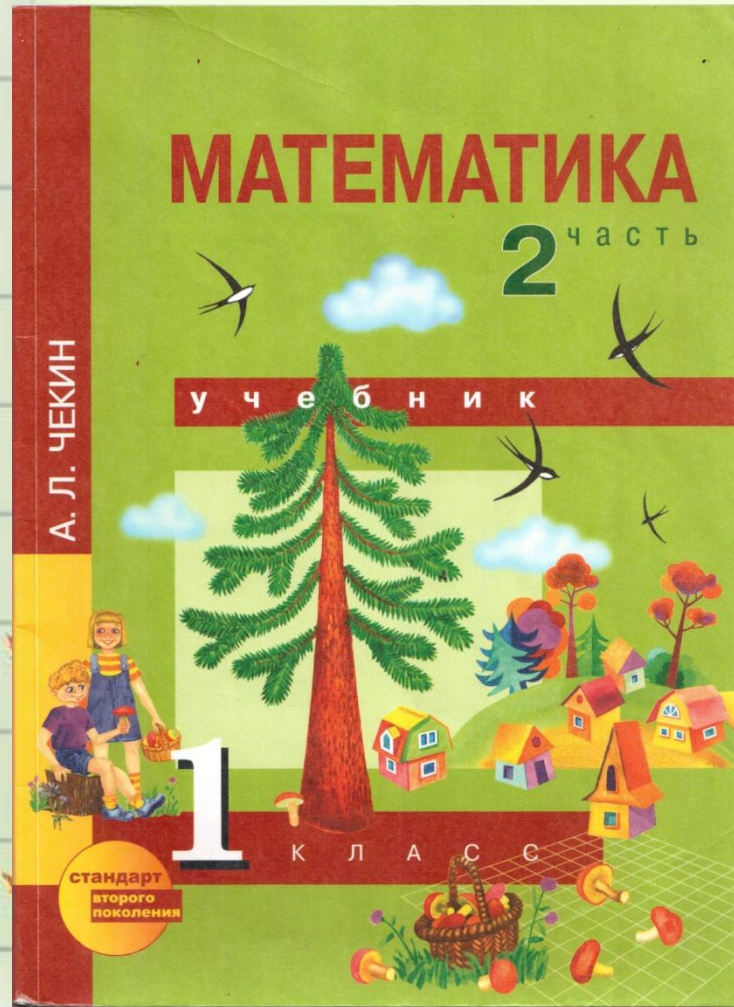


Математик



Мизга О.В.

**Все сумели мы
собраться,
За работу дружно
взяться.**

**Будем думать,
рассуждать,**

к начать.



Мизга О.В.

Вычисли устно

$10 + 7 = \underline{\quad}$

$17 - 7 = \underline{\quad}$

$17 - 10 = \underline{\quad}$

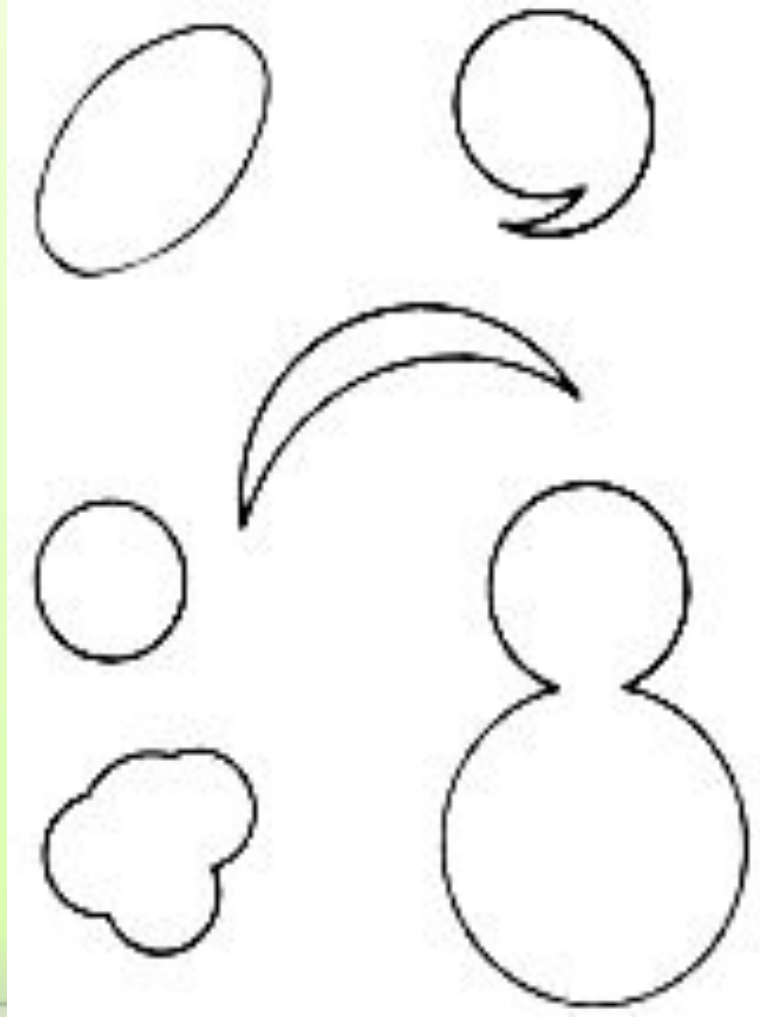

$10 + 2 = \underline{\quad}$

$12 - 2 = \underline{\quad}$

$12 - 10 = \underline{\quad}$



Определите, чем все фигуры слева отличаются от всех фигур справа.



Mizga O.B.

Задачи в стихах реши устно

*Пять котят песок
копают,
Три на солнце
загорают,
Два купаются в золе.
Сколько всех? Скажите
мне.*



**Пять котят песок
копают,
Три на солнце
загорают,
Два купаются в золе.
Сколько всех? Скажите**

мне.

Решение: $5 + 3 + 2 = 10$

(к.)



Задачи в стихах.

*Четыре мышки-
хохотушки,
Очень дружные подружки,
Вышли в поле погулять,
Прибежали ещё пять.
Очень дружно они пели
Всех их было ровно ...*



Задачи в стихах.

Четыре мышки-
хохотушки,
Очень дружные подружки,
Вышли в поле погулять,
Прибежали ещё пять.
Очень дружно они пели
Всех их было ровно ...
(девять)

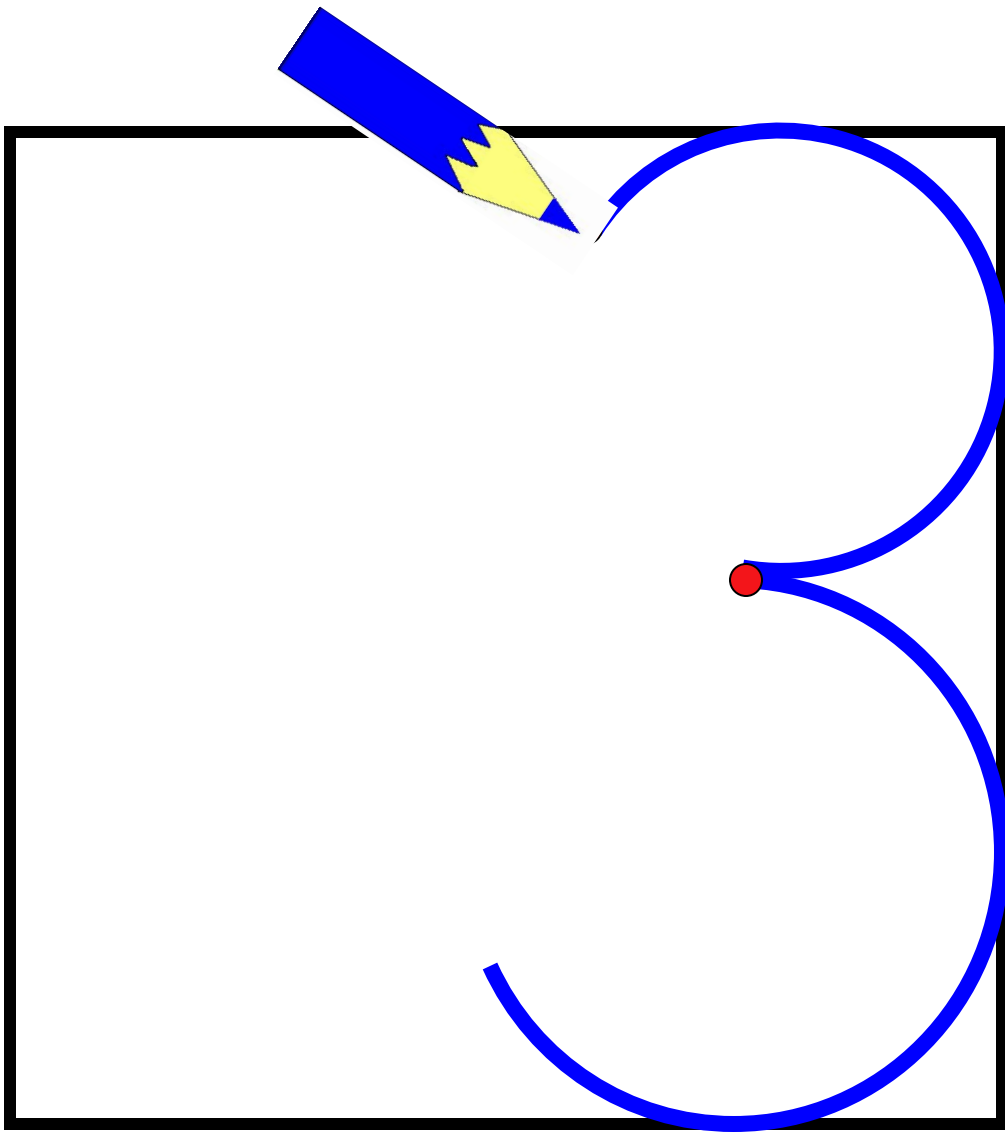


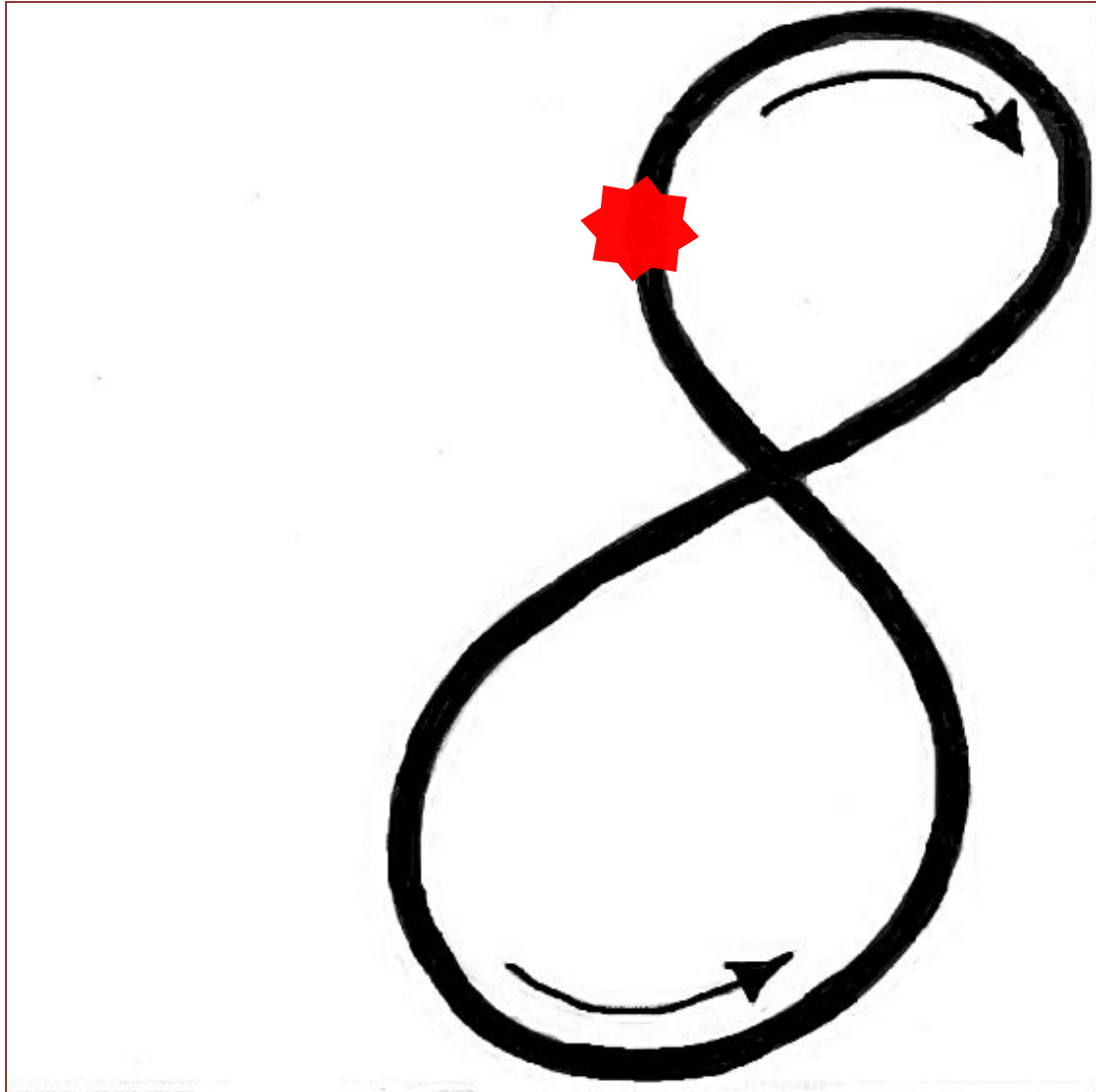
**Открываем тетрадь, отступаем 4 клетки
вниз от прошлой работы и 10 клеток вправо.
Записываем число и классная работа.**

13 мая

Классная работа.

На следующих слайдах посмотри
внимательно как правильно писать числа
3 и 8





**В тетради на следующей
рабочей строке, через клеточку
пропиши числа 3 и 8**

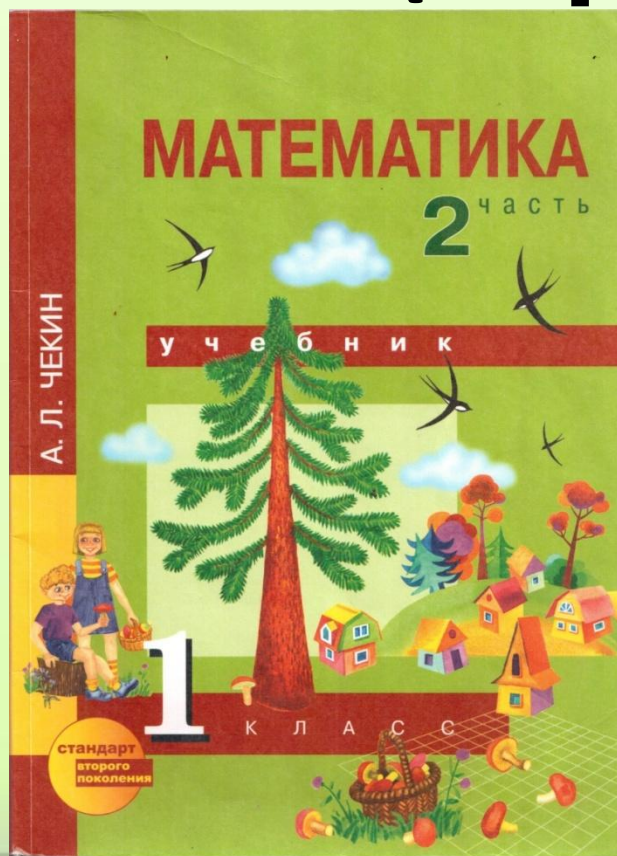
**А на следующей рабочей
строке, пропиши через
клеточку числа 38 и 83**

Работа по учебнику.



Задание

№1 №2 (стр. 79)



Мизга О.Б.

Физминутка



Мы шагаем друг за другом
Лесом и зеленым лугом.
Крылья пестрые мелькают,
В поле бабочки летают.
Раз, два, три, четыре,
Полетели, закружились.

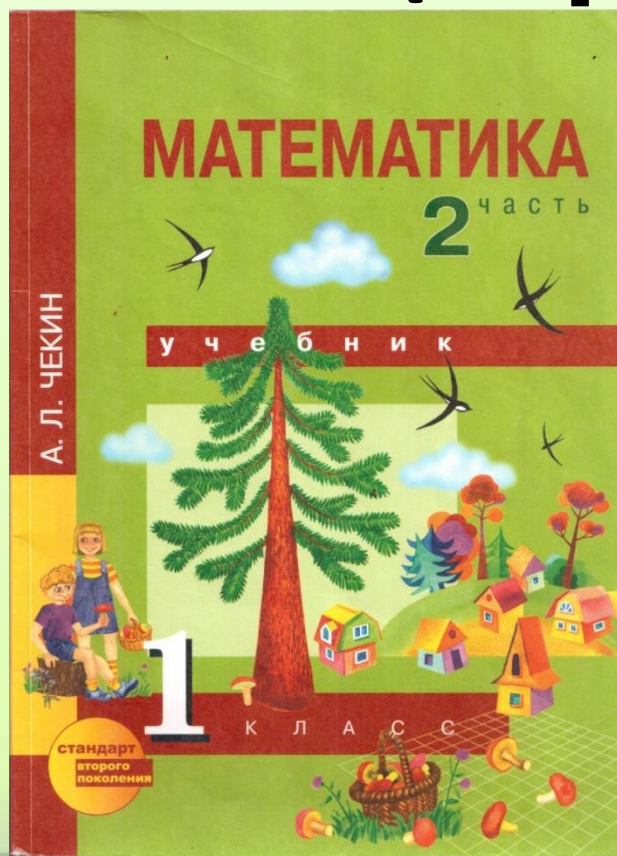


Работа по учебнику.



Задание

№3 №4 (стр. 79)



Мизга О.Б.

Самостоятельная работа



Запиши в тетрадь суммы: $4+7$; $3+9$; $8+4$. Вычисли значения этих сумм способом прибавления по частям с разложением на удобные слагаемые. Сделай соответствующие записи.





**Спасибо
о за
урок!**

