


# «В мире животных»

«Все о бобрах»



# Цели:

## Знать:

- алгоритмы сравнения, сложения, вычитания десятичных дробей,
- названия геометрических фигур;
- правила правописания числительных

## Уметь:

- сравнивать, складывать и вычитать десятичные дроби;
- различать геометрические фигуры,
- владеть приемами устного счета;
- грамотно писать.

- В СНГ водится много бобров. Бобр крупный грызун, ведет полуводный образ жизни, обитает по лесным рекам, сооружает из ветвей и ила домики, поперек реки делает плотины длиной 5-6 метров.



# Узнайте тело бобра в дециметрах

- 1) Из первой строки выбери наименьшее число.
- 2) Из второй строки выбери наибольшее число.
- 3) Из третьей строки выбери не наибольшее и не наименьшее число
- 4) Найди сумму этих чисел

|            |            |            |
|------------|------------|------------|
| <b>5,9</b> | <b>6,3</b> | <b>3,6</b> |
| <b>2,3</b> | <b>2,7</b> | <b>0</b>   |
| <b>3,7</b> | <b>4,1</b> | <b>1,4</b> |

$$3,6 + 2,7 + 3,7 = 10(\text{дм})$$

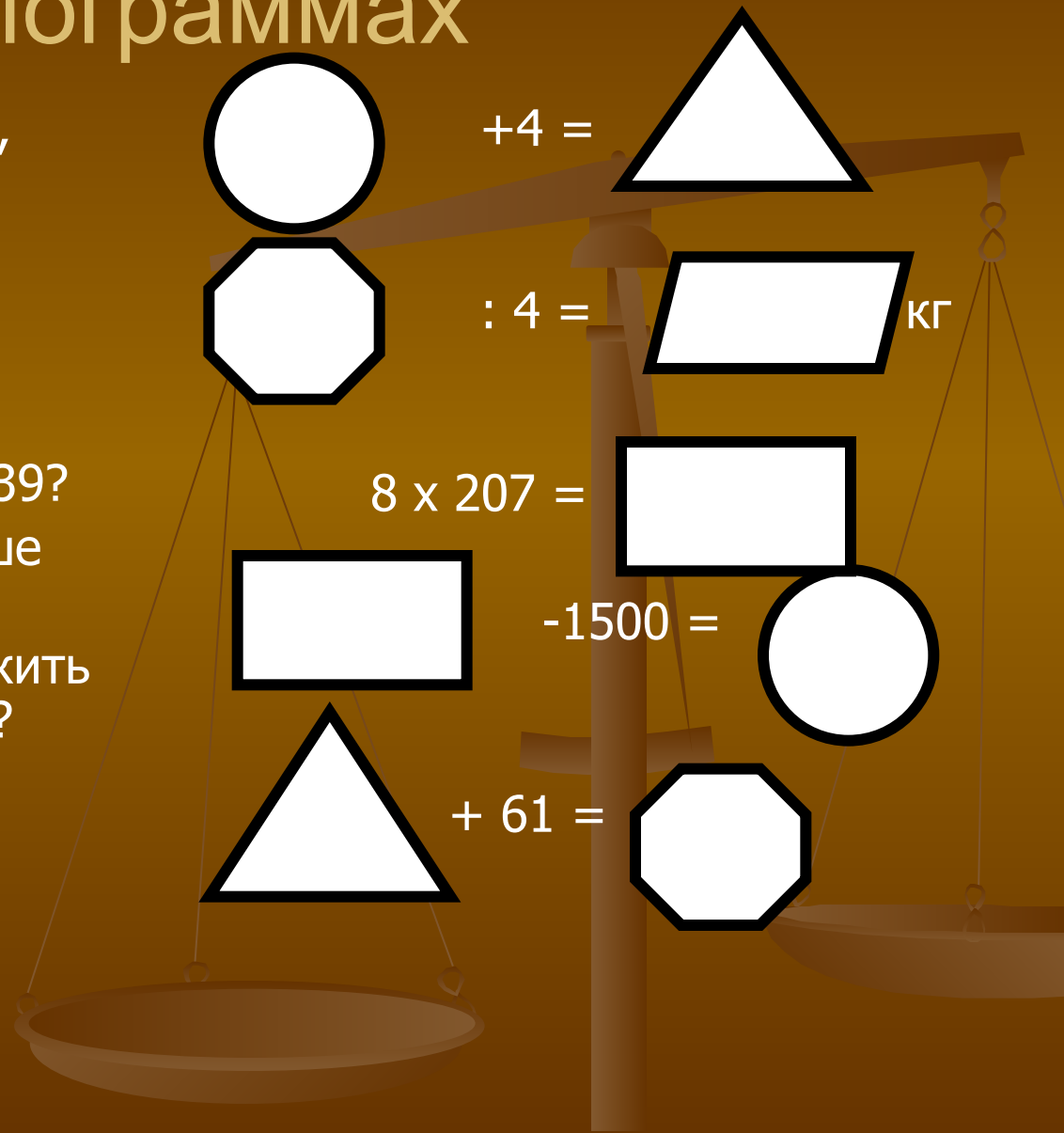
- 10 дм – сколько это см?  
Сравните длину бобра со своим ростом.
- Из каждой строки и каждого столбца выберите по одному числу и сложите. Что вы заметили?
- Найдите сумму чисел по диагонали. Сделайте вывод

|     |     |     |
|-----|-----|-----|
| 5,9 | 6,3 | 3,6 |
| 2,3 | 2,7 | 0   |
| 3,7 | 4,1 | 1,4 |

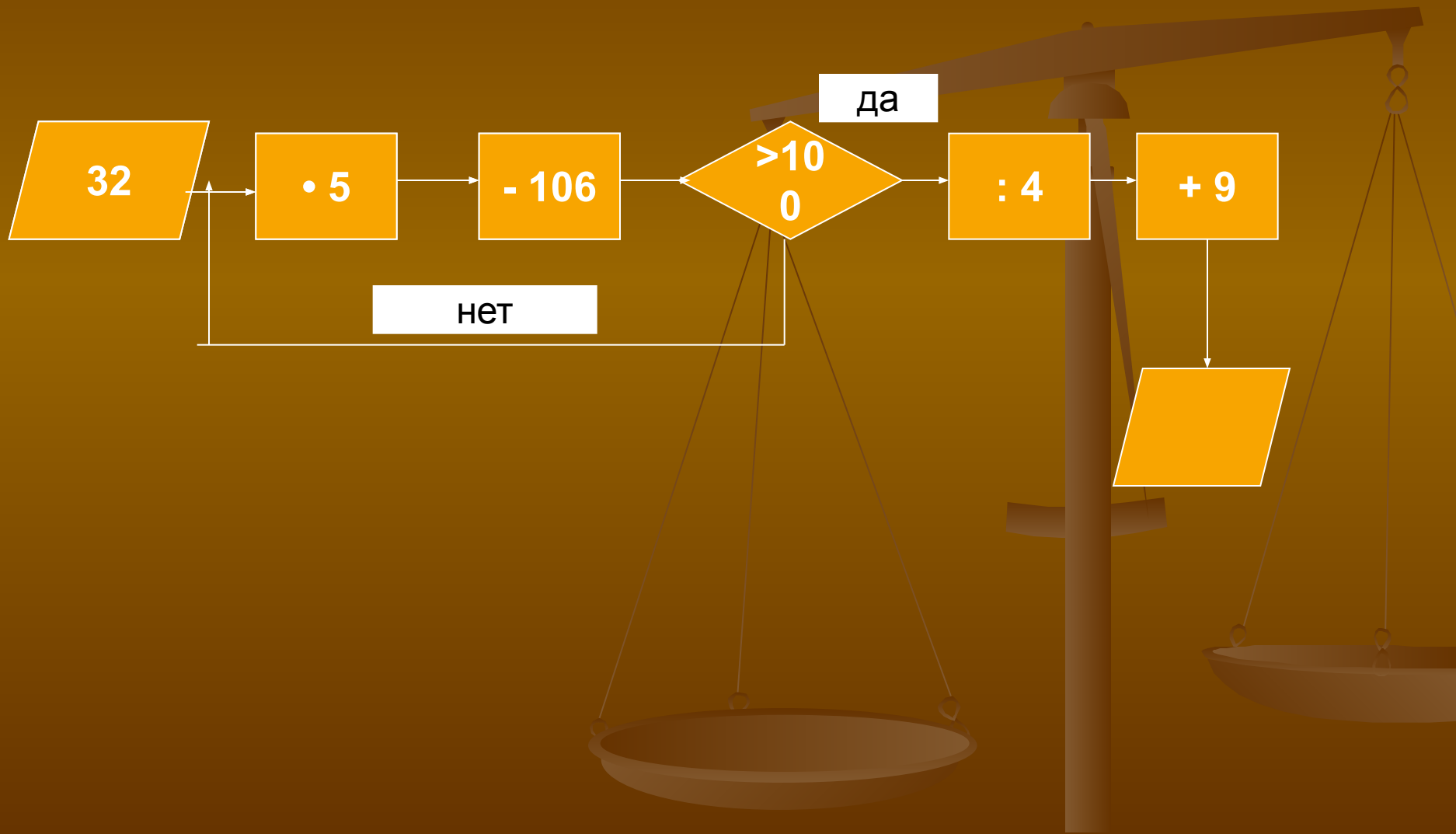


# Узнайте массу бобра в килограммах

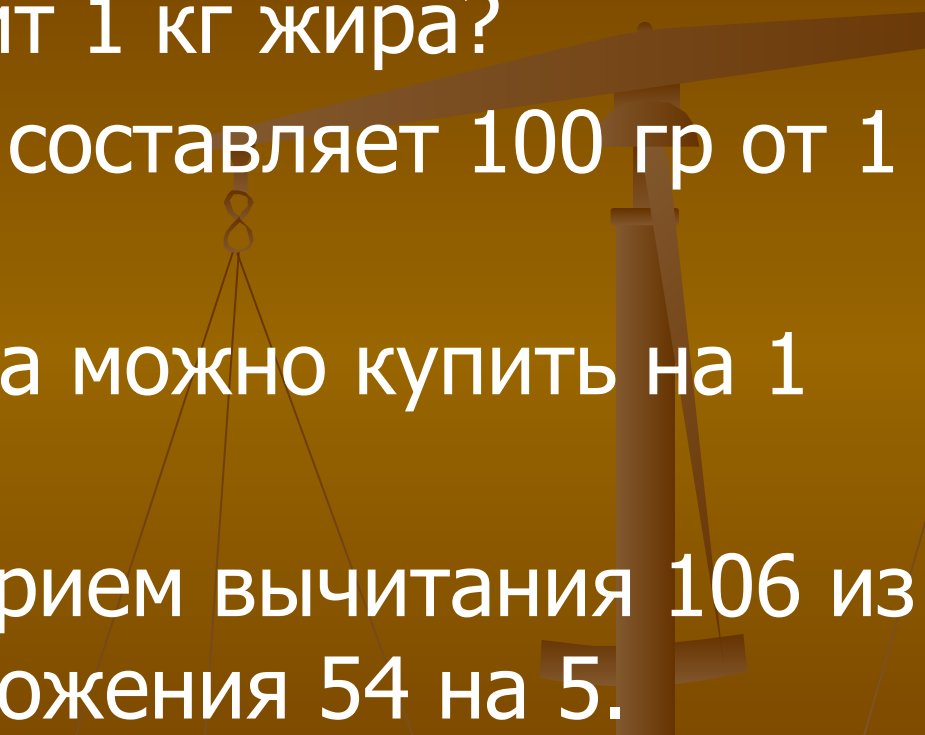
- 1) Как называются фигуры, используемые в этом задании?
- 2) Какая фигура лишняя, почему?
- 3)
  - а) На сколько 100 больше 39?
  - б) Во сколько раз 25 меньше 100?
  - в) На сколько нужно умножить 39, чтобы получить 156?
  - г) Чему равно частное от деления 1656 на 8?



# Сколько стоит 100 грамм жира бобра в рублях?



100 граммов жира стоит 50  
рублей

- 1) Сколько стоит 1 кг жира?
  - 2) Какую часть составляет 100 гр от 1 кг?
  - 3) Сколько жира можно купить на 1 рубль?
  - 4) Объясните прием вычитания 106 из 160, прием умножения 54 на 5.
- 



Бобр отличный пловец и ныряльщик. Сколько минут он может находиться под водой?








Ответ:

|   |   |   |   |   |   |   |   |   |   |  |
|---|---|---|---|---|---|---|---|---|---|--|
|   |   |   | п | я | т | ь | с | о | т |  |
| д | е | в | я | т | ь | с | о | т |   |  |
|   |   |   | т | ы | с | я | ч | а |   |  |
| ш | е | с | т | ь | с | о | т |   |   |  |



- 1) 5 минут – сколько это секунд?
- 2) Какую часть 5 минут составляют от 1 часа?



# Самостоятельная работа

- Придумайте фразу о бобрах и зашифруйте ее в примерах.





Домашнее задание.

- **Составить задачу о бобрах ,  
используя дополнительную  
литературу.**